



Mission Selection - SSC 2024



सफलता का महामंत्र

DAY-17

TOP 25 QUESTIONS

अब तो Selection पक्का है

REASONING

LIVE

07:00 PM





MISSION SELECTION –SSC 2024

Q.1 In a classroom, there are 5 rows, and 5 children A,B, C, D and E are seated one behind the other In 5 separate rows as follows: A is sitting behind C. but Before of B. C is sitting behind E. D is sitting Before of E. The order in which they are sitting from the first row to the last is

एक कक्षा में 5 पंक्तियां हैं जिनमें पांच बच्चों A,B,C,D और E एक दूसरे के पीछे अलग अलग पांच पंक्ति में निम्नलिखित प्रकार से बैठे हैं। A बैठा है C के पीछे, लेकिन B के आगे। C बैठा है E के पीछे, D बैठा है E के आगे। पहली पंक्ति से अंतिम पंक्ति तक वे किस क्रम में बैठे हैं।

A) DECAB

C) ACBDE

B) BACED

D) ABEDC





MISSION SELECTION –SSC 2024

Q.2 Jayesh is facing south, he turn right and walk 20 m.

Then he turn right again and walk 10m. then he turn left and walk 10 m and then turning right walk 20 m. Then he turn right again and walk 60m. In which direction is he from the starting point?

जयेश का मुख दक्षिण की ओर है, वह दाएं मुड़ता है और 20 मीटर चलता है। फिर वह दोबारा दाएं मुड़ता है और 10 मीटर चलता है। फिर वह बाएं मुड़ता है और 10 मीटर चलता है और फिर दाएं मुड़कर 20 मीटर चलता है। फिर वह दोबारा दाएं मुड़ता है और 60 मीटर चलता है। प्रारंभिक बिंदु से वह किस दिशा में है?



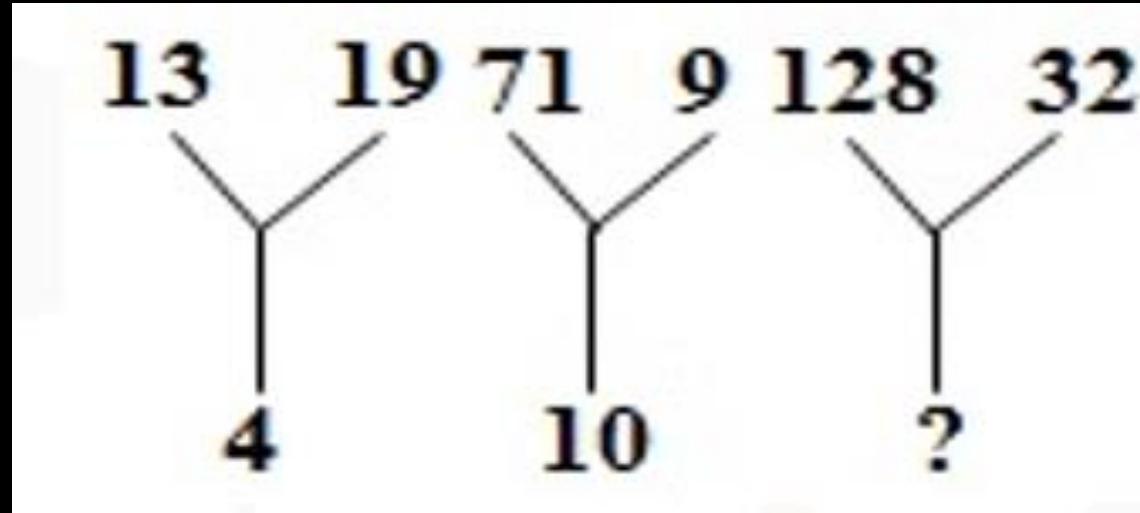
- A) उत्तर/ North B) उत्तर पूर्व/ North-East
C) पूर्व/ East D) दक्षिण-पूर्व/ South-East



MISSION SELECTION –SSC 2024

Q. 3 DIRECTIONS: Find the missing number from the given responses.

निर्देश: दिए गए विकल्पों में से लुप्त संख्या ज्ञात करें।



A) 10

B) 15

C) 20

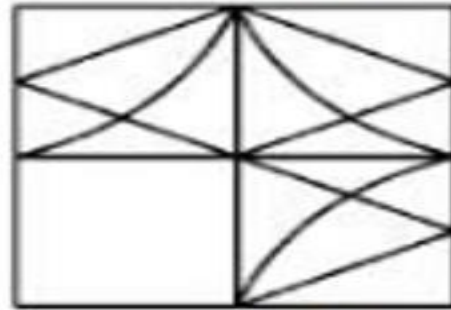
D) 25



MISSION SELECTION –SSC 2024

Q.4 निम्नलिखित में से कौन सी उत्तर आकृति प्रश्न आकृति के प्रतिरूप को पूरा करेगी?

प्रश्न आकृति:



उत्तर आकृति:



(A)



(B)



(C)



(D)



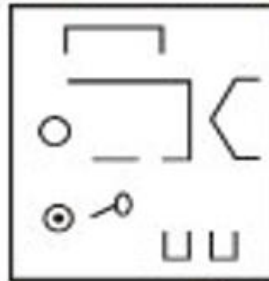


MISSION SELECTION –SSC 2024

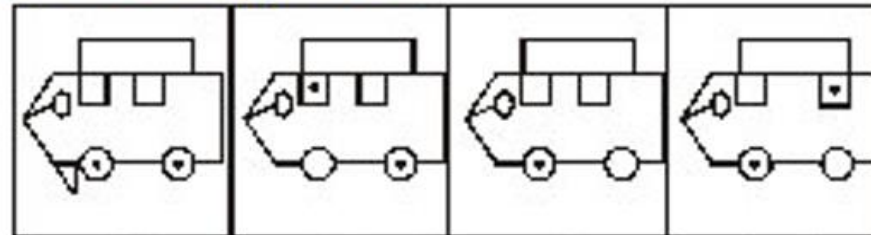
Q.5 Identify the answer figure from which the pieces given in the question figure have been cut.

वह उत्तर आकृति पहचानिए जिससे प्रश्न आकृति में दिए गए टुकड़े काटे गए हैं।

Question figure:



Answer figures :



(A)

(B)

(C)

(D)





MISSION SELECTION –SSC 2024

Q.6 In questions select the one which is different from other three alternatives

प्रश्न में, उसे चुनिए जो अन्य तीन विकल्पों से भिन्न है।



- A) रामायण/ Ramayan**
- B) महाभारत/ Mahabharat**
- C) उपनिषद्/ Upnishad**
- D) पंचतंत्र/ Panchtantra**



MISSION SELECTION –SSC 2024

Q.7 Find the missing term in the given series.

दी गई श्रेणी में लुप्त पद ज्ञात करें।

30, 68, 130, 222, ?, 520, 738



A) 420

B) 350

C) 250

D) 280



MISSION SELECTION –SSC 2024

Q.8 दिए गए विकल्पों से शब्द का चयन करें जिसे दी गए शब्द के वर्ण का उपयोग करके नहीं बनाया जा सकता।/

Which of the following words cannot be formed from 'OBSTETRICIAN'?



- A) SOBER B) TERMITE
C) RETAIN D) SIREN



MISSION SELECTION –SSC 2024

Q.9 निर्देश: अंग्रेजी शब्दकोश के अनुसार, निम्न शब्दों को व्यवस्थित करें।/ **DIRECTIONS:** Arrange the following words according to the English dictionary.

- (a) Brook
- (b) Bandit
- (c) Boisterous
- (d) Baffle
- (e) Bright



- A) (b), (d), (c), (a), (e)
- B) (b), (d), (c), (e), (a)
- C) (d), (b), (c), (a), (e)
- D) (d), (b), (c), (e), (a)

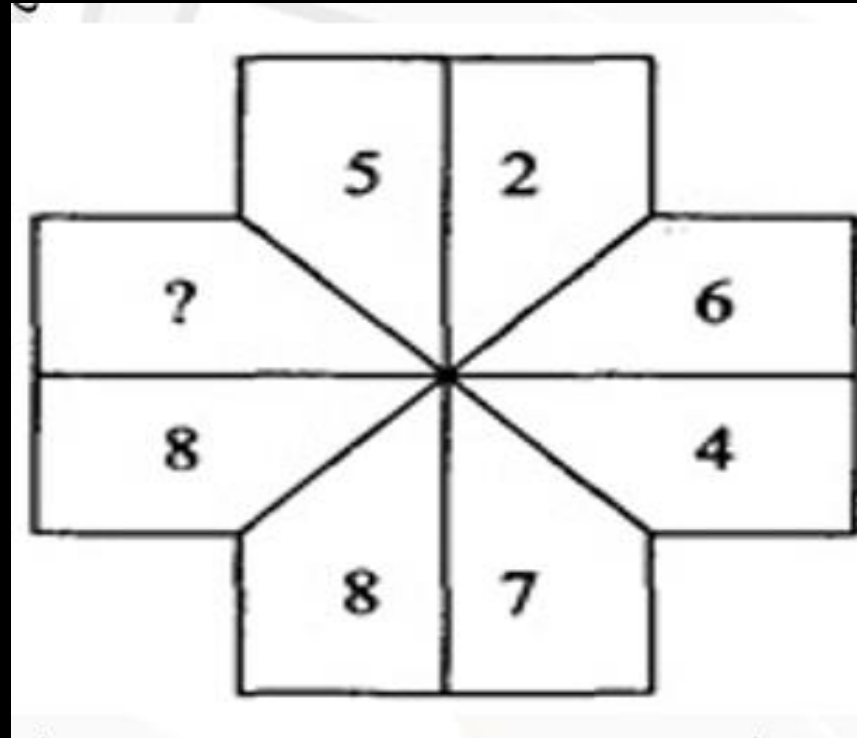


MISSION SELECTION –SSC 2024



Q.10 Find the missing term.

लुप्त पद को ज्ञात करें:



A) 10

B) 14

C) 16

D) 18



MISSION SELECTION –SSC 2024

Q.11 If 'A' means '-', 'B' means '+', 'C' means '×' and 'D' means '÷' then,

32 D 4 B 7 C 2 A 6 ?

यदि 'A' का अर्थ है '-', 'B' का अर्थ है '+', 'C' का अर्थ है '×' और 'D' का अर्थ है '÷', तो 32 D 4 B 7 C 2 A 6 ?



A) 18

B) 24

C) 36

D) 16



MISSION SELECTION –SSC 2024

Q.12 Ramesh was born on 28 February of a year. If in that year Republic day fell on Sunday, then on which day was Ramesh born?

रमेश का जन्म किसी वर्ष 28 फरवरी को हुआ। यदि उस वर्ष गणतंत्र दिवस रविवार के दिन पड़ा हो, तो रमेश का जन्म किस दिन हुआ था?



- A) Friday/शुक्रवार B) Saturday/शनिवार
C) Sunday/रविवार D) Monday/सोमवार**



MISSION SELECTION –SSC 2024

Q.13 How many pairs of letters are there in the word 'ENIGMATIC' each of which has as many letters between them in the word as in the alphabet?

शब्द 'ENIGMATIC' में अक्षरों के ऐसे कितने जोड़े हैं जिनके बीच उतने ही अक्षर आते हैं, जितने अंग्रेजी वर्णमाला में आते हैं?



- A) None B) One
C) Two D) Three



MISSION SELECTION –SSC 2024

Q.14 the following question, select the odd number pair from the given alternatives

निम्नलिखित प्रश्न में दिए गए विकल्पों में से विषम संख्या युग्म को चुनिए।



A) 10 – 103

B) 11 – 124

C) 14 – 199

D) 15 – 129



MISSION SELECTION –SSC 2024

Q.15 Which one set of letters when sequentially placed at the gaps in the given letter series shall complete it?

दी गई अक्षर-श्रृंखला के खाली स्थानों पर क्रम से रखने पर निम्नलिखित में से कौन-सा अक्षर समूह उसे पूरा करेगा?/

a _ bc _ a _ bcda _ ccd _ bcd _



A) acbdbb

B) adbcaad

C) adbbad

D) abddbda



MISSION SELECTION –SSC 2024

Q.16 In a queue, Amrita is 10th from the beginning while Mukul is 25th from last and Mamta is just in the middle of the two. If there be 50 persons in the queue. What position does Mamta occupy from the front ?

एक कतार में, अमृता शुरु से 10 वें स्थान पर है, जबकि मुकुल अंत से 25 वें स्थान पर है और ममता सिर्फ दो के मध्य में है। यदि कतार में 50 व्यक्ति हैं शुरुआत से ममता का क्या स्थान है?



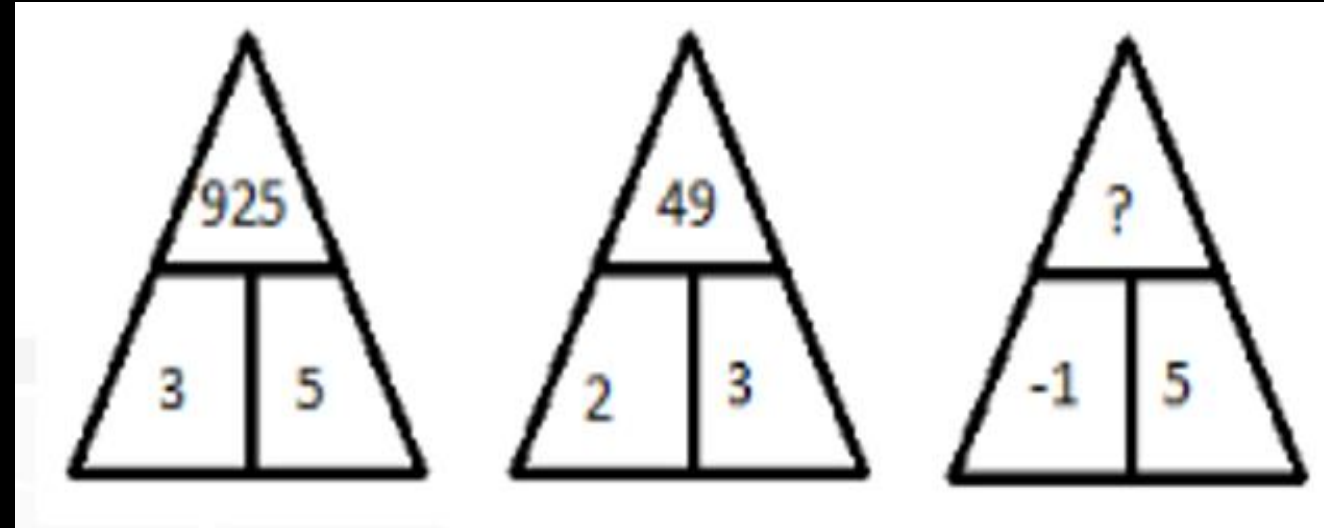
- A) 20th B) 19th
C) 18th D) 17th



MISSION SELECTION –SSC 2024

Q.17 What comes in place of question mark ?

प्रश्न चिह्न के स्थान पर क्या आएगा



A) 125

B) 215

C) 251

D) 512



MISSION SELECTION –SSC 2024

Q.18 Select the correct alternative from the given alternatives. दिए गए विकल्पों में से सही विकल्प को चुनें।

$$\sqrt[3]{A + C + D} : 2 :: \sqrt[3]{J + A + P} : ?$$



- A) 4 B) 3
C) 4.5 D) 5



MISSION SELECTION –SSC 2024

Q.19 Select the odd pair from the given alternatives.

दिए गए विकल्पों में से विषम युग्म को चुनें।



- A) जूल: ऊर्जा/Joule: Energy
- B) एम्पीयर: धारा/Ampere: Current
- C) रेडियन: अंश/Radian: Degree
- D) पास्कल: दाब/Pascal: Pressure



MISSION SELECTION –SSC 2024

Q.20. In the following question, select the related number from the given alternatives.

निम्नलिखित प्रश्न में दिए गए विकल्पों में से सम्बन्धित संख्या को चुनिए।

3222 : 7222 : 3327 : ?



A) 9949

B) 8838

C) 7327

D) 2212



MISSION SELECTION –SSC 2024

Q.21 DIRECTIONS: In the following question, a related pair of words or phrases or numbers is given. You have to complete the analogous pair.

निर्देश: निम्नलिखित प्रश्न में, शब्दों या वाक्यांशों या संख्याओं की एक संबंधित जोड़ी दी गई है। जोड़ी को पूर्ण करें।

COMPUTER: FQPRXVHT :: LANGUAGE:?



- A) OXPIXDIG B) OCQICYIG
C) OCQIXCJG D) OCQIXCIG



MISSION SELECTION –SSC 2024

Q.22 FIND THE MISSING NUMBER ?

लुप्त संख्या ढूँढें?

51	11	61
64	30	32
35	?	43



- A .25
- B .27
- C .32
- D .37



MISSION SELECTION –SSC 2024

Q.23 FIND THE MISSING NUMBER ?

लुप्त संख्या ढूँढें?

42	44	38
23	55	28
37	?	39

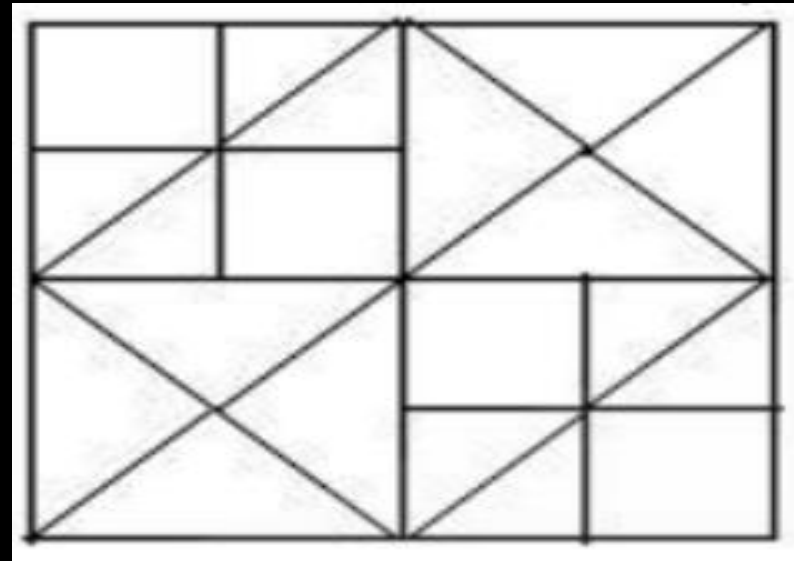


- A .11
- B .22
- C .33
- D .44



MISSION SELECTION –SSC 2024

Q.24 How many squares are there in the following figure?
निम्नलिखित आकृति में कितने वर्ग हैं?



- a) 12
- b) 16
- c) 13
- d) 14



MISSION SELECTION –SSC 2024

**Q.25 Which of the following is not a leap year?
निम्नलिखित में से कौन सा लीप वर्ष नहीं है?**



- (A) 700th**
- (B) 800th**
- (C) 1200th**
- (D) 2000th**



Mission Selection - SSC 2024



सफलता का महामंत्र

DAY-18

TOP 25 QUESTIONS

अब तो Selection पक्का है

REASONING

LIVE

07:00 PM

