

SSC GD 2022



अब वहीं दूर नहीं

4

REASONING

SPECIAL MOCK PAPER

TARGET 20/20

BY MANDEEP MAHENDRAS

LIVE | 03:00 PM





- The clock has 7:15 o'clock at what time will it be a problem for both the needles to turn 90 degrees for the first time?
- घड़ी में 7:15 बजे है किस समय दोनों सुइया पहली बार 90 डिग्री के लिए कोई समस्या होगी?



- A. 7:20 **4/11**
- B. 7:21 **9/11**
- C. 7:51 **5/(11)**
- D. 7:6 **9/11**



- Find the next term
- अगला पद ज्ञात कीजिए
- 1, 3, 6, 11, 18, ?



A. 32

B. 29

C. 27

D. 30



- Anuj is 5 years older to Barkha and 7 years younger to Chandan, while Barkha and Dheeraj are twins. How many years older is Chandan to Dheeraj ?
- अनुज बरखा से 5 साल बड़ा है और चंदन से 7 साल छोटा है, जबकि बरखा और धीरज जुड़वां हैं। चंदन धीरज से कितने साल बड़ा है?



- A. 10
- B. 14
- C. 18
- D. 12



• AYD, BVF, DRH, ?, KGL



- A. FMI
- B. GMJ
- C. HLK
- D. GLJ



Arrange the following words according to the dictionary.

निम्नलिखित शब्दों को शब्दकोश के अनुसार व्यवस्थित कीजिए


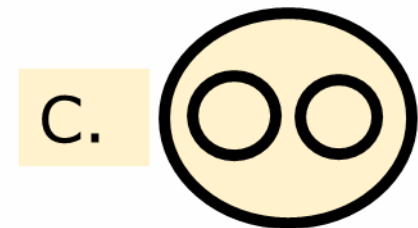
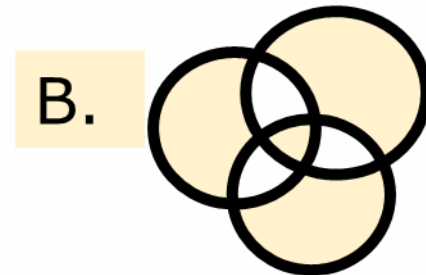
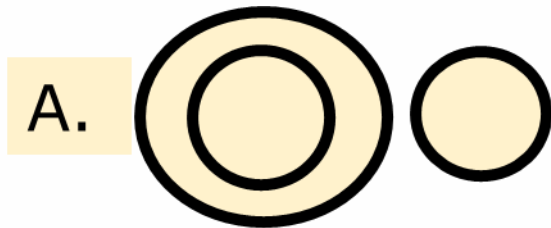
1. Grasp 2. Granite 3. Grass 4. Graph 5. Grape



- A. 5,1,2,3,4
- B. 5,1,3,2,4
- C. 2,5,4,1,3
- D. 2,5,1,4,3



- Which of the following diagrams best depicts the relationship between **Writer, Lawyer and Singer**?
- निम्नलिखित में से कौन सा चित्र लेखक, वकील और गायक के बीच संबंध को दर्शाता है?





- There are five houses A,B,C,D and E. 'A' is right of 'B' and 'E' is left of 'C' and right of 'A'. 'B' is right of 'D'. The middle house is
- पाँच घर A,B,C,D और E हैं। 'A', 'B' के दायें और 'E', 'C' के बायें और 'A' के दायें है। 'B', 'D' के दायें है। बीच का घर है



A. A

B. B

C. C

D. D



SSC GD 2022



- 6 Boys are sitting in a circle and facing towards the center of the circle. R is sitting to the immediate right of M, but he is not just to the left of V. S is between B and V. A is sitting to the immediate left of V. Who is second to the right of v ?
- 6 लड़के एक वृत्त में बैठे हैं और वृत्त के केंद्र की ओर उन्मुख हैं। R, M के ठीक दायें बैठा है, लेकिन वह V के ठीक बायें नहीं बैठा है। S, B और V के बीच में है। A, V के ठीक बायें बैठा है। v के दायें से दूसरा कौन है?



A.S

B.B

C.R

D.M



SSC GD 2022



- Mukesh is 40 years old and he is five times as old as his brother Rohit. When Mukesh is thrice as old as Rohit, then the age of Mukesh is-
- मुकेश 40 साल का है और वह अपने भाई रोहित से पांच गुना बड़ा है। जब मुकेश रोहित से तीन गुना बड़ा है तो मुकेश की उम्र है-



A. 44

B. 48

C. 46

D. 40



- At what angle the hands of a clock are inclined at 30 minutes past 6?
6 बजकर 30 मिनट पर घड़ी की सुइयां किस कोण पर झुकी हुई हैं?



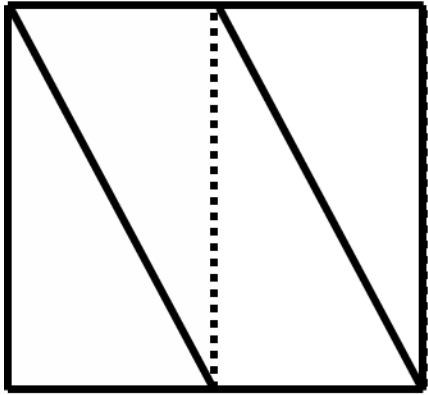
- A. 0
- B. 12.5
- C. 15
- D. 10



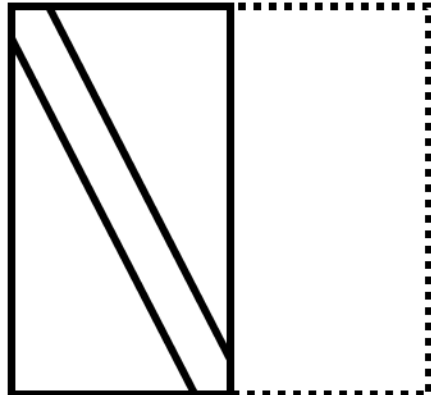
SSC GD 2022



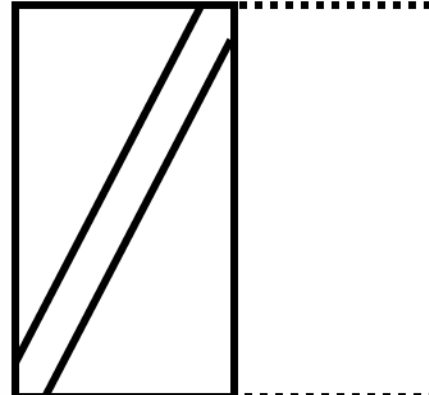
- When a transparent paper is folded along the dotted line, choose the figure that follows the pattern given in the question.
- जब एक पारदर्शी कागज को बिंदुदार रेखा से मोड़ा जाता है तो दिये गये विकल्पों में से उस चित्र का चुनाव कीजिए जो प्रश्न में दिये गये पद्धति का अनुसरण करता है?



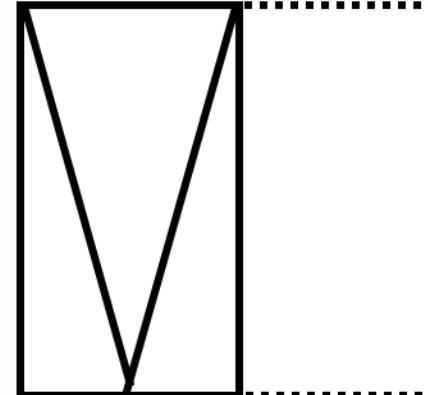
X



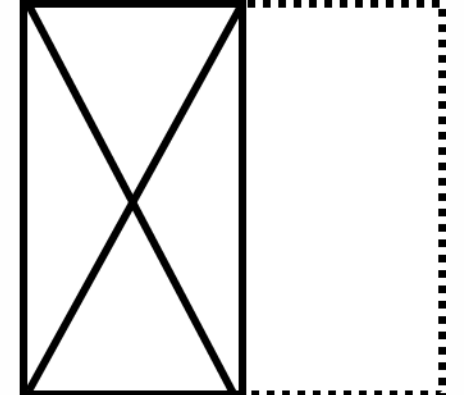
1



2



3

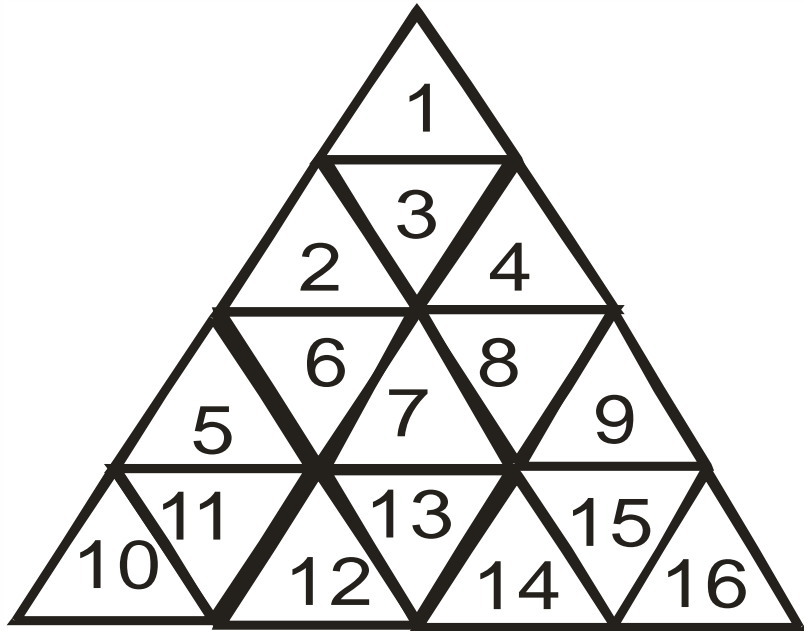


4





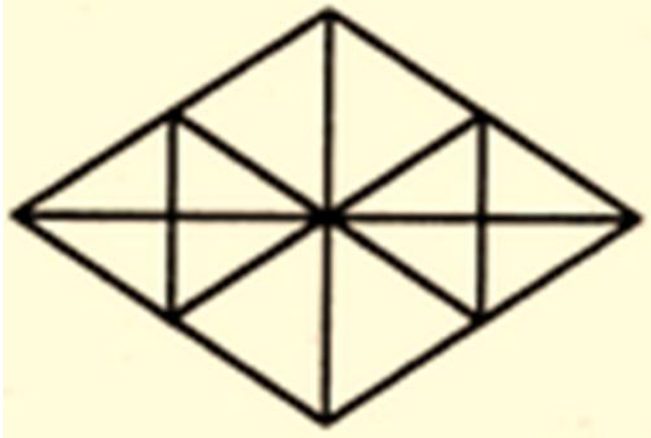
- Find number of triangle in figure?
- आकृति में त्रिभुजों की संख्या ज्ञात कीजिए?



- A. 27
- B. 16
- C. 23
- D. 26



- Find number of triangle in figure?
- आकृति में त्रिभुजों की संख्या ज्ञात कीजिए?



- A. 22
- B. 16
- C. 28
- D. 32