

SSC GD 2022



अब वहीं दूर नहीं

REASONING

1

SPECIAL MOCK PAPER

BY MANDEEP MAHENDRAS

LIVE | 03:00 PM





SSC GD 2022



- In following alphabet series , one term missing as shown by question mark . Choose missing term from options
- निम्नलिखित वर्णमाला श्रृंखला में, एक शब्द गायब है जैसा कि प्रश्न चिह्न द्वारा दिखाया गया है। विकल्पों में से लुप्त पद चुनें
- A, B, D, G, ?



A.M

→ B.K

C.L

D.H



SSC GD 2022



- Choose the letter or group of letters which is different from others
- वह अक्षर या अक्षरों का समूह चुनें जो अन्य से भिन्न हो



- A. H
- B. T
- C. Q
- D. Z






SSC GD 2022



• 4 : 19 :: 7 : ?



-  **A. 52**
- B. 49**
- C. 28**
- D. 68**



SSC GD 2022



• 25 : 37 :: 49 : ?



A. 41

 B. 65

C. 56

D. 60



SSC GD 2022



- Rohan ranks 9th from the top and 25th from the bottom in the class. How many students are there in the class?
- रोहन कक्षा में शीर्ष से 9 वें स्थान पर है और नीचे से 25 वें स्थान पर हैं। कक्षा में कितने छात्र हैं?



A. 31

B. 32

 C. 33

D. 34



- If North-East is called South and South-West is called North, then which direction is represented by West?
- यदि उत्तर-पूर्व को दक्षिण कहा जाता है और दक्षिण-पश्चिम को उत्तर कहा जाता है, तो पश्चिम द्वारा किस दिशा को दर्शाया जाता है?



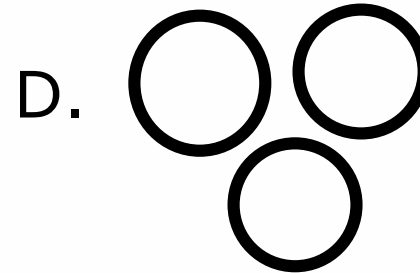
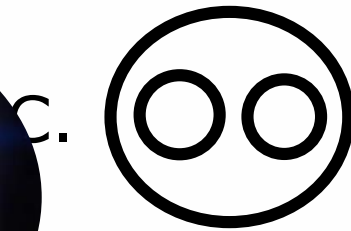
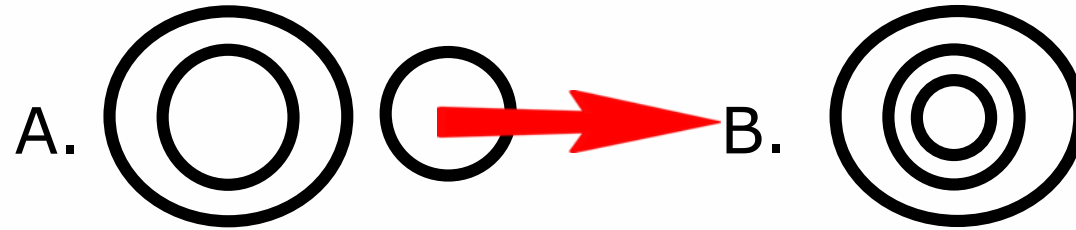
- A. दक्षिण-पूर्व
- B. उत्तर-पूर्व
- C. दक्षिण-पश्चिम
- D. उत्तर-पश्चिम



SSC GD 2022



- Which of the following diagrams best depicts the relationship between India, Haryana and the world?
- निम्नलिखित में से कौन सा चित्र भारत, हरियाणा और दुनिया के बीच संबंध को दर्शाता है?



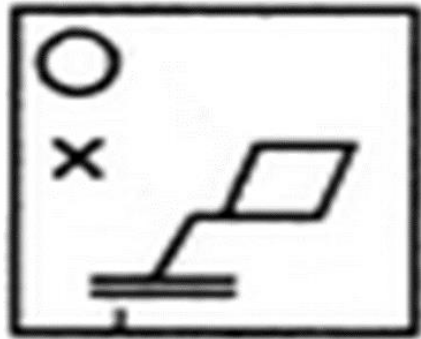


SSC GD 2022

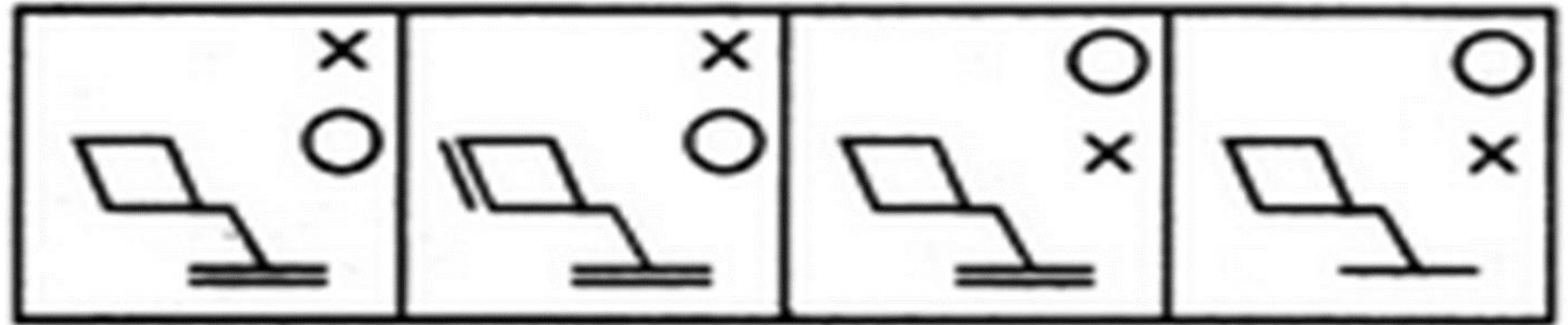


- Choose the correct mirror image of the given figure (X) from the four alternatives?

- चार विकल्पों में से दी गई आकृति (X) की सही दर्पण छवि चुनें?



(X)



(A)

(B)

→ (C)

(D)





SSC GD 2022



- In a certain code **CARD** is written as **20** . **TEA** is written as **12**, How is **PARENTS** written in that code ?
- एक निश्चित कोड में **CARD** को **20** लिखा जाता है। **TEA** को **12** लिखा जाता है, उस कोड में **PARENTS** को कैसे लिखा जाएगा?



A. 32

→ B. 56

C. 76

D. 121



- Which one set of letters when sequentially placed at the gaps in the given letter series shall complete it
- अक्षरों का कौन-सा समूह रिक्त स्थानों पर क्रमिक रूप से रखे जाने पर दी गई अक्षर श्रृंखला को पूरा करेगा

_ ba _ bab _ babb _ b



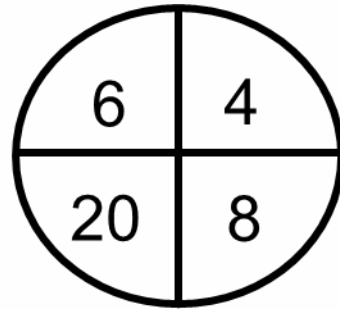
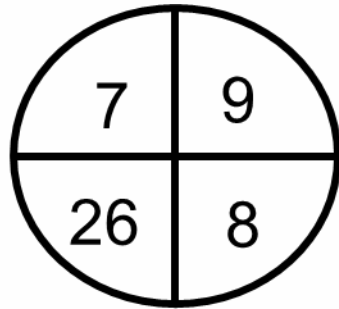

- (1) abbb
(2) aaaa
(3) abbc
(4) aabb



SSC GD 2022



- Which number will replace the question mark ?
- प्रश्न चिन्ह के स्थान पर कौन सी संख्या आएगी ?



A. 24

 B. 25

C. 28

D. 39



• वलय : कान :: ? : कलाई



- A. ड्रमका
- B. चूड़ी
- C. चेन
- D. रिबन



- **Statement :**
- **All harmonium are instruments./सभी हारमोनियम यंत्र हैं।**
- **All instruments are flutes./सभी यंत्र बाँसुरी हैं।**
- **conclusion:**
- **(I) All flutes are instruments./सभी बाँसुरी यंत्र हैं।**
- **(II) All harmonium are flute./सभी हारमोनियम बाँसुरी हैं।**





SSC GD 2022



- A,B,C,D and E are five houses A is to the right of B and E is to the left of C and to the right of A. B is to the right of D. Which house is in the middle?
- A,B,C,D और E पांच घर है A, B के दायाँ ओर है और E, C के बाएँ और A के दायाँ ओर है। B, D के दायाँ ओर है। कौन सा घर मध्य में है?



- A. A
- B. B
- C. C
- D. D




SSC GD 2022



• If $436=3$, $783=8$, $654 = 5$, $976 = ???$



-  **A. 12**
B. 11
C. 10
D. 14