



# SSC CHSL 2022-23



## REASONING

# PREVIOUS YEAR PAPER

SET  
09

BY MANDEEP MAHENDRAS



LIVE

05:30 PM



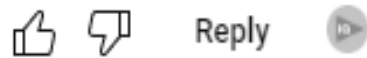


# SSC CHSL (10+2) 2022



@subhamoyghosh8498 19 hours ago

Option B  
-3 logic  
Thank you sir




▼ • 1 reply




@puspranjansingh2243 21 hours ago 1 subscribers


Thanku



@indukumari8754 21 hours ago  
Place value me 3 ka distance hai



@saumyasingh8451 5 hours ago  
Homework answer (option no. b. MJ is the correct answer)



@Ravi.1 21 hours ago 4 subscribers

B



▼ • 1 reply



@amarsahani5058 21 hours ago 1 subscribers

B\_(mj)



▼ • 1 reply



@suruchijha393 21 hours ago  
Hw option B



▼ • 1 reply



@indukumari8754 21 hours ago  
B hoga sir options





# SSC CHSL (10+2) 2022



@sorenbiti2753 21 hours ago 1 subscribers

Option- B  
MJ



▼ • 1 reply



@zikrayasmeen4058 18 hours ago

Option B



▼ • 1 reply



@user-pv1xr3hb1n 21 hours ago

B



▼ • 1 reply



@surbhisinha7315 20 hours ago 4 subscribers

Option bbbbbbbbbb 📁



@Bittu\_kumar639 19 hours ago

Ans is B

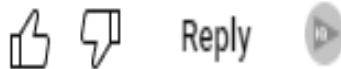


▼ • 1 reply



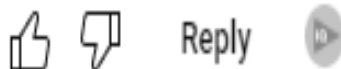
@user-pv1xr3hb1n 21 hours ago

Mj



@krishnakantmallick397 21 hours ago

Option B



▼ • 1 reply



# SSC CHSL (10+2) 2022



- Which letter-pair will replace the question mark (?) in the following series?
- निम्नलिखित श्रृंखला में प्रश्नवाचक चिन्ह (?) के स्थान पर कौन-सा अक्षर-युग्म आएगा?
- KH, ? , QN, WT, EB



A. MK

→ B. MJ

C. NJ

D. LN




# SSC CHSL (10+2) 2022



- Select the set in which the numbers are related in the same way as are the numbers of the following set.
- उस सेट का चयन करें जिसमें संख्याएँ उसी तरह से संबंधित हैं जैसे निम्नलिखित सेट की संख्याएँ हैं।
- (10, 32, 54)



- A. (25, 47, 77)
-  B. (35, 57, 79)
- C. (15, 49, 37)
- D. (16, 37, 56)



# SSC CHSL (10+2) 2022



- In a code language, KNIFE is written as MPGHHG. How will SWORD be written as in that language?
- एक कूट भाषा में, KNIFE को MPGHHG लिखा जाता है। उस भाषा में SWORD कैसे लिखा जाएगा?



A. UYMTE

B. UYQTF

 C. UYMTF

D. VYMTF



# SSC CHSL (10+2) 2022



- Which number will replace the question mark (?) in the following series?
- निम्नलिखित श्रंखला में प्रश्नवाचक चिन्ह (?) के स्थान पर कौन सी संख्या आएगी?
- 7, 9, 12, 17, 24, 35, ?



A. 47

B. 52

C. 45

 D. 48



# SSC CHSL (10+2) 2022



- Select the option that is related to the third letter-pair in the same way as the second letter-pair is related to the first letter-pair.
- उस विकल्प का चयन करें जो तीसरे अक्षर-युग्म से उसी प्रकार संबंधित है जैसे दूसरा अक्षर-युग्म पहले अक्षर-युग्म से संबंधित है।
- CH : FP :: GK : ?



A. NU

B. JL

C. JS

D. MP







# SSC CHSL (10+2) 2022



- Select the number-pair in which the two numbers are related in the same way as are the two numbers of the following number-pair.
- उस संख्या-युग्म का चयन कीजिए जिसमें दो संख्याएँ उसी प्रकार संबंधित हैं जैसे निम्नलिखित संख्या-युग्म की दो संख्याएँ हैं।
- 7, 13



A. 15, 19

B. 17, 21

 C. 23, 31

D. 17, 25



# SSC CHSL (10+2) 2022



- What was the day of the week on 26 January 2012?
- 26 जनवरी 2012 को सप्ताह का कौन सा दिन था?



A. Sunday

B. Saturday

C. Tuesday

 D. Thursday



# SSC CHSL (10+2) 2022



- Select the set in which the numbers are related in the same way as are the numbers of the following set.
- उस सेट का चयन करें जिसमें संख्याएँ उसी तरह से संबंधित हैं जैसे निम्नलिखित सेट की संख्याएँ हैं।
- (25, 49, 37)



A. (12, 14, 8)

 B. (6, 4, 5)

C. (26, 64, 120)

D. (16, 64, 78)



# SSC CHSL (10+2) 2022



- Three of the following four letter-clusters are alike in a certain way and one is different. Pick the odd one out.
- निम्नलिखित चार अक्षर-समूहों में से तीन एक निश्चित तरीके से समान हैं और एक अलग है। विषम को चुनिए।



A. BDFH

B. IKMO

C. CEGI

D. PRTW





# SSC CHSL (10+2) 2022



- If SAW is coded as 8264 and CUDDLE is coded as 24623231522, then how will MEDULLA be coded as?
- यदि SAW को 8264 के रूप में कोडित किया जाता है और CUDDLE को 24623231522 के रूप में कोडित किया जाता है, तो MEDULLA को किस रूप में कोडित किया जाएगा?



A. 1422237151525

B. 1422236151625

 C. 1422236151526

D. 1422236161526



# SSC CHSL (10+2) 2022



- 'RETINA' is related to 'EYE' in the same way as 'HYDROGEN' is related to '\_\_\_\_\_'.  
• 'रेटिना' का संबंध 'नेत्र' से उसी प्रकार है जैसे 'हाइड्रोजन' का संबंध '\_\_\_\_\_' से है।



A. LEGS

B. IODINE

 C. WATER

D. EAR



# SSC CHSL (10+2) 2022



- Select the set in which the numbers are related in the same way as are the numbers of the following set.
- उस सेट का चयन करें जिसमें संख्याएँ उसी तरह से संबंधित हैं जैसे निम्नलिखित सेट की संख्याएँ हैं।
- (16, 23, 32)



A. (6, 14, 25)

→ B. (11, 18, 27)

C. (10, 17, 28)

D. (10, 23, 46)



# SSC CHSL (10+2) 2022



- Statement :
- No carrot is root./कोई कैरेट रूट नहीं है.
- All roots are potatoes./सभी जड़ें आलू हैं
- Conclusions:
- I. No carrot is potatoes./कोई गाजर आलू नहीं है।
- II. No potatoes is carrot./कोई आलू गाजर नहीं है.
- III. Some potatoes are roots./कुछ आलू जड़ हैं।
- IV. All the potatoes are roots./सभी आलू जड़ हैं।



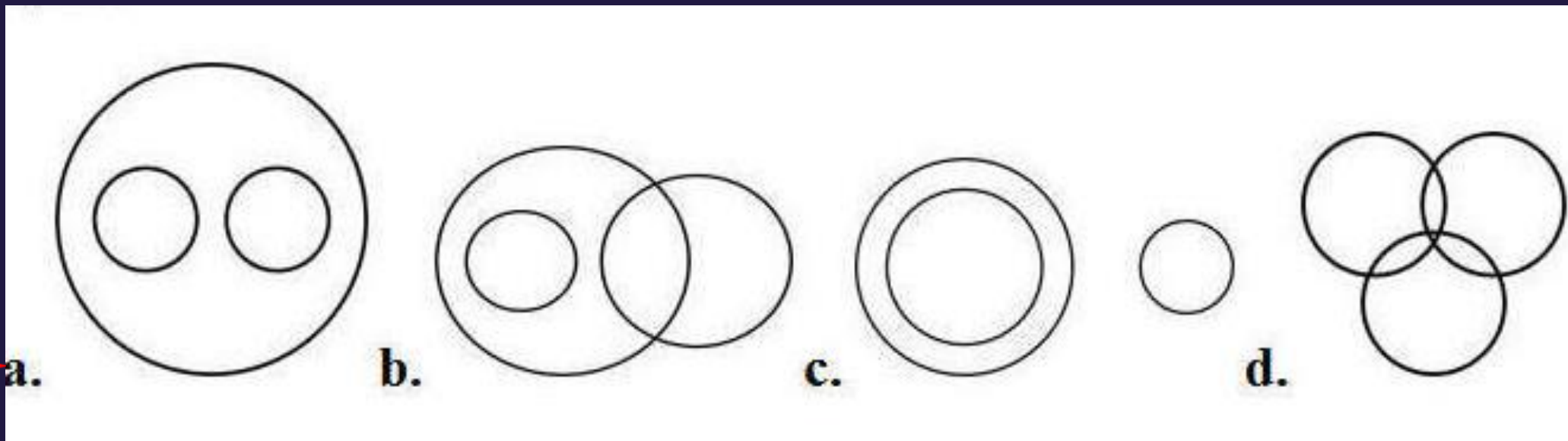




# SSC CHSL (10+2) 2022



- Select the Venn diagram that best illustrates the relationship between the following classes.
- वेन आरेख का चयन करें जो निम्नलिखित वर्गों के बीच संबंध को सबसे अच्छा दर्शाता है।
- Ants, Butterflies, Insects





# SSC CHSL (10+2) 2022



• Arrange the following words in the sequence as they appear in English dictionary order.

• निम्नलिखित शब्दों को उस क्रम में व्यवस्थित करें जैसे वे अंग्रेजी शब्दकोश क्रम में दिखाई देते हैं।

- 1. Master
- 2. Marvel
- 3. Market
- 4. Marker
- 5. Marble
- 6. Margin



A. 6, 5, 4, 2, 1, 3

B. 5, 4, 6, 3, 2, 1

C. 5, 6, 4, 3, 1, 2

 D. 5, 6, 4, 3, 2, 1



# SSC CHSL (10+2) 2022



- Which letter-pair will replace the question mark (?) in the following series?
- निम्नलिखित श्रृंखला में प्रश्नवाचक चिन्ह (?) के स्थान पर कौन-सा अक्षर-युग्म आएगा?
- EI, GK, ? , KO, MQ



A. JK

→ B. IM

C. IL

D. KM



# SSC CHSL (10+2) 2022



- Mala and Lali are sisters. Mahesh is father of Dev. Gargi is mother of Mala and Dev. How Mahesh's father is related to Lali?
- माला और लाली बहनें हैं। महेश, देव का पिता है। गार्गी माला और देव की माता है। महेश के पिता का लाली से क्या संबंध है?



- A. Paternal Grand Father
- B. Maternal Grand Father
- C. Uncle
- D. Father



# SSC CHSL (10+2) 2022



- A paper is folded and cut as shown in the following figures . Select the option that depicts how this paper will appear when unfolded?
- एक कागज को मोड़ा और काटा जाता है, जैसा कि निम्नलिखित आकृतियों में दिखाया गया है। उस विकल्प का चयन करें जो दर्शाता है कि यह पेपर अनफोल्ड होने पर कैसा दिखाई देगा?

Diagram illustrating the process of folding and cutting a paper:

- X:** A square paper with a vertical dashed line and a curved arrow indicating a fold to the left.
- Y:** The paper is folded to the left, creating a smaller square. A horizontal dashed line and a curved arrow indicate a fold to the bottom.
- Z:** The paper is folded to the bottom, creating a small square with a dot in the center.

Options:

- a.** A square with four small squares, each containing a dot, arranged in a 2x2 grid.
- b.** A square with four small squares, each containing a dot, arranged in a diagonal line from top-left to bottom-right.
- c.** A square with six small squares, each containing a dot, arranged in a 2x3 grid.
- d.** A square with four small squares, each containing a dot, arranged in a diamond pattern.



# SSC CHSL (10+2) 2022



- Select the word-pair in which the two words are related in the same way as are the two words in the following word-pair.
- उस शब्द-युग्म का चयन करें जिसमें दो शब्द उसी प्रकार संबंधित हैं जैसे निम्नलिखित शब्द-युग्म के दो शब्द हैं।
- Ostrich : Eagle.(शुतुरमुर्ग : चील)



A. Whale : Kite

→ B. Cow : Elephant

C. Hen : Goat

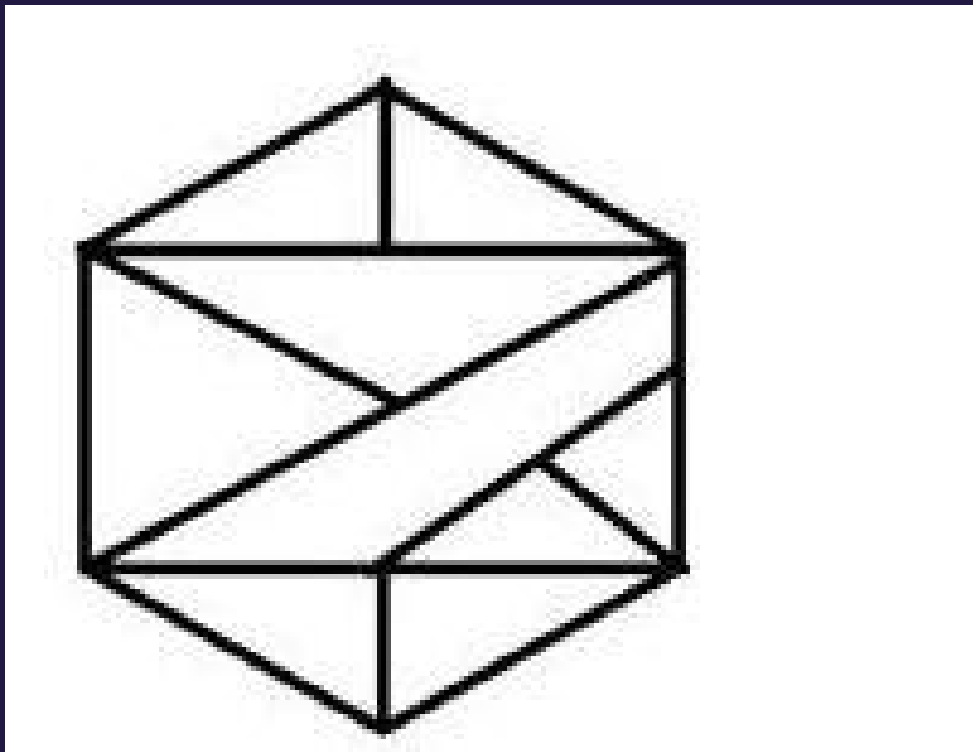
D. Swan : Lion



# SSC CHSL (10+2) 2022



- How many triangles are presents in the following figure?
- निम्नलिखित आकृति में कितने त्रिकोण मौजूद हैं?



- A. 13
- B. 16
- C. 14
- D. 11