



# SSC CHSL 2022-23



## REASONING

# PREVIOUS YEAR PAPER

SET  
10

BY MANDEEP MAHENDRAS



LIVE

05:30 PM






# SSC CHSL (10+2) 2022



@krishnakantmallick397 22 hours ago

Opt- c




1 reply



@subhamoyghosh8498 1 hour ago

Hw ans opt B




@indukumari8754 17 hours ago

Sorry sir bb options



@suruchijha393 22 hours ago

Hw option C

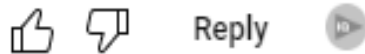


1 reply



@zikrayasmeen4058 17 hours ago

Option B




1 reply



@surbhisinha7315 20 hours ago 4 subscribers

Option ccccc



1 reply



@Ravi.1 21 hours ago 4 subscribers

Bbb




1 reply



@Bittu\_kumar639 20 hours ago

B



@sheerinkhan7268 21 hours ago

Hw option c



1 reply



@amarsahani5058 22 hours ago 1 subscribers

B




1 reply



@spriya6056 22 hours ago

B



1 reply



# SSC CHSL (10+2) 2022



- Select the word-pair in which the two words are related in the same way as are the two words in the following word-pair.
- उस शब्द-युग्म का चयन करें जिसमें दो शब्द उसी प्रकार संबंधित हैं जैसे निम्नलिखित शब्द-युग्म के दो शब्द हैं।
- Ostrich : Eagle. (शुतुरमुर्ग : चील)



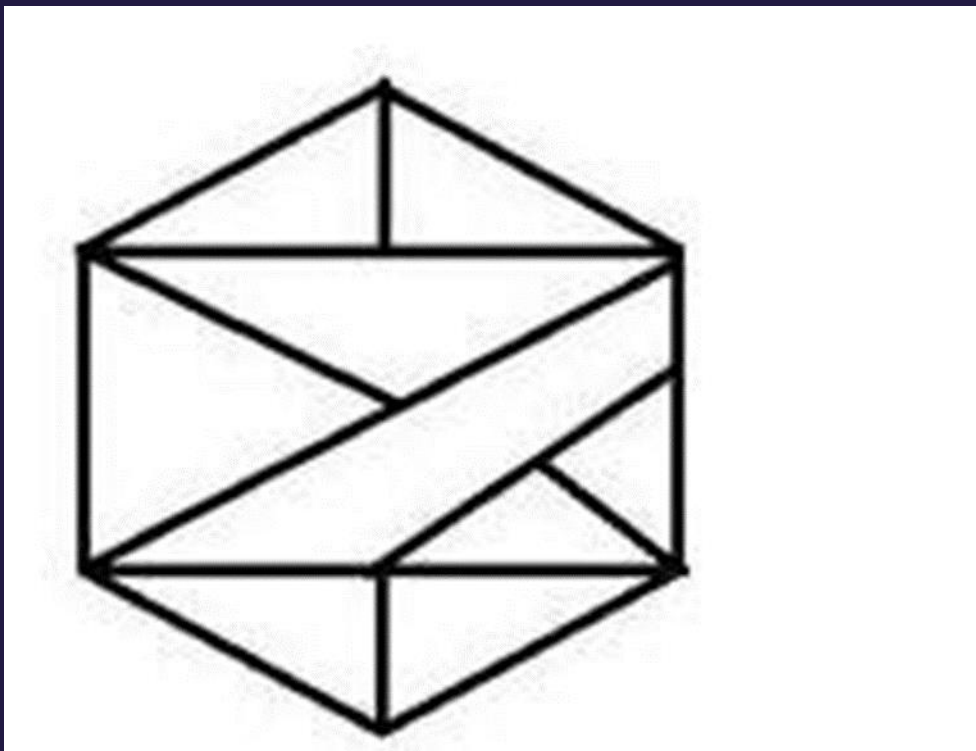
- A. Whale : Kite
- B. Cow : Elephant
- C. Hen : Goat
- D. Swan : Lion



# SSC CHSL (10+2) 2022



- How many triangles are presents in the following figure?
- निम्नलिखित आकृति में कितने त्रिकोण मौजूद हैं?



- A. 13
- B. 16
- C. 14
- D. 11



# SSC CHSL (10+2) 2022



- SSC CHSL (Tier - 1) Online Exam Paper - 2018 "held on 11 JULY 2019"
- Morning-Shift (Reasoning)



# SSC CHSL (10+2) 2022



- Which letter-pair will replace the question mark (?) in the following series?
- निम्नलिखित श्रंखला में प्रश्नवाचक चिन्ह (?) के स्थान पर कौन-सा अक्षर-युग्म आएगा?
- FJ, HL, ? , LP, NR



- A. IN
- B. GM
- C. JM
- D. JN





# SSC CHSL (10+2) 2022



- Select the option that is related to the third letter-pair in the same way as the second letter-pair is related to the first letter-pair.
- उस विकल्प का चयन करें जो तीसरे अक्षर-युग्म से उसी प्रकार संबंधित है जैसे दूसरा अक्षर-युग्म पहले अक्षर-युग्म से संबंधित है।
- DJ : HT :: HM : ?



- A. LW  
B. JK  
C. LP  
D. PY



# SSC CHSL (10+2) 2022



- Three of the following four letter-clusters are alike in a certain way and one is different. Pick the odd one out.
- निम्नलिखित चार अक्षर-समूहों में से तीन एक निश्चित तरीके से समान हैं और एक भिन्न है। विषम को चुनिए।



- A. DFHJ
- B. CEGI
- C. QSUV
- D. JLNP







# SSC CHSL (10+2) 2022



- Three of the following four numbers are alike in a certain way and one is different. Pick the number that is different from the rest.
- निम्नलिखित चार संख्याओं में से तीन एक निश्चित तरीके से समान हैं और एक अलग है। वह संख्या चुनें जो बाकी से अलग है।



A. 85

B. 67

C. 95

 D. 75



# SSC CHSL (10+2) 2022



- Which two signs should be interchanged in the following equation to make it correct?
- निम्नलिखित समीकरण को सही करने के लिए किन दो चिह्नों को आपस में बदलना चाहिए?
- $5 + 8 - 30 \times 10 \div 2 = 240$



A. + and -

B.  $\times$  and  $\div$

C. + and  $\div$

D.  $\times$  and -






# SSC CHSL (10+2) 2022



- Select the correct mirror image of the given figure when the mirror is placed to the right of the figure.
- दी गई आकृति की सही दर्पण छवि का चयन करें जब दर्पण को आकृति के दाईं ओर रखा जाता है।



Options:



a.



b.



c.



d.

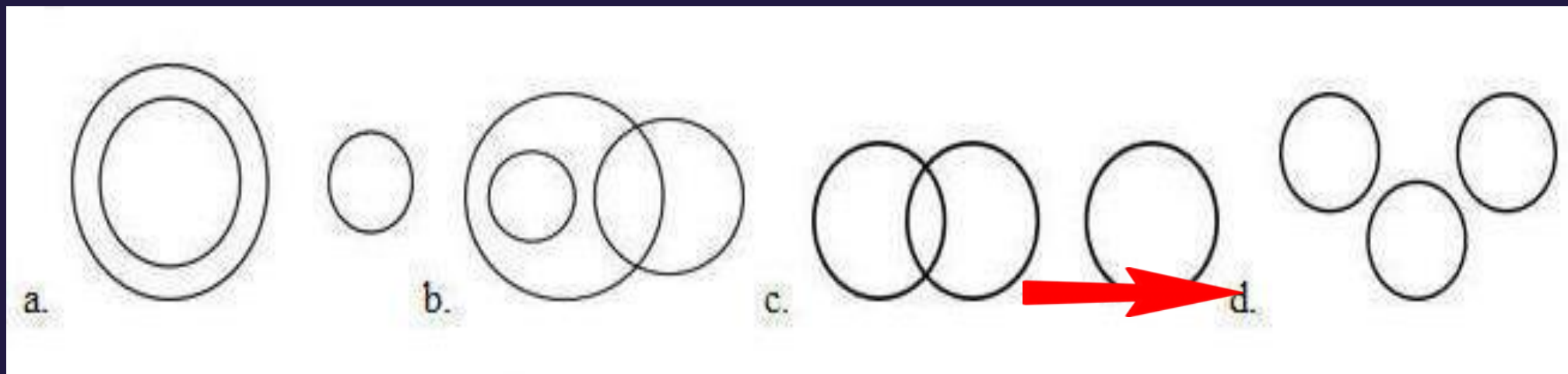




# SSC CHSL (10+2) 2022



- Select the Venn diagram that best illustrates the relationship between the following classes.
- Rats, Frogs, Snakes
- वेन आरेख का चयन करें जो निम्नलिखित वर्गों के बीच संबंध को सबसे अच्छा दर्शाता है।
- चूहे, मेंढक, सांप






# SSC CHSL (10+2) 2022



- In a code language, GOURD is written as IQSTF. How will APHID be written as in that language?
- एक कूट भाषा में GOURD को IQSTF लिखा जाता है। उसी भाषा में APHID को कैसे लिखा जाएगा?



- A. CREKFF
- B. CRJKFF
- C. CRFKFF
- D. CRFLFF





# SSC CHSL (10+2) 2022



- Arrange the following words in the sequence as they appear in English dictionary order.
- निम्नलिखित शब्दों को उस क्रम में व्यवस्थित करें जैसे वे अंग्रेजी शब्दकोश क्रम में दिखाई देते हैं।

- 1. Mercury
- 2. Earth
- 3. Jupiter
- 4. Venus
- 5. Mars



- A. 2, 3, 5, 1, 4
- B. 4, 2, 5, 3, 1
- C. 1, 4, 2, 3, 5
- D. 2, 3, 1, 5, 4



# SSC CHSL (10+2) 2022



- Select the set in which the numbers are related in the same way as are the numbers of the following set.
- उस सेट का चयन करें जिसमें संख्याएँ उसी तरह से संबंधित हैं जैसे निम्नलिखित सेट की संख्याएँ हैं।
- (49, 81, 121)



A. (16, 25, 49)

B. (16, 64, 100)

 C. (36, 64, 100)

D. (9, 4, 8)



# SSC CHSL (10+2) 2022



- 'ENGINEER' is related to 'BUILDING' in the same way as 'WRITER' is related to '\_\_\_\_\_'.  
• 'इंजीनियर' का संबंध 'भवन' से उसी प्रकार है जैसे 'लेखक' का संबंध '\_\_\_\_\_' से है।



- A. BOOK  
B. PEN  
C. INK  
D. PAPER





# SSC CHSL (10+2) 2022



- Anil and Abhay are brothers. Swati is the daughter of Samir and sister of Anil. How is Abhay's mother related to Samir?
- अनिल और अभय भाई हैं। स्वाति, समीर की पुत्री और अनिल की बहन है। अभय की माँ का समीर से क्या संबंध है?



A. Sister-in-law

B. Sister

C. Mother

 D. Wife



# SSC CHSL (10+2) 2022



- Which number will replace the question mark (?) in the following series?
- निम्नलिखित श्रंखला में प्रश्नवाचक चिन्ह (?) के स्थान पर कौन सी संख्या आएगी?
- 2, 4, 7, 12, 19, 30, ?



A. 38

B. 47

A red arrow pointing from the left towards the text 'C. 43'.

C. 43


D. 36



# SSC CHSL (10+2) 2022



- If BARBER is coded as 116 and GLINT is coded as 73, then how will LIZARD be coded as?
- यदि BARBER को 116 के रूप में कोडित किया जाता है और GLINT को 73 के रूप में कोडित किया जाता है, तो LIZARD को किस प्रकार कोडित किया जाएगा?



- A. 92
- B. 91
- C. 90
- D. 93



# SSC CHSL (10+2) 2022



- Statements:
- All hens are eggs./सभी मुर्गियाँ अंडे हैं।
- All birds are eggs./सभी पक्षी अंडे हैं।
- All eggs are lions./सभी अंडे शेर हैं।
- Conclusions:
- I. All hens are lions./सभी मुर्गियाँ शेर हैं।
- II. Some lions are eggs./कुछ शेर अंडे हैं।
- III. All birds are lions./सभी पक्षी शेर हैं।





# SSC CHSL (10+2) 2022



- What was the day of the week on 15 August 2013?
- 15 अगस्त 2013 को सप्ताह का कौन सा दिन था?



- A. Monday
- B. Wednesday
- C. Thursday
- D. Tuesday





# SSC CHSL (10+2) 2022



- Mahesh is standing facing north. He turns  $180^\circ$  in the clockwise direction and then  $45^\circ$  in the same direction and then  $270^\circ$  in the anticlockwise direction. In which direction is he facing now?
- महेश उत्तर की ओर मुख करके खड़ा है। वह दक्षिणावर्त दिशा में  $180^\circ$  मुड़ता है और फिर उसी दिशा में  $45^\circ$  और फिर वामावर्त दिशा में  $270^\circ$  मुड़ता है। वह अब किस दिशा की ओर उन्मुख है?



A. South-West

B. South-East

C. North-East

 D. North-West