



SSC GD 2022



महामैराथन

सभी महत्वपूर्ण प्रश्न एक जगह



दोपहर 03:00 बजे से लगातार



SSC GD 2022-23



- A zoo has tigers and sparrows and they are 70 in number on counting their heads and the number of their legs is 210. How many sparrows are there?
एक चिड़ियाघर में बाघ और गौरैया हैं और सिर गिनने पर उनकी संख्या 70 है और उनके पैरों की संख्या 210 है। गौरैया की संख्या कितनी है?



- A. 37
- B. 35
- C. 55
- D. 25



SSC GD 2022-23



- A watch loses 5 minutes in one hour and was set right at 7am. What time will it show at 2 pm on the same day?
- एक घड़ी एक घंटे में 5 मिनट कम हो जाती है और सुबह 7 बजे ठीक हो जाती है। यह उसी दिन दोपहर 2 बजे क्या समय दिखाएगा?



- A. 2:35 pm
- B. 1:25 pm
- C. 2:15 pm
- D. 3 pm



SSC GD 2022-23



- which day of week will not the last day of a century?
- सप्ताह का कौन सा दिन सदी का अंतिम दिन नहीं होगा?



- A. Friday
- B. Monday
- C. Thursday
- D. Sunday



SSC GD 2022-23



- . If 'a' means ' \div ', 'b' means '+', 'c' means '-' and 'd' means ' \times ' then
- यदि 'a' का अर्थ ' \div ', 'b' का अर्थ '+', 'c' का अर्थ '-' और 'd' का अर्थ ' \times ' है, तो
- $11\ b\ 15\ c\ 8\ a\ 4\ d\ 5 = ?$



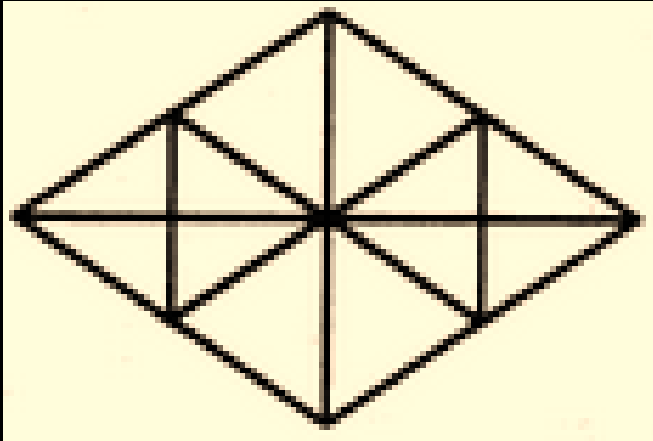
- A. 36
- B. 16
- C. 26
- D. 6



SSC GD 2022-23



- Find the number of triangles in the figure?
- आकृति में त्रिभुजों की संख्या ज्ञात करें?



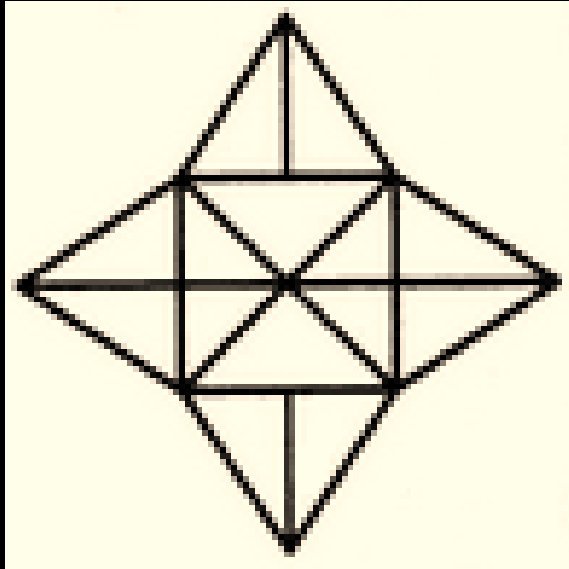
- A. 22
- B. 28
- C. 16
- D. 32



SSC GD 2022-23



- Find the number of triangles in the figure?
- आकृति में त्रिभुजों की संख्या ज्ञात करें?



- A. 18
- B. 28
- C. 20
- D. 32



SSC GD 2022-23



- A girl starts from her house, she first walks 30m in North-West and then 30m in South-West. Then she walks 30m in South-East, finally she turns towards her house, which direction is she walking?
- एक लड़की अपने घर से चलती है, वह पहले उत्तर-पश्चिम में 30मीटर चलती है और फिर दक्षिण-पश्चिम में 30मी चलती है. फिर वह दक्षिण-पूर्व में 30मीटर चलती है, अंत में वह अपने घर की ओर मुड़ती है, वह किस दिशा की ओर चल रही है?



- A. North-East/उत्तर-पूर्व
- B. North-West/उत्तर-पश्चिम
- C. South-East/दक्षिण-पूर्व
- D. South-West/दक्षिण-पश्चिम



SSC GD 2022-23



- In a row, Amar is 10th from the left and Naveen is 15th from the right. If both take their places, then Amar becomes 8th from the left. What is the total number in the row?
- एक पंक्ति में अमर बायीं ओर से 10 वे स्थान पर है तथा नवीन दायीं ओर से 15 वे स्थान पर है। यदि दोनों अपने स्थान बादल लेते हैं, तो अमर बायीं ओर से 8 वे स्थान पर हो जाता है। पंक्ति में कुल संख्या कितनी है।



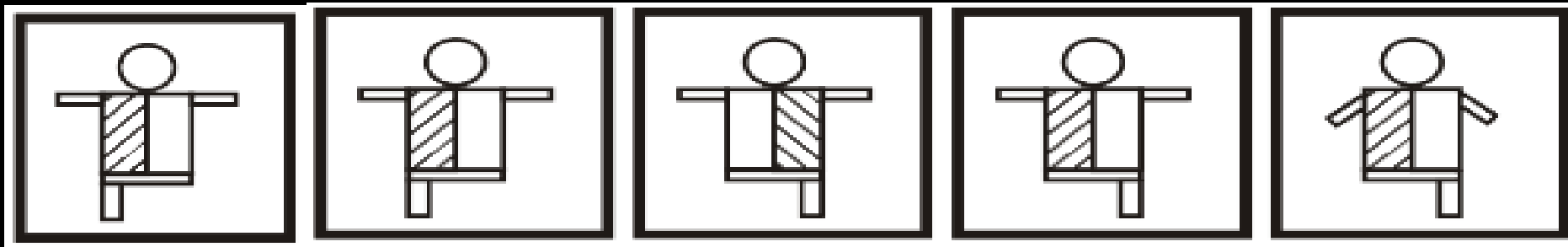
- A. 23
- B. 27
- C. 28
- D. 22



SSC GD 2022-23



- Choose the correct mirror image of the given figure (X) from amongst the four alternatives ?
- चार विकल्पों में से दी गई आकृति (X) की सही दर्पण छवि चुनें?



X

A

B

C

D





SSC GD 2022-23



- Find the next term.
- अगला पद ज्ञात कीजिए।
- 2, 3, 8, 27, 112, ?



- A. 226
- B. 339
- C. 452
- D. 565



SSC GD 2022-23



- Find the next term.
- अगला पद ज्ञात कीजिए।
- 1, 2, 6, 15, 31, ?



A. 56

B. 32

C. 65

D. 34