

SSC CPO 2022



REASONING

MEMORY BASED PAPER

ALL SHIFTS | 09th NOV 2022

BY MANDEEP MAHENDRAS

LIVE | 05:30 PM





UPCOMING ONLINE BATCHES

November 2022

02 NOV 2022

08:00 AM to 10:00 AM

BANK ONLINE LIVE CLASS

05:30 PM to 07:30 PM

SSC ONLINE LIVE CLASS

BILINGUAL

09 NOV 2022

07:30 PM to 09:30 PM

BANK ONLINE LIVE CLASS

08:00 AM to 10:00 AM

SSC ONLINE LIVE CLASS

BILINGUAL

16 NOV 2022

01:00 PM to 03:00 PM

BANK ONLINE LIVE CLASS

03:00 PM to 05:00 PM

SSC ONLINE LIVE CLASS

BILINGUAL

23 NOV 2022

05:30 PM to 07:30 PM

BANK ONLINE LIVE CLASS

01:00 PM to 03:00 PM

SSC ONLINE LIVE CLASS

BILINGUAL

30 NOV 2022

10:30 AM to 12:30 PM

BANK ONLINE LIVE CLASS

07:30 PM to 09:30 PM

SSC ONLINE LIVE CLASS

BILINGUAL

02 NOV 2022

06:30 PM to 08:30 PM

BANK ONLINE LIVE CLASS

BENGALI+ENGLISH

23 NOV 2022

04:00 PM to 06:00 PM

BANK ONLINE LIVE CLASS

BENGALI+ENGLISH



www.mahendras.org •  7052477777/7052577777



**SBI | IBPS | SSC |
ALL INSURANCE EXAMS**



COMPREHENSION CRISPS

DAY-01

MUDDLED BUT UNTROUBLED

BY SHALINI MAHENDRAS

LIVE | 10:00 PM



- Select the option that represents the correct order of the given words as they would appear in an English dictionary .
- उस विकल्प का चयन करें जो दिए गए शब्दों के सही क्रम का प्रतिनिधित्व करता है जैसा कि वे एक अंग्रेजी शब्दकोश में दिखाई देंगे।
- 1-Flexible
- 2-Flower
- 3-Flooring
- 4-Flood
- 5-Floater



A. 3, 5, 4, 2, 1

 B. 1, 5, 4, 3, 2

C. 2, 5, 4, 3, 1

D. 1, 5, 3, 4, 2

- In the question below, which one of the given responses would be a meaningful order of the following words?
- नीचे दिए गए प्रश्न में, निम्नलिखित में से कौन सा उत्तर निम्नलिखित शब्दों का अर्थपूर्ण क्रम होगा?

- 1. Selection
- 2. Application
- 3. Probation
- 4. Interview
- 5. Appointment




- 1. 2, 1, 5, 3, 4
- 2. 2, 4, 3, 1, 5
- 3. 2, 4, 1, 5, 3
- 4. 2, 5, 1, 4, 3

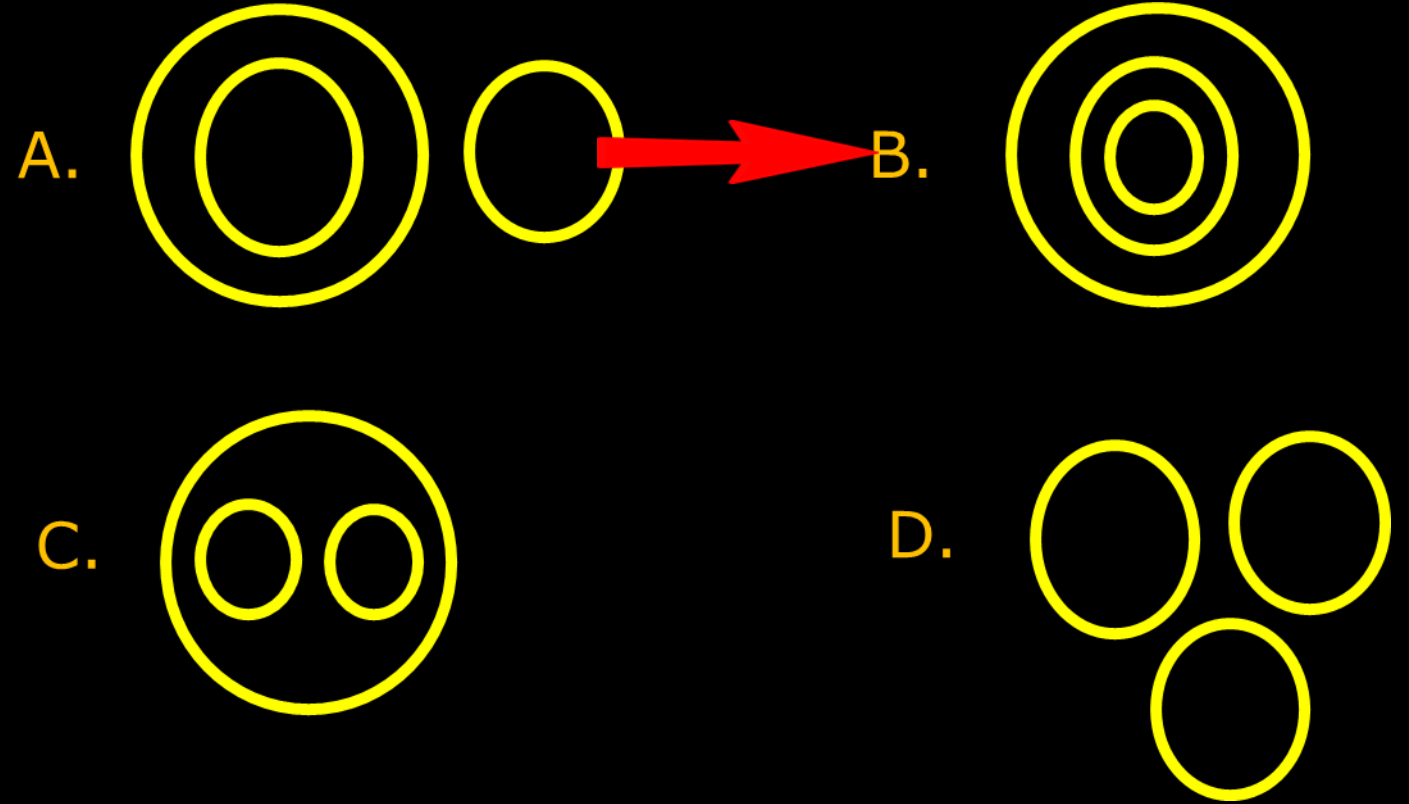
- Study the given pattern carefully and select the number that can replace the question mark(?) in it.
- दिए गए पैटर्न का ध्यानपूर्वक अध्ययन करें और उस संख्या का चयन करें जो उसमें प्रश्न चिह्न (?) को प्रतिस्थापित कर सके।



?	8	11
7	6	5
48	63	72

- A.7
- B.4
-  C.5
- D.6

- Which of the following diagram best represents Rajasthan, Jaipur, Hawamahal relationship?
- निम्नलिखित में से कौन सा आरेख राजस्थान , जयपुर , हवामहल सबसे अच्छे संबंध को दर्शाता है?



- If 17th December 1982 was Saturday, then what day will be 22nd December 1984?
- यदि 17 दिसम्बर 1982 को शनिवार था ,तो 22 दिसम्बर 1984 को कौन सा दिन होगा ?



- A.सोमवार
- B.मंगलवार
- C.बुधवार
- D.रविवार



- Four letter-sets are given, out of which three are alike in some way, and one is different. Select the different letter-set.
- चार अक्षर-समूह दिए गए हैं, जिनमें से तीन किसी न किसी रूप में एक जैसे हैं, और एक भिन्न है। विभिन्न अक्षर-सेट का चयन करें।



- 1. HLNQU
2. BEHKN
3. UXADG
4. CFILO

- F, G, H, I and J are sitting in a line facing south while R, S, T, U and V are sitting in a second line
- parallel to the first line and are facing north. I is second to the right of F, F is opposite to S. H and S
- are diagonally opposite to each other and at the extreme ends. G is opposite to V who is just next to the left of S
- . T who is the second to the left of V, is opposite to J. R is at one end of the line. Which of the following pairs is opposite to each other?
- F, G, H, I और J एक पंक्ति में दक्षिण की ओर मुख करके बैठे हैं जबकि R, S, T, U और V दूसरी पंक्ति में बैठे हैं
- पहली पंक्ति के समानांतर और उत्तर की ओर उन्मुख हैं। I, F के दायें से दूसरे स्थान पर है, F, S के विपरीत है। H और S
- तिरछे एक दूसरे के विपरीत और अंतिम छोर पर हैं। G, V के विपरीत है जो S के बायें ठीक बगल में है
- T, जो V के बायें से दूसरा है, J के विपरीत है। R, रेखा के एक छोर पर है। निम्नलिखित में से कौन सा जोड़ा एक दूसरे के विपरीत है?



1. HU, IV

2. GS, FR

→ 3. HR, IU

4. JR, IT

- Select the option that will fill in the blank and complete the given series.
- उस विकल्प का चयन करें जो रिक्त स्थान को भरेगा और दी गई श्रृंखला को पूरा करेगा।
- ACT, BAW, CYZ, _____, EUF



1. BYC

2. CXC

3. DWC

4. DYC

- 15th January 1964 was Wednesday. What day was 15th January 1963?
- 15 जनवरी 1964 को बुधवार था। 15 जनवरी 1963 को कौन सा दिन था ?



- A. सोमवार
- B. मंगलवार
- C. बुधवार
- D. शुक्रवार

- For a standard clock, the angle between the hour hand and the minute hand What if the clock shows 1:15 AM?
- एक मानक घड़ी के लिए, घंटे की सुई और मिनट की सुई के बीच का कोण क्या होगा यदि घड़ी 1:15 बजे दिखाती है?



A. 55°



B. 52.5°

C. 82.5°

D. 45°

Which number is in opposite plane of 3?

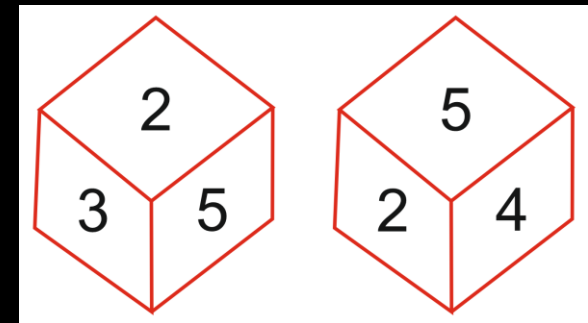
कौन सी संख्या 3 के विपरीत तल में है?

(A) 1

→ (B) 4

(C) 6

(D) 5



Which number is in opposite plane of 2 ?

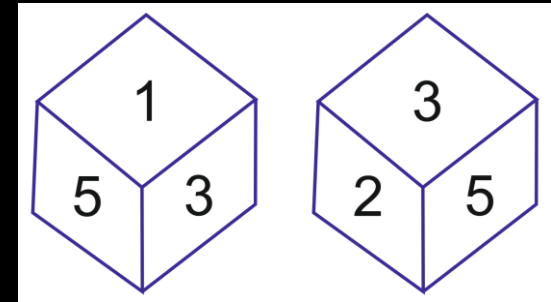
कौन सी संख्या 2 के विपरीत तल में है?

→ (A) 1

(B) 4

(C) 6

(D) 2



Which number is in opposite plane of 2 ?

कौन सी संख्या 2 के विपरीत तल में है?

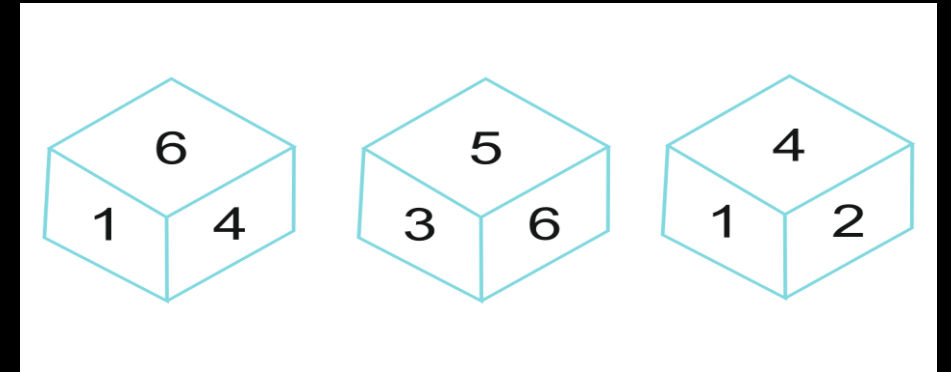
(A) 5



(B) 3

(C) 1

→ (D) 6



- In a certain code language, “IMAGE” is written as “KQBII” and “GHOST” is written as “ILPUX”.
- How will “EARTH” be coded in that language?
- एक निश्चित कूट भाषा में, “IMAGE” को “KQBII” लिखा जाता है और “GHOST” को “ILPUX” लिखा जाता है।
- उसी भाषा में “EARTH” को किस प्रकार कोडित किया जाएगा?



1. GFSVL
2. GEVSL
3. GESXL
4. GESVL



- $A+B=$ A is the father of B
- $A-B=$ A is the mother of B
- $A*B=$ A is the brother of B
- $A\%B=$ A is the sister of B



• then how is Q related to S in 'P + Q * R - S'?...

• $A+B=$ A, B . का पिता है

• $A-B=$ A, B की माता है

• $A*B=$ A, B का भाई है

• $A\%B=$ A, B . की बहन है

• तो 'P + Q * R - S' में Q, S से किस प्रकार संबंधित है?..



a) Husband

b) Uncle

c) Brother

d) Father...

• DICTATE=EJDUBUF

• NATION=????

A. TBHJIT

B. OBGRHO

 C. OBUJPO

D. UTROVU



- Study the following information to answer the given questions.
- A, B, C, D, E, and F are seated in a circle facing opposite direction of the center.
- A is second right of D who is third left of F. C is third to the right of E and is not immediate neighbor of F.
- What is position of C with respect to B?



- दिए गए प्रश्नों के उत्तर देने के लिए निम्नलिखित जानकारी का अध्ययन करें।
- A, B, C, D, E, और F एक वृत्त में केंद्र की विपरीत दिशा की ओर उन्मुख होकर बैठे हैं।
- A, D के दायें दूसरा है जो F के बायें तीसरा है। C, E के दायें से तीसरा है और F का निकटतम पड़ोसी नहीं है।
- B के सन्दर्भ में C का स्थान क्या है?

- (1) 3rd to the right
- (2) 2nd to the right
- (3) 3rd to the left
- (4) None of these



- Who is third to the left of E?
- E के बायें से तीसरा कौन है?



- (1) A
- (2) C
- (3) D
- (4) E

• 709, 708, 699, 674, 625, ?



→ A. 544

B. 562

C. 549

D. 569

• 6, 3, ?, 6, 24, 192



A.6

→ B.3

C.4.5

D.4

• 11, 14, 19, 28, 43, ?



A.76

→ B.66

C.65

D.75

- Forecast : Future :: Regret : ?
- पूर्वानुमान : भविष्य :: पछतावा : ?



(a) Present

(b) Atonement

→ (c) Past

(d) Sins

- Select the option that represents the correct order of the given words as they would appear in an English dictionary.
- उस विकल्प का चयन करें जो दिए गए शब्दों के सही क्रम का प्रतिनिधित्व करता है जैसा कि वे एक अंग्रेजी शब्दकोश में दिखाई देंगे।
- 1. Understand
- 2. Untie
- 3. Uncle
- 4. University
- 5. Unlimited
- 6. Unknown

- 1. 3, 1, 4, 6, 5, 2
2. 1, 3, 4, 6, 5, 2
3. 1, 4, 3, 6, 5, 2
4. 3, 1, 6, 4, 5, 2



- A boy starts a bike trip from Point O and heads 15 km northwards to reach Point I. From there he takes a right and rides 10 km to Point J. He then takes a left and rides 5 km to Point D. Then he takes another left and travels 10 km to Point L. At Point L he takes a left and travels 15 km to his destination Point S. How far and in which direction is he from the starting point?
- एक लड़का बिंदु O से बाइक यात्रा शुरू करता है और बिंदु I पर पहुंचने के लिए 15 किमी उत्तर की ओर जाता है। वहां से वह दाएं मुड़ता है और बिंदु J तक 10 किमी की सवारी करता है। फिर वह बाएं मुड़ता है और बिंदु D तक 5 किमी की सवारी करता है। फिर वह दूसरा लेता है बाएं और बिंदु L तक 10 किमी की यात्रा करता है। बिंदु L पर वह बाएं मुड़ता है और अपने गंतव्य बिंदु S तक 15 किमी की यात्रा करता है। वह प्रारंभिक बिंदु से कितनी दूर और किस दिशा में है?



1. 5 km North

2. 10 km South

3. 15 km East

4. 5 km South

SSC CPO 2022



GS/GK

MEMORY BASED PAPER

ALL SHIFTS | 09th NOV 2022

BY ASHUTOSH MAHENDRAS

LIVE | 06:30 PM

