



# Mission Selection - SSC 2024



## सफलता का महामंत्र

### DAY-13

# TOP 25 QUESTIONS

## अब तो Selection पक्का है

## REASONING

LIVE

07:00 PM





# MISSION SELECTION - SSC 2024

Q.1 Select the letter that can replace the question mark (?) in the following series.

उस अक्षर का चयन करें जो निम्नलिखित श्रृंखला में प्रश्न चिह्न (?) को प्रतिस्थापित कर सकता है।

W, Q, ?, H, E, C



(A) K

(B) N

(C) L

(D) M



## MISSION SELECTION - SSC 2024

**Q.3** If all the letters in the word **SCRIMMAGE** are arranged as they appear in English alphabetical order, the position of how many letters will remain unchanged after rearrangement?

यदि **SCRIMMAGE** शब्द के सभी अक्षरों को अंग्रेजी वर्णमाला के क्रम में व्यवस्थित किया जाए, तो पुनर्व्यवस्थित करने के बाद कितने अक्षरों की स्थिति अपरिवर्तित रहेगी?



- (A) None
- (B) One
- (C) Two
- (D) Three



# MISSION SELECTION - SSC 2024

**Q.4 If GOT is coded as 126 then what will be the code for CARD?**

**यदि GOT को 126 के रूप में कोडित किया गया है तो CARD के लिए कोड क्या होगा?**



- (A) 104**
- (B) 102**
- (C) 68**
- (D) 168**



## MISSION SELECTION - SSC 2024

Q.5 If 'MACHINE' is coded as 19-7-9-14-15-20-11, then how will you code 'DANGER' in the same code language?  
यदि 'MACHINE' को 19-7-9-14-15-20-11 के रूप में कोडित किया गया है, तो आप उसी कोड भाषा में 'DANGER' को कैसे कोडित करेंगे?



- (A) 11-7-20-16-11-24
- (B) 13-7-20-9-11-25
- (C) 10-7-20-13-11-24
- (D) 13-7-20-10-11-25



## MISSION SELECTION - SSC 2024

**Q.6 Khan moves 8 km from East to West direction, then he turns to his right and moves 2 km. Again he turns to his right and moves 5 km. In which direction is he from his starting point?**

खान पूर्व से पश्चिम दिशा की ओर 8 किमी चलता है, फिर वह अपनी दाईं ओर मुड़ता है और 2 किमी चलता है। वह फिर से अपनी दाईं ओर मुड़ता है और 5 किमी चलता है। वह अपने प्रारंभिक बिंदु से किस दिशा में है?



- (A) South-East**
- (B) North-West**
- (C) West**
- (D) North**



## MISSION SELECTION - SSC 2024

**Q.7 Rohan's rank is seventh from the top and twenty-sixth from the bottom in a class. How many students are there in the class?**

**एक कक्षा में रोहन की रैंक ऊपर से सातवीं और नीचे से छब्बीसवीं है। कक्षा में कितने छात्र हैं?**



- (A) 31**
- (B) 32**
- (C) 33**
- (D) 34**



## MISSION SELECTION - SSC 2024

Q.8 A is B's Sister. C is B's Mother. D is C's Father. E is D's Mother. Then how is A related to D?

A, B की बहन है। C, B की माँ है। D, C का पिता है। E, D की माँ है। तो फिर A, D से कैसे संबंधित है?



- (A) Grandmother
- (B) Grandfather
- (C) Daughter
- (D) Granddaughter





## MISSION SELECTION - SSC 2024

**Q.9 Statements :** Some leaders are voters./ कुछ नेता मतदाता हैं.

All donkeys are monkeys./ सभी गधे बंदर हैं

Some voters are not donkeys./कुछ मतदाता गधे नहीं हैं.

**Conclusions :** I. Some voters are not monkeys./ कुछ मतदाता बंदर नहीं हैं.

II. Some monkeys are not donkeys./ कुछ बंदर गधे नहीं हैं.

III. Some voters are leaders. /कुछ मतदाता नेता हैं।

IV. No monkeys is voters./ कोई बंदर मतदाता नहीं है.



(A) Only III follows

(B) Only III and IV follow

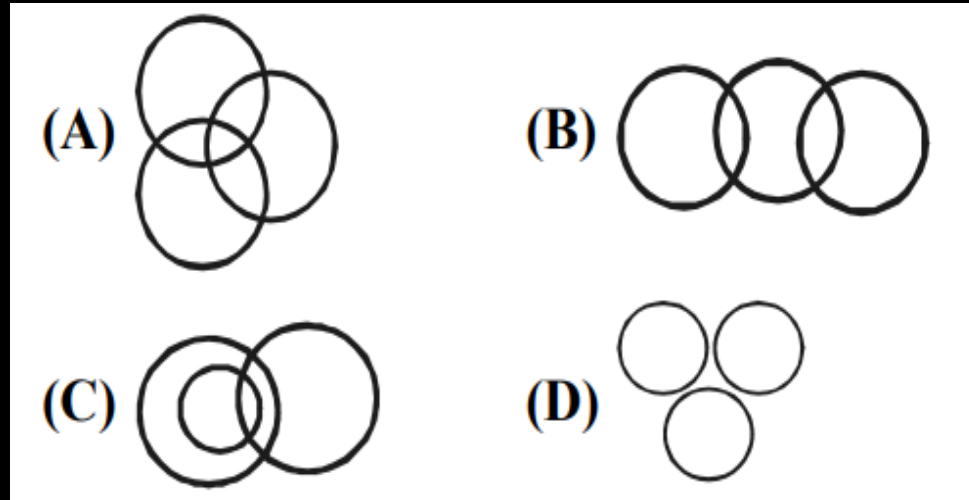
(C) Only I and IV follow

(D) Only I and III follow



# MISSION SELECTION - SSC 2024

**Q.10 Which of the following figures represent ?  
निम्नलिखित में से कौन सा चित्र दर्शाता है?  
Female, Mothers and Doctors?**





## MISSION SELECTION - SSC 2024

**Q.11 Shiva, Satish, Amar and Praveen are playing cards. Amar is just to the right of Satish, who is just to the right of Shiva. Who is to the immediate left of Praveen?**

शिव, सतीश, अमर और प्रवीण ताश खेल रहे हैं। अमर, सतीश के ठीक दाईं ओर है, जो शिव के ठीक दाईं ओर है। प्रवीण के निकटतम बायीं ओर कौन है?



- (A) Amar
- (B) Satish
- (C) Shiva
- (D) Can't be determined

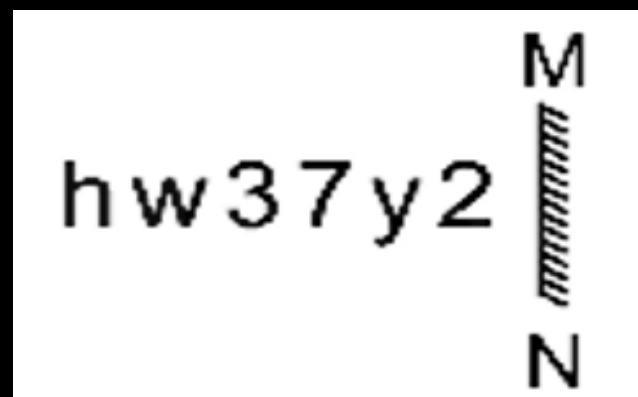


# MISSION SELECTION - SSC 2024



Q.12 Select the correct mirror image of the given combination when the mirror is placed at MN as shown.

दिए गए संयोजन के सही दर्पण प्रतिबिंब का चयन कीजिए जब दर्पण को MN पर रखा जाता है, जैसा कि दिखाया गया है।



- a)
- b)
- c)
- d)



## MISSION SELECTION - SSC 2024



**Q.13** The second number in the given number performing certain mathematical operation(s) on the first number. The same operation(s) are followed in all the number pairs except one. Find that odd number pair.

दी गई संख्या में दूसरी संख्या, पहली संख्या पर कुछ गणितीय संक्रिया/संक्रियाएं कर रही है। एक को छोड़कर सभी संख्या युग्मों में समान संक्रिया/संक्रियाओं का अनुसरण किया जाता है। विषम संख्या युग्म ज्ञात कीजिए।

a) 47 : 2116

b) 53 : 2703

c) 24 : 528

d) 68 : 4488



## MISSION SELECTION - SSC 2024

Q .14 In a certain code language, 'BASKET' is coded as '211911520' and 'BOX' is coded as '21524'. How will 'COVER' be coded in that language?

एक निश्चित कूट भाषा में, 'BASKET' को '211911520' और 'BOX' को '21524' के रूप में कूटबद्ध किया जाता है। उसी कूट भाषा में 'COVER' को कैसे कूटबद्ध किया जाएगा?

a) 31522519

b) 31522518

c) 21522519

d) 31822518





## MISSION SELECTION - SSC 2024

Q.15 In certain code language, 'TRAIN' is written as 'WUDLQ' and 'ROAD' is written as "URDG". How will 'TAXI' be written in that language?

एक निश्चित कूट भाषा में, 'TRAIN' को 'WUDLQ' और 'ROAD' को "URDG" के रूप में लिखा जाता है। उसी कूट भाषा में 'TAXI' को कैसे लिखा जाएगा?



a) WDAL

b) WEAL

c) WDBL

d) WFAL



## MISSION SELECTION - SSC 2024



Q16 .The second number in the given number pairs is obtained by performing certain mathematical operation(s) on the first number. The same operation(s) are followed in all the number pairs EXCEPT one. Find that odd number pair.

दी गई संख्या युग्मों में दूसरी संख्या पहली संख्या पर कुछ गणितीय संक्रिया/संक्रियाएँ करके प्राप्त की जाती है। एक को छोड़कर सभी संख्या युग्मों में समान संक्रिया/संक्रियाओं का अनुसरण किया जाता है। विषम संख्या युग्म ज्ञात कीजिए।

a) 48 : 168

b) 52 : 182

c) 26 : 91

d) 34 : 118





## MISSION SELECTION - SSC 2024

Q.17 If 01 March 2012 was Thursday, then was the day of the week on 01 February 2016?

यदि 01 मार्च 2012 को गुरुवार था, तब 01 फरवरी 2016 को सप्ताह का कौन-सा दिन था?



- a) रविवार / Sunday
- b) सोमवार / Monday
- c) शनिवार / Saturday
- d) शुक्रवार / Friday



# MISSION SELECTION - SSC 2024

**Q.18** Select the correct combination of mathematical signs to sequentially replace the \* signs and to balance the given equation.

दिए गए समीकरण को संतुलित बनाने के लिए \* चिह्नों को क्रमिक रूप से प्रतिस्थापित करने के लिए गणितीय चिह्नों के सही संयोजन का चयन कीजिए।

$$57 * 35 * 7 * 14 * 2 * 43$$



a)  $\times, +, \div, -, =$

b)  $+, -, \times, \div, =$

c)  $+, \div, -, \times, =$

d)  $-, \div, +, \times, =$



## MISSION SELECTION - SSC 2024

Q19 .Select the option that is related to the fifth term in the same way as the second term is related to the first term and fourth term related to third term.

उस विकल्प का चयन कीजिए जो पाँचवें पद से उसी प्रकार से संबंधित है जिस प्रकार से दूसरा पद, पहले पद से और चौथा पद, तीसरे पद से संबंधित है।

$$786 : 7 :: 645 : 5 :: 282 : ?$$



a) 6

b) 5

c) 8

d) 4



## MISSION SELECTION - SSC 2024

Q20 .Select the option that is related to the fifth number in the same way as the second number is related to the first number and the fourth number is related to the third number.

उस विकल्प का चयन कीजिए जो पांचवीं संख्या से उसी प्रकार संबंधित है जिस प्रकार दूसरी संख्या पहली संख्या से और चौथी संख्या तीसरी संख्या से संबंधित है।

9 : 109 :: 7 : 71 :: 13 : ?



a) 238

b) 229

c) 218

d) 209



# MISSION SELECTION - SSC 2024



Q 21 .In a certain code language, 'MATHS' is written as '13320819' and 'HINDI' is written as '82714427'. How will 'PHYSICS' be written in that language"

एक निश्चित कूट भाषा में 'MATHS' को '13320819' और 'HINDI' को '82714427' के रूप में लिखा जाता है। उसी कूट भाषा में 'PHYSICS' को किस रूप में लिखा जाएगा"?

a) 168251928319

b) 168251923319

c) 168251937319

d) 168251927319



# MISSION SELECTION - SSC 2024

Q. 22 Which of the following numbers will replace the question mark(?) in the given series?

निम्नलिखित में से कौन सी संख्या दी गई श्रृंखला में प्रश्न चिह्न (?) को प्रतिस्थापित करेगी?

45, 55, 72, 97, 131, ?



a) 183

b) 189

c) 175

d) 179



## MISSION SELECTION - SSC 2024

Q 23 . Select the option that is related to the fourth term in the same way as the first term is related to the second term and the fifth term is related to the sixth term

उस विकल्प का चयन कीजिए जो चौथे पद से उसी प्रकार संबंधित है जिस प्रकार पहला पद दूसरे पद से और पांचवां पद छठे पद से संबंधित है।

$$8 : 512 :: ? : 1728 :: 18 : 5832$$



a) 8

b) 14

c) 12

d) 9



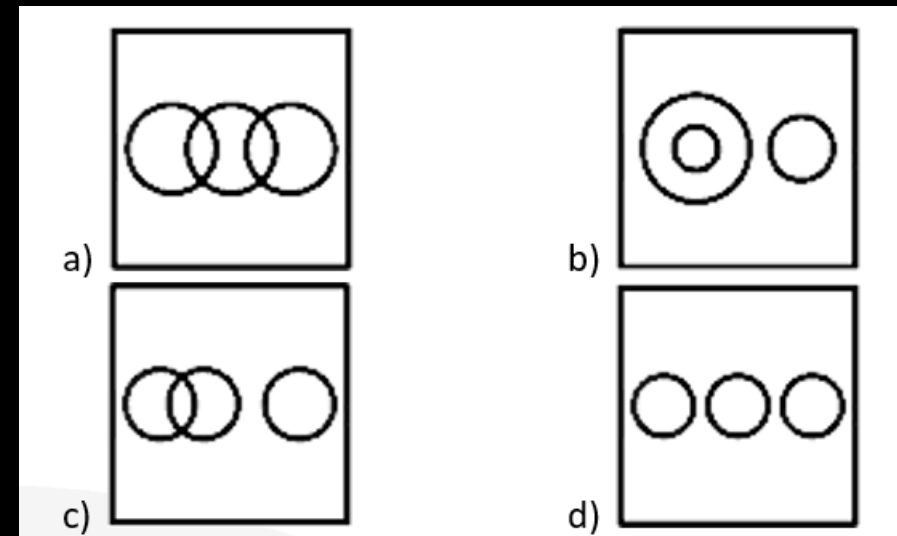
# MISSION SELECTION - SSC 2024

Q 24 .Select the Venn diagram that best illustrates the relationship between the following classes.

उस वेन आरेख का चयन कीजिए जो निम्नलिखित वर्गों के बीच के संबंध को सर्वोत्तम रूप से दर्शाता है।

Hand, Feet, Chin

हाथ, पैर, ठोड़ी







## MISSION SELECTION - SSC 2024

Q.25 Select the option that represents the letters that when sequentially placed from left to right in the blanks below, will complete the letter series.

उस विकल्प का चयन कीजिए जो उन अक्षरों को दर्शाता है, जिसे नीचे दिए गए रिक्त स्थान में क्रमिक रूप से बाएं से दाएं रखने पर अक्षर-श्रृंखला पूर्ण हो जाएगी।

m n \_ m n \_ o m \_ m \_ n n o m \_ m m \_ n o



a) m n n m n n

b) o n n m n n

c) m n o m n n

d) m n n m o o



# Mission Selection - SSC 2024



## सफलता का महामंत्र

### DAY-14

# TOP 25 QUESTIONS

## अब तो Selection पक्का है

## REASONING

LIVE

07:00 PM





# SSC MTS 2023 – MOCK TEST 4 (REASONING)

THANK YOU