



SSC GD CONSTABLE 2023



सफलता का महामंत्र **DAY-10**

Non Verbal REASONING

REASONING

LIVE

07:00 PM

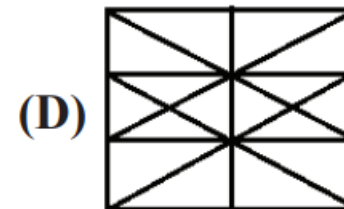
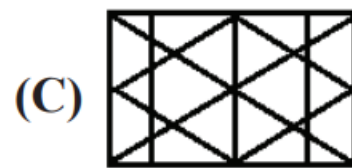
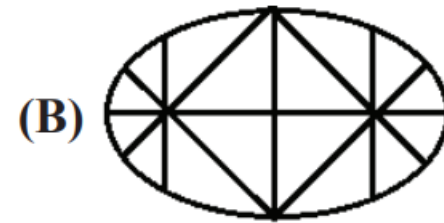
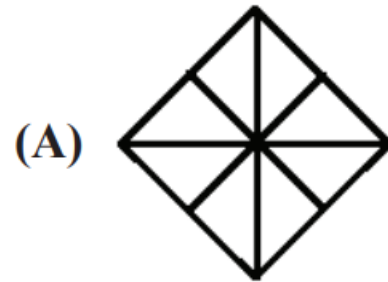
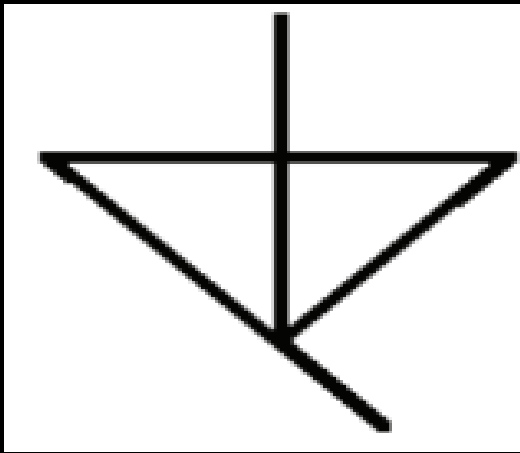




Q.1 Select the option in which the given figure is embedded.

उस विकल्प का चयन करें जिसमें दी गई आकृति सन्निहित है।

(Rotation is not allowed)/ (रोटेशन की अनुमति नहीं है)



(A) A

(B) B

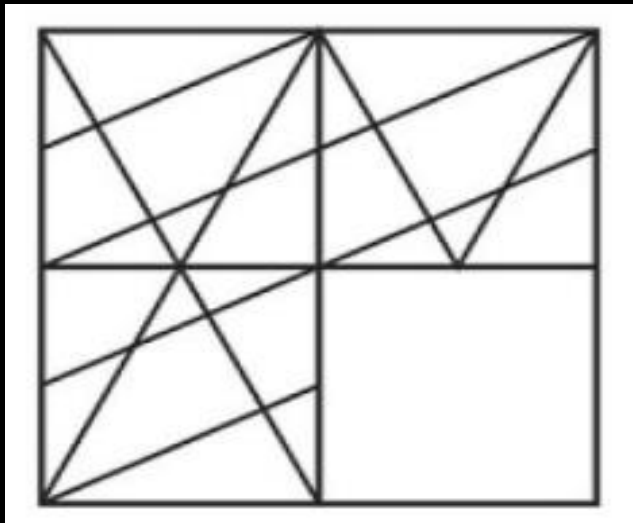
(C) C

(D) D



Q.2 Which answer figure will complete the pattern in the question figure?

कौन सी उत्तर आकृति प्रश्न आकृति के पैटर्न को पूरा करेगी?



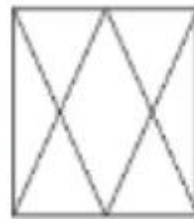
(A)



(B)



(C)



(D)



(A) A

(B) B

(C) C

(D) D

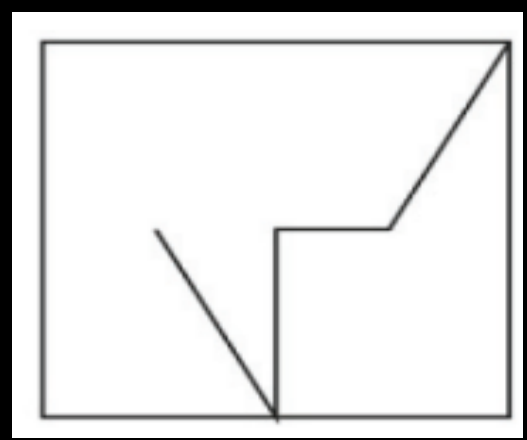


SSC GD 2023 (सफलता का महामंत्र)



Q.3 From the given options select the one in which the question figure is hidden / embedded.

दिए गए विकल्पों में से उस विकल्प का चयन करें जिसमें प्रश्न आकृति छिपी/निहित है।



(A)

(B)

(C)

(D)

- (A) A
- (B) B
- (C) C
- (D) D



Q.4 Select the option in which Figure-X is embedded. (Rotation is not allowed)

उस विकल्प का चयन करें जिसमें चित्र-X सम्बन्धित है। (रोटेशन की अनुमति नहीं है)

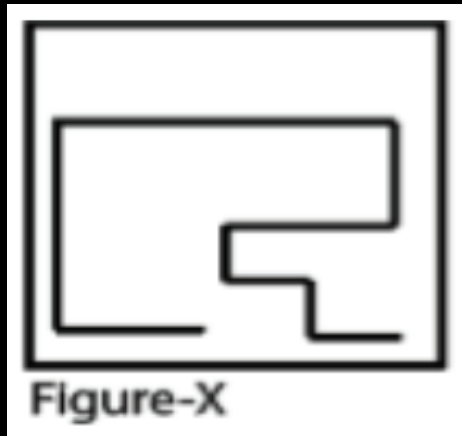
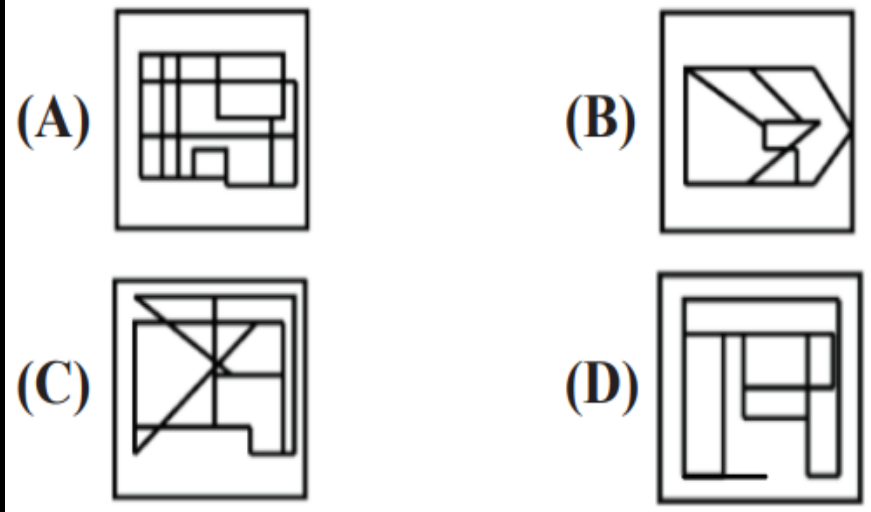


Figure-X



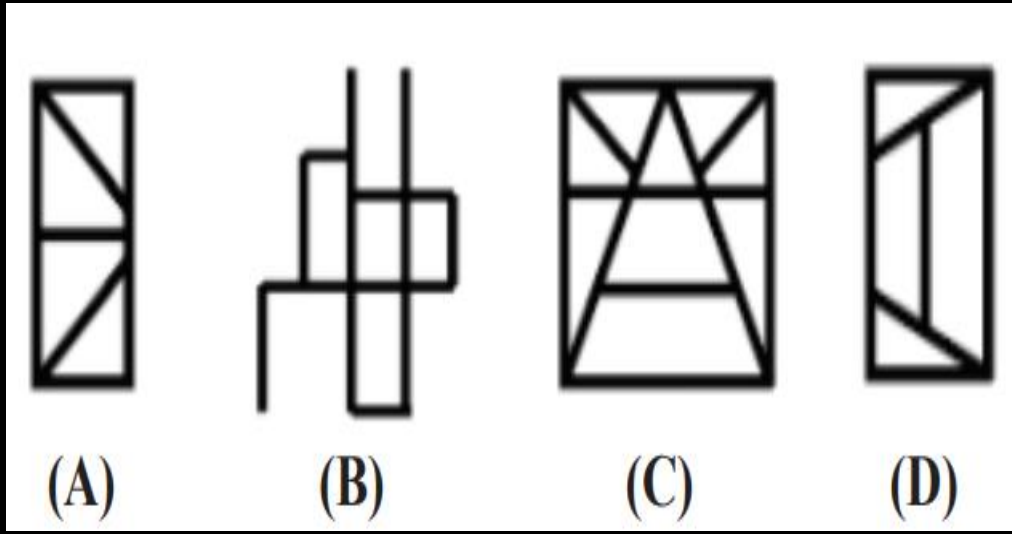
- (A) A
- (B) B
- (C) C
- (D) D



SSC GD 2023 (सफलता का महामंत्र)



Q.5 Select the option figure that is embedded in the given figure (rotation is NOT allowed).
उस विकल्प आकृति का चयन करें जो दी गई आकृति में अंतर्निहित है (रोटेशन की अनुमति नहीं है)।

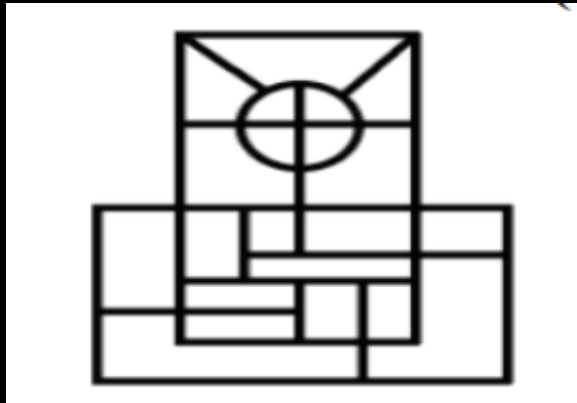


- (A) A
- (B) B
- (C) C
- (D) D



Q.6 Select the option that is embedded in the given figure (rotation is NOT allowed).

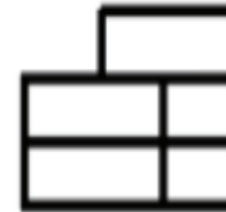
दिए गए चित्र में अंतर्निहित विकल्प का चयन करें (रोटेशन की अनुमति नहीं है)।



(A)



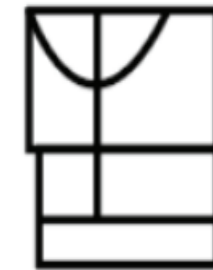
(B)



(C)



(D)



(A) A

(B) B

(C) C

(D) D

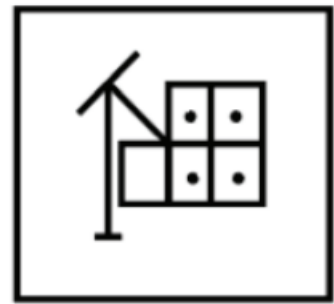
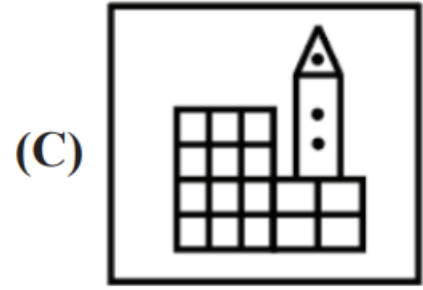
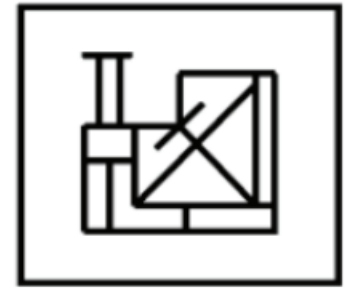
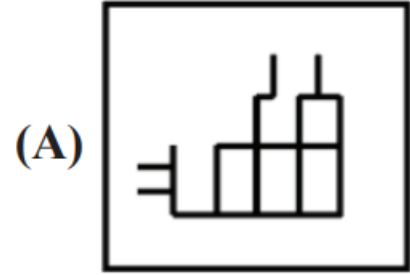


SSC GD 2023 (सफलता का महामंत्र)



Q.7 Select the option in which the given figure is embedded (Rotation is NOT allowed).

उस विकल्प का चयन करें जिसमें दी गई आकृति अंतर्निहित है (रोटेशन की अनुमति नहीं है)।

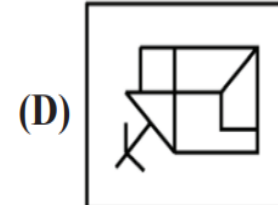
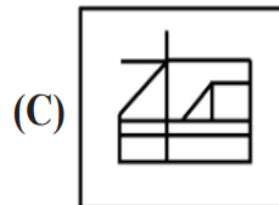
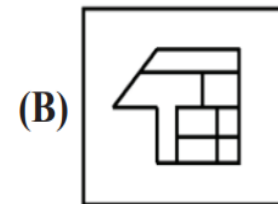
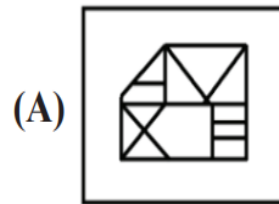
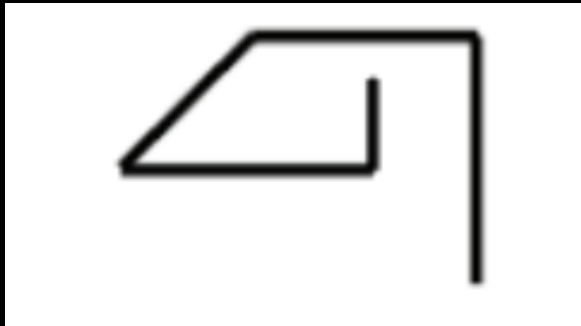


- (A) A
- (B) B
- (C) C
- (D) D



Q.8 Select the option in which the given figure is embedded (Rotation is NOT allowed).

उस विकल्प का चयन करें जिसमें दी गई आकृति अंतर्निहित है (रोटेशन की अनुमति नहीं है)।



(A) A

(B) B

(C) C

(D) D

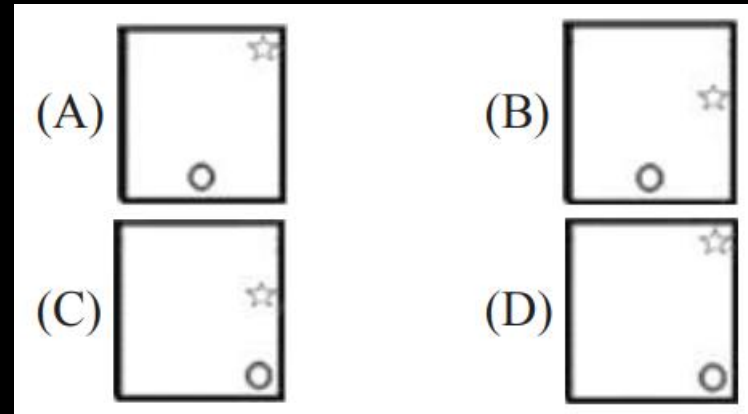
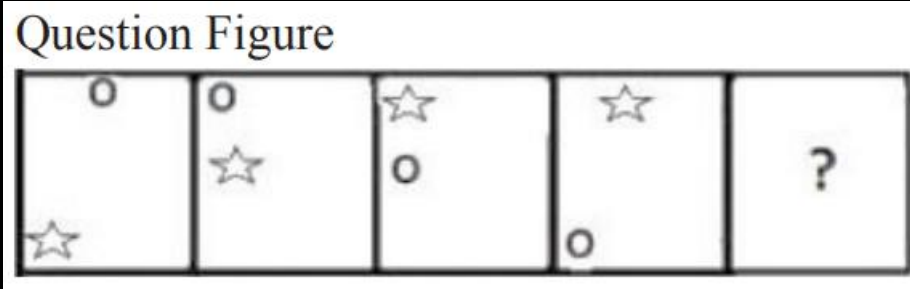


SSC GD 2023 (सफलता का महामंत्र)



Q.9 Select the figure that can replace the question mark (?) in the following series.

उस आकृति का चयन करें जो निम्नलिखित श्रृंखला में प्रश्न चिह्न (?) को प्रतिस्थापित कर सकती है।

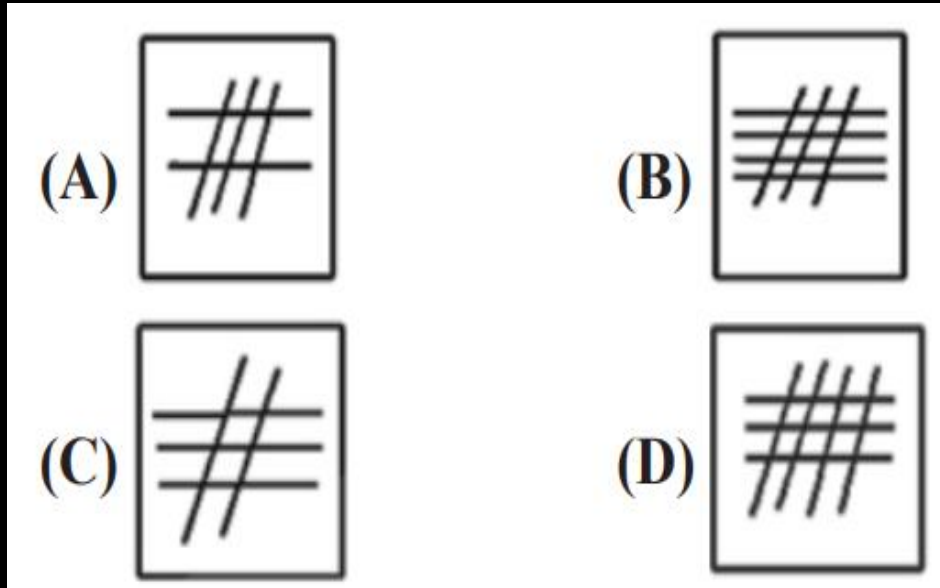
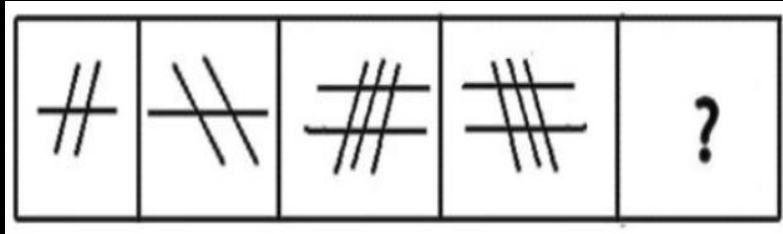


- (A) A
- (B) B
- (C) C
- (D) D



Q.10 Select the figure that will come next in the following figure series.

उस आकृति का चयन करें जो निम्नलिखित आकृति श्रृंखला में आगे आएगी।

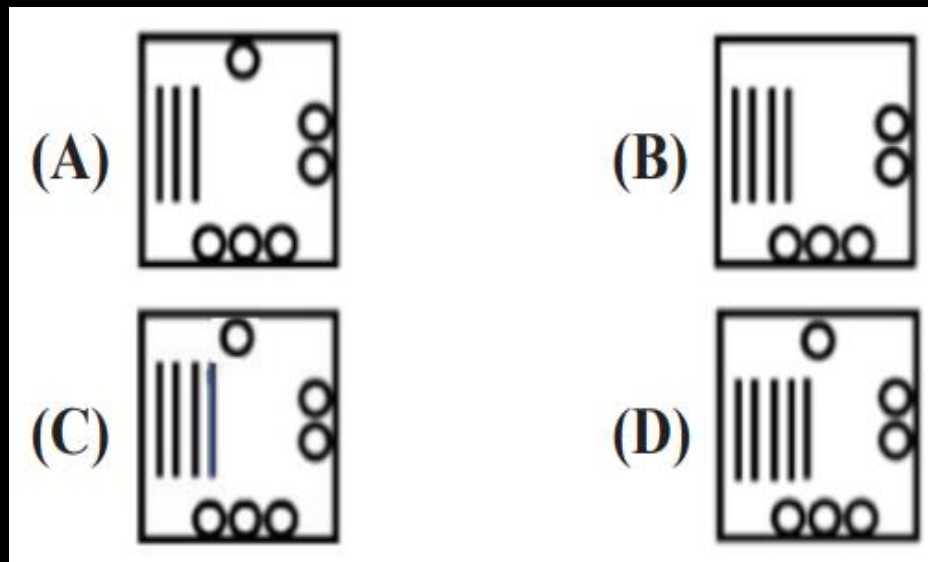
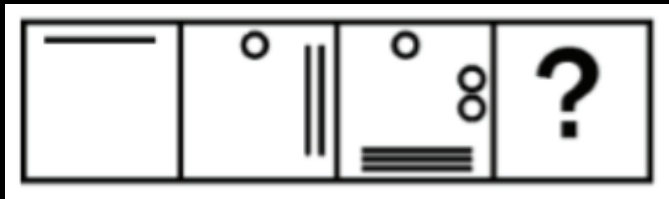


- (A) A
- (B) B
- (C) C
- (D) D



Q.11 Select the figure that will come next in the following figure series.

उस आकृति का चयन करें जो निम्नलिखित आकृति श्रृंखला में आगे आएगी।



- (A) A
- (B) B
- (C) C
- (D) D



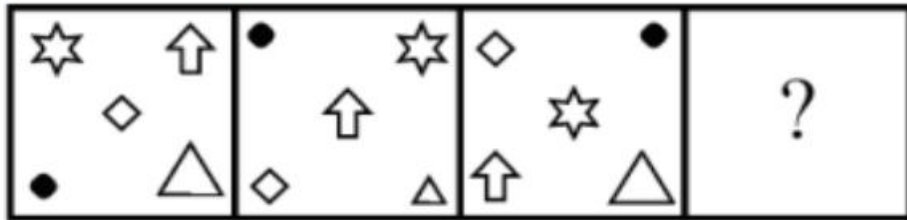
SSC GD 2023 (सफलता का महामंत्र)



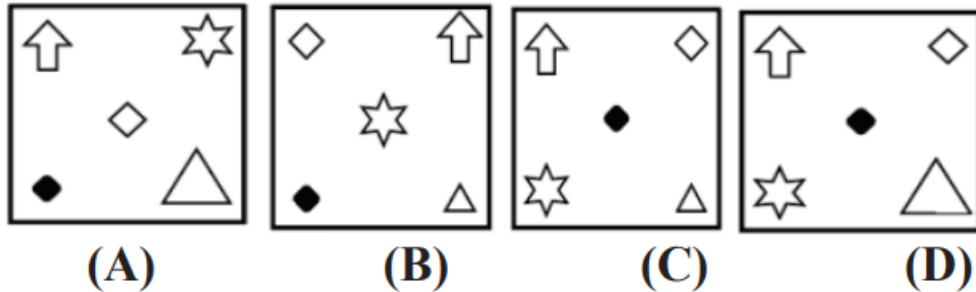
Q.12 Select the figure from among the given options that can replace the question mark (?) in the following series.

दिए गए विकल्पों में से उस आकृति का चयन करें जो निम्नलिखित श्रृंखला में प्रश्न चिह्न (?) को प्रतिस्थापित कर सके

Question Figure



Answer Figure



(A)

(B)

(C)

(D)

(A) A

(B) B

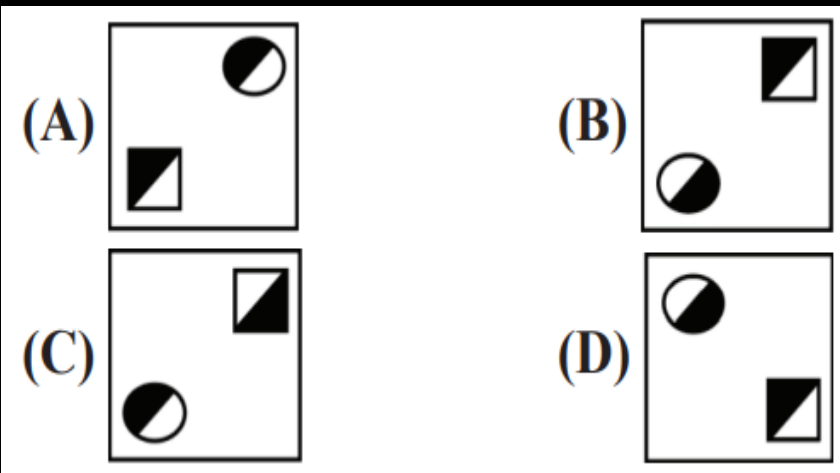
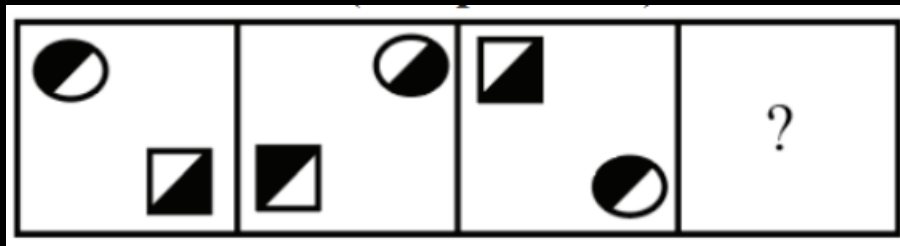
(C) C

(D) D



Q.14 Select the figure that will come next (in place of the question mark [?]) in the following figure series.

निम्नलिखित आकृति श्रृंखला में आगे आने वाली आकृति (प्रश्न चिह्न [?] के स्थान पर) का चयन करें।



- (A) A
- (B) B
- (C) C
- (D) D

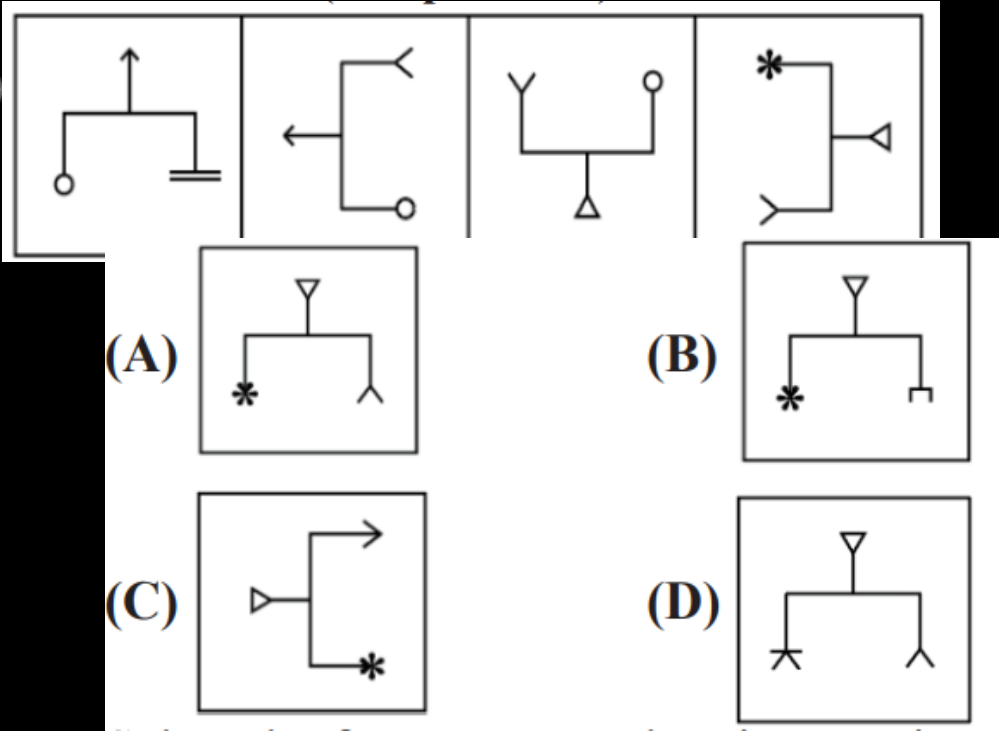


SSC GD 2023 (सफलता का महामंत्र)



Q.15 Select the figure that will come next in the following series.

उस आकृति का चयन करें जो निम्नलिखित श्रृंखला में आगे आएगी।



- (A) A
- (B) B
- (C) C
- (D) D



SSC GD 2023 (सफलता का महामंत्र)



Q16 A paper is folded and cut as shown in the following figure (X, Y and Z) .
 Select the option that depicts how this paper will appear when unfolded?

एक कागज को मोड़ा और काटा जाता है जैसा कि निम्नलिखित चित्र (X, Y और Z) में दिखाया गया है। उस विकल्प का चयन करें जो दर्शाता है कि यह कागज खोलने पर कैसा दिखाई देगा?

- (A)
- (B)
- (C)
- (D)

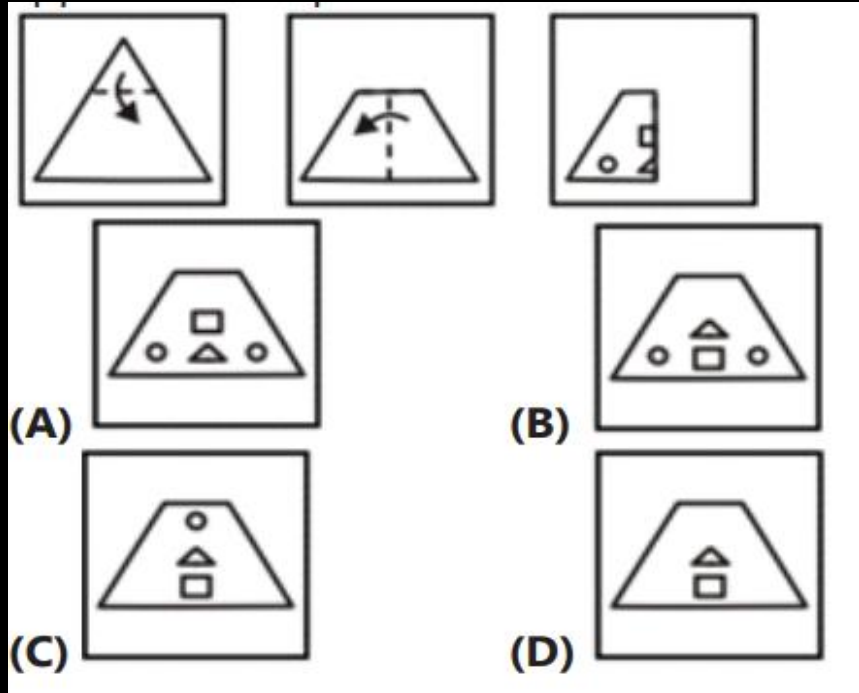


SSC GD 2023 (सफलता का महामंत्र)



Q17 A paper is folded and cut as shown in the following figure . Select the option that depicts how this paper will appear when unfolded?

एक कागज को मोड़ा और काटा जाता है जैसा कि निम्नलिखित चित्र में दिखाया गया है। उस विकल्प का चयन करें जो दर्शाता है कि यह कागज खोलने पर कैसा दिखाई देगा?



- (A)
- (B)
- (C)
- (D)

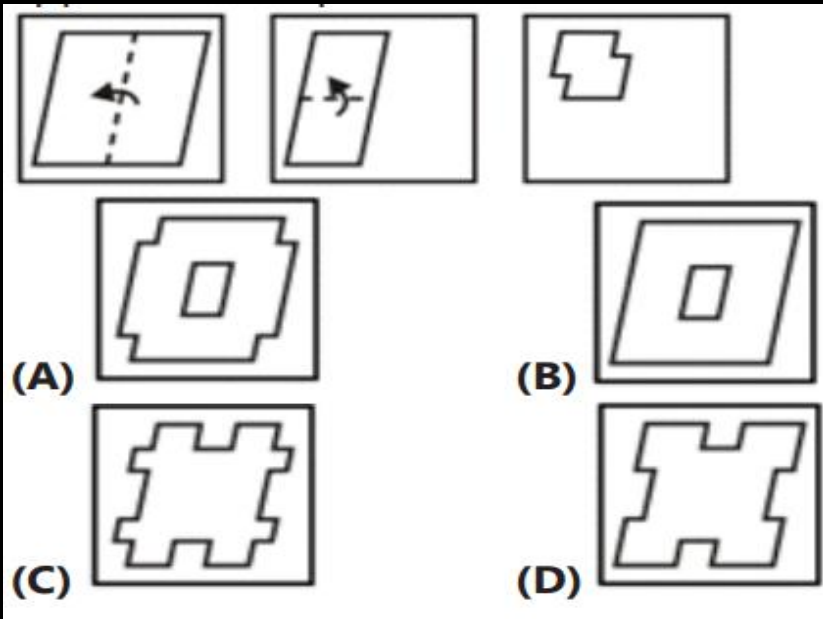


SSC GD 2023 (सफलता का महामंत्र)



Q18 A paper is folded and cut as shown in the following figure . Select the option that depicts how this paper will appear when unfolded?

एक कागज को मोड़ा और काटा जाता है जैसा कि निम्नलिखित चित्र (X, Y और Z) में दिखाया गया है। उस विकल्प का चयन करें जो दर्शाता है कि यह कागज खोलने पर कैसा दिखाई देगा?



- (A)
- (B)
- (C)
- (D)



SSC GD 2023 (सफलता का महामंत्र)



Q.19 From the given answer figures, select the one in which the question is hidded/embedded. (Rotation is not allowed)

दिए गए उत्तर आकृतियों में से, उस उत्तर आकृति का चयन करें जिसमें प्रश्न छिपा/अंतर्निहित है। (रोटेशन की अनुमति नहीं है)

P

(A)

(B)

(C)

(D)

- (A)
- (B)
- (C)
- (D)



SSC GD 2023 (सफलता का महामंत्र)



Q.20 From the given answer figures, select the one in which the question is hidded/embedded. (Rotation is not allowed)

दिए गए उत्तर आकृतियों में से, उस उत्तर आकृति का चयन करें जिसमें प्रश्न छिपा/अंतर्निहित है। (रोटेशन की अनुमति नहीं है)

(A)

(B)

(C)

(D)

- (A)
- (B)
- (C)
- (D)



SSC GD 2023 (सफलता का महामंत्र)



Q.21 Select the correct mirror image of the given figure when the mirror is placed at line AB

जब दर्पण को रेखा AB पर रखा जाए तो दी गई आकृति की सही दर्पण छवि का चयन करें

(A)

(B)

(C)

(D)

- (A)
- (B)
- (C)
- (D)



SSC GD 2023 (सफलता का महामंत्र)



Q.22 Select the correct mirror image of the given figure when the mirror is placed at line AB

जब दर्पण को रेखा AB पर रखा जाए तो दी गई आकृति की सही दर्पण छवि का चयन करें

The diagram shows a square containing a figure with a vertical line of symmetry. To the right of the square is a vertical dashed line labeled 'A' at the top and 'B' at the bottom. Below the square are four options labeled (A), (B), (C), and (D).

- (A)
- (B)
- (C)
- (D)



SSC GD 2023 (सफलता का महामंत्र)



Q.23 Select the correct mirror image of the given figure when the mirror is placed to the right of the figure.

दी गई आकृति की सही दर्पण छवि का चयन करें जब दर्पण को आकृति के दाईं ओर रखा जाए।

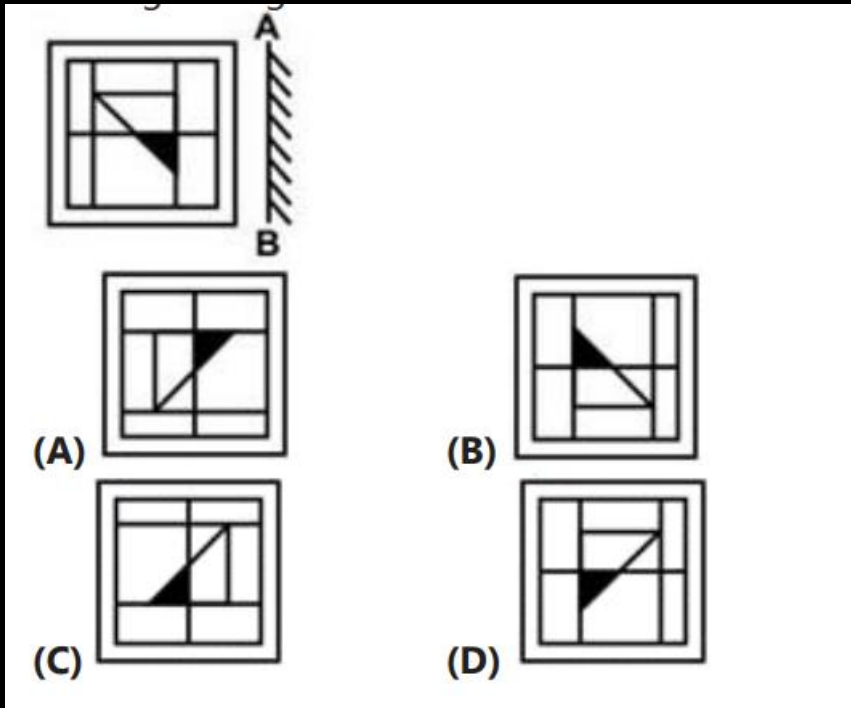
	B	f	D	e	Y	5	3	2
(A)	Ɔ	ɹ	2	Ɔ	Ɔ	Ɔ	Ɔ	Ɔ
(B)	Ɔ	ɹ	Ɔ	Ɔ	Ɔ	Ɔ	Ɔ	Ɔ
(C)	Ɔ	ɹ	Ɔ	Ɔ	Ɔ	Ɔ	Ɔ	Ɔ
(D)	Ɔ	ɹ	Ɔ	Ɔ	Ɔ	Ɔ	Ɔ	Ɔ

- (A)
- (B)
- (C)
- (D)



Q.24 If the mirror is placed on the line AB, then which of the answer figures is the right image of the given figure?

यदि दर्पण को रेखा AB पर रखा जाए, तो कौन सी उत्तर आकृति दी गई आकृति का सही प्रतिबिम्ब है?



- (A)
- (B)
- (C)
- (D)



Q.25 Which answer figure will complete the pattern in the question figure?

कौन सी उत्तर आकृति प्रश्न आकृति के पैटर्न को पूरा करेगी?

- (A)
- (B)
- (C)
- (D)

Join my

TELEGRAM GROUP



@reasoningbymohitsir



Daily PDF of all YT sessions



Discussion / Doubt Solving



Direct Interaction with me



Quiz



Polls





SSC GD 2023 (सफलता का महामंत्र)



THANK YOU