



SSC CHSL 2022-23



REASONING

ALL INDIA MOCK TEST

#6

इससे बाहर कुछ नहीं

BY MANDEEP MAHENDRAS

((())) **LIVE** | 05:30 PM





SSC CHSL (10+2) 2022



@Ravi.1 1 day ago 5 subscribers

2,3 🌱🌱

👍 1 🗨️ Reply

📄 • 1 reply



@abhishekchauhan203 1 day ago 1 subscribers

2,3 is right sir 👍

👍 🗨️ Reply

📄 • 1 reply



@indukumari8754 1 day ago

Sir ssc mts reasoning ka class karwaye sir please 🙏🙏🙏🙏🙏🙏 sir live

👍 🗨️ Reply



@sonalilakhmani2445 1 day ago

Both 2 nd 3 follow

👍 🗨️ Reply



@ajaymakwana2923 17 minutes ago

Only 2_3 follows

👍 🗨️ Reply



@rajibsaha1428 16 hours ago 13 subscribers

HW)
2 & 3 FOLLOW

👍 🗨️ Reply

📄 • 1 reply



@arpitsharma924 1 day ago

Homework Answer (1,2,3)all are correct.

👍 🗨️ Reply



@surbhisinha7315 1 day ago 4 subscribers

Homework question answer 👍 option 2,3 correct

👍 🗨️ Reply

📄 • 1 reply



@user-xw2hd7ei7g 1 day ago 71 subscribers

B Anc C conclusion are True

👍 🗨️ Reply



@Sanchitabasu1291 17 hours ago

H. W.
Opsation... 2,3

SSC CHSL (10+2) 2022



@girrajsinghjadon3602 1 day ago

2&3



Reply



@priyankanayak4111 1 day ago 1 subscribers

Ans.123are follow



Reply



@indukumari8754 1 day ago

2and 3 sir



Reply



▼ • 1 reply



@bipulrana4833 1 day ago

Hw ans. 1.2.3.all right ✓ ✓



Reply



@zikrayasmeen4058 1 day ago

Answer 2&3



Reply



▼ • 1 reply



@suruchijha393 1 day ago

Hw 2,3 answer



Reply



▼ • 1 reply



SSC CHSL (10+2) 2022



- Statement:
- Some red are yellow./कुछ लाल पीले हैं
- Some pink are orange./कुछ गुलाबी नारंगी हैं।
- All red are orange./सभी लाल नारंगी हैं।
- Conclusion :
- Some red are pink./कुछ लाल गुलाबी हैं।
- Some orange are pink./कुछ नारंगी गुलाबी हैं।
- Some yellow are red./कुछ पीले लाल हैं।





SSC CHSL (10+2) 2022



4	5	7
4	6	?
48	89	279



A. 9

A thick red arrow pointing from the left towards the text 'B. 8'.

C. 7

D. None of these




SSC CHSL (10+2) 2022



- M and P walk from their home to the market. They both walk 700m towards west and then take a right turn, walk 100m and then take a 45° anti-clockwise turn to reach the market. In which direction is the market with respect to his house?
- M और P अपने घर से बाजार के लिए चलते हैं। वे दोनों 700m पश्चिम की ओर चलते हैं और फिर दायां मोड़ लेते हैं, 100m चलते हैं और फिर बाजार तक पहुंचने के लिए 45° वामावर्त मोड़ लेते हैं। उनके घर के संबंध में बाजार किस दिशा में है?



- A. in the southeast
- B. in the southwest
-  C. in the northwest
- D. in the northeast



SSC CHSL (10+2) 2022



- If 5th December, 2017 is a Sunday, then what day will it be on 5th December, 2019?
- यदि 5 दिसंबर, 2017 को रविवार है, तब 5 दिसंबर 2019 को कौन-सा दिन होगा?



- A. Monday/सोमवार
- B. Thursday/गुरुवार
- C. Tuesday/मंगलवार
- D. Sunday/रविवार





SSC CHSL (10+2) 2022



- Select the option that is related to the third term in the same way as the second term is related to the first term.
- उस विकल्प का चयन करें जो तीसरे पद से ठीक उसी प्रकार से संबंधित है, जिस प्रकार दूसरा पद, पहले पद संबंधित है।
- 15:50 36: ?



A. 210

B. 190

C. 360


 D. 120



SSC CHSL (10+2) 2022



- Select the option that is related to the third term in the same way as the second term is related to the first term.
- उस विकल्प का चयन करें जो तीसरे पद से ठीक उसी प्रकार से संबंधित है, जिस प्रकार दूसरा पद, पहले पद संबंधित है।
- $7 : 196 :: 12 : ?$



A. 144

B. 432

 C. 576

D. 632



SSC CHSL (10+2) 2022



- In a certain code language, if $23 + 49 = 278$ and $24 + 51 = 410$, then $78 + 61$?
- एक निश्चित कूट भाषा में, यदि $23 + 49 = 278$ है और $24 + 51 = 410$ है, तब $78 + 61$?



A. 428

B. 139

→ C. 842

D. 157



SSC CHSL (10+2) 2022



- Which two signs should be interchanged to make the given equation correct?
- दिए गए समीकरण को सही बनाने के लिए किन दो चिह्नों को आपस में बदला जाना चाहिए?
- $97 \times 23 - 18 + 9 \div 3 = 66$



A. + और -

B. x और ÷

 C. x और +

D. - और -



SSC CHSL (10+2) 2022



- Given below are four words, out of which three words are alike in some way, while one word is different. Choose the odd word.
- नीचे चार शब्द दिए गए हैं, जिनमें से तीन शब्द किसी प्रकार से समान हैं, जबकि एक शब्द भिन्न है। विषम शब्द का चयन कीजिए।



A. FRIEND

→ B. FINGER

C. FINDER

D. REFIN



SSC CHSL (10+2) 2022



- Select the letter-cluster from the given alternatives which can replace the question mark (?) in the following series.
- दिए गए विकल्पों में से उस अक्षर-समूह का चयन करें जो निम्नलिखित श्रृंखला में प्रश्न चिह्न (?) को प्रतिस्थापित कर सकता है।
- BY, FU, JQ, NM, RI, ?



A. UE

B. WD

C. EV

→ D. VE



SSC CHSL (10+2) 2022



- Select the option that shows the letters which when sequentially placed in the spaces given below from left to right will complete the letter-series.
- उस विकल्प का चयन करें जो उन अक्षरों को दर्शाता है, जिसे नीचे दिए गए रिक्त स्थान में क्रमिक रूप से बाएं से दाएं रखने पर अक्षर-श्रृंखला पूर्ण हो जाएगी।
- L _ J _ G _ K _ HG _ KJH _ L _ _ HG



A. KILKLGKI

B. KILKLHK J

→ C. KHLJLGK J

D. KILJLGKJ



SSC CHSL (10+2) 2022



- Select the number from the given alternatives which can replace the question mark (?) in the following series.
- दिए गए विकल्पों में से वह संख्या चुनिए जो निम्नलिखित श्रृंखला में प्रश्नवाचक चिन्ह (?) को प्रतिस्थापित कर सकती है।
- 24, ?, 52, 312, 320



A. 30

B. 42

C. 45

A red arrow pointing to the right, highlighting the correct answer D.48.

D. 48



SSC CHSL (10+2) 2022



- Select the number from the given alternatives which can replace the question mark (?) in the following series.
- दिए गए विकल्पों में से वह संख्या चुनिए जो निम्नलिखित श्रृंखला में प्रश्नवाचक चिन्ह (?) को प्रतिस्थापित कर सकती है।
- 3, 20, 88, 273, ?, 559



→ A. 554

B. 501

C. 472


D. None of these



SSC CHSL (10+2) 2022



- How many squares in this figure?
- इस आकृति में कितने वर्ग हैं?



A. 32

B. 31

C. 29

 D. 30



SSC CHSL (10+2) 2022



- Find the angle between the hour hand of a clock and the minute hand of a clock, when the time is 3.30.
- घड़ी की घंटे की सूई और घड़ी की मिनट की सूई के बीच का कोण ज्ञात कीजिए, जबकि समय 3.30 है।



A. 90

A red arrow pointing to the right, highlighting the correct answer B. 75.

C. 85

D. 84



SSC CHSL (10+2) 2022



- In a family of six persons having two couples, D is sister of E and daughter of F. H, mother of G, is the wife of E and daughter-in-law of J. E's sister's mother is married to F. How is F related to J?
- दो युगल वाले छह व्यक्तियों के परिवार में, D, E की बहन है और F की पुत्री है। G की माता H, E की पत्नी है और J की पुत्रवधू है। E की बहन की माता का विवाह F से हुआ है। F, J से किस प्रकार संबंधित है?



A. Wife/पत्नी

B. father in law/ससुर

→ C. Husband/पति

D. Husband's younger brother/पति का छोटा भाई



SSC CHSL (10+2) 2022



- In a row of students, Rajesh is fifth from the left and Manish is sixth from the right. When they interchange their positions, Rajesh becomes thirteenth from the left. Then the position of Manish to the right is
- एक विद्यार्थियों की पंक्ति में, राजेश बायीं ओर से पांचवा तथा मनीष दांयी ओर से छठा है। जब ये आपस में अपना स्थान बदलते हैं, तो राजेश बायीं ओर से तेहरवा हो जाता है। तो मनीष की दांयी ओर से स्थिति है -



A. 5th

B. 16th

C. 15th

→ D. 14th



SSC CHSL (10+2) 2022



- seven persons A, B, C, D, E, F and G are sitting in a straight line facing north. Only two persons sit left of C and two persons sit between A and B. B sits to the left of A. E is an immediate neighbor to the right of A. Only one person sits to the right of D. F is not an immediate neighbor of B. Who is sitting in the middle?

- सात व्यक्ति A, B, C, D, E, F और G एक सीधी पंक्ति में उत्तर की ओर सम्मुख होकर बैठे हैं। केवल दो व्यक्ति C के बाएं बैठे हैं और दो व्यक्ति A और B के मध्य बैठे हैं। B, A के बाएं बैठा है। E, A के दायें निकटतम पड़ोसी है। केवल एक व्यक्ति D के दाएं बैठा है। F, B का निकटतम पड़ोसी नहीं है। मध्य में कौन बैठा है?

A. C

B. E

C. D

D. A





SSC CHSL (10+2) 2022



- If 4 dozen oranges cost Rs 160, what will be the cost of 3 oranges?
- यदि 4 दर्जन संतरों की लागत 160 रुपये हो, तो 3 संतरों की लागत कितनी होगी?

A. Rs 8

B. Rs 9

C. Rs 11

 D. None of the above

