

SSC CGL 2022-23



REASONING

DAY
17

MAHA MOCK TEST

TARGET 25/25

BY MANDEEP MAHENDRAS

LIVE | 05:30 PM





- 'युद्ध नहीं जिनके जीवन में वो भी बड़े अभागे होंगे ,
- या तो प्रण को तोड़ा होगा या फिर रण से भागे होंगे '

- Ramesh's watch was 5 minutes ahead of the correct time at 3 pm on Sunday and 3 minutes ahead of the correct time at 3 pm on Tuesday, then when did this watch show the correct time?



- रमेश की घड़ी रविवार को दोपहर 3 बजे सही समय से 5 मिनट पहले थी और मंगलवार को दोपहर 3 बजे सही समय से 3 मिनट आगे थी, तो बताएं कि इस घड़ी ने सही समय कब दिखाया?



A. सोमवार सुबह 7 बजे

→ B. सोमवार रात 9 बजे


C. मंगलवार सुबह 7 बजे

D. मंगलवार सुबह 9 बजे

- In a row of boys, if A who is 10th from the left and B who is 9th from the right interchange their positions, then A becomes 15th from the left. Find the number of boys in that row.(SSC CGL TIER1)



- लड़कों की एक पंक्ति में, यदि A जो बायीं ओर से 10वाँ है और B जो दाहिनी ओर से 9वाँ है, अपने स्थान बदल लेते हैं, तो A बायीं ओर से 15वाँ हो जाता है। उस पंक्ति के लड़कों की संख्या बताइए।

 A. 23



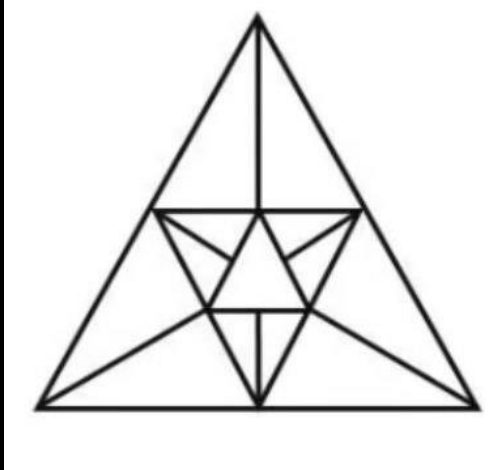
B. 28

C. 27

D. 31

• Find the triangle in this figure

• इस चित्र में त्रिभुज ज्ञात कीजिए



A.20

→ B.21

C.22

D. None of these

- A solid density of 4 inches in size with contrasting pairs of blades red green and black. One inch cubes have been cut in it. only two of the cube Are the panels painted?



- लाल, हरे और काले ब्लेड के विपरीत जोड़े के साथ आकार में 4 इंच का ठोस घनत्व। इसमें एक इंच के क्यूब्स काटे गए हैं। घन के केवल दो फलक रंगे हुए हैं?



A.8

→ B.24

C.16

D.32



- A man showed a boy ahead of him and said- "He is the son of my wife's sister-in-law, but I am the only child of my parents." What will my son have to do with him? (SSC CGL TIER1)
- एक व्यक्ति ने अपने से आगे एक लड़के को दिखाया और कहा कि- "वह मेरी पत्नी की भाभी का पुत्र है, किन्तु मैं अपने माता-पिता की एकमात्र संतान हूँ" मेरे पुत्र का उससे क्या सम्बन्ध होगा?



- A. भतीजा
- B. चचेरा / ममेरा
भाई
- C. भाई
- D. चाचा/मामा



• **Direction:** In each of the following questions in the given series Find out the wrong number.

• **निर्देश:** दी गई श्रंखला में निम्नलिखित प्रत्येक प्रश्न में गलत संख्या ज्ञात कीजिए।

• 17 , 23 , 31 , 41 , 53 , 69



A.23

B.31

C.41

 D.69

• Which of the following letter-groups when sequentially placed at the gaps in the letter-series will complete it?



• दी गई अक्षर श्रृंखला के खाली स्थानों पर क्रम से रखने पर निम्नलिखित में से कौन-सा अक्षर-समूह उसे पूरा करेगा?

• an _ nn _ ana _ na _ nan _ a



A. annan

B. nanna

→ C. aanan

D. naana

• If ANCIENT is coded as 2516859 and NATURE is coded as 529048, then TRAIN In which code will be written?(SSC CGL TIER1)



• यदि ANCIENT को 2516859 और NATURE को 529048 के रूप में कोडित किया जाता है, तो TRAIN को किस कोड में लिखा जाएगा?

A. 92456



B. 94285

→ C. 94265

D. 94168



- Select the related word/letter/number from the given alternatives.(SSC CGL TIER 1)
- दिए गए विकल्पों में से सम्बन्धित शब्द/अक्षर/संख्या को चुनिए।
- D :25 ::F : ?



A.36

B.40

→ C.49

D.50



- At 4:32, how many degrees will be the angle between the two hands of the clock?
- 4:32 पर घड़ी की दोनों सुइयों के बीच कितने डिग्री का कोण बनेगा ?



A.60

→ B.56

C.48

D.None of these

• I was born on August 11th. Arvind is eleven days younger than me.
This year Independence Day falls on Monday, when is Arvind's birthday?



• मैं अगस्त 11 को पैदा हुआ था। अरविंद मुझसे ग्यारह दिन छोटा है। इस वर्ष स्वतंत्रता दिवस सोमवार को पड़ता है, अरविंद का जन्म दिन किस दिन पड़ेगा?



A. Sunday

B. Tuesday

→ C. Monday

D. Wednesday

- A person walked towards west. He turned right, then right again and finally left. In which direction is he walking now?



- एक व्यक्ति पश्चिम की ओर चला। वह दाएँ मुड़ा, फिर दाएँ मुड़ा और अंत में बाईं ओर मुड़ा। अब वह किस दिशा की ओर चल रहा है?



A. East

B. West

C. North

 D. South

Choose the correct option that resembles the water image of the given combination?



सही विकल्प चुनें जो दिए गए संयोजन की जल प्रतिबिंब जैसा दिखता हो?



E8 t 4 e9C

(1) Ǝ8 † 4 90C

(2) E8 † 4 90C

(3) Ǝ8 † 4 18E

(4) E8 † 4 90C



- **Statement:** Deadly typhoid fever has claimed 100 lives in some tribal villages in MP during the last three weeks



- **कथन:** पिछले तीन हफ्तों के दौरान एमपी में कुछ आदिवासी गांवों में जानलेवा आंत्र बुखार ने 100 लोगों के जीवन को समाप्त किया है।



- **Proceeding:**

- I) The residents of these villages should be immediately shifted to an affected area.
- II) The government should immediately send a medical team to the area to stop the spread of the deadly disease.

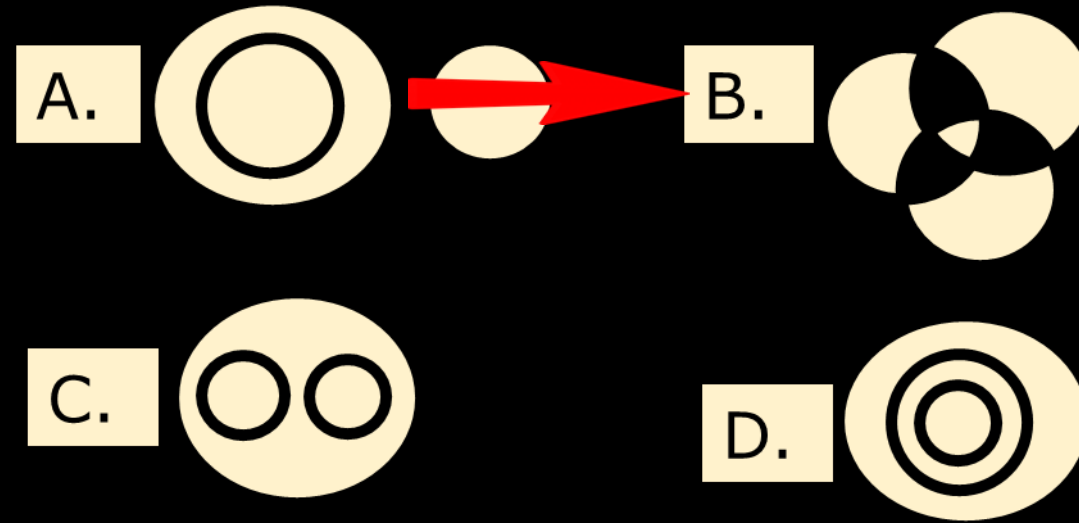
- **कार्यवाही:**

- I) इन गांवों के निवासियों को तुरंत एक प्रभावित क्षेत्र में स्थानांतरित किया जाना चाहिए।
- II) जानलेवा बीमारी के फैलाव को रोकने के लिए सरकार को तुरंत इस क्षेत्र में एक चिकित्सा दल भेजना चाहिए।

- Which of the following diagrams best depicts the relationship between Writer, Lawyer and Singer?



- निम्नलिखित में से कौन सा चित्र लेखक, वकील और गायक के बीच संबंध को दर्शाता है?





- Among six members of a panel seated in a row, X is to the left of Q but to the right of P. Y is to the right of Q but to the left of Z. Z is to the left of R. Which members are at the ends?
- एक पंक्ति में बैठे एक पैनल के छह सदस्यों में से X, Q के बाईं ओर है किन्तु P के दाईं ओर है। Y, Q के दाईं ओर है किन्तु Z के बाईं ओर है। Z, R के बाईं ओर है। छोरों पर कौन-से सदस्य हैं?(SSC CGL TIER1)



A.QZ

→ B.PR

C.XZ

D.QY



- If $29 * 48 = 576$
- $35 * 16 = 90$
- $22 * 46 = 96$ Then
- $42 * 17 = ???$



- A red arrow pointing to the first option, A.56.
- A.56
 - B.286
 - C.48
 - D.64

SSC CGL TIER1



- Dinesh and Ramesh start traveling together in opposite directions from a certain point on a motor cycle. The speed of Dinesh is 60 kmph and the speed of Ramesh is 44 kmph. What will be the distance between the two after 15 minutes? (SSC CGL TIER1)

- दिनेश और रमेश मोटर साइकिल पर एक निश्चित स्थान से विपरीत दिशा में एक साथ यात्रा शुरू करते हैं। दिनेश की गति 60 किमी प्रति घंटा है तथा रमेश की गति 44 किमी प्रति घंटा है। 15 मिनट के पश्चात् दोनों के मध्य कितनी दूरी होगी?



A.20

B.24

→ C.26

D.30



• Arrange the following words in the order given in the English dictionary.

• िम्नलिखित शब्दों को अंग्रेजी शब्दकोश में दिए गए क्रम के अनुसार व्यवस्थित कीजिए।

• (1) Live

• (2) Little

• (3) Litter

• (4) Literacy

• (5) Living

A. 4, 2, 3, 1, 5

B. 3, 4, 2, 1, 5

C. 3, 2, 4, 5, 1

→ D. 4, 3, 5, 2, 1

