



Mission Selection - SSC 2024



सफलता का महामंत्र

DAY-5

TOP 25 QUESTIONS

अब तो Selection पक्का है

REASONING

LIVE

07:00 PM



MISSION SELECTION – SSC 2024

Q-1 'Family' is related to 'Upbringing' in the same way as 'School' is related to '_____'.
'परिवार' का संबंध 'पालन-पोषण' से उसी प्रकार है जैसे

'स्कूल' का संबंध '_____ ' से है।



- (A) Children / बच्चे
- (B) Education / शिक्षा
- (C) Parents/ अभिभावक
- (D) Curriculum/ पाठ्यक्रम

MISSION SELECTION – SSC 2024

Q-2 Four number-pairs have been given, out of which three are alike in some manner and one is different. Select the number-pair that is different from the rest

चार संख्या-जोड़े दिए गए हैं, जिनमें से तीन किसी तरह से समान हैं और एक अलग है। उस संख्या-युग्म का चयन करें जो बाकियों से भिन्न है



(A) 76 : 42

(B) 44 : 16

(C) 55 : 25

(D) 28 : 56

MISSION SELECTION – SSC 2024

Q-3 Select the correct mirror image of the given alphanumeric cluster when a mirror is placed on the right side of the cluster.

जब एक दर्पण क्लस्टर के दाईं ओर रखा जाता है तो दिए गए अल्फ़ान्यूमेरिक क्लस्टर की सही दर्पण छवि का चयन करें।



5 G 7 N P Q 4

(A) 4 Q P N 7 G 2

(B) 4 Q P N 7 G 2

(C) 4 Q P N 7 G 2

(D) 4 Q P N 7 G 2

MISSION SELECTION – SSC 2024

Q-4 Select the number that can replace the question mark (?) in the following series.

उस संख्या का चयन करें जो निम्नलिखित श्रृंखला में प्रश्न चिह्न (?) को प्रतिस्थापित कर सकती है।

45, 63, 101, 160, 241, ?



(A) 368

(B) 345

(C) 305

(D) 319

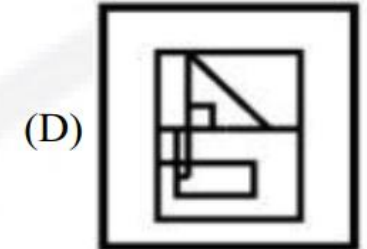
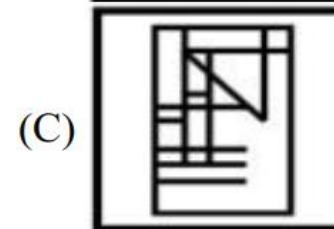
MISSION SELECTION – SSC 2024

Q-5 Select the option in which the given figure X is embedded (rotation is not allowed).

उस विकल्प का चयन करें जिसमें दी गई आकृति X अंतर्निहित है (रोटेशन की अनुमति नहीं है)।



Figure X



MISSION SELECTION – SSC 2024



Q-6 Select the option in which the words share the same relationship as that shared by the given pair of words.

उस विकल्प का चयन करें जिसमें शब्द वही संबंध साझा करते हैं जो दिए गए शब्दों के जोड़े द्वारा साझा किया गया है।

Arteries : Circulatory System/ धमनियाँ: परिसंचरण तंत्र

(A) Nerves : Nervous System/

नसें: तंत्रिका तंत्र

(B) Lungs: Olfactory system/

फेफड़े: घ्राण प्रणाली

(C) Eyes : Endocrine System/

आंखें: अंतःस्रावी तंत्र

(D) Kidney : Respiratory System/

किडनी: श्वसन तंत्र

MISSION SELECTION – SSC 2024

Q-7 Select the option that is related to the third number in the same way as the second number is related to the first number.

उस विकल्प का चयन करें जो तीसरी संख्या से उसी प्रकार संबंधित है जैसे दूसरी संख्या पहली संख्या से संबंधित है।

23 : 527 :: 19 : ?

(A) 363

(B) 402

(C) 359

(D) 325



MISSION SELECTION – SSC 2024



Q-8 Study the given pattern carefully and select the number that can replace the question mark (?) in it.

दिए गए पैटर्न का ध्यानपूर्वक अध्ययन करें और उस संख्या का चयन करें जो इसमें प्रश्न चिह्न (?) को प्रतिस्थापित कर सके।

11

13

17

(A) 217

33

35

39

(B) 203

189

191

?

(C) 199

(D) 195

MISSION SELECTION – SSC 2024

Q-9 What day of the week was 5 February 2008?

5 फरवरी 2008 को सप्ताह का कौन सा दिन था?



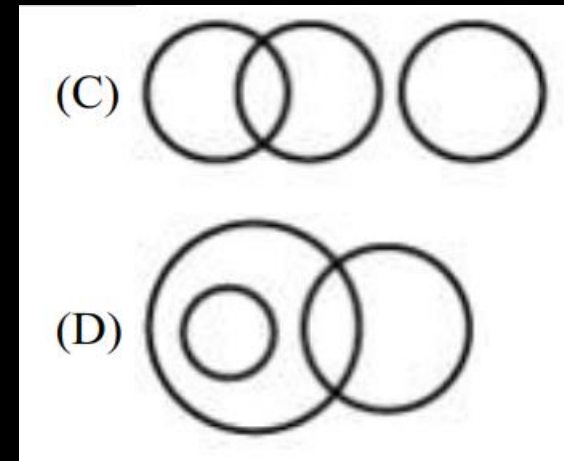
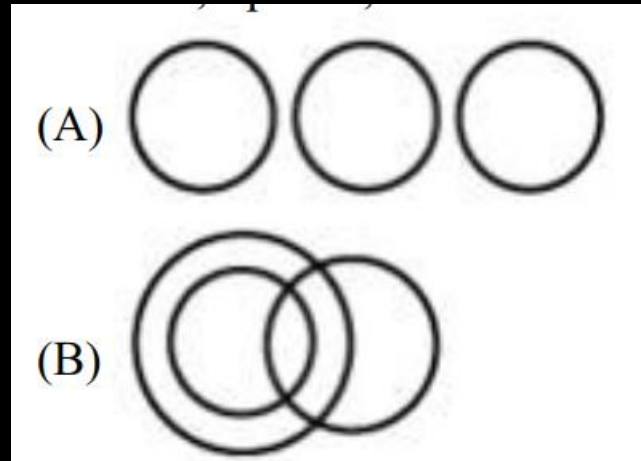
- (A) Thursday**
- (B) Monday**
- (C) Tuesday**
- (D) Wednesday**

MISSION SELECTION – SSC 2024

Q-10 Which of the following Venn diagrams best represents the relationship between the following classes?

निम्नलिखित में से कौन सा वेन आरेख निम्नलिखित वर्गों के बीच संबंध को सबसे अच्छा दर्शाता है?

Utensils, Spoons, Steel items/बर्तन, चम्मच, स्टील की वस्तुएँ



MISSION SELECTION – SSC 2024

Q-11 Select the letter-cluster that can replace the question mark (?) in the following series.

उस अक्षर-समूह का चयन करें जो निम्नलिखित श्रृंखला में प्रश्न चिह्न (?) को प्रतिस्थापित कर सकता है।

PROGRESS, QTOGRESS, QTRKRESS, ? , QTRKWKZA



- (A) QTRKWKTY
- (B) PRRKWKSS
- (C) QTRKWKSS
- (D) QTRKVMSS

MISSION SELECTION – SSC 2024

Q-12 Select the option in which the numbers are related in the same way as are the numbers in the given set.

उस विकल्प का चयन करें जिसमें संख्याएँ उसी प्रकार संबंधित हैं जैसे दिए गए सेट में संख्याएँ हैं।

(14, 17, 961)



- (A) (11, 12, 729)
- (B) (12, 18, 851)
- (C) (13, 19, 1024)
- (D) (15, 14, 743)

MISSION SELECTION – SSC 2024

Q-13 In a certain code language, 'FOX' is coded as '108' and 'SOUP' is coded as '148'. How will 'UPSIDE' be coded in that code language?

एक निश्चित कोड भाषा में, 'FOX' को '108' के रूप में कोडित किया जाता है और 'SOUP' को '148' के रूप में कोडित किया जाता है। उस कोड भाषा में 'UPSIDE' को कैसे कोडित किया जाएगा?



(A) 528

(B) 590

(C) 385

(D) 494

MISSION SELECTION – SSC 2024

Q-14 In a certain code language, 'TAPE' is written as 'SUZBOQDF'. How will 'MOCK' be written in that code language?

एक निश्चित कूट भाषा में, 'TAPE' को 'SUZBOQDF' लिखा जाता है। उस कूट भाषा में 'MOCK' को कैसे लिखा जाएगा?



- (A) MOPQDELM
- (B) LNNPBDJL
- (C) LOPQBCKL
- (D) KNNPBEBL

MISSION SELECTION – SSC 2024

Q-15 Pointing to the photograph of a girl Akanksha, Rajeev said, “ Her daughter’s father’s wife’s mother is my wife's daughter's mother’s mother-in-law”. How is Rajeev related to Akanksha?

एक लड़की आकांक्षा की तस्वीर की ओर इशारा करते हुए, राजीव ने कहा, "उसकी बेटी के पिता की पत्नी की माँ मेरी पत्नी की बेटी की माँ की सास है"। राजीव, आकांक्षा से कैसे संबंधित है?



- (A) Paternal uncle
- (B) Brother
- (C) Father
- (D) Maternal uncle

MISSION SELECTION – SSC 2024

Q-16 Four letter-clusters have been given, out of which three are alike in some manner and one is different. Select the odd letter-cluster.

चार अक्षर-समूह दिए गए हैं, जिनमें से तीन किसी तरह से समान हैं और एक भिन्न है। विषम अक्षर-समूह का चयन करें।



- (A) DPG
- (B) CIF
- (C) BFF
- (D) EYH

MISSION SELECTION – SSC 2024

Q-17 Four words have been given, out of which three are alike in some manner and one is different. Select the odd word.

चार शब्द दिए गए हैं, जिनमें से तीन किसी तरह से समान हैं और एक अलग है। बेजोड़ शब्द का चयन करें।



- (A) Russia
- (B) Africa
- (C) Asia
- (D) Europe

MISSION SELECTION – SSC 2024

Q.18 Statements: 1. Some bottles are glasses.

2. Some glasses are bowls.

Conclusions: I. Some bowls are bottles.

II. Some glasses are bottles.

III. No bowl is a bottle.



(A) All conclusions I, II and III follow.

(B) Either conclusion II or III follows.

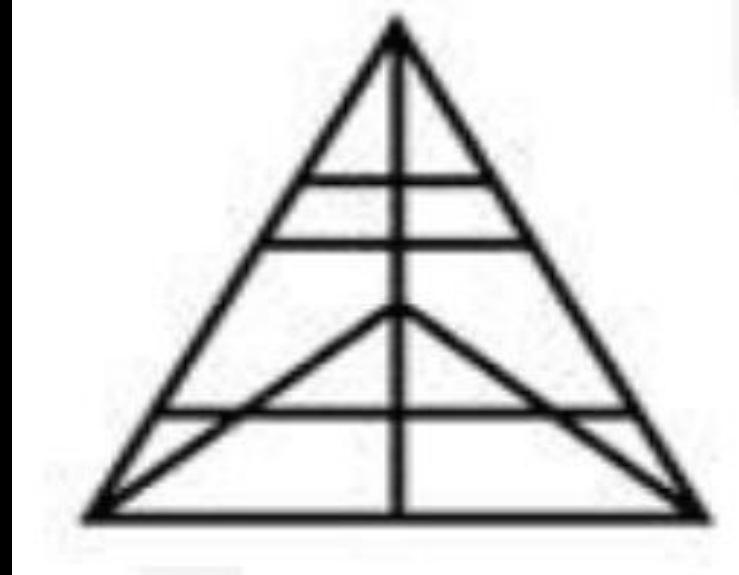
(C) Only conclusions II and III follow.

(D) Only conclusion II and either conclusion I or III follow.

MISSION SELECTION – SSC 2024

Q-19 How many triangles are there in the given figure?

दी गई आकृति में कितने त्रिभुज हैं?

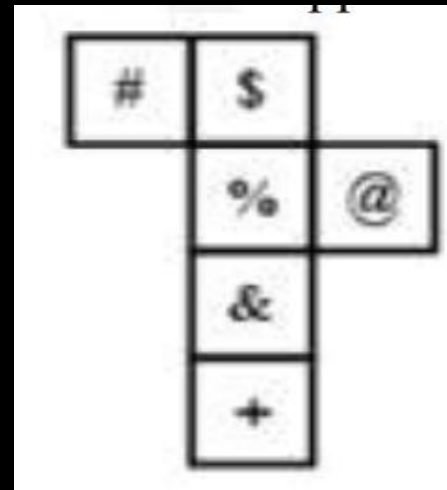


- (A) 22
- (B) 24
- (C) 20
- (D) 23

MISSION SELECTION – SSC 2024

Q-20 A cube is made by folding the given sheet. In the cube so formed, which of the following pairs of symbols will be on opposite sides?

दी गई शीट को मोड़कर एक घन बनाया जाता है। इस प्रकार बने घन में, निम्नलिखित में से प्रतीकों का कौन सा जोड़ा विपरीत दिशाओं में होगा?



- (A) @ and %
- (B) \$ and +
- (C) & and %
- (D) # and @

MISSION SELECTION – SSC 2024

Q-21 Arrange the following words in a logical and meaningful order.

निम्नलिखित शब्दों को तार्किक और सार्थक क्रम में व्यवस्थित करें।

1. Nose
2. Forehead
3. Chin
4. Waist
5. Chest



(A) 2, 1, 3, 5, 4

(B) 2, 3, 1, 4, 5

(C) 3, 2, 4, 2, 1

(D) 2, 4, 1, 5, 3

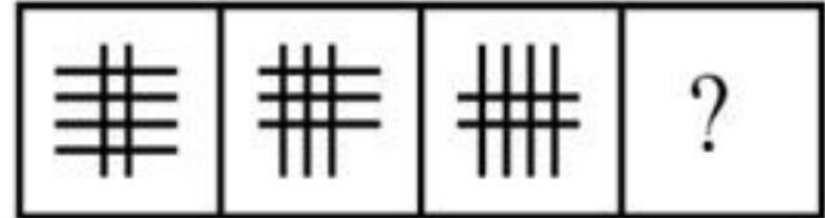
MISSION SELECTION – SSC 2024

Q-22 Select the figure that can replace the question mark (?) in the following series.

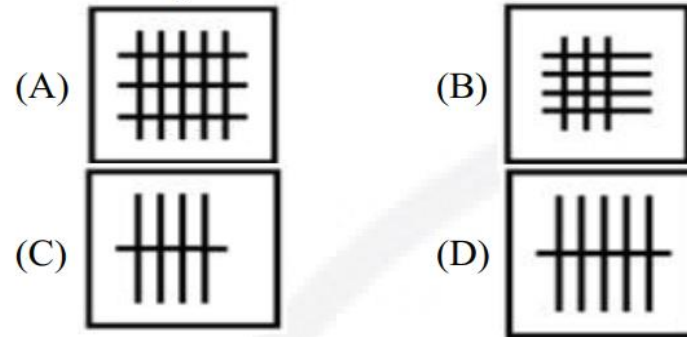
उस आकृति का चयन करें जो निम्नलिखित श्रृंखला में प्रश्न चिह्न (?) को प्रतिस्थापित कर सकती है।



Question Figures



Answer figures



MISSION SELECTION – SSC 2024

Q-23 Select the letter that can replace the question mark (?) in the following series.

उस अक्षर का चयन करें जो निम्नलिखित श्रृंखला में प्रश्न चिह्न (?) को प्रतिस्थापित कर सकता है।

C, E, H, J, M, O, R, ?



(A) D

(B) T

(C) S

(D) W

MISSION SELECTION – SSC 2024

Q-24 If 'A' stands for 'subtraction', 'B' stands for 'multiplication', 'C' stands for 'addition' and D stands for 'division' then what is the value of the following expression? $43 C 29 B 3 A 14 B (5C4) C 11 C (14A3) A 64 D 8 B 2$



- (A) 83
- (B) 27
- (C) 110
- (D) 10

MISSION SELECTION – SSC 2024

Q-25 A piece of paper is folded and cut as shown below in the question figures. Select from the given answer figures, how it will appear when unfolded.

कागज के एक टुकड़े को नीचे प्रश्न आकृतियों में दर्शाए अनुसार मोड़ा और काटा जाता है। दिए गए उत्तर आकृतियों में से चयन करें कि खोलने पर यह कैसा दिखाई देगा।



Question Figures

Answer figures

(A)

(B)

(C)

(D)



Mission Selection - SSC 2024



सफलता का महामंत्र

DAY-6

TOP 25 QUESTIONS

अब तो Selection पक्का है

REASONING

LIVE

07:00 PM



Join my

TELEGRAM GROUP



@reasoningbymohitsir



Daily PDF of all YT sessions



Discussion / Doubt Solving



Direct Interaction with me



Quiz



Polls

