



# Mission Selection - SSC 2024



## सफलता का महामंत्र

### DAY-16

# TOP 25 QUESTIONS

## अब तो Selection पक्का है

## REASONING

LIVE

07:00 PM





# MISSION SELECTION - SSC 2024

**Q.1 Amongst the following words, which will appear fourth in the dictionary?**

निम्नलिखित में से कौन सा शब्द, शब्दकोश के क्रमानुसार चौथे स्थान पर आयेगा



- |         |          |
|---------|----------|
| A) KNOW | B) KNACK |
| C) KNIT | D) KNOB  |



# MISSION SELECTION - SSC 2024

Q.2 In a certain code language, "MOTHER" is written as "NPUGDQ". How is "ORANGE" written in that code language ?

एक विशिष्ट कोड भाषा में "MOTHER" को "NPUGDQ" लिखा जाता है। इस कोड भाषा में "ORANGE" को किस प्रकार लिखा जाएगा



- A) PSBMDF
- B) PSBMFD
- C) PBSMFD
- D) PSBDMF



## MISSION SELECTION - SSC 2024

**Q.3 Five girls E, F, G, H and I are standing in a row. H is on the right of G. I is on the left of G, but is on the right of F. H is on the left of E. Who is standing on the extreme right?**

पाँच लड़कियाँ E, F, G, H और I एक पंक्ति में खड़ी हैं। H, G के दायीं ओर है। I, G के बायीं ओर है, किन्तु F के दायीं ओर। H, E के बायीं ओर है। दाएँ छोर पर कौन खड़ी है

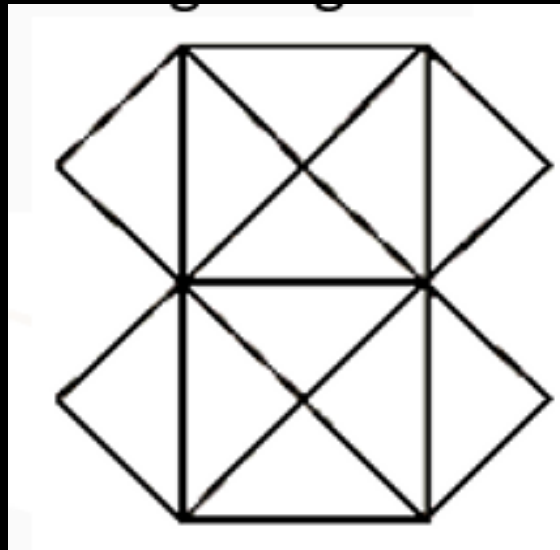


- |      |      |
|------|------|
| A) F | B) G |
| C) H | D) E |



# MISSION SELECTION - SSC 2024

Q.4 How many triangles are there in the figure given below?



दी गई आकृति में कितने त्रिभुज हैं



- A) 12      B) 22  
C) 20      D) 24



# MISSION SELECTION - SSC 2024

Q.5 If  $4 - 3 - 2 = 24$  and  $6 - 1 - 2 = 12$ , then  $5 - 4 - 1 = ?$

यदि  $4 - 3 - 2 = 24$  तथा  $6 - 1 - 2 = 12$  हो, तो  $5 - 4 - 1 = ?$



A) 10

B) 9

C) 24

D) 20



# MISSION SELECTION - SSC 2024

**Q.6 Directions: Complete the given series.**

**निर्देश: दी गई श्रृंखला को पूरा करें।**

**– abbcc – bcca – ccaa – baa – bcc.**



**A) aabba**

**B) ababa**

**C) ababb**

**D) aabcc**





# MISSION SELECTION - SSC 2024

**Q.7 Select the odd  
word/letters/number/number pair  
from the given alternatives**  
दिए गए विकल्पों में से विषम शब्द / अक्षर /  
संख्या / संख्या युग्म को चुनिए



- A) 862      B) 835  
C) 439      D) 147



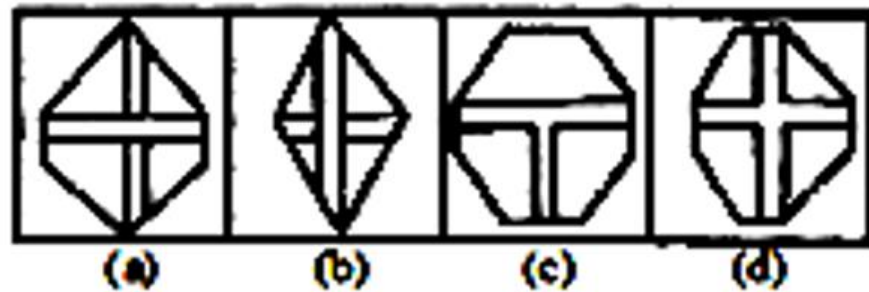


# MISSION SELECTION - SSC 2024

Question figure :



Answer figure :



Q.8 From the given answer figures, select the one in which the question figure is hidden/embedded

दी गई उत्तर आकृतियों में से उस उत्तर आकृति को चुनिए जिसमें प्रश्न आकृति निहित है।





## MISSION SELECTION - SSC 2024

**Q.9 A man showed a boy next to him and said - "He is the son of my wife's sister-in-law, but I am the only child of my parents." How is my son related to him ?**

एक व्यक्ति ने अपने से आगे एक लड़के को दिखाया और कहा कि- “वह मेरी पत्नी की भाभी का पुत्र है, किन्तु मैं अपने माता-पिता की एकमात्रा संतान हूँ” मेरे पुत्र का उससे क्या संबंध होगा?



- A) चचेरा/ममेरा भाई/Cousin B) भाई/Brother**  
**C) चाचा/मामा/Uncle D) भतीजा/Nephew**



## MISSION SELECTION - SSC 2024

Q.10 X walked 35 metres towards South, then turned left and walked 25 metres, and again turned left and walked for 35 metres. He then turned to his right and walked 20 metres. At what distance and direction from the starting point is X now standing?

X, दक्षिण दिशा में 35 मीटर चलने के बाद बाँये मुड़कर 25 मीटर चलता है। और फिर से बाँयें मुड़कर 35 मीटर चलता है। फिर, वह अपने दाँयें मुड़कर 20 मीटर चलता है, तो अब वह प्रस्थान-स्थल से कितनी दूर और किस दिशा में खड़ा है?



- A) 20 मी. पश्चिम/20 m West
- B) 45 मी. पूर्व/45 m East
- C) 20 मी. पूर्व/20 m East
- D) 45 मी. उत्तर/45 m North



# MISSION SELECTION - SSC 2024

**Q.11 Find the missing number in the given series.**

दी गई श्रेणी में लुप्त संख्या ज्ञात कीजिये।

6, 12, 21, ?, 48



A) 38

B) 40

C) 45

D) 33



# MISSION SELECTION - SSC 2024



**Q.12 कथन:/ Statements:**

**सभी सड़कें पेड़ हैं|/All roads are trees.**

**कोई भी पेड़ साबुन नहीं है|/No tree is soap.**

**निष्कर्ष:/ Conclusions:**

**I. कोई भी साबुन सड़क नहीं है|/No soap is road.**

**II. कुछ पेड़ सड़के हैं|/Some trees are roads.**

**III. कोई भी सड़क साबुन नहीं है|/No road is soap.**

**A) Only I**

**B) Only II**

**C) Only III**

**D) All follow**



# MISSION SELECTION - SSC 2024

**Q.13 Statement: /कथन**

**Death keeps no calendar. /मृत्यु का कोई कैलेंडर नहीं होता है।**

**Conclusions: /निष्कर्ष:**

**I. Everyone has to die one day. /सभी को एक दिन मरना है।**

**II. Death is a remedy for all ills. /मृत्यु सभी बीमारियों का इलाज है।**

**A) if only conclusion (I) follows /यदि केवल कथन I अनुसरण करता है।**

**B) if only conclusion (II) follows /यदि केवल कथन II अनुसरण करता है।**

**C) if either (I) or (II) follows/यदि या तो I या II अनुसरण करता है।**

**D) if neither (I) nor (II) follows/यदि न तो I न ही II अनुसरण करता है।**





# MISSION SELECTION - SSC 2024

Q.14 If + means  $\div$ ,  $\times$  means +,  $-$  means  $\times$  and  $\div$  means  $-$ , then what is the value of  $46 \div 24 + 4 \times 8 - 3 = ?$

अगर '+' का मतलब ' $\div$ ' है, ' $\times$ ' का मतलब '+' है, '-' का मतलब ' $\times$ ' है, ' $\div$ ' का मतलब '-' है, तो  $46 \div 24 + 4 \times 8 - 3$  का परिमाण क्या होगा?



A) 60

B) 61

C) 62

D) 64

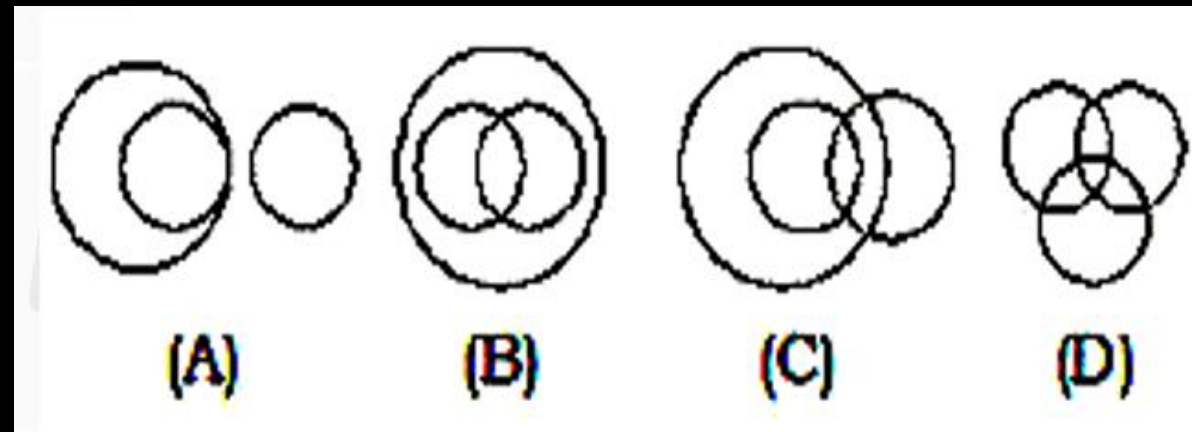




# MISSION SELECTION - SSC 2024

**Q.15 Identify the diagram that correctly represents the relationship among Blue eyed persons, Females and Doctors.**

वह आरेख चुनिए जो नीली आँखों वाले व्यक्तियों, स्त्रियों और डॉक्टरों के बीच संबंध का सही निरूपण करता है।






# MISSION SELECTION - SSC 2024





**Q.16 DIRECTIONS:** Which of the following figure is the correct mirror image of the given figure

निर्देश: विकल्पों में दी गई कौन-सी आकृति दी गई प्रश्न आकृति का सही दर्पण प्रतिबिम्ब है

**Question figure :**



**Answer figure:**

			
(A)	(B)	(C)	(D)





# MISSION SELECTION - SSC 2024

Q.17 If  $264 * 2 = 6$ ,  $870 * 3 = 11$ , then  $735 * 5 = ?$

यदि  $264 * 2 = 6$ ,  $870 * 3 = 11$ , तो  $735 * 5 = ?$



A) 05

B) 12

C) 16

D) 03



## MISSION SELECTION - SSC 2024

**Q.18 Mrs. Susheela celebrated her wedding anniversary on Tuesday, 30th September, 1997. When will she celebrate her next wedding anniversary on the same day?**

**श्रीमती सुशीला अपनी शादी की सालगिरह 30 सितम्बर, 1997 को मंगलवार को मनाती हैं तो वह अगली बार अपनी सालगिरह का उत्सव उसी दिन कब मनायेंगी**



- A) 2004      B) 2000**  
**C) 2003      D) 2002**



# MISSION SELECTION - SSC 2024

Q.19 what comes in place of ?

प्रश्नवाचक चिन्ह के स्थान पर आणा

13	54	?
7	45	32
27	144	68



- A) 4      B) 6  
C) 36      D) 42



# MISSION SELECTION - SSC 2024

**Q.20 DIRECTIONS:** Choose the correct alternative from the given ones that will complete the series :

निर्देश: दिए गए विकल्पों में से उसे चुनिए जो अनुक्रम को पूरा करेगा :

**MNBA, OPDC, QRFE, ?**



**A) STGH**

**B) STKH**

**C) STKJ**

**D) STHG**



## MISSION SELECTION - SSC 2024

**Q.21 Amit is 15<sup>th</sup> from the front in a column of boys . There are thrice as many behind him as there are in front . How many Boys are there between Amit and seventh boy from the end of the column ?**

लड़कों के एक कॉलम में अमित आगे से 15वें स्थान पर है। जितने सामने हैं, उससे तीन गुना पीछे हैं। कॉलम के अंत से अमित और सातवें लड़के के बीच कितने लड़के हैं?

**A. 30**

**B. 32**

**C. 35**

**D. C.N.D.**







## MISSION SELECTION - SSC 2024

**Q.22 Akshay is 16<sup>th</sup> from the left end in a row of boys and Vijay is 18<sup>th</sup> from the right end . Avinash is 11<sup>th</sup> from the Akshay Towards the right end and 3<sup>rd</sup> from Vijay towards the right end . How many boys are there in the row ?**

अक्षय लड़कों की एक पंक्ति में बायें छोर से 16वें स्थान पर है और विजय दायें छोर से 18वें स्थान पर है। अविनाश, अक्षय से दायें छोर की ओर 11वां और विजय से दायें छोर की ओर तीसरा है। पंक्ति में कितने लड़के हैं?



**A. Data in adequate**

**B. 42**

**C. 40**

**D. 41**



## MISSION SELECTION - SSC 2024

Q.23 Hitesh is 27<sup>th</sup> from the left end of a row of 49 boys and Maneesh is 27<sup>th</sup> from the right end in the same row. How many Boys are there between them in the row ?

49 लड़कों की एक पंक्ति के बायें छोर से हितेश 27वें स्थान पर है और उसी पंक्ति में मनीष दायें छोर से 27वें स्थान पर है। पंक्ति में उनके बीच कितने लड़के हैं?

A.6

B.3

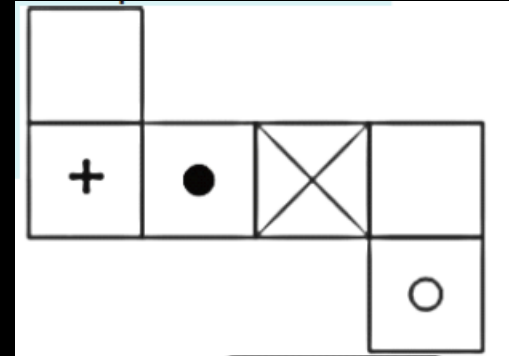
C.5

D. Data inadequate



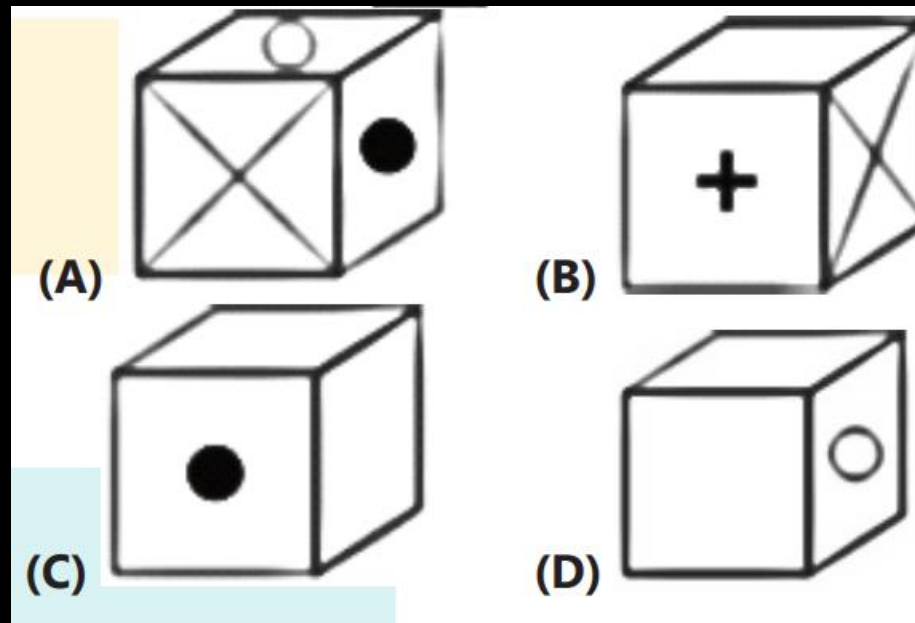


# MISSION SELECTION - SSC 2024



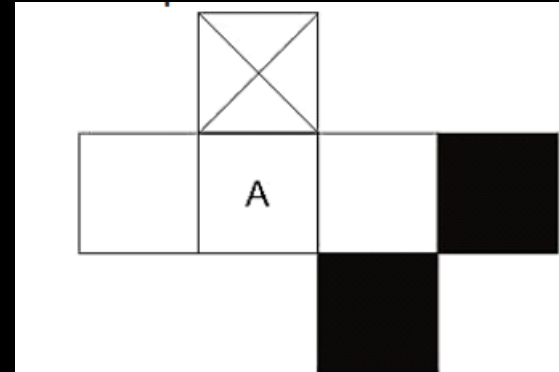
Q.24 which answer figure can be formed by folding the figure given in the question?

प्रश्न में दी गई आकृति को मोड़कर कौन सी उत्तर आकृति बनाई जा सकती है?



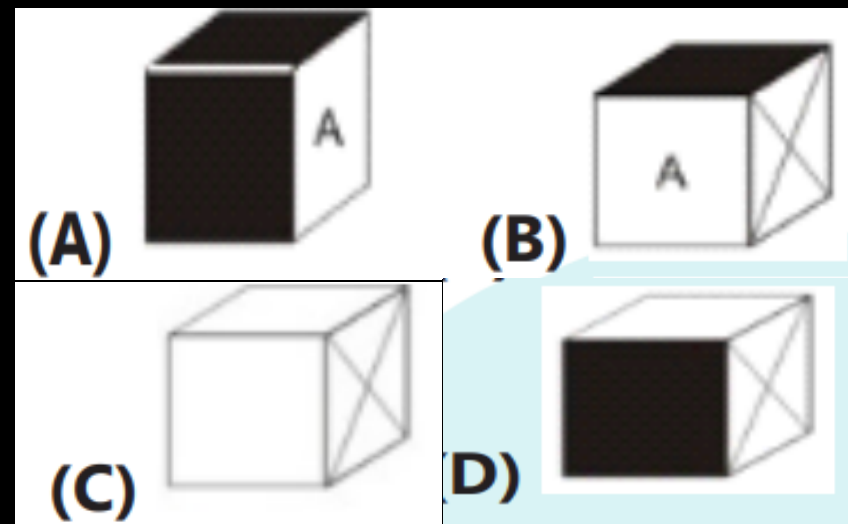


# MISSION SELECTION - SSC 2024



Q.25 which answer figure can be formed by folding the figure given in the question?

प्रश्न में दी गई आकृति को मोड़कर कौन सी उत्तर आकृति बनाई जा सकती है?





# Mission Selection - SSC 2024



## सफलता का महामंत्र

### DAY-17

# TOP 25 QUESTIONS

## अब तो Selection पक्का है

## REASONING

LIVE

07:00 PM

