



SSC GD CONSTABLE 2023



सफलता का महामंत्र

DAY-2

Missing Number

लुप्त संख्या

REASONING

LIVE

03:00 PM





MISSION SSC GD CONSTABLE 2023

Q. 1 Study the given pattern carefully and select the number that can replace the question mark (?) in it.

दिए गए पैटर्न का ध्यानपूर्वक अध्ययन करें और उस संख्या का चयन करें जो इसमें प्रश्न चिह्न (?) को प्रतिस्थापित कर सके।

7	6	3	48
4	9	8	63
2	5	7	?



- (A) 28
- (B) 42
- (C) 52
- (D) 56



MISSION SSC GD CONSTABLE 2023

Q. 2 Study the given pattern carefully and select the number that can replace the question mark (?) in it.

दिए गए पैटर्न का ध्यानपूर्वक अध्ययन करें और उस संख्या का चयन करें जो इसमें प्रश्न चिह्न (?) को प्रतिस्थापित कर सके।

4	11	19
5	6	0
9	13	3
18	30	?



- (A) 20
- (B) 24
- (C) 18
- (D) 22



MISSION SSC GD CONSTABLE 2023

Q. 3 Study the given pattern carefully and select the number that can replace the question mark (?) in it.
दिए गए पैटर्न का ध्यानपूर्वक अध्ययन करें और उस संख्या का चयन करें जो इसमें प्रश्न चिह्न (?) को प्रतिस्थापित कर सके।

5	7	9
6	8	2
3	4	1
48	?	20



- (A) 94
- (B) 84
- (C) 88
- (D) 98

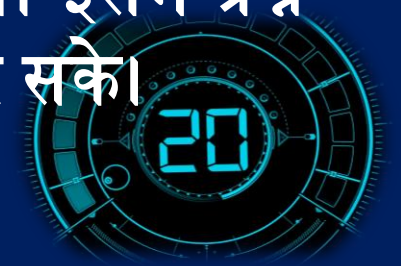


MISSION SSC GD CONSTABLE 2023

Q. 4 Study the given pattern carefully and select the number that can replace the question mark (?) in it.

दिए गए पैटर्न का ध्यानपूर्वक अध्ययन करें और उस संख्या का चयन करें जो इसमें प्रश्न चिह्न (?) को प्रतिस्थापित कर सके।

7	7	1	48
11	5	1	?
9	5	0	45



- (A) 36
- (B) 72
- (C) 48
- (D) 54



MISSION SSC GD CONSTABLE 2023

Q. 5 Study the given pattern carefully and select the number that can replace the question mark (?) in it.
दिए गए पैटर्न का ध्यानपूर्वक अध्ययन करें और उस संख्या का चयन करें जो इसमें प्रश्न चिह्न (?) को प्रतिस्थापित कर सके।

3	4	9	17
7	2	5	15
6	8	3	?



- (A) 20
- (B) 28
- (C) 16
- (D) 18



MISSION SSC GD CONSTABLE 2023

Q. 6 Study the given pattern carefully and select the number that can replace the question mark (?) in it.

दिए गए पैटर्न का ध्यानपूर्वक अध्ययन करें और उस संख्या का चयन करें जो इसमें प्रश्न चिह्न (?) को प्रतिस्थापित कर सके।

7	8	4	18
2	3	9	13
5	6	8	?



- (A) 15
- (B) 18
- (C) 17
- (D) 21



MISSION SSC GD CONSTABLE 2023

Q. 7 Study the given pattern carefully and select the number that can replace the question mark (?) in it.

दिए गए पैटर्न का ध्यानपूर्वक अध्ययन करें और उस संख्या का चयन करें जो इसमें प्रश्न चिह्न (?) को प्रतिस्थापित कर सके।

6	3	8	17
9	5	1	?
11	4	7	22



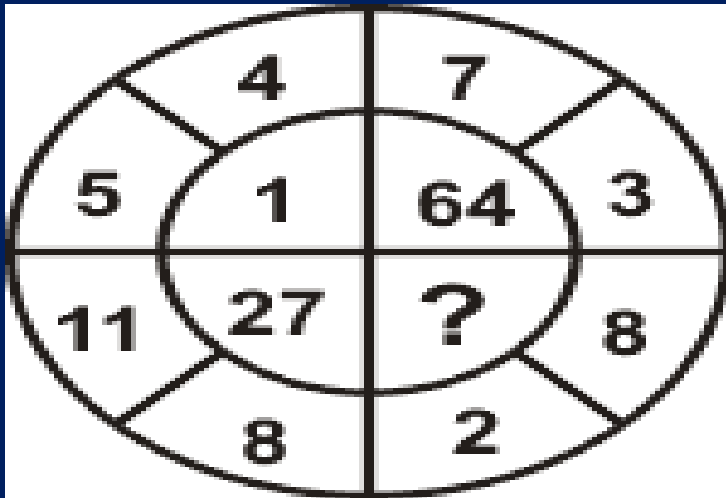
- (A) 15
- (B) 16
- (C) 18
- (D) 19



MISSION SSC GD CONSTABLE 2023

Q. 8 Study the given pattern carefully and select the number that can replace the question mark (?) in it.

दिए गए पैटर्न का ध्यानपूर्वक अध्ययन करें और उस संख्या का चयन करें जो इसमें प्रश्न चिह्न (?) को प्रतिस्थापित कर सके।



- A. 1
- B. 25
- C. 125
- D. 216



MISSION SSC GD CONSTABLE 2023

Q. 9 Study the given pattern carefully and select the number that can replace the question mark (?) in it.

दिए गए पैटर्न का ध्यानपूर्वक अध्ययन करें और उस संख्या का चयन करें जो इसमें प्रश्न चिह्न (?) को प्रतिस्थापित कर सके।



9	3	7
6	2	8
4	5	3
38	20	?

- (A) 72
- (B) 36
- (C) 54
- (D) 18



MISSION SSC GD CONSTABLE 2023

Q.10 Study the given pattern carefully and select the number that can replace the question mark (?) in it.

दिए गए पैटर्न का ध्यानपूर्वक अध्ययन करें और उस संख्या का चयन करें जो इसमें प्रश्न चिह्न (?) को प्रतिस्थापित कर सके।

7	6	3	48
4	9	8	63
2	5	7	?



- (A) 68
- (B) 37
- (C) 64
- (D) 42



MISSION SSC GD CONSTABLE 2023

Q. 11 Study the given pattern carefully and select the number that can replace the question mark (?) in it.

दिए गए पैटर्न का ध्यानपूर्वक अध्ययन करें और उस संख्या का चयन करें जो इसमें प्रश्न चिह्न (?) को प्रतिस्थापित कर सके।



7	9	21	27
4	2	36	18
9	4	54	?

- A .18
- B .24
- C .36
- D .58



MISSION SSC GD CONSTABLE 2023

Q.12 Study the given pattern carefully and select the number that can replace the question mark (?) in it.

दिए गए पैटर्न का ध्यानपूर्वक अध्ययन करें और उस संख्या का चयन करें जो इसमें प्रश्न चिह्न (?) को प्रतिस्थापित कर सके।

13	54	?
7	45	32
27	144	68



- A .4
- B .6
- C .36
- D .42



MISSION SSC GD CONSTABLE 2023

Q. 13 Study the given pattern carefully and select the number that can replace the question mark (?) in it.

दिए गए पैटर्न का ध्यानपूर्वक अध्ययन करें और उस संख्या का चयन करें जो इसमें प्रश्न चिह्न (?) को प्रतिस्थापित कर सके।

13	54	?
7	45	32
27	144	68



- A .4
- B .6
- C .36
- D .42



MISSION SSC GD CONSTABLE 2023

Q. 14 Study the given pattern carefully and select the number that can replace the question mark (?) in it.

दिए गए पैटर्न का ध्यानपूर्वक अध्ययन करें और उस संख्या का चयन करें जो इसमें प्रश्न चिह्न (?) को प्रतिस्थापित कर सके।



51	11	61
64	30	32
35	?	43

A .25

B .27

C .32

D .37



MISSION SSC GD CONSTABLE 2023

Q. 15 Study the given pattern carefully and select the number that can replace the question mark (?) in it.

दिए गए पैटर्न का ध्यानपूर्वक अध्ययन करें और उस संख्या का चयन करें जो इसमें प्रश्न चिह्न (?) को प्रतिस्थापित कर सके।



42	44	38
23	55	28
37	?	39

A .11

B .22

C .33

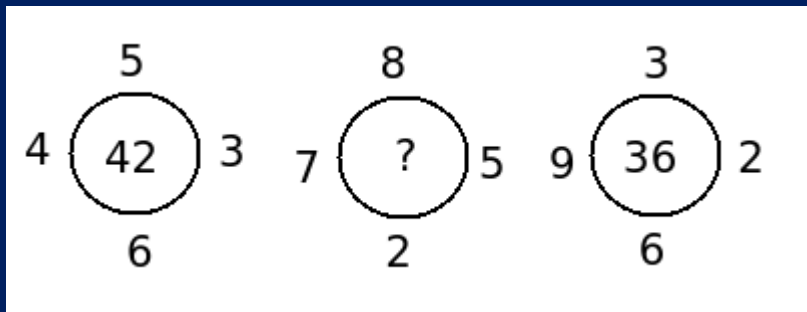
D .44



MISSION SSC GD CONSTABLE 2023

Q. 16 Study the given pattern carefully and select the number that can replace the question mark (?) in it.

दिए गए पैटर्न का ध्यानपूर्वक अध्ययन करें और उस संख्या का चयन करें जो इसमें प्रश्न चिह्न (?) को प्रतिस्थापित कर सके।



A .50

B .51

C .48

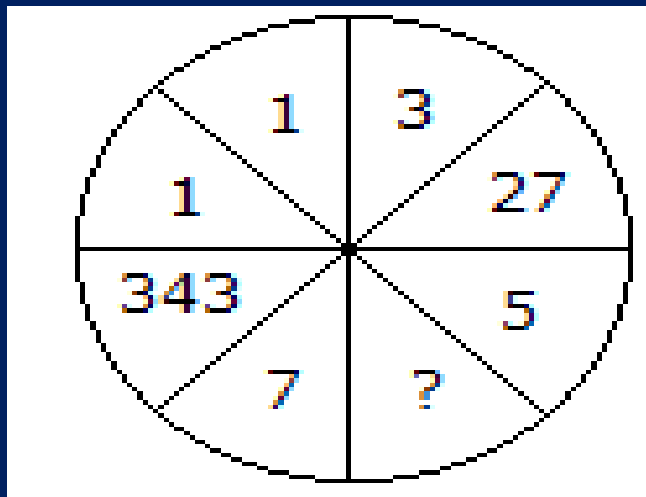
D .53



MISSION SSC GD CONSTABLE 2023

Q. 17 Study the given pattern carefully and select the number that can replace the question mark (?) in it.

दिए गए पैटर्न का ध्यानपूर्वक अध्ययन करें और उस संख्या का चयन करें जो इसमें प्रश्न चिह्न (?) को प्रतिस्थापित कर सके।



A .25

B

.625

C

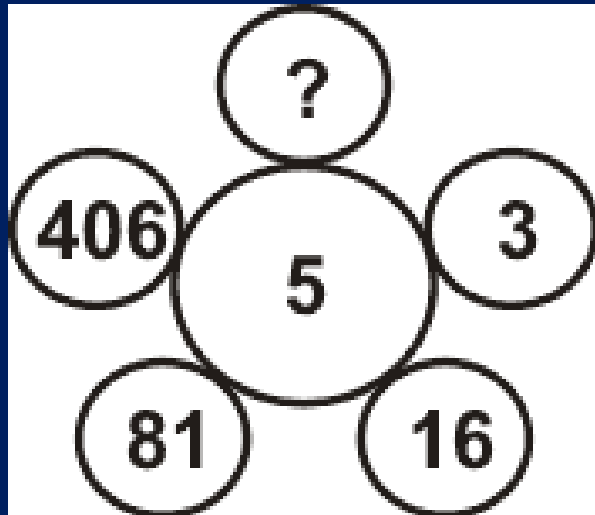
125



MISSION SSC GD CONSTABLE 2023

Q. 18 Study the given pattern carefully and select the number that can replace the question mark (?) in it.

दिए गए पैटर्न का ध्यानपूर्वक अध्ययन करें और उस संख्या का चयन करें जो इसमें प्रश्न चिह्न (?) को प्रतिस्थापित कर सके।



- A .201
- B .731
- C .1625
- D .2031



MISSION SSC GD CONSTABLE 2023

Q. 19 Study the given pattern carefully and select the number that can replace the question mark (?) in it.

दिए गए पैटर्न का ध्यानपूर्वक अध्ययन करें और उस संख्या का चयन करें जो इसमें प्रश्न चिह्न (?) को प्रतिस्थापित कर सके।



963	2	844
464	?	903

- A .1
- B .2
- C .3
- D .4



MISSION SSC GD CONSTABLE 2023

Q. 20 Study the given pattern carefully and select the number that can replace the question mark (?) in it.

दिए गए पैटर्न का ध्यानपूर्वक अध्ययन करें और उस संख्या का चयन करें जो इसमें प्रश्न चिह्न (?) को प्रतिस्थापित कर सके।

2	4	0
1	2	4
3	1	3
36	?	91



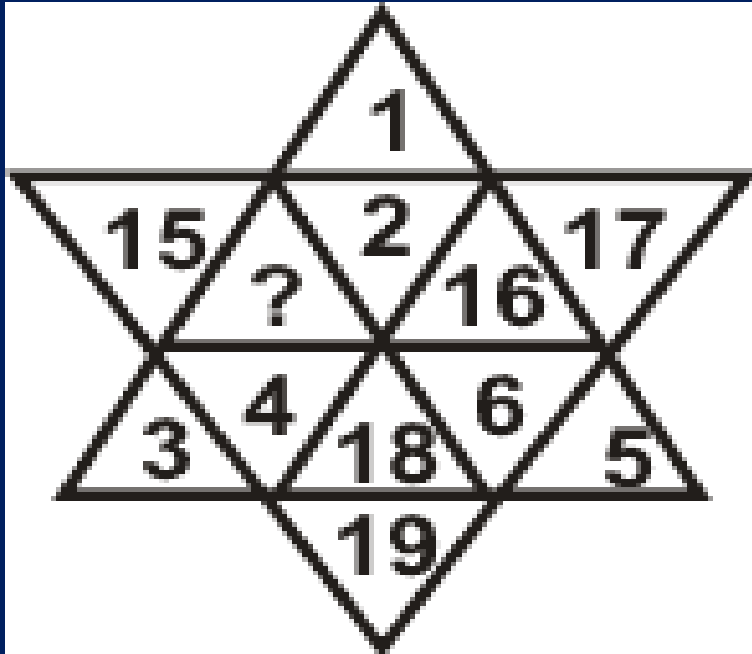
- A .25
- B .48
- C .59
- D ,73



MISSION SSC GD CONSTABLE 2023

Q. 21 Study the given pattern carefully and select the number that can replace the question mark (?) in it.

दिए गए पैटर्न का ध्यानपूर्वक अध्ययन करें और उस संख्या का चयन करें जो इसमें प्रश्न चिह्न (?) को प्रतिस्थापित कर सके।



A .14

B .21

C .28

D .18



MISSION SSC GD CONSTABLE 2023

Q.22 Study the given pattern carefully and select the number that can replace the question mark (?) in it.

दिए गए पैटर्न का ध्यानपूर्वक अध्ययन करें और उस संख्या का चयन करें जो इसमें प्रश्न चिह्न (?) को प्रतिस्थापित कर सके।

13	12	5
17	15	8
25	24	?
29	21	20



- A .5
- B .7
- C .9
- D .11



MISSION SSC GD CONSTABLE 2023

Q.23 Study the given pattern carefully and select the number that can replace the question mark (?) in it.

दिए गए पैटर्न का ध्यानपूर्वक अध्ययन करें और उस संख्या का चयन करें जो इसमें प्रश्न चिह्न (?) को प्रतिस्थापित कर सके।



12	2	20
24	4	88
11	1	?

A .14

B .18

C .23

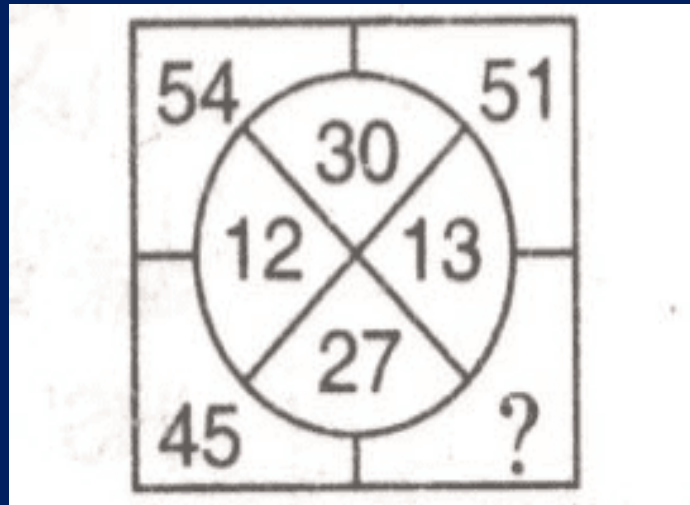
D .12



MISSION SSC GD CONSTABLE 2023

Q.24 Study the given pattern carefully and select the number that can replace the question mark (?) in it.

दिए गए पैटर्न का ध्यानपूर्वक अध्ययन करें और उस संख्या का चयन करें जो इसमें प्रश्न चिह्न (?) को प्रतिस्थापित कर सके।



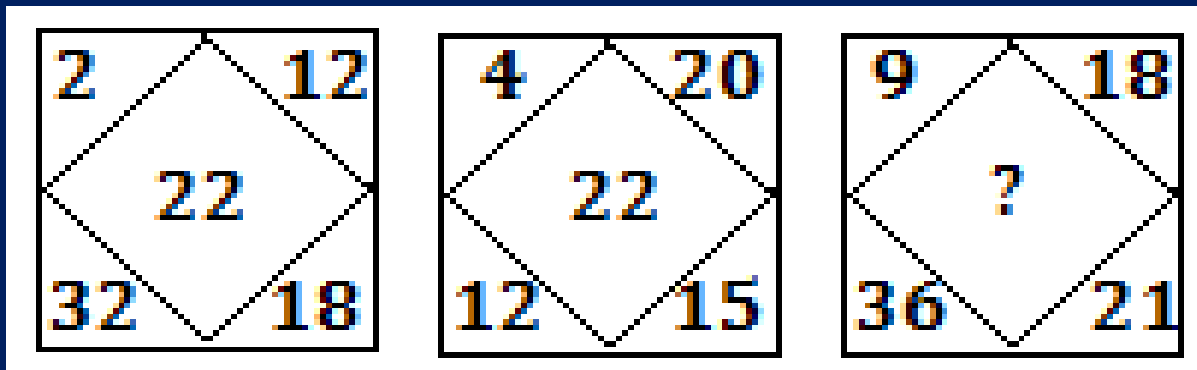
- A .39
- B .42
- C .48
- D .56



MISSION SSC GD CONSTABLE 2023

Q.25 Study the given pattern carefully and select the number that can replace the question mark (?) in it.

दिए गए पैटर्न का ध्यानपूर्वक अध्ययन करें और उस संख्या का चयन करें जो इसमें प्रश्न चिह्न (?) को प्रतिस्थापित कर सके।



- A .22
- B .34
- C .36
- D .42



**MISSION SSC GD
CONSTABLE 2023**

THANK YOU