



Mission Selection - SSC 2024



सफलता का महामंत्र

DAY-6

TOP 25 QUESTIONS

अब तो Selection पक्का है

REASONING

LIVE

07:00 PM





MISSION SELECTION – SSC 2024

Q.1 statement :/ कथन :Has globalization helped in the development of India?

क्या वैश्वीकरण ने भारत के विकास में मदद की है?

Argument :/ तर्क :I. Yes, since globalization measures were introduced in the late nineties, India was able to achieve steady economic growth while other developed economies were struggling with recession.

I. हां, चूंकि वैश्वीकरण उपायों को नब्बे के दशक के उत्तरार्द्ध में शुरू किया गया था, भारत स्थिर आर्थिक वृद्धि हासिल करने में सक्षम हो गया था जबकि अन्य विकसित अर्थव्यवस्थाएं मंदी से संघर्ष कर रही थीं।

II. No, economic growth does not merely result in increase in income. It should also increase the welfare of the people. Even after 20 years of adopting the measures of globalization, India is still there is also a large percentage of poor people.

II. नहीं, आर्थिक वृद्धि मात्र आय में वृद्धि में नहीं होती है। इसे लोगों के कल्याण में वृद्धि भी करनी चाहिए। वैश्वीकरण के उपायों को अपनाने के 20 साल बाद भी भारत में अभी भी गरीब लोगों का एक बड़ा प्रतिशत है।

(a) Both argument I and argument II are strong
दोनों तर्क I और तर्क II मजबूत हैं

(b) Only argument I is strong
केवल तर्क I मजबूत है

(c) Only argument II is strong
केवल तर्क II मजबूत है

(d) Neither argument I nor argument II is strong
न तो तर्क I न ही तर्क II मजबूत है

MISSION SELECTION – SSC 2024

Q.2 Which of the following numbers will replace the question mark (?) in the given number series?



निम्नलिखित में से कौन सी संख्या दी गई संख्या श्रृंखला में प्रश्नवाचक चिह्न (?) को प्रतिस्थापित करेगी?

56, 68, ?, 128, 176, 236

a) 80 b) 116

c) 74 d) 92

MISSION SELECTION – SSC 2024



Q.3 Select the correct mirror image of the given combination when the mirror is placed at MN as shown.

दिए गए संयोजन की सही दर्पण छवि का चयन कीजिए जब दर्पण को MN पर रखा गया है, जैसा कि दिखाया गया है।



- a) 2 9 6 r e a
- b) 2 9 6 r e a
- c) 2 9 6 r e a
- d) 2 9 6 r e a

MISSION SELECTION – SSC 2024



Q.4 Select the set in which the numbers are related in the same way as are the numbers of the following set.

उस समूह का चयन कीजिए जिसमें संख्याएँ उसी प्रकार संबंधित हैं जिस प्रकार निम्नलिखित समूह की संख्याएँ हैं।

(75, 25, 28) (136, 34, 38)

a) (27, 9, 15)

b) (45, 9, 12)

c) (55, 5, 11)

d) (105, 35, 38)

MISSION SELECTION – SSC 2024



Q.5 In a certain code language, 'CAPON' is written as 'EYRMP' and 'DECOY' is written as 'FCEMA'. How will 'POWER' be written in that language?

एक निश्चित कूट भाषा में, 'CAPON' को 'EYRMP' और 'DECOY' को 'FCEMA' के रूप में लिखा जाता है। उसी कूट भाषा में 'POWER' को कैसे लिखा जाएगा?

- a) RQGDT b) RMYCT
c) RMWDT d) RNVDV

MISSION SELECTION – SSC 2024



Q.6 Pointing to a lady in a photograph, Vijay said, “Her sister’s mother is the sister of my father’s daughter.” How is the lady related to Vijay?

एक तस्वीर में एक महिला की ओर इशारा करते हुए, विजय ने कहा, "उसकी बहन की माता, मेरे पिता की पुत्री की बहन है।" वह महिला, विजय से किस प्रकार संबंधित है?

- a) Mother/माता
- b) Sister’s daughter/भांजी
- c) Daughter/पुत्री
- d) Sister/बहन

MISSION SELECTION – SSC 2024



Q.7 Which of the following numbers will replace the question mark (?) in the given series

दी गई श्रृंखला में निम्न में से कौन सी संख्या प्रश्नवाचक चिह्न (?) को प्रतिस्थापित करेगी।

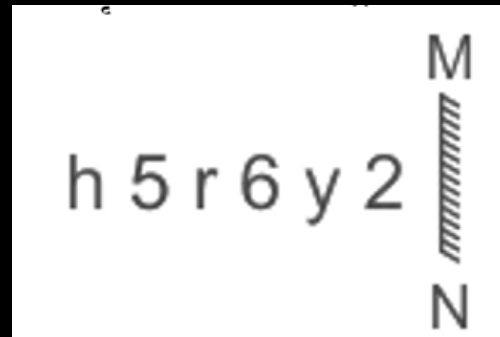
28, 40, 25, ?, 22, 46

- a) 41
- b) 43
- c) 44
- d) 42

MISSION SELECTION – SSC 2024



Q.8 Select the mirror image of the given combination when the mirror is placed at MN as shown in the figure./ दिए गए संयोजन की दर्पण छवि का चयन कीजिए जब दर्पण को MN पर रखा जाता है, जैसा कि आकृति में दिखाया गया है।



- a) 2 y 9 r 2 n
- b) 2 y 0 r 2 n
- c) 2 y 0 r 2 n
- d) 2 y 9 r 2 n

MISSION SELECTION – SSC 2024



Q.9 Select the correct combination of mathematical signs to sequentially replace the * signs and to balance the given equation.

दिए गए समीकरण को संतुलित करने के लिए * चिह्नों को क्रमिक रूप से बदलने के लिए गणितीय चिह्नों के सही संयोजन का चयन कीजिये।

$$25 * 5 * 10 * 2 * 8 * 11$$

a) $\div, \times, +, -, =$

b) $\times, \div, -, +, =$

c) $-, +, \div, \times, =$

d) $\div, -, +, \times, =$

MISSION SELECTION – SSC 2024



Q.10 If 3 March 2020 was Tuesday, then what was the day of the week on 3 February 2019?

यदि 3 मार्च 2020 को मंगलवार था, तो 3 फरवरी 2019 को सप्ताह का कौन सा दिन था?

- a) Wednesday b) Friday**
c) Sunday d) Monday

MISSION SELECTION – SSC 2024



Q.11 Which letter cluster will replace the question mark (?) to complete the given series?

दी गई श्रृंखला को पूर्ण करने के लिए कौन सा अक्षर समूह प्रश्नवाचक चिह्न (?) को प्रतिस्थापित करेगा?





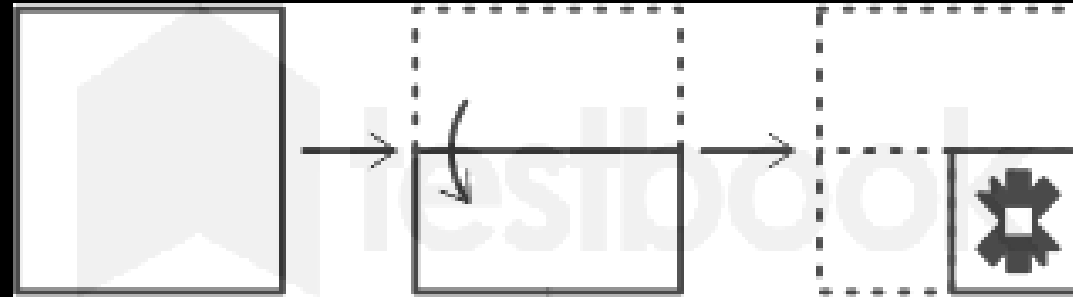
ETRE, AZJG, WFBI, SLTK, ?

- | | |
|----------------|----------------|
| a) OPLM | b) ORLM |
| c) ORMM | d) OPMM |

MISSION SELECTION – SSC 2024



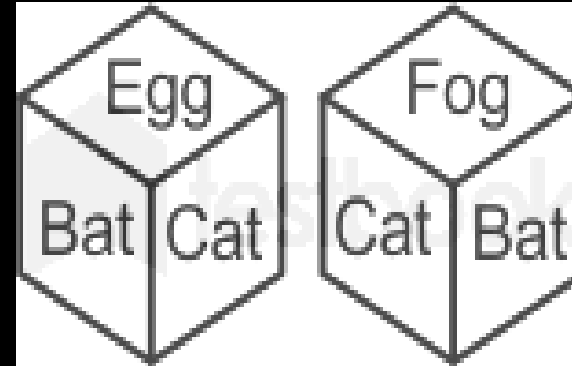
Q.12 A paper is folded and cut as shown below. How will it appear when unfolded?/नीचे दी गई आकृतियों में कागज को मोड़कर काटने का क्रम दिया गया है। यह कागज खोलने पर कैसा दिखाई देगा?



MISSION SELECTION – SSC 2024



Q.13 Two different positions of the same dice are shown, the six faces of which are marked as Ant, Bat, Cat, Dog, Egg, Fog. Select the word that will be on the face opposite to the one showing 'Fog' / एक ही पासे की दो अलग-अलग स्थितियाँ दिखाई गई हैं, जिनमें से चींटी, चमगादड़, बिल्ली, कुत्ता, अंडा, कोहरा से छह फलक अंकित हैं। उस शब्द का चयन कीजिए जो 'कोहरा' दर्शाने वाले फलक के विपरीत फलक पर होगा।



- a) Ant/चींटी b) Dog/ कुत्ता
c) Bat/ बल्ला d) Egg/ अंडा

MISSION SELECTION – SSC 2024



Q.14 In a certain code language, 'HISTORY' is written as 'SRHGLIB' and 'RECORD' is written as 'IVXLIW'. How will 'ARCHIVE' be written in that language?

एक निश्चित कूट भाषा में, 'HISTORY' को 'SRHGLIB' के रूप में लिखा जाता है और 'RECORD' को 'IVXLIW' के रूप में लिखा जाता है। उस भाषा में 'ARCHIVE' को कैसे लिखा जाएगा?

- a) ZIXSGEV b) ZIXTREV
c) ZIXSREV d) AIXSREV

MISSION SELECTION – SSC 2024



Q.15 Which of the following letter-clusters will replace the question mark (?) in the given series to make it logically complete?

दी गई श्रृंखला को तार्किक रूप से पूर्ण बनाने के लिए निम्नलिखित में से कौन सा अक्षर-समूह प्रश्नवाचक चिह्न (?) को प्रतिस्थापित करेगा?

WUT, RPO, MKJ, HFE, ?

- a) CAZ b) ACZ
c) CZA d) AZC

MISSION SELECTION – SSC 2024



Q.16 Select the correct combination of mathematical signs to replace the * signs and to balance the given equation.

* चिह्नों को बदलने और दिए गए समीकरण को संतुलित करने के लिए गणितीय चिह्नों के सही संयोजन का चयन कीजिए।

$$96 * 6 * 24 * 49 * 25$$

a) +, \times , =, \div

b) \div , -, =, +

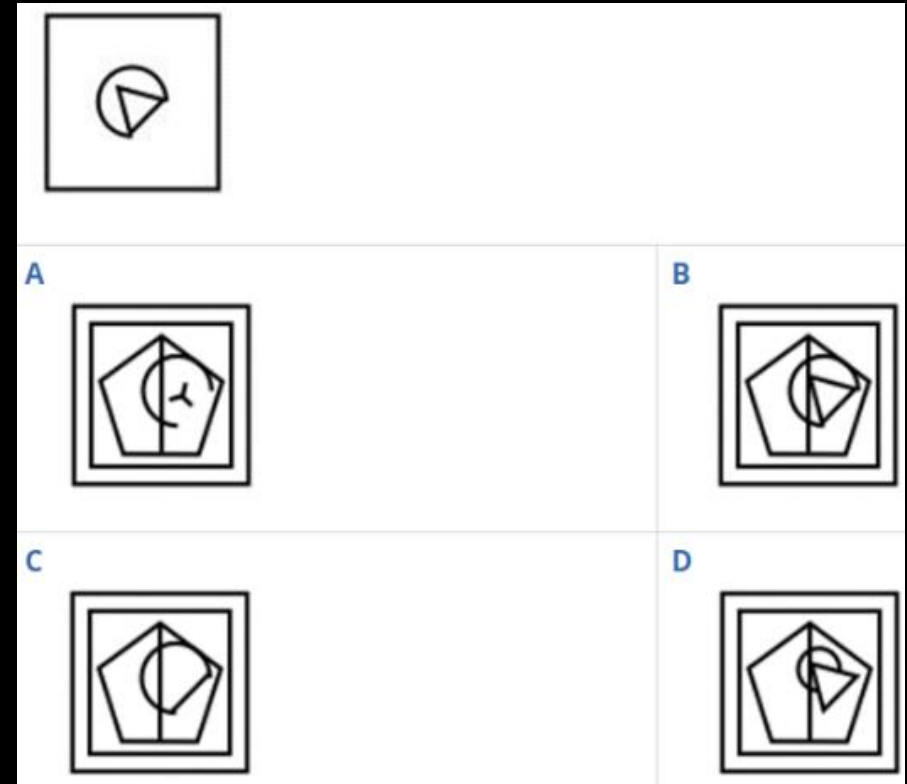
c) -, +, \times , =

d) \times , \div , =, -

MISSION SELECTION – SSC 2024



Q.17 From the given answer figure, select the one in which the question figure is hidden/embedded. / दी गई उत्तर आकृतियों में से उस उत्तर आकृति को चुनिए जिसमें प्रश्न आकृति निहित है।



MISSION SELECTION – SSC 2024



Q.18 Select the correct combination of mathematical signs to sequentially replace the * signs and to balance the given equation.

दिए गए समीकरण को संतुलित करने के लिए * चिह्नों को क्रमिक रूप से बदलने के लिए गणितीय चिह्नों के सही संयोजन का चयन कीजिए।

$$57 * 35 * 7 * 14 * 2 * 34$$

a) +, ÷, -, ×, =

b) ×, +, ÷, -, =

c) -, ÷, +, ×, =

d) +, -, ×, ÷, =

MISSION SELECTION – SSC 2024

Q.19 Statement:/वक्तव्य:

(a) Neither assumption I nor Students who have not submitted the record books will not be assumption II is implicit allowed to appear in the practical examination.

न तो पूर्वानुमान I न ही पूर्वानुमान II निहित जिन छात्रों ने रिकॉर्ड बुक जमा नहीं किए हैं उन्हें प्रायोगिक परीक्षा में उपस्थित नहीं है होने दिया जाएगा।

(b) Only assumption II is implicit Assumption पूर्वानुमान :

केवल पूर्वानुमान II निहित है

I. Practical exams make the students technically strong in the subject.

(c) Only assumption I is implicit

केवल पूर्वानुमान I निहित है

I. प्रायोगिक परीक्षाएं छात्रों को तकनीकी रूप से विषय में मजबूत बनाती हैं।

II. Record book is mandatory for appearing in practical examination.

(d) Both assumption I and II are implicit

पूर्वानुमान I और II दोनों निहित है

II. रिकॉर्ड बुक प्रायोगिक परीक्षा में भाग लेने के लिए अनिवार्य है।



MISSION SELECTION – SSC 2024



Q.20 Select the option that is related to the fifth term in the same way as the second term is related to the first term and the fourth term is related to the third term.

उस विकल्प का चयन कीजिए जो पाँचवें पद से उसी प्रकार संबंधित है, जिस प्रकार दूसरा पद, पहले पद से और चौथा पद, तीसरे पद से संबंधित है।

DENIAL : IANDEL :: OBJECT : ECJOBT :: FLAVOR : ?

a) VOAFLR

b) OVAFRL

c) VOAFLR

d) OVFAFLR

MISSION SELECTION – SSC 2024



Q.21 Select the option that is related to the fifth term in the same way as the second term is related to the first term and the fourth term is related to the third term.

उस विकल्प का चयन कीजिए जो पाँचवें पद से उसी प्रकार संबंधित है जिस प्रकार दूसरा पद, पहले पद से और चौथा पद, तीसरे पद से संबंधित है।

YAR : RAY :: TCA : ACT :: TAB : ?

a) TBA

b) ABT

c) ATB

d) BAT

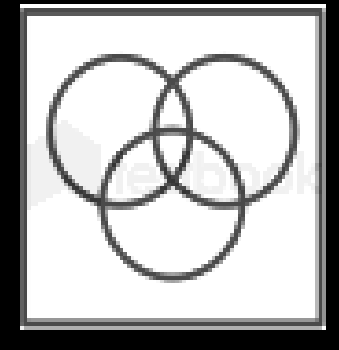
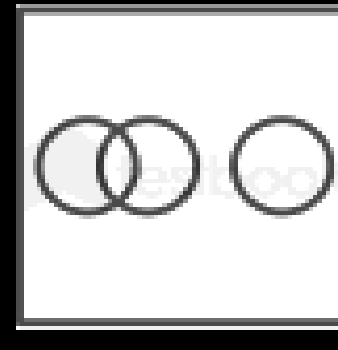


MISSION SELECTION – SSC 2024



Q.22 Select the Venn diagram that best illustrates the relationship between the following classes./उस वेन आरेख का चयन कीजिए जो निम्नलिखित वर्गों के बीच के संबंध को सर्वोत्तम रूप से दर्शाता है।

King, Father, Queen





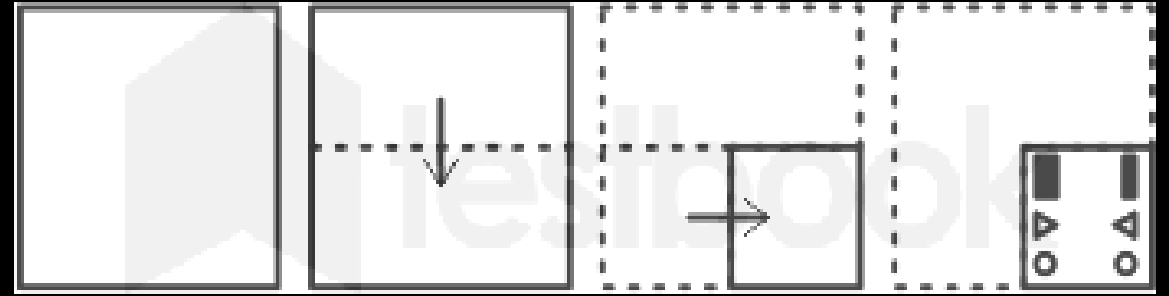
राजा, पिता, रानी



MISSION SELECTION – SSC 2024



Q.23 A paper is folded and cut as shown. How will it appear when unfolded?/एक कागज को मोड़ा जाता है और दिखाए गए अनुसार काटा जाता है। प्रकट होने पर यह कैसे दिखाई देगा?



(a) Both argument I and argument II are strong.

दोनों दलील I और दलील II प्रबल हैं।

(b) Neither argument I nor argument II is strong

न ही दलील I और न दलील II प्रबल हैं।

(c) Only argument II is strong.

केवल दलील II प्रबल है।

(d) Only argument I is strong.

केवल दलील I प्रबल है।

Q.24 Statement :वक्तव्य :Should all annual examinations be discontinued at the school level up to class IX?

क्या स्कूल स्तर पर नौवीं कक्षा तक सभी वार्षिक परीक्षाएं बंद कर देनी चाहिए?

Argument:/दलील :

(i) Yes, it will provide opportunity to more and more rural students to get education at secondary level.

(i) हां, इससे अधिक से अधिक ग्रामीण छात्रों को माध्यमिक स्तर पर शिक्षा प्राप्त करने का अवसर प्राप्त होगा।

(ii) No, it will not help the students to get college level education.

(ii) नहीं, यह छात्रों को कॉलेज स्तर की शिक्षा हासिल करने में मदद नहीं करेगा।



Join my

TELEGRAM GROUP



@reasoningbymohitsir



Daily PDF of all YT sessions



Discussion / Doubt Solving



Direct Interaction with me



Quiz



Polls

