



# SSC CGGL 2022



**REASONING**

**MOST EXPECTED  
PAPER**

**ALL SHIFTS | 06<sup>th</sup> DEC**

**आज के EXAM पर आधारित**

**LIVE | 05:30 PM**

**BY MANDEEP MAHENDRAS**





- Shyam walks 7 km. in the east. Then he turns to his right and moves 20 km, then he turns to his left and moves 5 km, then he turns to his left and moves 11 km. and then again he turned to his left and moves 12 km. Now in which direction is he from his starting point and how far ?
- श्याम 7 किमी चलता है। पूर्व में। फिर वह अपनी दायाँ ओर मुड़ता है और 20 किमी चलता है, फिर वह अपनी बाईं ओर मुड़ता है और 5 किमी चलता है, फिर वह अपनी बाईं ओर मुड़ता है और 11 किमी चलता है। और फिर वह अपनी बाईं ओर मुड़ता है और 12 किमी चलता है। अब वह अपने शुरुआती बिंदु से किस दिशा में है और कितनी दूर है?



- A. 9 km South  
B. 64km East  
C. 20 km west  
D. 7 km south



- Statement :
- All Goat are Hat/सभी गोट हैट हैं
- Some Hat are Bat/कुछ हैट बैट हैं
- No Bat are Tap/कोई बैट टैप नहीं है
- Conclusions :
- All Tap are Goat/सभी टैप गोट हैं
- No Tap are Goat/कोई टैप गोट नहीं हैं





- In a row of 44 students. Q is 26th from right and P is 25th from left and Z is exactly mid of Q & P. what is rank of Z from left ?
- 44 छात्रों की एक पंक्ति में। Q दायें से 26वां है और P बाएं से 25वां है और Z, Q और P के ठीक मध्य में है। बाएं से Z का स्थान क्या है?



A. 17

B. 10

C. 21

 D. 22



- A clock shows the correct time as 8 in the morning. When the clock shows 2 o'clock in the afternoon, find out how many degrees the hour hand turns?
- एक घड़ी सही समय सुबह 8 बजे दिखाती है। जब घड़ी दोपहर 2 बजे दिखाती है तो ज्ञात किजिये घंटे की सुई को कितने डिग्री घूमते हैं?



A.  $120^\circ$

B.  $150^\circ$

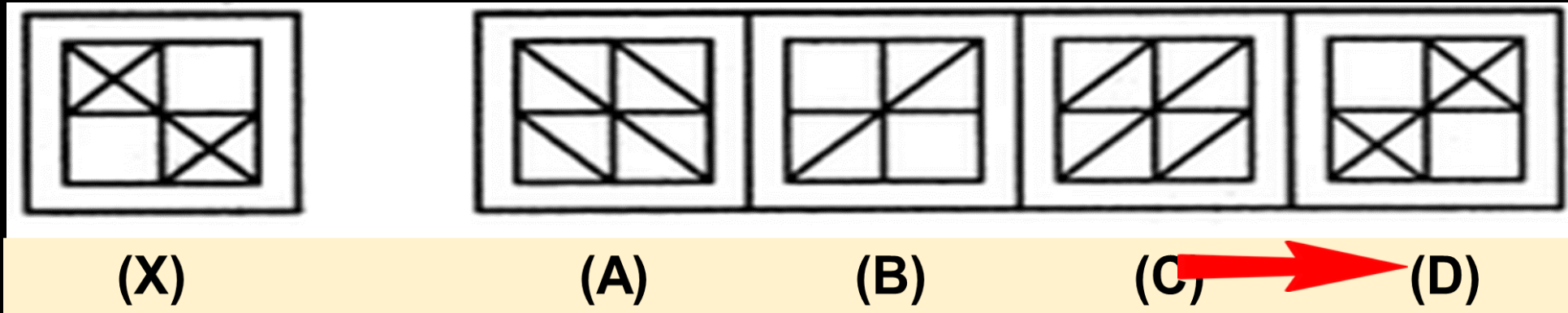
 C.  $180^\circ$

D.  $90^\circ$



Choose the correct mirror image of the given figure (X) from amongst the four alternatives ?

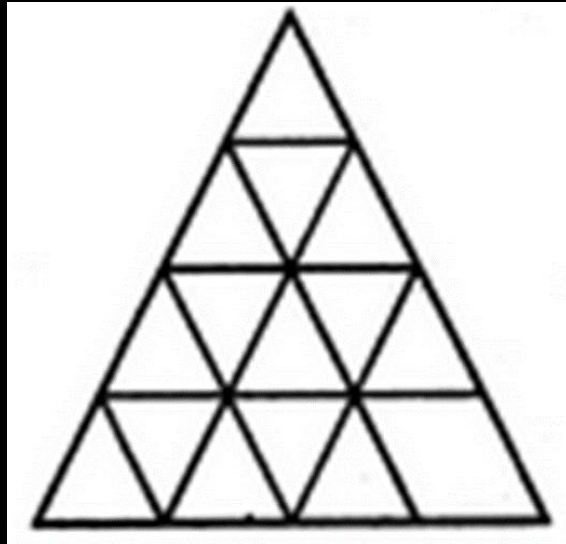
- चार विकल्पों में से दी गई आकृति (X) की सही दर्पण छवि चुनें?





Find the least number of straight lines in the figure?

- आकृति में सीधी रेखाओं की न्यूनतम संख्या ज्ञात करें?



A. 9

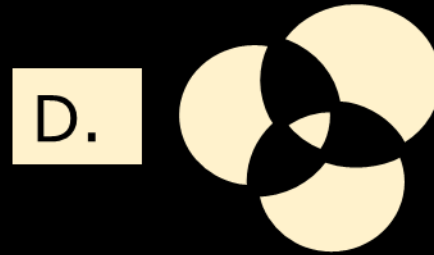
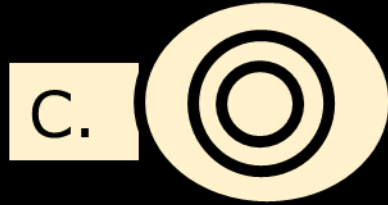
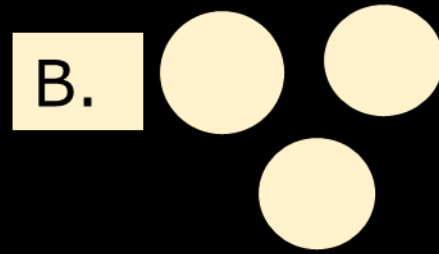
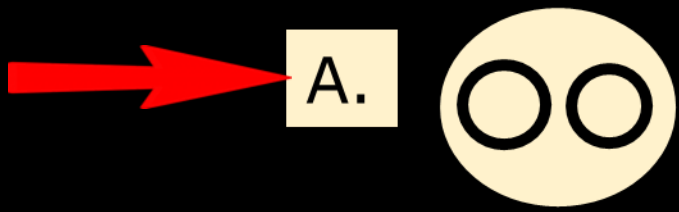
→ B. 11

C. 15

D. 16



- Which of the following diagrams indicates the relationship between profit, dividend and bonus?
- निम्नलिखित में से कौन सा चित्र लाभ, लाभांश और बोनस के बीच संबंध इंगित करता है?







- Which number will replace the question mark ?  
प्रश्न चिन्ह के स्थान पर कौन सी संख्या आएगी ?

28	60	48
5	6	7
17	30	7
7	?	16



A. 18

B. 23

C. 24

 D. 27



- Raju goes North, then takes a right turn and then takes a left turn. In which direction is Raju now?
- राजू उत्तर में जाता है, फिर दाएं मुड़ता है और फिर बाईं ओर जाता है। राजू अब किस दिशा में है?



A. East

B. West

 C. North

D. South




- Mahesh is standing facing north. He turns  $180^\circ$  in clockwise direction and then  $45^\circ$  in the same direction and then  $270^\circ$  in anticlockwise direction. In which direction is he standing now?
- महेश उत्तर की तरफ मुख करके खड़ा है। वह दक्षिणावर्ती दिशा में  $180^\circ$  और फिर उसी दिशा में  $45^\circ$  और फिर  $270^\circ$  वामावर्त दिशा में मुड़ जाता है। अब वह किस दिशा में मुख करके खड़ा है?



- A. दक्षिण-पश्चिम/South-west
- B. दक्षिण-पूर्व/South-east
- C. उत्तर-पूर्व /north-east
- D. उत्तर-पश्चिम/North- West



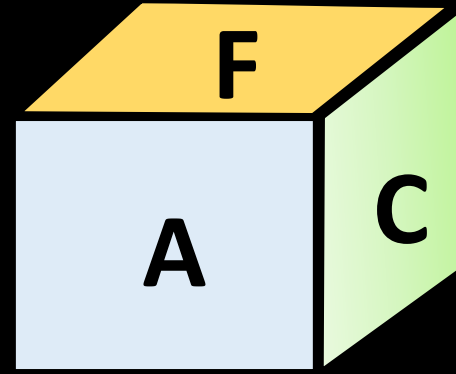
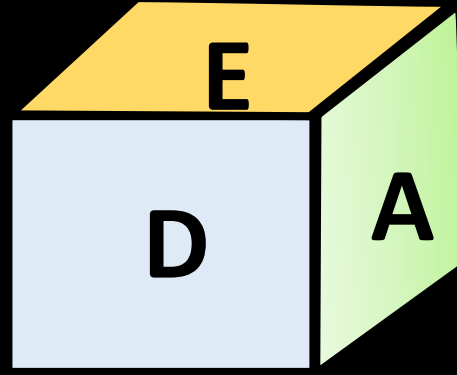
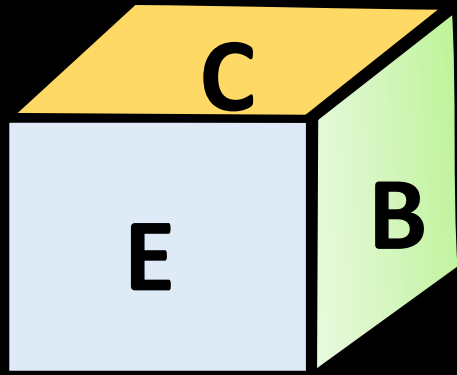
- $X+Y$  means 'Y is the daughter of X'
- $X\times Y$  means 'Y is the son of X'
- $X-Y$  means 'Y is the wife of X'
- $X+Y$  का अर्थ है 'Y, X की पुत्री है'
- $X\times Y$  का अर्थ है 'Y, X का पुत्र है'
- $X-Y$  का अर्थ है 'Y, X की पत्नी है'
- If ' $Z\times T-S\times U+P$ ', how is U related to Z ?

- A. Mother
- B. Grand mother
- C. Father
-  D. None of these





- Three positions of dice are shown then find out what will happen on the face opposite to A?
- पासों की तीन स्थितियाँ दिखाई गई हैं, तो ज्ञात कीजिए कि A के विपरीत फलक पर क्या होगा?



A. B

B. C

C. D

D. E





- Choose the letter or group of letters that is different from the others.
- अक्षर या अक्षरों का समूह चुनें जो अन्य से अलग है।



A. GE

B. MK

C. WU

 D. QN



- Choose the letter or group of letters that is different from the others.
- अक्षर या अक्षरों का समूह चुनें जो अन्य से अलग है।



A. POT

 B. SKY

C. TEN

D. CUP



• QDXM : SFYN :: UIOZ : ?



A. PAQM

B. LPWA

C. QNLA

 D. WKPA





- 'Horse' is related to 'Hoof' in the same way as 'Eagle' is related to:
- जिस प्रकार 'घोड़ा' का संबंध 'खुर' से है, उसी प्रकार 'ईगल' का संबंध है:



A. Clutch

B. Leg

C. Foot

 D. Claw



• Find the next term?

• अगला पद ज्ञात कीजिए?

84, 92, ?, 147, 122



A. 83

B. 84

C. 107

D. 109