



# SSC CGL 2022



**REASONING**

**MOST EXPECTED  
PAPER**

**ALL SHIFTS | 05<sup>th</sup> DEC**

**आज के EXAM पर आधारित**

**LIVE | 05:30 PM**

**BY MANDEEP MAHENDRAS**



- "हर कोई जन्म से ही किसी ना किसी काम में Champion होता है , बस पता चलने की देर होती है "





- What was the day of the week on 24 April 2013?
- 24 अप्रैल 2013 को सप्ताह का दिन क्या था?



- A. रविवार
- B. शुक्रवार
- C. गुरुवार
- D. बुधवार





- Six persons are sitting in a circle facing the centre. Parikh is sitting between Babita and Narendra. Asha sits between Chitra and Pankaj. Chitra is to the immediate right of Babita. Who is to the immediate left of Babita?
- छः व्यक्ति केंद्र की ओर मुख करके वृत्त में बैठे हैं। पारिख, बबिता और नरेंद्र के बीच में बैठा है। आशा, चित्रा और पंकज के बीच में बैठी है। चित्रा, बबिता के तत्काल दाये ओर है। बबिता के तत्काल बायीं तरफ कौन है?



- A. पंकज
- B. पारिख
- C. नरेंद्र
- D. चित्रा



- How many such pairs of letters are there in the word INTOXICATED each of which has as many letters between them in the word as in the English alphabet ?
- शब्द INTOXICATED में अक्षरों के ऐसे कितने जोड़े हैं जिनमें से प्रत्येक के बीच उतने ही अक्षर हैं जितने कि अंग्रेजी वर्णमाला में हैं?



A. Five

B. Six

 C. Seven

D. Four



- Which one set of letters when sequentially placed at the gaps in the given letter series shall complete it.
- अक्षरों का कौन-सा समूह रिक्त स्थानों पर क्रमिक रूप से रखे जाने पर दी गई अक्षर श्रृंखला को पूरा करेगा।
- \_ cdd \_ dd \_ ddc \_



A. dddd

B. cdcd


C. cccd

 D. dccd



- In a certain code language, POTHER is written as SNOQDG and BORROW as QNAVNVQ, then how will RAMSON be written in that code?
- एक निश्चित कूट भाषा में, POTHER को SNOQDG और BORROW को QNAVNVQ लिखा जाता है तो RAMSON को उसी कूट भाषा में क्या लिखा जायेगा ?



- A. LZQNMR
- B. LZQRMN
-  C. LZQMNR
- D. LQZMNR


• B : D :: P : ?



A.S

B.E

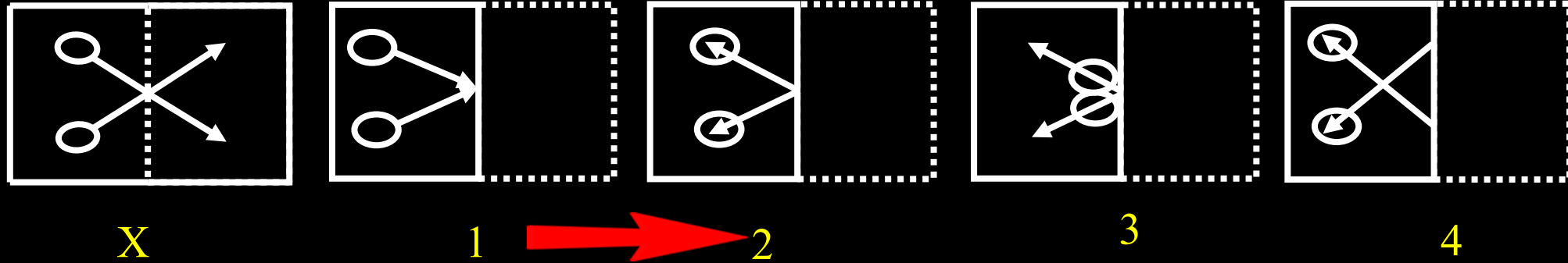
C.N

 D.F




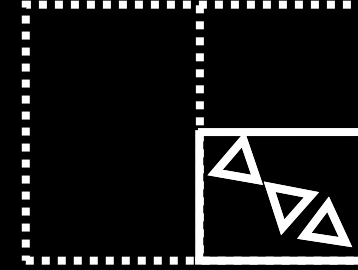

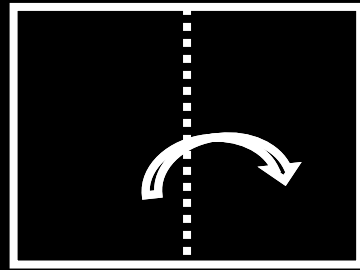


- When a transparent paper is folded along the dotted line, choose the figure that follows the pattern given in the question.
- जब एक पारदर्शी कागज को बिंदुदार रेखा से मोड़ा जाता है तो दिये गये विकल्पों में से उस चित्र का चुनाव कीजिए जो प्रश्न में दिये गये पद्धति का अनुसरण करता है?







- Choose the correct figure from the given alternative figures which when opened will result in figure Z?
- दी गई विकल्प आकृतियों में से सही आकृति चुनिए जो खोले जाने के बाद चित्र Z का प्रतिफल होगा?




(A)



(B)



(C)



(D)



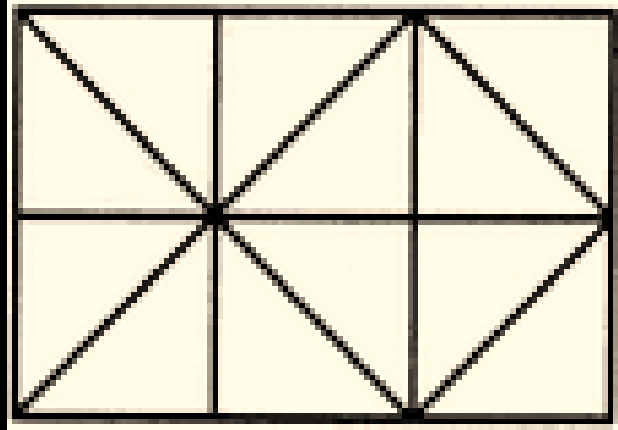
- Dilwara Jain Temple: Mount Abu :: Ellora Caves : ?  
दिलवाड़ा जैन मंदिर: माउंट आबू :: एलोरा की गुफाएं : ?




- A. Maharashtra  
B. Arunachal Pradesh  
C. Tamilnadu  
D. Rajasthan



- Find number of squares in figure?
- आकृति में वर्गों की संख्या ज्ञात कीजिए?



- A. 6
-  B. 9
- C. 7
- D. 10



- If '÷' stand for '+', '×' stands for '÷', '+' stands for '-' and '-' stands for '×' then solve the given equation
- यदि '÷' का अर्थ '+', '×' का अर्थ '÷', '+' का अर्थ '-' और '-' का अर्थ '×' है, तो दिए गए समीकरण को हल करें
- $20 \times 4 \div 5 + 5 \div 10 = ?$



A. 10

B. 12

 C. 15

D. 18



- Find the next term?
- अगला पद ज्ञात कीजिए?  
3, 4, 12, 45, ?



A. 90

B. 121

 C. 196

D. 169



- Find the next term?
- अगला पद ज्ञात कीजिए?  
2, 18, 95, 384, 1155, ?



A. 2212

B. 2214

 C. 2312

D. 2314



- Shyam walks 7 km. in the east. Then he turns to his right and moves 20 km, then he turns to his left and moves 5 km, then he turns to his left and moves 11 km. and then again he turned to his left and moves 12 km. Now in which direction is he from his starting point and how far ?
- श्याम 7 किमी चलता है। पूर्व में। फिर वह अपनी दायीं ओर मुड़ता है और 20 किमी चलता है, फिर वह अपनी बाईं ओर मुड़ता है और 5 किमी चलता है, फिर वह अपनी बाईं ओर मुड़ता है और 11 किमी चलता है। और फिर वह अपनी बाईं ओर मुड़ता है और 12 किमी चलता है। अब वह अपने शुरुआती बिंदु से किस दिशा में है और कितनी दूर है?



- A. 9 km South
- B. 64km East
- C. 20 km west
- D. 7 km south





- Statement :
- All Goat are Hat/सभी गोट हैट हैं
- Some Hat are Bat/कुछ हैट बैट हैं
- No Bat are Tap/कोई बैट टैप नहीं है
- Conclusions :
- All Tap are Goat/सभी टैप गोट हैं
- No Tap are Goat/कोई टैप गोट नहीं हैं






- In a row of 44 students. Q is 26th from right and P is 25th from left and Z is exactly mid of Q & P. what is rank of Z from left ?
- 44 छात्रों की एक पंक्ति में। Q दायें से 26वां है और P बाएं से 25वां है और Z, Q और P के ठीक मध्य में है। बाएं से Z का स्थान क्या है?



A. 17

B. 10

C. 21

 D. 22



- There are five members in a family, R is brother of T, M is sister of R, K is brother of M, W is father of T.
- एक परिवार में पांच सदस्य हैं, R, T का भाई है, M, R की बहन है, K, M का भाई है, W, T का पिता है।
- How many female members are there in a family?
- एक परिवार में कितनी महिला सदस्य हैं?



A. 1

B. 2

C. 3

 D. None of these