



# SSC CGL 2022



**REASONING**

**MOST EXPECTED  
PAPER**

**ALL SHIFTS | 03<sup>rd</sup> DEC**

**आज के EXAM पर आधारित**

**LIVE | 05:30 PM**

**BY MANDEEP MAHENDRAS**





जिंदगी एक बार मिलती है  
बिल्कुल गलत है,  
सिर्फ मौत एक बार मिलती है  
जिंदगी हर रोज मिलती है।

• 5, 11, 24, 51, 106, ?



A. 180

B. 200

C. 212

 D. 217

• CMM, EOO, GQQ, \_\_\_\_\_, KUU



A. GRR

B. GSS

A thick red arrow pointing from the left towards the text 'C. ISS'.

C. ISS

D. ITT



- Arrange the given words in the sequence in which they occur in the dictionary.
- दिए गए शब्दों को शब्दकोश में आने वाले क्रम में व्यवस्थित करें।  
Heart 2. Henry 3. Heavy 4. Hence 5. Hedge



A. 15342

B. 31452

C. 13425

 D. 13542



• In a certain code SACHIN is written as 311598. How is DRAVID written in that code ?

• एक निश्चित कोड में SACHIN को 311598 लिखा जाता है। उसी कोड में DRAVID को कैसे लिखा जाएगा?



A. 184495

B. 194495

 C. 194494

D. 49149

- ENTERTAIN=QOHPTILF
- JUKEBOXES=???



- A. HVCHCIDMB
- B. HCMKDCHNC
- C. HVDKINOCA
- D. HVMKDINHC





• CDEF : UVWX :: IJKL : ?



- A. BDFH
- B. OPQR
- C. LMNO
- D. STUV





• 6425 : 6357 :: 3658 : ?



A. 5726

 B. 9674

C. 8835

D. 5382



- Choose the letter or group of letters that is different from the others.
- अक्षर या अक्षरों का समूह चुनें जो अन्य से अलग है।



A. DG2

B. EK5


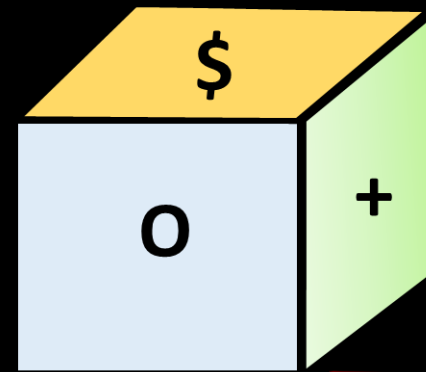
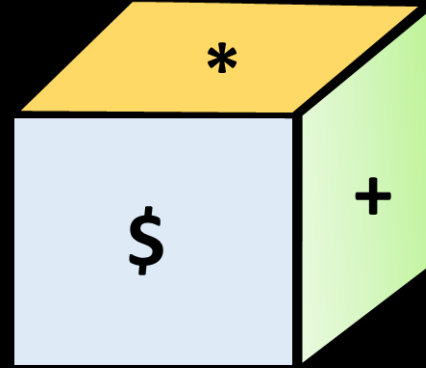
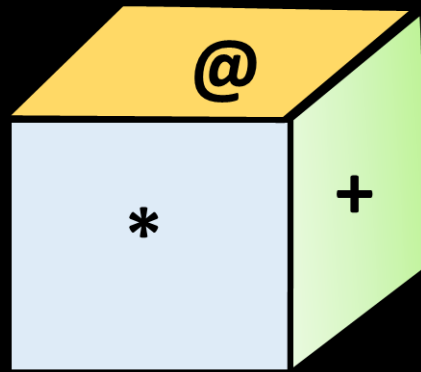
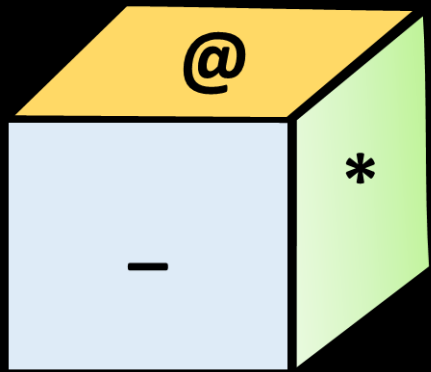
 C. JR6

D. PY8



Four positions of the dice are shown then find out what will happen on the surface opposite to 'O'?

पासा की चार स्थितियां दिखाई गई है तो ज्ञात कीजिए की 'O' के विपरीत सतह पर क्या होगा?



A. \*

B. \$

C. @


D. +





- $P \times Q$  means 'P is mother of Q'.
- $P - Q$  means 'P is father of Q'.
- $P \div Q$  means 'P is brother of Q'.
- $P + Q$  means 'P is sister of Q'.
- Which of the following means C is maternal grandfather of B?
- निम्नलिखित में से किसका अर्थ है कि C, B का नाना है?




-  A.  $C - D \times B$
- B.  $C \div D \times B$
- C.  $C - D - B$
- D.  $C \times D \times B$



- At the time of sunset, Sudhir started walking towards the sun, after walking 9 km, walked 2, 6 and 6 km to the left three times in a row, then find –
- सूर्यास्त के समय सुधीर ने सूर्य की ओर चलना शुरू किया, 9 किमी चलने के बाद लगातार तीन बार बायीं ओर 2, 6 और 6 किमी चला, तो ज्ञात कीजिये -



- A. 5 किमी दक्षिण-पश्चिम
- B. 6 किमी दक्षिण-पूर्व
- C. 6 किमी उत्तर-पूर्व
-  D. 5 किमी उत्तर-पश्चिम



- Statement :
- All Carrots are birds./सभी गाजर पक्षी हैं।
- Some telephones are Carrots./ कुछ टेलीफोन गाजर हैं।
- All bedsheets are telephone./सभी बेडशीट टेलीफोन हैं।
- Conclusions :
- (I) Some birds are telephone./कुछ पक्षी टेलीफोन हैं
- (II) All telephone are birds./सभी टेलीफोन पक्षी हैं





- Find the next term.  
अगला पद ज्ञात कीजिए।

- 3, 8, 35, 204, ?



A. 1420

 B. 1421

C. 1015

D. 821



- Find the next term.  
अगला पद ज्ञात कीजिए।

- 1, 6, 13, 24, 41, ?



A. 65

→ B. 66

C. 166

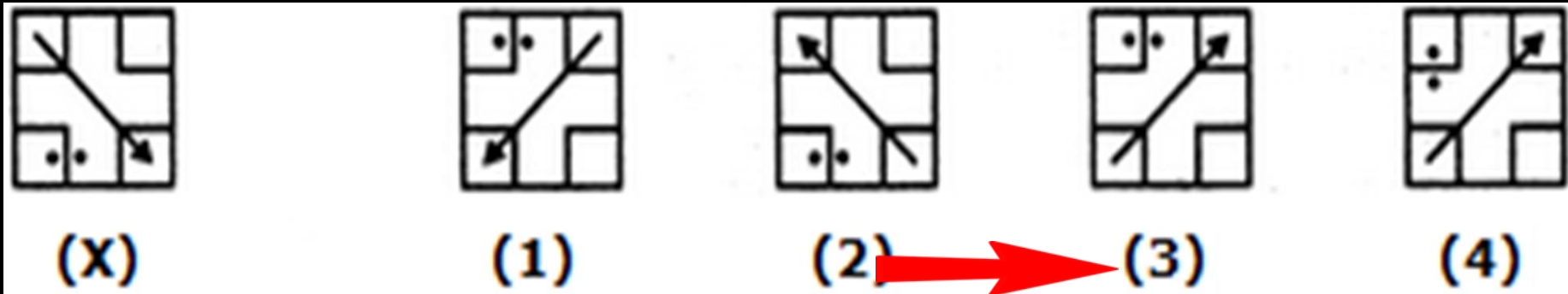
D. 64





Choose the correct water image of the given figure (X) from the four alternatives?

चार विकल्पों में से दिए गए चित्र (X) का सही जल प्रतिबिंब चुनें?





- What was the day of the week on 24 April 2013?
- 24 अप्रैल 2013 को सप्ताह का दिन क्या था?




- A. रविवार
- B. शुक्रवार
- C. गुरुवार
- D. बुधवार





- Six persons are sitting in a circle facing the centre. Parikh is sitting between Babita and Narendra. Asha sits between Chitra and Pankaj. Chitra is to the immediate right of Babita. Who is to the immediate left of Babita?
- छः व्यक्ति केंद्र की ओर मुख करके वृत्त में बैठे हैं। पारिख, बबिता और नरेंद्र के बीच में बैठा है। आशा, चित्रा और पंकज के बीच में बैठी है। चित्रा, बबिता के तत्काल दाये ओर है। बबिता के तत्काल बायीं तरफ कौन है?



- A. पंकज
-  B. पारिख
- C. नरेंद्र
- D. चित्रा