



# SSC CGGL 2022



**REASONING**

**MOST EXPECTED  
PAPER**

**ALL SHIFTS / 02<sup>ND</sup> DEC**

**आज के EXAM पर आधारित**

**LIVE | 05:30 PM**

**BY MANDEEP MAHENDRAS**





- "एक माटी का दिया है जो सारी रात अंधियारे से लड़ता है।  
तू तो भगवान का दिया है तू किस बात से डरता है हथेली  
पर रखकर नसीब तु क्यों अपना मुकद्दर ढूँढ़ता है सीख उस  
समंदर से जो टकराने के लिए पत्थर ढूँढ़ता है"



- Statement :
- Some A are B.
- No B are C.
- All C are D.
- Conclusions :
- (I) Some A being D is a possibility.
- (II) All A being D is a possibility




- Find the inclination of the hour hand of a clock at 3:30?
- घड़ी में 3:30 बजे पर घंटे की सुई का झुकाव ज्ञात कीजिए?



A. 105

B. 100

 C. 75

D. 102.5



- Find the next term.  
15, 25, 40, 130, ?



A.390

B.520

C.330

 D.510




- Kalyani is mother-in-law of veena who is sister-in-law of Ashok. Dheeraj is father of Sandeep who is only brother of Ashok. How Sandeep is related Kalyani?
- कल्याणी, वीणा की सास है जो अशोक की भाभी है। धीरज, संदीप का पिता है जो अशोक का इकलौता भाई है। संदीप, कल्याणी से कैसे संबंधित है?



- A. Son
- B. Son-in-law
- C. Brother
- D. Father



- Find number of squares in figure?
- आकृति में वर्गों की संख्या ज्ञात कीजिए?



A. 18

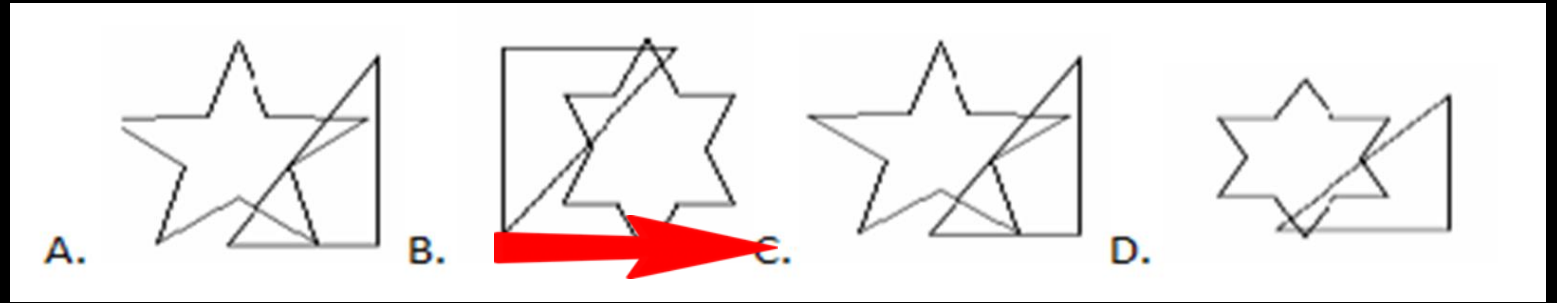
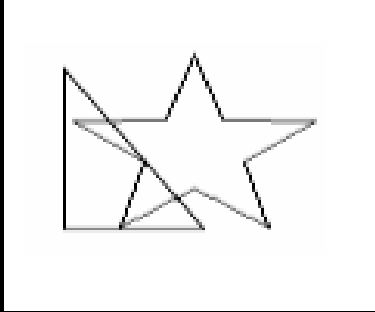
B. 19

C. 25

 D. 27



Choose the correct mirror image of the given figure (X) from amongst the four alternatives ?





• 2A11, 4D13, 12G17, ?



A. 36I19

B. 48J21

 C. 48J23

D. 36J21



- In each of the following question, four numbers are given, out of which three are alike in some manner while the fourth one is different. Choose the odd one.
- निम्नलिखित प्रत्येक प्रश्न में, चार संख्याएँ दी गई हैं, जिनमें से तीन किसी प्रकार से समान हैं जबकि चौथा भिन्न है। अजीब का चयन करें।



A. 21:24

B. 14:16

C. 28:32

 D. 54:62



- Choose the letter or group of letters which is different from others.
- वह अक्षर या अक्षरों का समूह चुनें जो अन्य से भिन्न हो।



A. CX

B. DW

C. JQ

 D. LR

• QDXM : SFYN :: UIOZ : ?



A. PAQM


B. LPWA

C. QNLA

 D. WKPA

• MZRV : REWA :: NCJZ : ?



-  A. SHOE  
B. SHIP  
C. SHOW  
D. SHAM



- In a certain code language, PERSON is written as EEGHDC. How is CORNER written in same code language?
- एक निश्चित कूट भाषा में PERSON को EEGHDC लिखा जाता है। उसी कूट भाषा में CORNER को किस प्रकार लिखा जाएगा?



- A. CDGCEG  
B. CDGEGE  
C. CDCGEG  
D. CEDCEG



- In a certain code a number RAHUL is written as 60 and MOHAN is written as 51. How is ANURAG written in that code ?
- एक निश्चित कोड में एक संख्या RAHUL को 60 और MOHAN को 51 लिखा जाता है। उस कोड में ANURAG को कैसे लिखा जाएगा?



A. 63

B. 64

 C. 62

D. 65




- In a row of 45 students, Atul is 9th from the left and Sima is 11th from the right. Golu is exactly between Atul and Sima. What is the rank of Golu from the right end?
- 45 छात्रों की एक पंक्ति में अतुल बाएं से 9 वें स्थान पर है और सिमा दाएं से 11 वें स्थान पर है। गोलू अतुल और सिमा के ठीक मध्य में है। गोलू की दायें छोर से रैंक क्या है?



A. 10

B. 17

 C. 24

D. 20





- Sonu walks 6 km in West, then he turns to his right and walks a distance of 8 km, then he turns to his left and walks a distance of 9 km, he takes a right turn and then walks 12 km. In which direction and how far is he now from his starting point?

- सोनू पश्चिम में 6 किमी चलता है, फिर वह अपने दाहिने ओर जाता है और 8 किमी की दूरी तय करता है, फिर वह अपने बाएं ओर जाता है और 9 किमी की दूरी तय करता है वह दाएं मुड़ना है और फिर 12 किमी चलता है। अब वह अपने शुरुआती बिंदु से किस दिशा में और कितनी दूर है?



A. 15 उत्तर पूर्व




B. 35 उत्तर पूर्व

→ C. 25 उत्तर पश्चिम

D. 45 दक्षिण पूर्व



- Which number will replace the question mark ?
- कौन सी संख्या प्रश्नवाचक चिह्न के स्थान पर आएगी?



A. 9

B. 7

C. 4

 D. 3

• 5, 11, 24, 51, 106, ?



A. 180

B. 200

C. 212

 D. 217



- ALOK, BABLOO, CHIRAG, DAZY, EKTA and FIROZ are seated in a circle facing centre. ALOK is second right of DAZY who is third left of FIROZ. CHIRAG is third right of EKTA and is not immediate neighbour of FIROZ. Who is third to the left of EKTA?

- आलोक, बबलू, चिराग, डेज़ी, एकता और फ़िरोज़ केंद्र की ओर मुख करके एक वृत्त में बैठे हैं। आलोक, DAZY के दायें से दूसरे स्थान पर है जो फ़िरोज़ के बायें से तीसरे स्थान पर है। चिराग, एकता के दायें से तीसरा है और फ़िरोज़ का निकटतम पड़ोसी नहीं है। एकता के बायें तीसरा कौन है?



A. ALOK

→ B. CHIRAG

C. DAZY

D. EKTA