



SSC CGL 2022-23



महामैराथन

MOST EXPECTED QUESTIONS



LIVE | 08:00 AM

- A number of friends decided to go on a picnic and planned to spend Rs. 96 on eatables. Four of them, however, did not turn up. As a consequence, the remaining ones had to contribute Rs. 4 each extra. The number of those who attended the picnic was

- कई दोस्तों ने पिकनिक पर जाने का फैसला किया और रुपये खर्च करने की योजना बनाई। खाने-पीने की चीजों पर 96. लेकिन इनमें से चार नहीं आए। नतीजतन, शेष लोगों को रुपये का योगदान देना पड़ा। 4 प्रत्येक अतिरिक्त। पिकनिक में शामिल होने वालों की संख्या थी



→ A.8

B.12

C.16

D.24

- Suresh's sister is the wife of Ram. Ram is the brother of Rani. Ram's father is sweet. Sheetal is the grandmother of Ram. Reema is the daughter-in-law of Sheetal. Rohit is the son of Rani's brother. What do you think of Rohit Suresh?
- सुरेश की बहन राम की पत्नी है। राम रानी के भाई है। राम का बाप मधुर है। शीतल राम की दादी हैं। रीमा शीतल की बहू है। रोहित रानी के भाई का बेटा है। रोहित सुरेश का क्या लगता है ?

A. पुत्र

→ B. भांजा

C. साला

D. भाई



• 21 : 3 :: 574 : ?



A.23

→ B.82

C.97

D.113

• 32, 58, 92, 134, ?



→ A.184

B.194

C.156

D.169

•ba_ abab_ b_ ba_ aba



A.abab

B.aabb

→ C.baab

D.bbaa

- In a row of 25 boys, when Rahul was shifted three places towards right, he becomes 8th from the right end. What was his earlier position from the left end in the row?
- 25 लड़कों की एक पंक्ति में, जब राहुल को तीन स्थान दाईं ओर स्थानांतरित किया गया, तो वह दायें छोर से 8वां हो जाता है। पंक्ति में बायें छोर से उसका पहले का स्थान क्या था?



A.14

B.16

→ C.15

D.17

- Harish walks 10 km towards East. He turns to his left and walks 8 km. He turns to his left and walks 6 km. He takes a final left turn and walks 5 km. How far is he now from his starting point?
- हरीश पूर्व की ओर 10 किमी चलता है। वह अपने बाएं मुड़ता है और 8 किमी चलता है। वह अपने बाएं मुड़ता है और 6 किमी चलता है। अंतिम बार वह अपने बाएं मुड़ता है और 5 किमी चलता है। अब वह अपने शुरुआती बिंदु से कितना दूर है?



A.2

→ B.5

C.15

D.12

- Several passengers were stranded at the airport as all the flights had to be cancelled due to severe snowfall for the third consecutive day.
- कई यात्री हवाईअड्डे पर फंसे हुए हैं क्योंकि लगातार तीसरे दिन भारी बर्फबारी के कारण सभी उड़ानें रद्द करनी पड़ीं।
- Course of Action
- I. All the flights should be immediately resumed. सभी उड़ानों को तुरंत फिर से शुरू किया जाना चाहिए
- II. Airport authority should provide appropriate stay arrangements for the stranded passengers. हवाई अड्डा प्राधिकरण को फंसे हुए यात्री के लिए उपयुक्त रहने की व्यवस्था



- Reaching the place of Meeting 20 min. Before 8: 50 h. Sanjay found himself 30 min. earlier than the person who came 40 min. late. What was the scheduled time meeting?
- मिलने के स्थान पर 8: 50 से 20 मिनट पहले पहुंचकर संजय ने 40 मिनट देरी से आने वाले व्यक्ति की तुलना में 30 मिनट पहले खुद को पाया। मिलने का नियमित समय क्या था ?



A.8:09

B.8:05

→ C.8:20

D.8:10

- Ram's age is twice of Shyam's age and half of Suresh's age. If the sum of their ages is 70, then what will be the age of Ram?
- राम की आयु श्याम की आयु से दोगुनी है और सुरेश की आयु से आधी है। यदि उनकी आयु का योग 70 हो, तो राम की आयु कितनी होगी?



A.30

B.10

C.40

→ D.20

- Six persons are posing before a camera for a group photograph. P is standing exactly between N and S, while Q is to the immediate left of N. O is at the extreme right, while R is to his immediate left. Who is to the exact right of S?
- एक समूह तस्वीर के लिए छह व्यक्ति एक कैमरे के सामने पोज दे रहे हैं। P, N और S के ठीक बीच में खड़ा है, जबकि Q, N के ठीक बायें है। O एकदम दायें है, जबकि R उसके ठीक बायें है। S के ठीक दायें कौन है?



A.P

B.N

→ C.R

D.Q

- Eight students A, B, C, D, E, F, G and H are sitting around a circular table, at equal distances from each other. If B is seated in the north-east direction, in which direction is H seated?
- आठ छात्र A, B, C, D, E, F, G और हरे एक दूसरे से समान दूरी पर एक गोलाकार मेज के चारों ओर बैठे हैं। यदि B उत्तर-पूर्व दिशा में बैठा है, तो H किस दिशा में बैठा है?



A. South-west

B. North-east

C. South-east

 D. North-west

• 4:8:: 16: ?



A.21

B.120

→ C.128

D.20

• Statement-

- Some trees are not green
- No green is river

• Conclusion-

- Some green are not trees
- Some green are river
- Some trees may be green
- Some trees are river
- Some river may be trees



1. All follows

2. Only 1st 2nd and 3rd follows

3. Only 1st and 3rd follows

→ 4. Only 3rd and 5th follows


5. Only 1st 3rd and 5th follows

- In a certain code COMPUTER is written as RFUVQNPC, how is MEDICINE written in the same code
- एक निश्चित कोड में COMPUTER को RFUVQNPC लिखा जाता है, उसी कोड में MEDICINE को कैसे लिखा जाएगा?



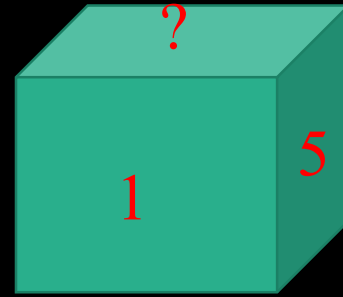
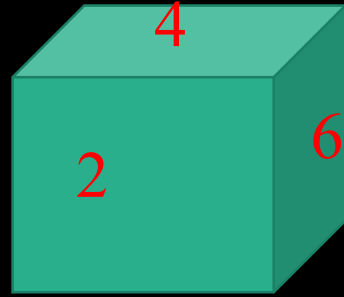
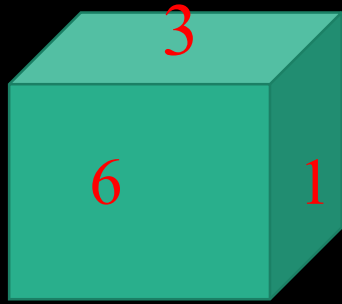
- A.EOJDJEFM
B.EOJDEJFM
C.MFEJDJOE
D.MFEDJJOE

• COUNT THE TRINGLE



- A.40
-  B.41
- C.39
- D.42

• FIND THE VALUE OF MISSING



→ A.3

B.2

C.6

D.4

9 5 6

7 6 7

4 8 ?


252 240 210



A.4

B.5

C.6

 D.3