



SSC CHSL 2022-23




REASONING

MOCK TEST **#1**
TARGET 50/50



अंतिम प्रहार

BY MANDEEP MAHENDRAS



LIVE

05:30 PM





SSC CHSL (10+2) 2022



@surbhisinha7315 12 hours ago 4 subscribers

Homework question answer 🙌 option dddd daughter in law 100

👍 🗨 Reply

📄 • 1 reply



@Ravi.1 14 hours ago 5 subscribers

D 🌿 🌿

👍 1 🗨 Reply



@indukumari8754 17 hours ago

D option sir ji 🙌 🙌

👍 🗨 Reply

📄 • 1 reply



@suruchijha393 15 hours ago

Hw answer option D thank you sir 🙌


👍 🗨 Reply

📄 • 1 reply



@arpitsharma924 17 hours ago

Homework Answer is option d daughter in law



@krishnakantmallick397 17 hours ago

H.w-D

👍 🗨 Reply

📄 • 1 reply



@rituparnabiswas3987 17 hours ago

option:D
daughter in low

👍 🗨 Reply

📄 • 1 reply



@user-xw2hd7ei7g 15 hours ago 71 subs

D - Daughter in Law

👍 🗨 Reply

📄 • 1 reply



@rajibsaha1428 17 hours ago 13 subscri

HW)
DAUGHTER IN LAW

👍 🗨 Reply



@bipulrana4833 12 hours ago

Hw Ans Option D



@bipulrana4833 12 hours ago

Hw. Ans. Option. D.
Daughter in low


👍 🗨 Reply



@abhishekchauhan203 17 hours ago 1 subscribers

Answer hai sir 🙌

👍 🗨 Reply



@subhamoyghosh8498 5 hours ago

D daughter in law

👍 🗨 Reply



@minakshedeви5758 12 hours ago

Option D


👍 🗨 Reply



@priyankanayak4111 15 hours ago 1 subscribers

D is answer

👍 🗨 Reply



@zikrayasmeen4058 15 hours ago

Option D

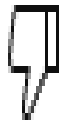


SSC CHSL (10+2) 2022



@surendrasharma31 11 hours ago 2 subscribers

Daughter in law



Reply



@abhishekchauhan203 17 hours ago 1 subscribers

Daughter in law



Reply





SSC CHSL (10+2) 2022



- Shalini's husband, Prakash, is the son of Karthik. Soumita is the wife of Nishant, who is the son of Jhanvi. If Ankur's daughter Jhanvi is married to Karthik, then how is Shalini related to Jhanvi?
- शालिनी का पति, प्रकाश, कार्तिक का पुत्र है। सौमिता, निशांत की पत्नी है, जो जान्हवी का पुत्र है। यदि अंकुर की पुत्री जान्हवी का विवाह कार्तिक से हुआ है, तो शालिनी का जान्हवी से क्या सम्बन्ध है?




- A. Daughter./ पुत्री
- B. Sister-in-law / Sister-in-law./भाभी / ननद
- C. Sister./बहन
- D. Daughter in law./बहू



SSC CHSL (10+2) 2022



- Choose the alternative which is closely resembles the mirror image of the given combination.
- उस विकल्प को चुनें जो दिए गए संयोजन की दर्पण छवि के समान है।



(X)

(A)

(B)

(C)

→ (D)

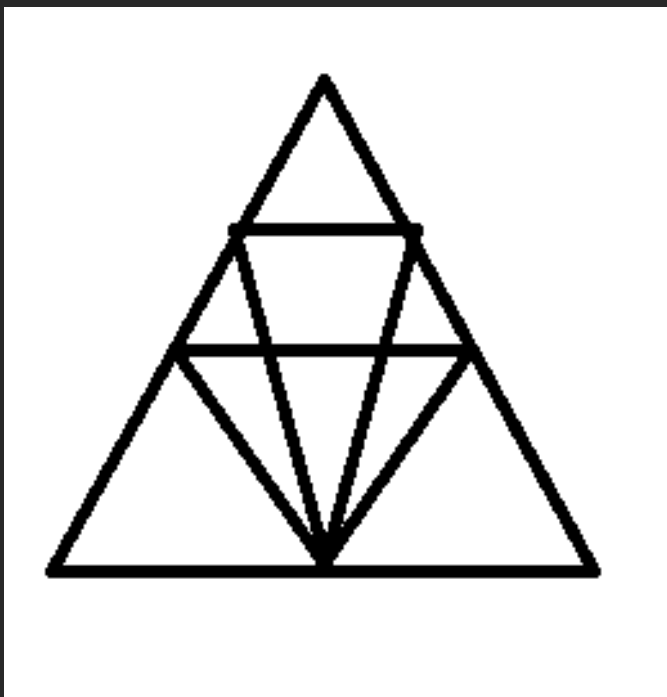




SSC CHSL (10+2) 2022



- In the following question number of triangle are
- निम्नलिखित प्रश्न में त्रिभुजों की संख्या है



A. 12

B. 18

C. 22

D. 26



SSC CHSL (10+2) 2022



- Select the number from the given alternatives which can replace the question mark (?) in the following series.
- दिए गए विकल्पों में से उस संख्या का चयन कीजिए जो निम्नलिखित श्रृंखला में प्रश्न चिन्ह (?) को प्रतिस्थापित कर सकती है।
- 85, 84, 92, 65, 129, ?



A. 258

→ B. 4

C. 177

D. 329



SSC CHSL (10+2) 2022



- Select the number from the given alternatives which can replace the question mark (?) in the following series.
- दिए गए विकल्पों में से उस संख्या का चयन कीजिए जो निम्नलिखित श्रृंखला में प्रश्न चिन्ह (?) को प्रतिस्थापित कर सकती है।
- 5, 6, 14, 23, 87, ?



A. 112

B. 212

C. 69

D. None of these



SSC CHSL (10+2) 2022



- X walked from point A to B. Then he took a right turn and walked 17 feet. He again took a right turn and walked a distance equal to that of A to B. He again turned right and walked 9 feet. How far is he now from the starting point?
- X, बिंदु A से B तक चला। फिर वह दाएं मुड़ा और आगे 17 फीट चला। वह फिर से दाएं मुड़ा और एक दूरी तक चला, जो कि A से B के बराबर है। वह फिर से दाएं मुड़ा और आगे 9 फीट चला। अब वह शुरूआती बिंदु से कितना दूर है?



- A. 7 फीट
- B. 7.5 फीट
- C. 8 फीट
- D. 9 फीट





SSC CHSL (10+2) 2022



- In a class of 60 children, where the number of girls is twice that of boys, Kamal stood 16th from the top. If 9 girls are ahead of Kamal, then how many boys are there after him? (if kamal is a boy).


- 60 बच्चों की एक कक्षा में, जहाँ लड़कियों की संख्या लड़कों से दोगुनी है, कमल ने ऊपर से 16वाँ स्थान प्राप्त किया। यदि 9 लड़कियाँ कमल से आगे हैं, तो उसके बाद कितने लड़के हैं? (यदि कमल एक लड़का है)

Handwritten solution:

$3 = 60$
 $1 = 20$

G : B
 2 : 1
 40

Kamal 16th
 13



- A. 13
- B. 7
- C. 12
- D. 23



SSC CHSL (10+2) 2022



- 'House' is related to 'Foundation' in the same way as 'Tree' is to '...' [SSC CHSL 2020]
- घर' का 'नींव' से वही संबंध है, जो 'पेड़' का '.....



- A. Soil./मिट्टी
- B. Branch./शाखा
- C. Root./जड़
- D. Stem./तना



SSC CHSL (10+2) 2022



- 'Ethiopia' is related to 'Africa' in the same way as 'Brazil' ' ' is from.
- 'इथियोपिया' का संबंध 'अफ्रीका' से उसी प्रकार है जैसे 'ब्राजील' का है।



- A. ब्रासीलिया
- B. दक्षिण अमेरिका
- C. अफ्रीका
- D. उत्तरी अमेरिका



SSC CHSL (10+2) 2022



- Study the given pattern carefully and choose the number which can replace the question mark (?).
- दिए गए स्वरूप का ध्यानपूर्वक अध्ययन कीजिये और उस संख्या का चयन कीजिये जो प्रश्नवाचक चिह्न (?) को प्रतिस्थापित कर सके।

• पहली पंक्ति- 3, 43, 4

• दूसरी पंक्ति - 6, 241, 5

• तीसरी पंक्ति- ②?, ①①

$$3^3$$

$$27 + 16 = 43$$

$$216 + 25 = 241$$

$$8 + 121 = 129$$



A. 173

B. 192

C. 137

D. 129





SSC CHSL (10+2) 2022



- Statement:
- Some butter is honey./कुछ बटर हनी है.
- Some honey is bread./कुछ हनी ब्रेड है.
- All bread are jam./सभी ब्रेड जैम हैं
- conclusion:
- Some jam is honey./कुछ जैम हनी हैं ✓
- All honey is butter./सभी शहद मक्खन है। ✗
- Some Jam is butter./कुछ जैम बटर हैं ✗





SSC CHSL (10+2) 2022



- If 21st June 2007 was a Thursday, then what day of the week was it on 21st June 2011?
- यदि 21 जून 2007 को गुरुवार था, तो 21 जून 2011 को सप्ताह का कौन सा दिन था?

2008 - 2
09 - 1
10 - 1
11 - 1



- A. Wednesday
- B. Monday
- C. Sunday
- D. Tuesday





SSC CHSL (10+2) 2022



- Select the option that gives the correct order of the given words as they would appear in the English dictionary.
- उस विकल्प का चयन कीजिए जो दिए गए शब्दों के सही क्रम को दर्शाता है, जिस प्रकार वे अंग्रेजी शब्दकोश में दिखाई देंगे।

- 1. ~~Adequate~~
5
- 2. ~~Adoption~~
15
- 3. ~~Addiction~~
4
- 4. ~~Abduction~~
2
- 5. ~~Advertisement~~
22

4-3



A. 4,3,1,2,5

~~B. 3,2,4,1,5~~

~~C. 3,1,4,2,5~~

~~D. 4,2,1,3,5~~



SSC CHSL (10+2) 2022



- In a given number pair, the second number is obtained by performing some mathematical operation/operations on the first number. The same operations are followed in all the number pairs except one. Find the odd number pair.
- दी गई संख्या युग्मों में दूसरी संख्या पहली संख्या पर कुछ गणितीय संक्रिया/संक्रियाएँ करके प्राप्त की जाती है। एक को छोड़कर, सभी संख्या युग्मों में समान संक्रियाओं का अनुसरण किया जाता है। विषम संख्या युग्म ज्ञात कीजिए।



- A. 361:332
B. 533:504
C. 440:411
D. 520:481





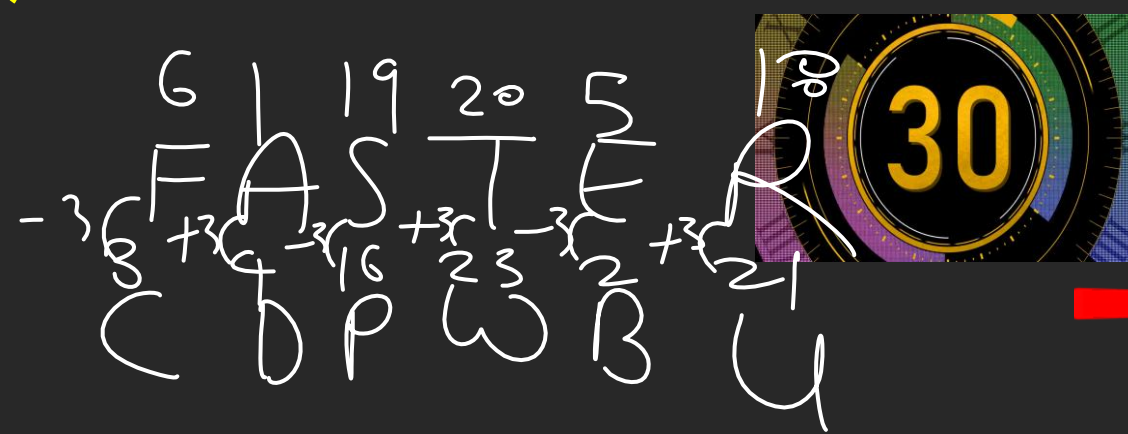
SSC CHSL (10+2) 2022



• In a certain code language FASTER is written as CDPWBU. How will VIOLIN be written in that language? [SSC - CGL 2020]

• किसी निश्चित कूट भाषा में FASTER को CDPWBU लिखा जाता है। उसी भाषा में VIOLIN को कैसे लिखा जाएगा ?

VIOLIN
²² V ⁹ I ¹⁴ O ¹⁹ L ² I ¹³ N
 SL Q



- ~~A. RLTIK~~
- ~~B. SLIRLM~~
- C. SLLOFQ**
- ~~D. SKIRKO~~

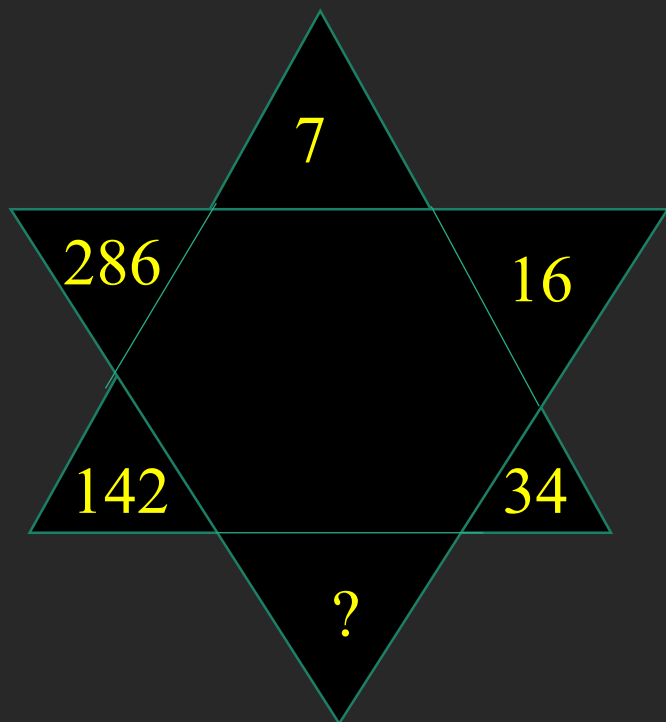




SSC CHSL (10+2) 2022



- Find the value of question mark?
- प्रश्नवाचक चिन्ह का मान ज्ञात कीजिये?



A. 66

B. 68

→ C. 70

D. 72



SSC CHSL (10+2) 2022



- Find the value of question mark?
- प्रश्नवाचक चिन्ह का मान ज्ञात कीजिये?



A. 6

B. 7

C. 8

 D. 9



SSC CHSL (10+2) 2022



- A wall clock lags behind by 7 seconds in one hour and is corrected at 8 a.m. What time will it show at 3 p.m. on the same day?
- एक दीवार घड़ी एक घंटे में 7 सेकंड पीछे हो जाती है और इसे प्रातः 8 बजे ठीक कर दिया जाता है, यह उसी दिन दोपहर 3 बजे क्या समय दिखाएगी?



- A. संध्या 2:59:23
- B. संध्या 2:59:11
- C. संध्या 2:59:15
- D. संध्या 2:59:19