



# SSC GD 2022-23



# महामैराथन

सभी महत्वपूर्ण प्रश्न एक जगह

#5



दोपहर 03:00 बजे से लगातार



# SSC GD 2022-23



- At what time between 5:30 and 6:00 on a clock will both the hands be at right angles?
- घड़ी में 5:30 और 6:00 बजे के बीच दोनों सुईयां किस समय समकोण पर होंगी?



- A. 5:43
- B. 5:45 **7/11**
- C. 5:43 **7/11**
- D. 5:45



# SSC GD 2022-23



- The calendar of the year 1976 will be like the calendar of which year?
- वर्ष 1976 का कलैण्डर किस वर्ष के कलैण्डर के समान होगा?



- A. 1982
- B. 2004
- C. 1987
- D. 1996



# SSC GD 2022-23



- If + means  $-$ ,  $-$  means  $\times$ ,  $\div$  means  $+$  and  $\times$  means  $\div$ , then-
- $25 \times 5 \div 8 - 4 + 7 = ?$



A. 44

B. 30

C. 7

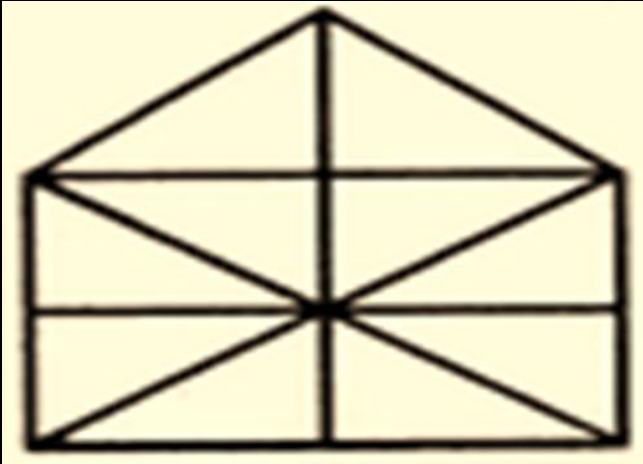
D. 24



# SSC GD 2022-23



- Find the number of triangles in the figure?
- आकृति में त्रिभुजों की संख्या ज्ञात करें?



- A. 10
- B. 19
- C. 21
- D. 23



# SSC GD 2022-23



- Statement: An advertisement: "Our shoes are for the rich.
- कथन: एक विज्ञापन: "हमारे जूते अमीरों के लिए हैं।
- Assumption:
  - (I) Many people like to be labeled as rich.
  - (II) One cannot become rich unless one has a brand of shoes.
- पूर्वधारणा:
  - (I) कई लोगों को अमीर के रूप में लेबल करना पसंद है।
  - (II) जब तक किसी के पास जूते का ब्रांड नहीं होता है तब तक कोई अमीर नहीं बन सकता है।





# SSC GD 2022-23



- Aniket is 5 times older than her sister priya, who is two years less than his brother shyam. If Shyam is 8 years old, then what will be the age of Aniket?
- अनिकेत अपनी बहन प्रिया से 5 गुना बड़ा है, जो अपने भाई श्याम से दो वर्ष छोटी है। यदि श्याम की आयु 8 वर्ष है, तो अनिकेत की आयु क्या होगी?



- A. 30 years
- B. 24 years
- C. 40 years
- D. 28 years



- A, B, C, D, E, F and G are sitting around a circle facing the centre, but not necessarily in the same order. D is not second to the left of F, but D is second to the right of A. C is third to the right of A and C is second to the left of G. B is not an immediate neighbor of G.
- A, B, C, D, E, F और G केंद्र की ओर मुह करके एक व्रत के गिर्द बैठे हैं, पर जरूरी नहीं की इसी क्रम में। D, F के बाएं दूसरा नहीं है, लेकिन D, A के दाएं दूसरा है। C, A के दाएं तीसरा है और C, G के बाएं दूसरा है। B, G का निकटस्थ पड़ोसी नहीं है।
- Who is on the immediate right of C?
- C के एकदम दाएं कौन है ?



- A. D
- B. G
- C. E
- D. B









# SSC GD 2022-23



- Which of the following diagrams indicates the relationship between Paper, Stationery and Ink?
- निम्नलिखित में से कौन सा चित्र पेपर, स्टेशनरी और इंक के बीच संबंध इंगित को करता है?





# SSC GD 2022-23



- What number will come in place of the question mark?
- प्रश्न चिन्ह के स्थान पर कौन सी संख्या आएगी ?

|   |   |    |
|---|---|----|
| 7 | 6 | 17 |
| 8 | 4 | 18 |
| 5 | 8 | ?  |



- A. 17
- B. 14
- C. 16
- D. दोनों 17 और 14



- Introducing Sonia, Aamir says, "She is the wife of only nephew of only brother of my mother." How is Sonia related to Aamir?
- सोनिया का परिचय देते हुए आमिर कहते हैं, "वह मेरी मां के इकलौते भाई के इकलौते भतीजे की पत्नी है." सोनिया आमिर से कैसे संबंधित है?



- A. Wife
- B. Sister-in-law
- C. Sister
- D. CND



# SSC GD 2022-23



- One evening before sunset, Mohan and Sohan were standing face to face and talking to each other. If Sohan's shadow was on the immediate right of Sohan, then what was the direction of Mohan?
- एक शाम को सूर्यास्त से पहले मोहन और सोहन आमने-सामने खड़े होकर एक दूसरे से बात कर रहे थे। अगर सोहन की छाया सोहन के बिल्कुल दायें पर थी, तो मोहन की दिशा क्या थी ?



- A. North
- B. South
- C. East
- D. None of these



# SSC GD 2022-23



- In a row of 25 students. X is 19th from the right and Y is 21st from the left. How many students are there between X and Y?
- 25 छात्रों की एक पंक्ति में X दाएं ओर से 19 वें स्थान पर है और Y बाएं ओर से 21 वें स्थान पर है। X और Y के बीच कितने छात्र हैं?



- A. 21
- B. 13
- C. 10
- D. 6