



MISSION SSC 2024



TOPIC BOOSTER



REASONING

FIGURES COUNTING



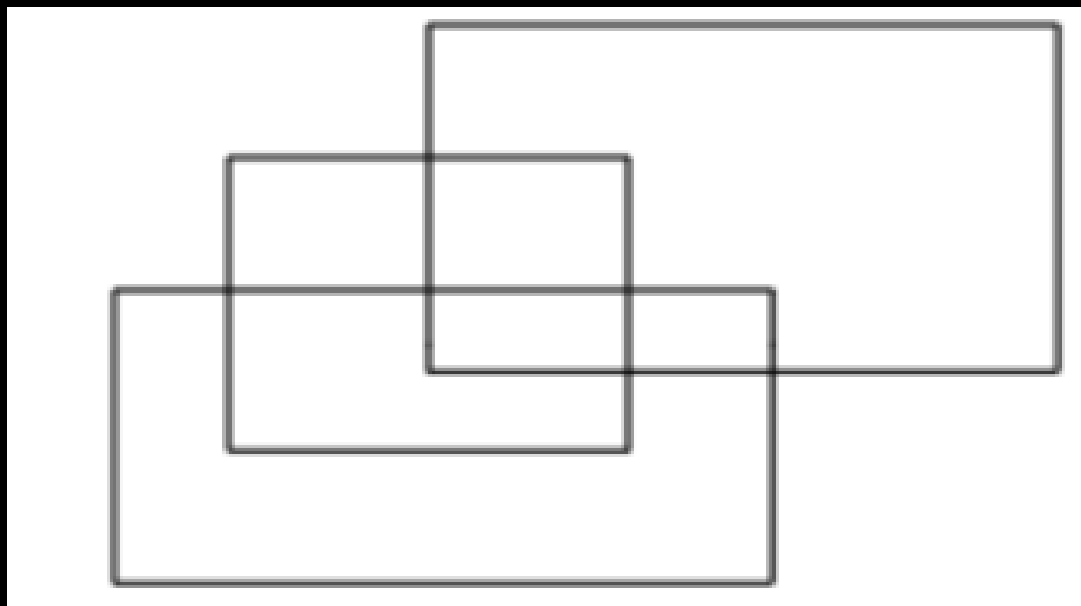
LIVE 07:00 PM



MISSION SELECTION - SSC 2024



Q.1 How many rectangles are there in the given figure?
दी गई आकृति में कितने आयत हैं?



- (A) 12
- (B) 9
- (C) 10
- (D) 11



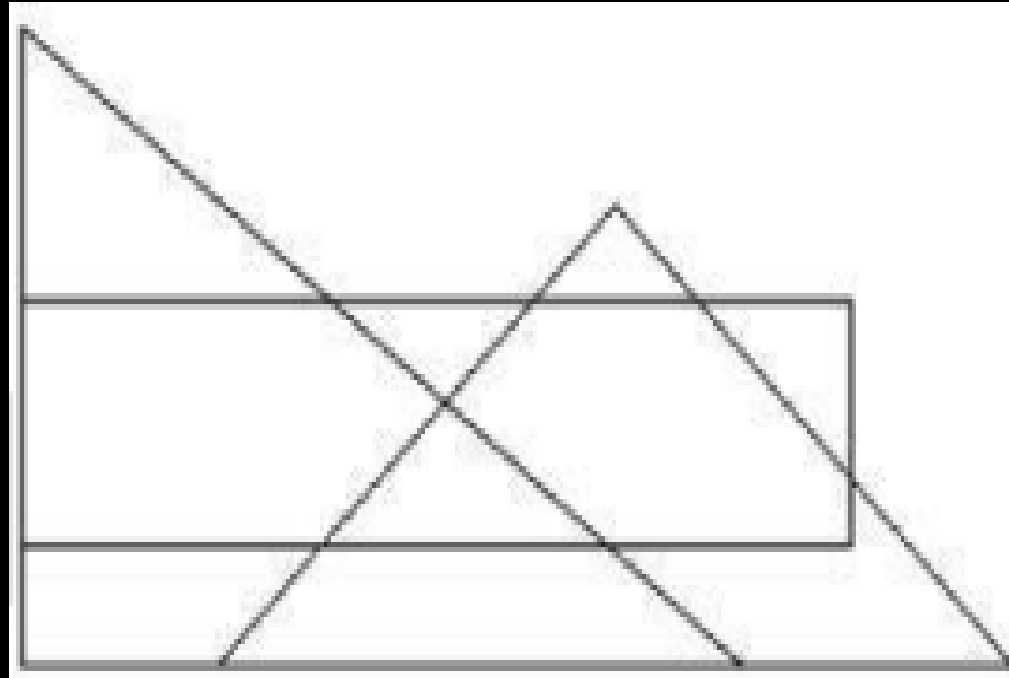


MISSION SELECTION - SSC 2024



Q.2 How many triangles are there in the given figure?

दी गई आकृति में कितने त्रिभुज हैं?



- (A) 5
- (B) 7
- (C) 8
- (D) 9



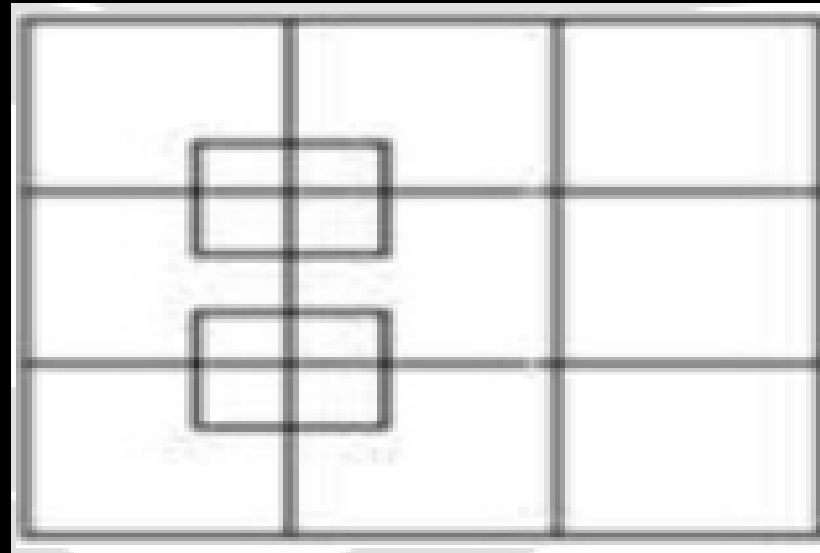


MISSION SELECTION - SSC 2024



Q.3 How many squares are there in the given figure?

दी गई आकृति में कितने वर्ग हैं?



(A) 27

(B) 25

(C) 24

(D) 26



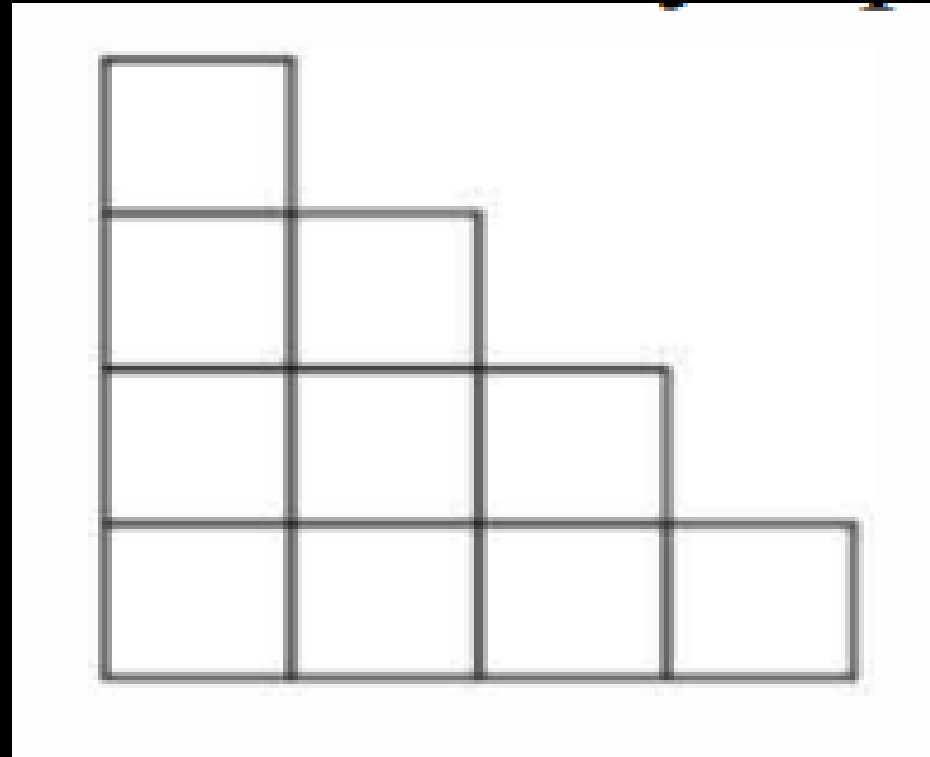


MISSION SELECTION - SSC 2024



Q.4 How many squares are there in the given figure?

दी गई आकृति में कितने वर्ग हैं?



- (A) 15
- (B) 13
- (C) 11
- (D) 18



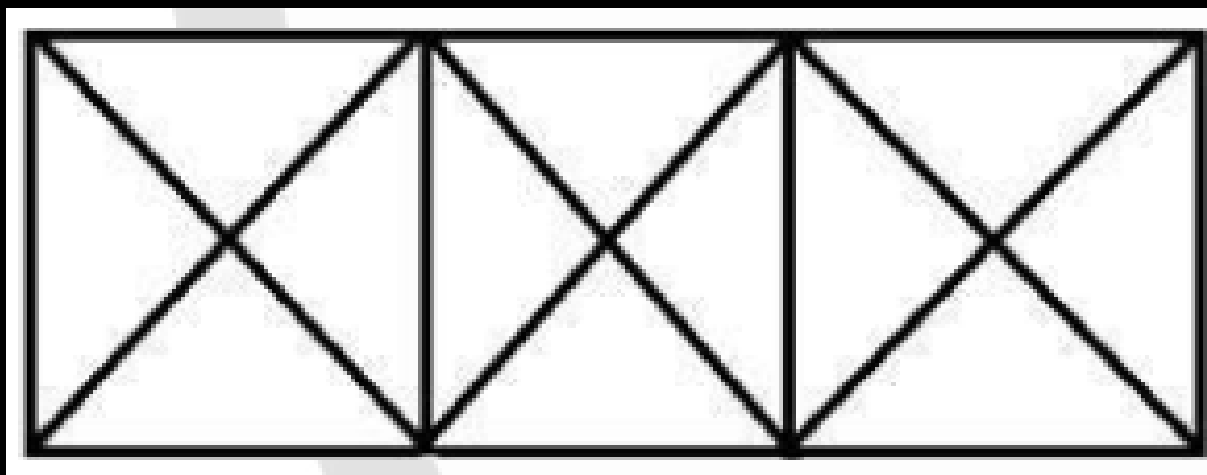


MISSION SELECTION - SSC 2024



Q.5 How many squares are there in the given figure?

दी गई आकृति में कितने वर्ग हैं?



(A) 6

(B) 4

(C) 3

(D) 5



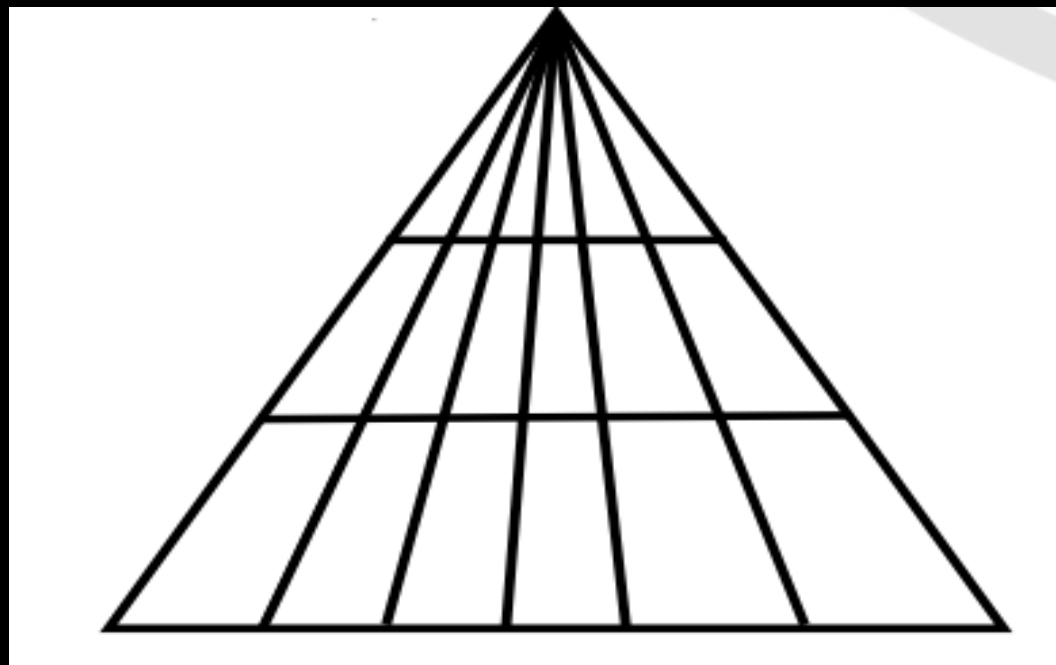


MISSION SELECTION - SSC 2024



Q.6 . How many triangles are there in the given figure ?

दी गई आकृति में कितने त्रिभुज हैं?



- (A) 60
- (B) 64
- (C) 61
- (D) 63






MISSION SELECTION - SSC 2024



Q.7. How many triangles are there in the given figure ?

दी गई आकृति में कितने त्रिभुज हैं?



(A) 11

(B) 14

(C) 12

(D) 13



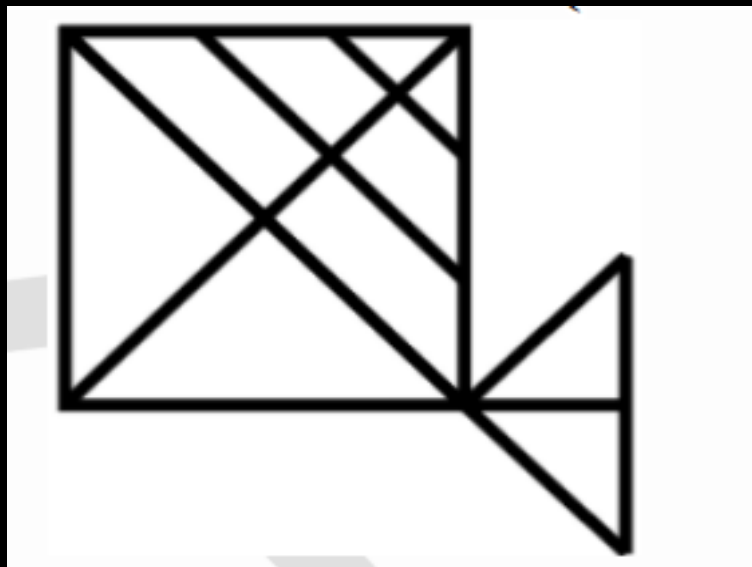


MISSION SELECTION - SSC 2024



Q.8. How many triangles are there in the given figure ?

दी गई आकृति में कितने त्रिभुज हैं?



(A) 17

(B) 18

(C) 15

(D) 16



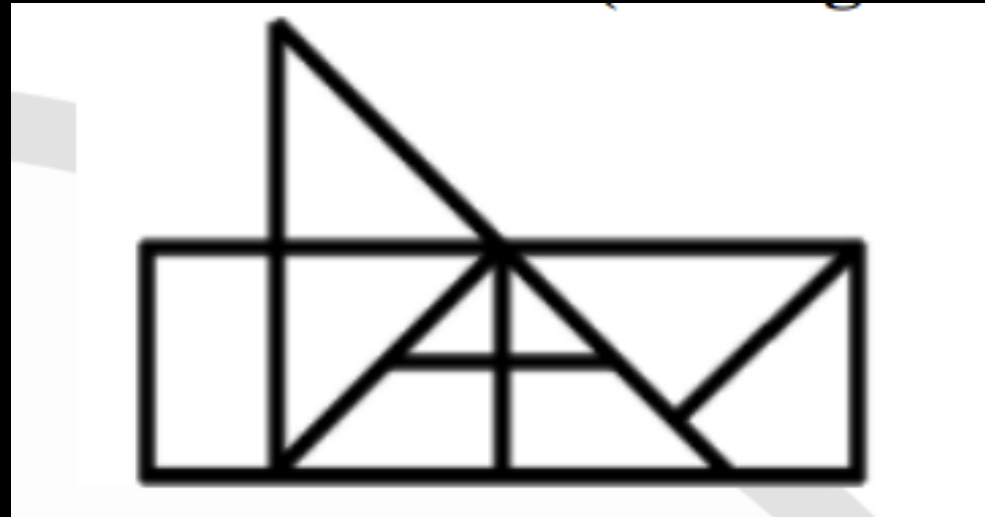


MISSION SELECTION - SSC 2024



Q.9. How many triangles are there in the given figure ?

दी गई आकृति में कितने त्रिभुज हैं?



(A) 10

(B) 12

(C) 11

(D) 13



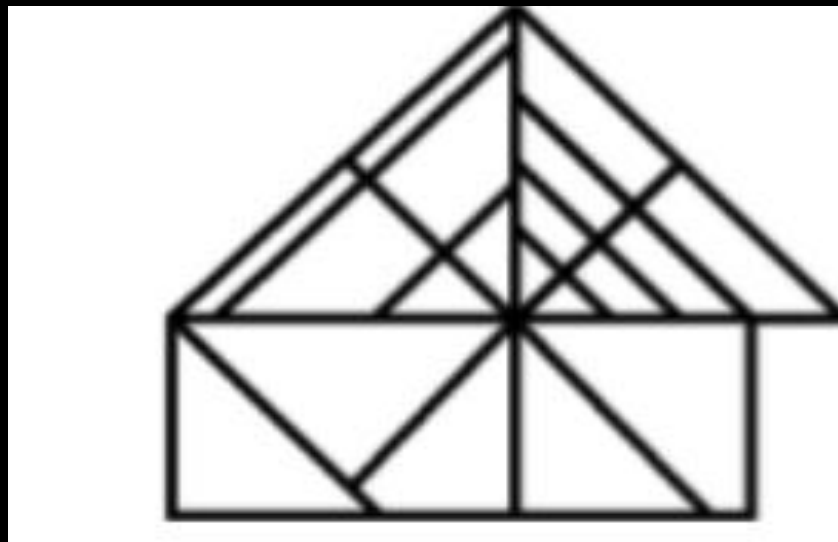


MISSION SELECTION - SSC 2024



Q.10 How many triangles are there in the given figure ?

दी गई आकृति में कितने त्रिभुज हैं?



- (A) 27
- (B) 26
- (C) 24
- (D) 25






MISSION SELECTION - SSC 2024



Q.11. How many triangles are there in the given figure ?

दी गई आकृति में कितने त्रिभुज हैं?



(A) 27

(B) 26

(C) 20

(D) 24



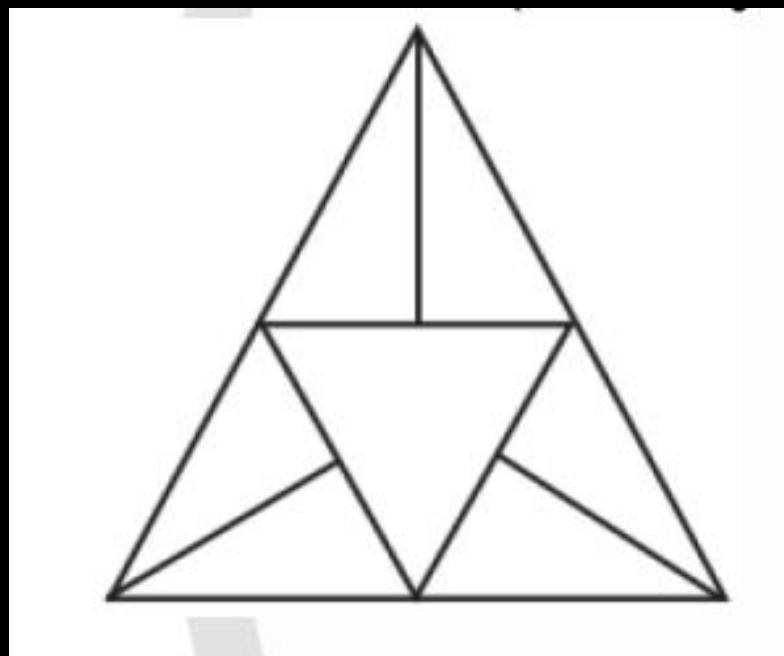


MISSION SELECTION - SSC 2024



Q.12. How many triangles are there in the given figure ?

दी गई आकृति में कितने त्रिभुज हैं?



(A) 10

(B) 11

(C) 12

(D) 14



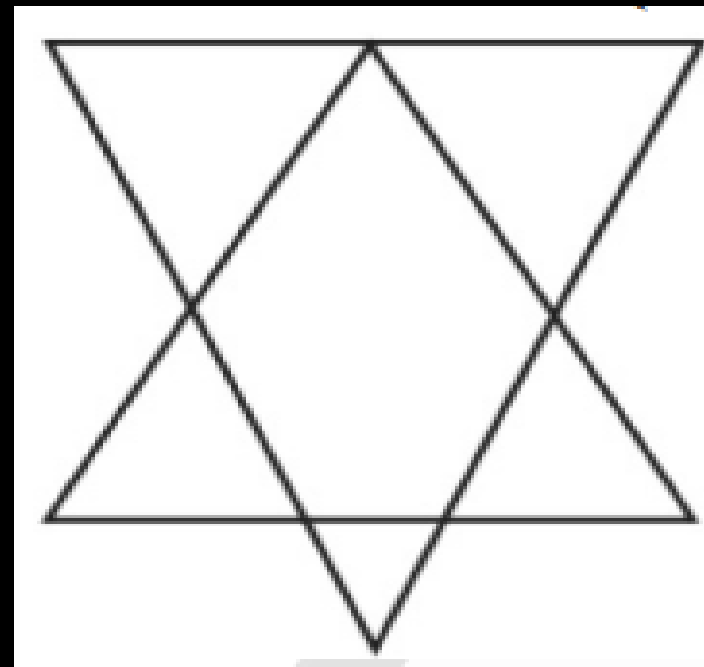


MISSION SELECTION - SSC 2024



Q.13 How many triangles are there in the given figure ?

दी गई आकृति में कितने त्रिभुज हैं?



- (A) 6
- (B) 7
- (C) 8
- (D) 10



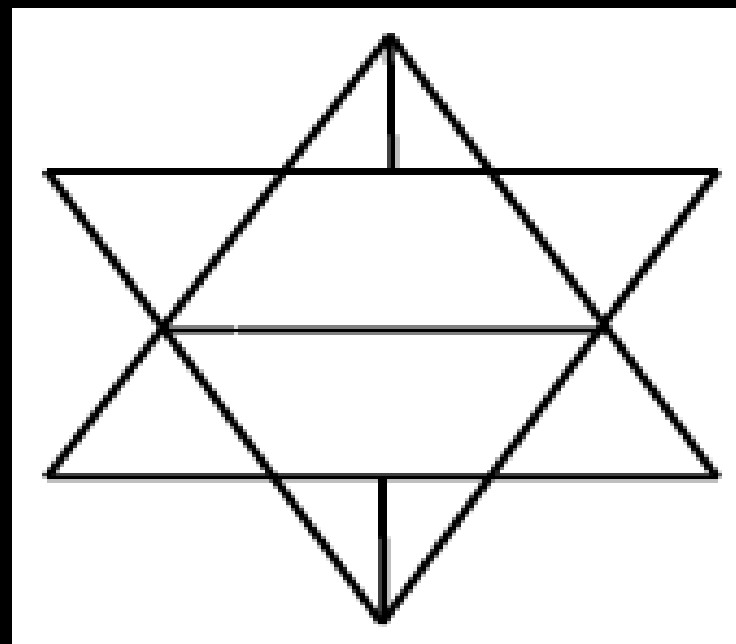


MISSION SELECTION - SSC 2024



Q.14 How many triangles are there in the given figure ?

दी गई आकृति में कितने त्रिभुज हैं?



(A) 10

(B) 12

(C) 14

(D) 16



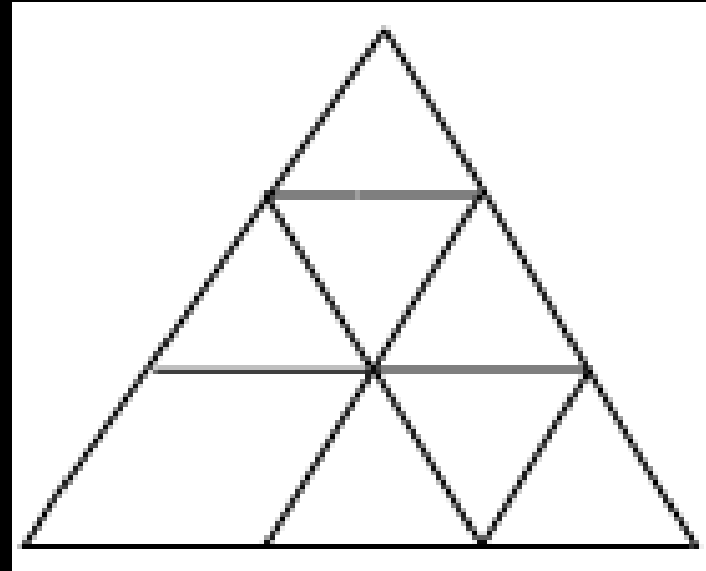


MISSION SELECTION - SSC 2024



Q.15 How many triangles are there in the given figure ?

दी गई आकृति में कितने त्रिभुज हैं?



a) 12

b) 11

c) 10

d) 15



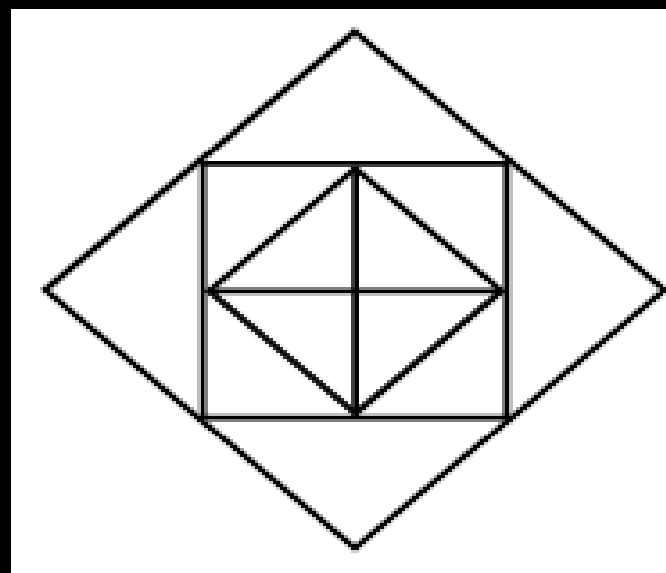


MISSION SELECTION - SSC 2024



Q.16 How many triangles are there in the given figure ?

दी गई आकृति में कितने त्रिभुज हैं?



- a) 12
- b) 16
- c) 9
- d) 8






MISSION SELECTION - SSC 2024



Q.17 How many triangles are there in the given figure ?

दी गई आकृति में कितने त्रिभुज हैं?



- a) 12
- b) 16
- c) 18
- d) 20



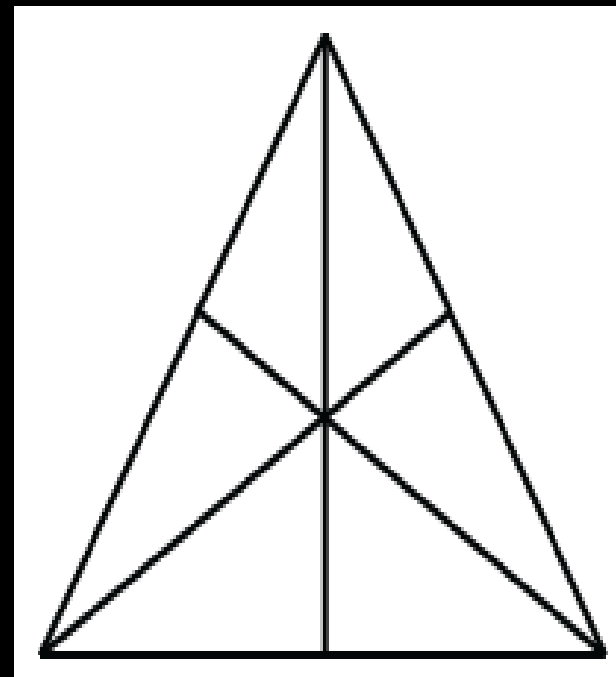


MISSION SELECTION - SSC 2024



Q.18 How many triangles are there in the given figure ?

दी गई आकृति में कितने त्रिभुज हैं?



- a) 6
- b) 10
- c) 12
- d) 16



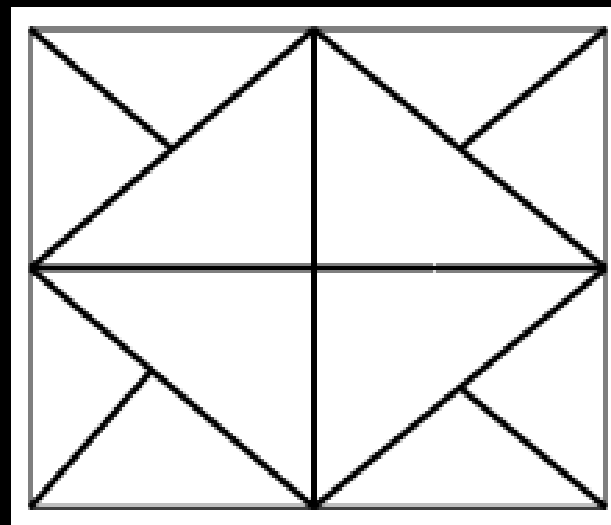


MISSION SELECTION - SSC 2024



Q.19 How many triangles are there in the given figure ?

दी गई आकृति में कितने त्रिभुज हैं?



- a) 12
- b) 16
- c) 10
- d) 20



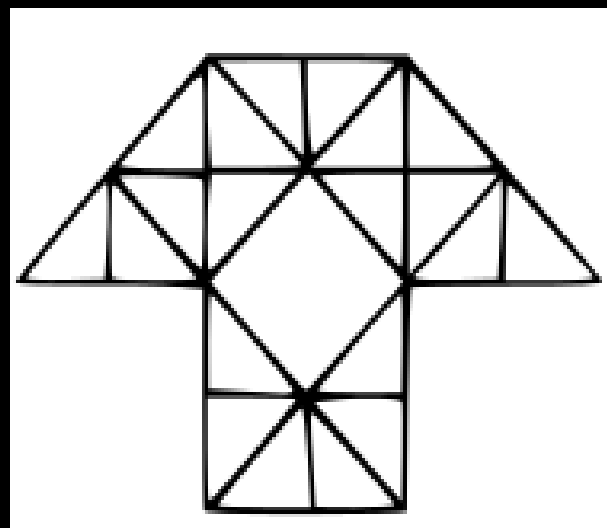


MISSION SELECTION - SSC 2024



Q.20 How many triangles are there in the given figure ?

दी गई आकृति में कितने त्रिभुज हैं?



- a) 29
- b) 38
- c) 40
- d) 35



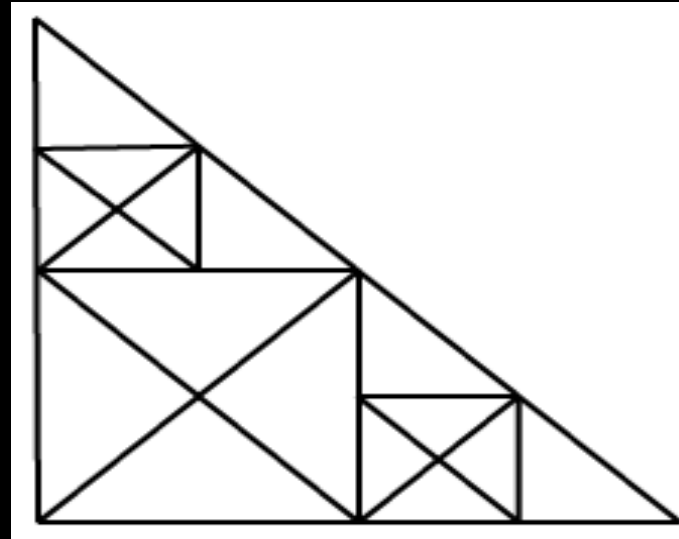


MISSION SELECTION - SSC 2024



Q.21 How many triangles are there in the given figure ?

दी गई आकृति में कितने त्रिभुज हैं?



- a) 32
- b) 34
- c) 37
- d) 40



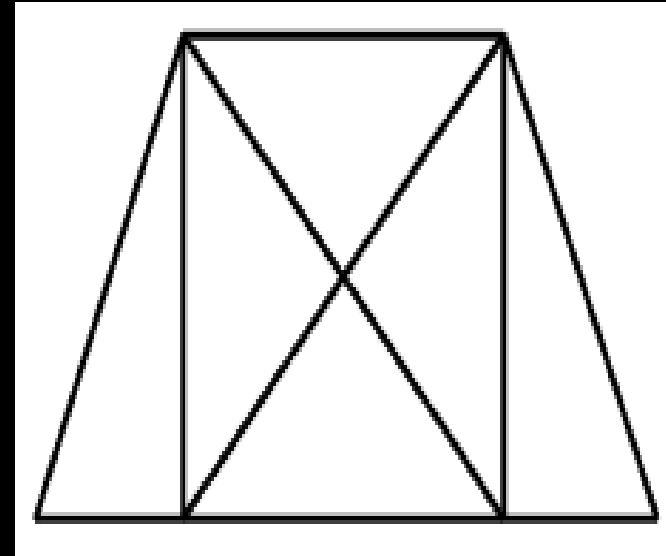


MISSION SELECTION - SSC 2024



Q.22 How many triangles are there in the given figure ?

दी गई आकृति में कितने त्रिभुज हैं?



- a) 8
- b) 10
- c) 12
- d) 14






MISSION SELECTION - SSC 2024



Q. 23 How many triangles are there in the given figure ?

दी गई आकृति में कितने त्रिभुज हैं?



a) 4

b) 5

c) 6

d) 7



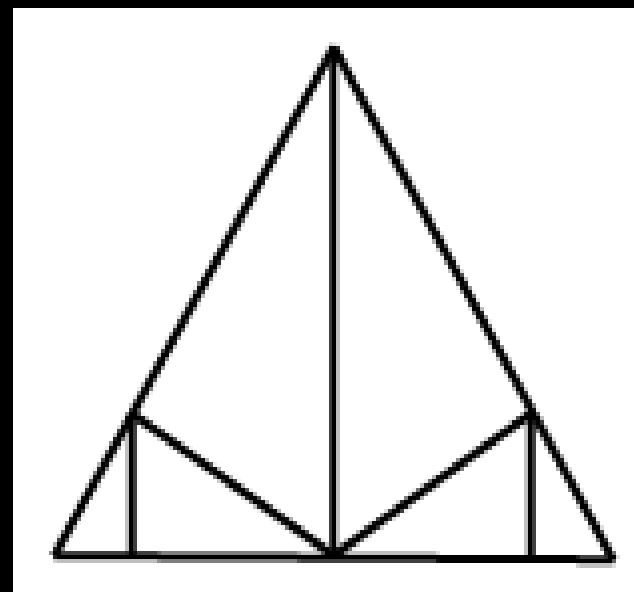


MISSION SELECTION - SSC 2024



Q.24 How many triangles are there in the given figure ?

दी गई आकृति में कितने त्रिभुज हैं?



- a) 10
- b) 11
- c) 12
- d) 13



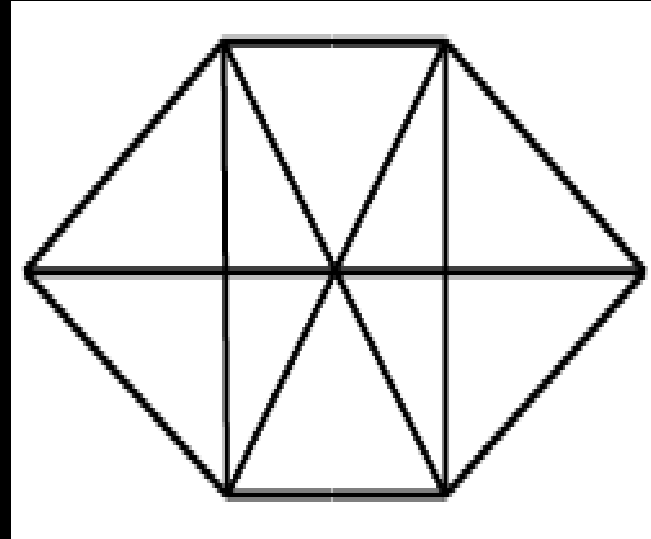


MISSION SELECTION - SSC 2024



Q.25 How many triangles are there in the given figure ?

दी गई आकृति में कितने त्रिभुज हैं?



- a) 16
- b) 20
- c) 22
- d) 24



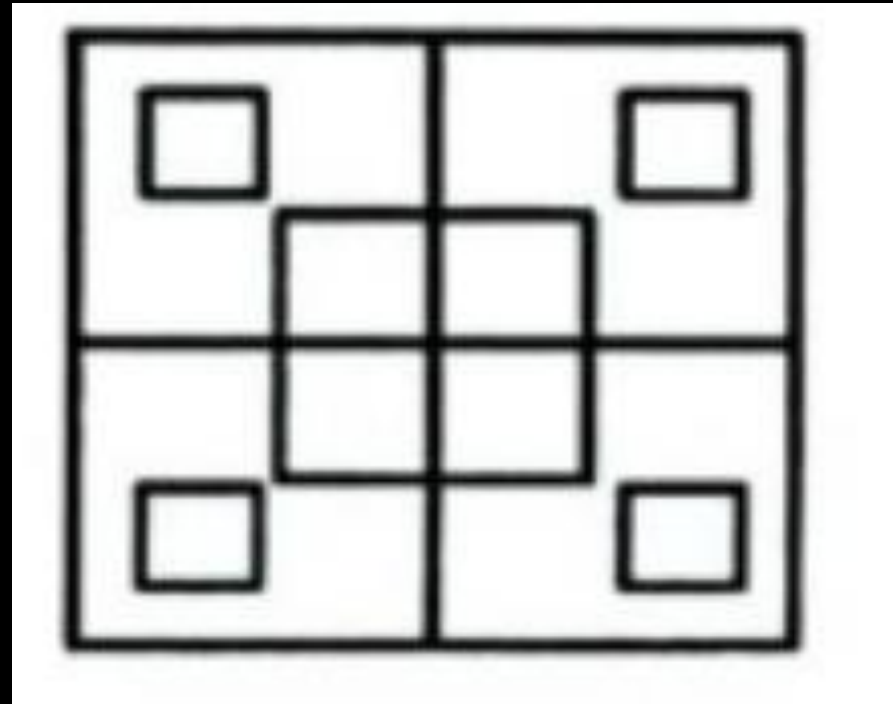


MISSION SELECTION - SSC 2024



Q.26 How many squares are there in this figure?

इस आकृति में कितने वर्ग हैं?



(A) 12

(B) 14

(C) 16

(D) 18



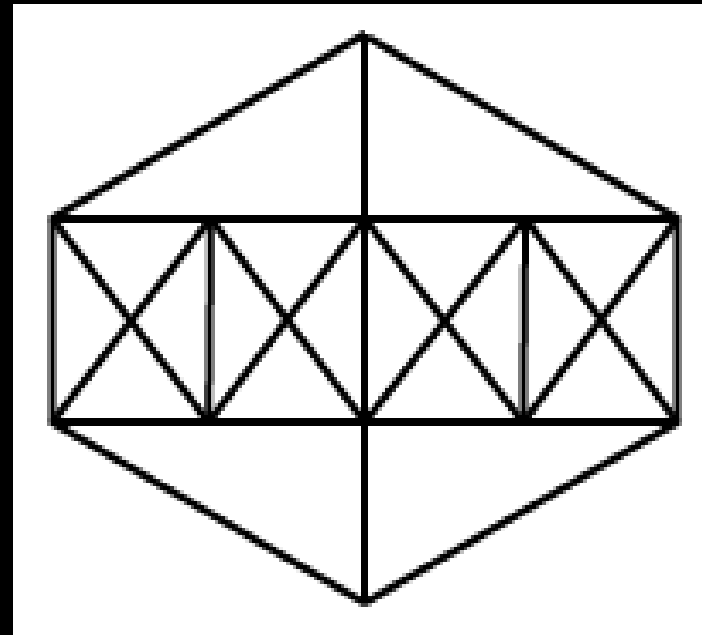


MISSION SELECTION - SSC 2024



Q. 27 How many triangles are there in this figure?

इस आकृति में कितने त्रिभुज हैं?



- (A) 38
- (B) 44
- (C) 46
- (D) 54



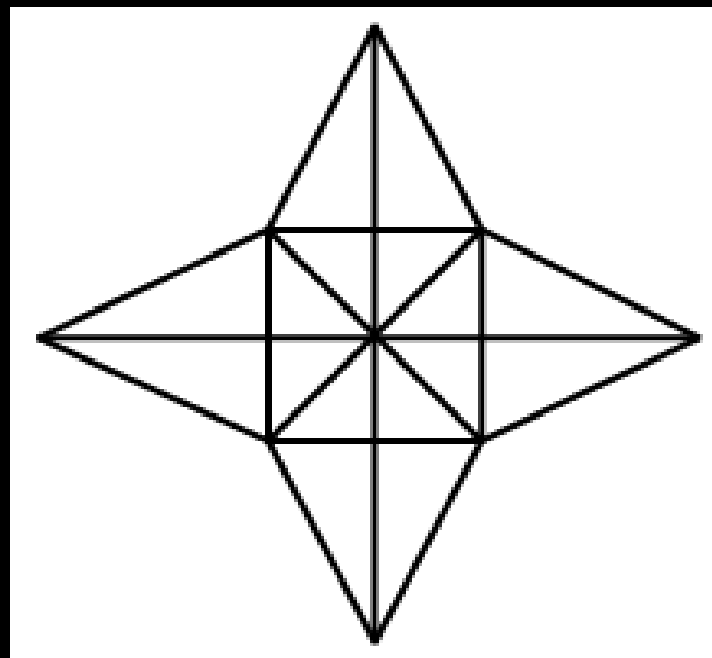


MISSION SELECTION - SSC 2024



Q.27 How many triangles are there in this figure?

इस आकृति में कितने त्रिभुज हैं?



(A) 28

(B) 36

(C) 40

(D) 48



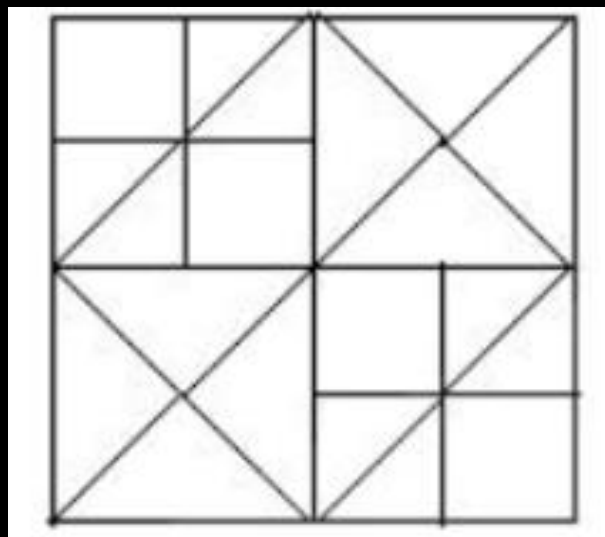


MISSION SELECTION - SSC 2024



Q. 28 How many squares are there in this figure?

इस आकृति में कितने वर्ग हैं?



(A) 12

(B) 16

(C) 13

(D) 14



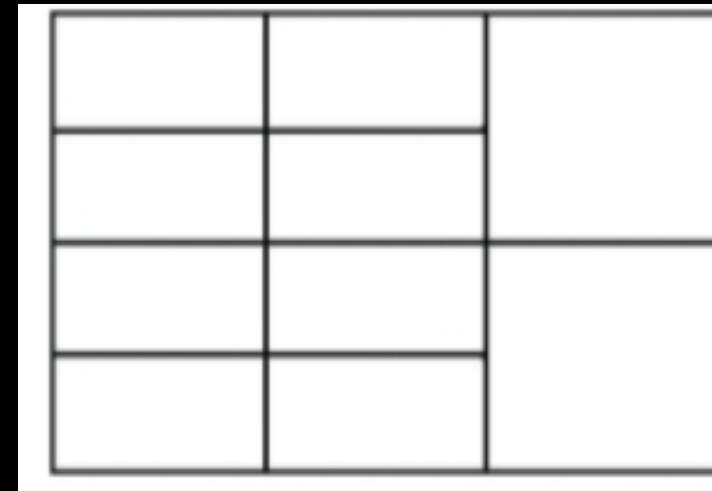


MISSION SELECTION - SSC 2024



Q. 29 How many rectangles are there in this figure?

इस आकृति में कितने आयत हैं?



- (A) 20
- (B) 22
- (C) 27
- (D) 29



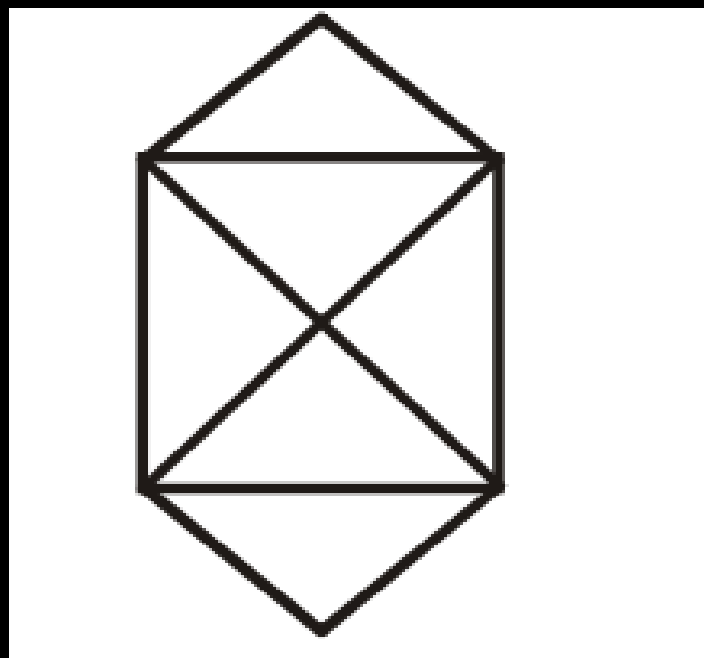


MISSION SELECTION - SSC 2024



Q.30 How many triangles are there in the given figure?

दी गई आकृति में कितने त्रिभुज हैं?



- (A) 6
- (B) 8
- (C) 10
- (D) 12





MISSION SSC 2024



TOPIC BOOSTER



REASONING

NUMBER SERIES



LIVE 07:00 PM



SSC GD 2023 (सफलता का महामंत्र)



THANK YOU