

SSC CHSL 2022



REASONING

VENN DIAGRAM & FIGURE COUNTING

पिछले 5 वर्ष में पूछे गए सारे सवाल

BY MANDEEP MAHENDRAS

LIVE | 05:30 PM

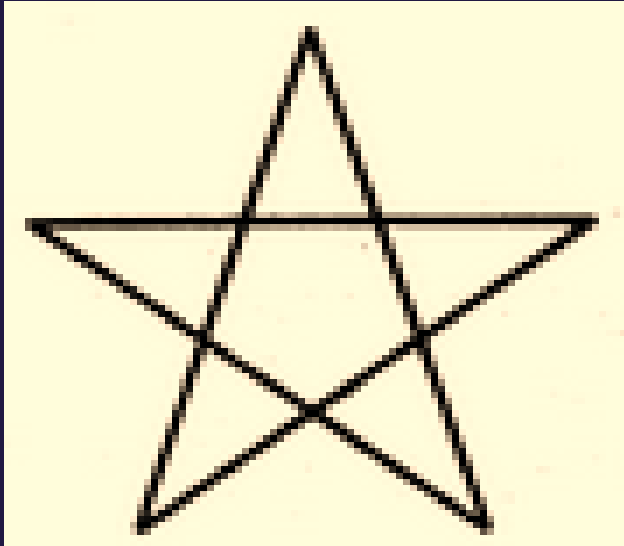




SSC CHSL (10+2) 2022



- Find number of triangle in figure?
- आकृति में त्रिभुजों की संख्या ज्ञात कीजिए?



A. 5

B. 6

C. 8

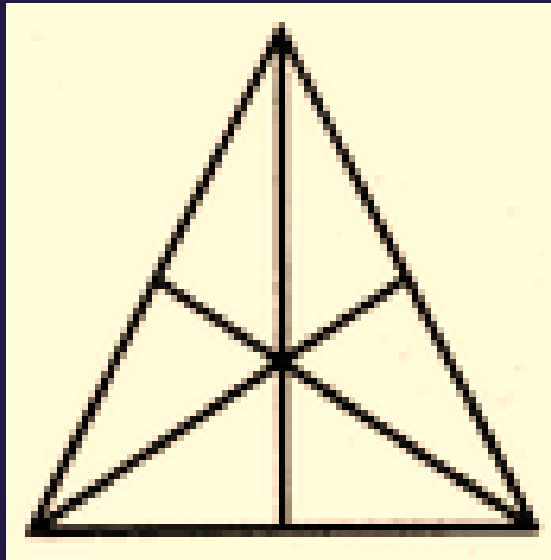
 D. 10



SSC CHSL (10+2) 2022



- Find number of triangle in figure?
- आकृति में त्रिभुजों की संख्या ज्ञात कीजिए?



A. 11

B. 15

C. 9

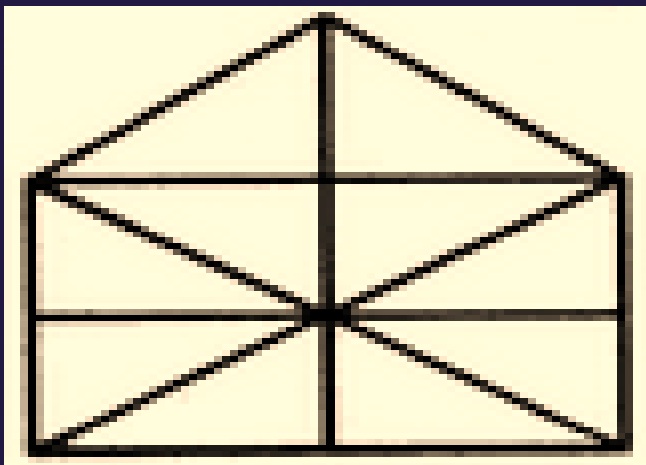
→ D. 16



SSC CHSL (10+2) 2022



- Find number of triangle in figure?
- आकृति में त्रिभुजों की संख्या ज्ञात कीजिए?



A. 10

→ B. 21

C. 19

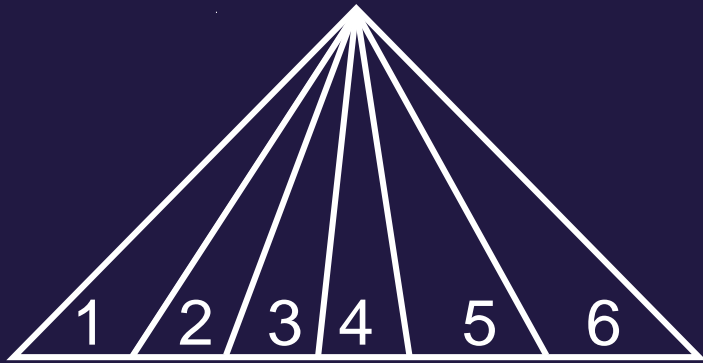
D. 23



SSC CHSL (10+2) 2022



- Find number of triangle in figure?
- आकृति में त्रिभुजों की संख्या ज्ञात कीजिए?



A. 20

→ B. 21

C. 23

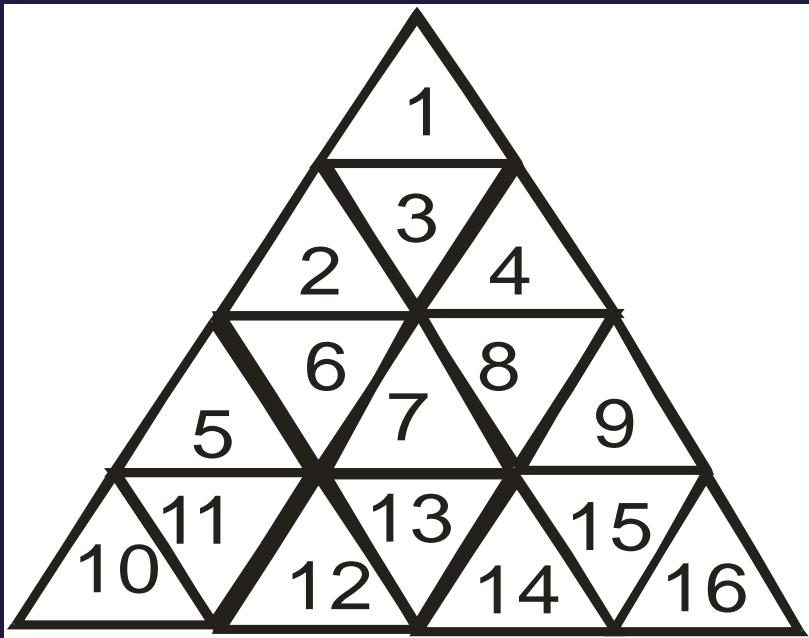
D. 24



SSC CHSL (10+2) 2022



- Find number of triangle in figure?
- आकृति में त्रिभुजों की संख्या ज्ञात कीजिए?



A. 16

B. 23

C. 26

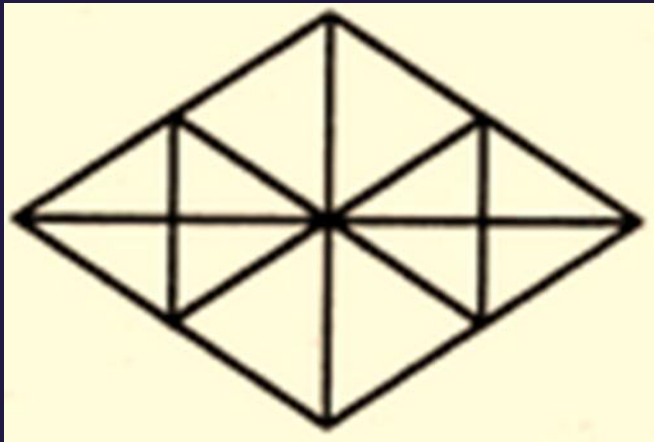
 D. 27



SSC CHSL (10+2) 2022



- Find number of triangle in figure?
- आकृति में त्रिभुजों की संख्या ज्ञात कीजिए?



A. 22

→ B. 28

C. 16

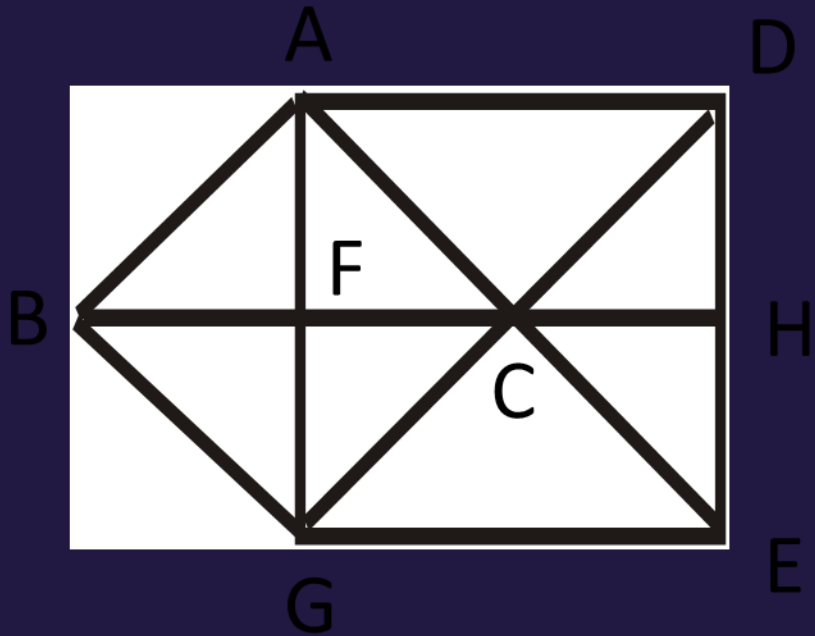
D. 32



SSC CHSL (10+2) 2022



- Find number of triangle in figure?
- आकृति में त्रिभुजों की संख्या ज्ञात कीजिए?



A. 15

→ B. 17

C. 20

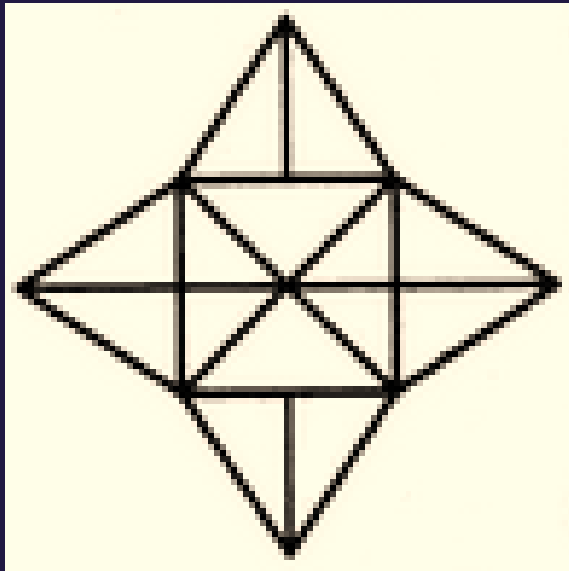
D. 22



SSC CHSL (10+2) 2022



- Find number of triangle in figure?
- आकृति में त्रिभुजों की संख्या ज्ञात कीजिए?



A. 18

B. 20

→ C. 28


D. 32



SSC CHSL (10+2) 2022



- Find number of squares in figure?
- आकृति में वर्गों की संख्या ज्ञात कीजिए?



A. 28

B. 29

→ C. 30

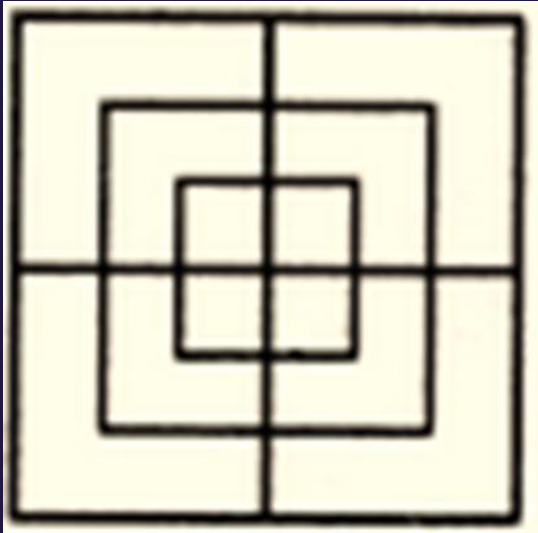
D. 32



SSC CHSL (10+2) 2022



- Find number of squares in figure?
- आकृति में वर्गों की संख्या ज्ञात कीजिए?



A. 8

→ B. 15

C. 12

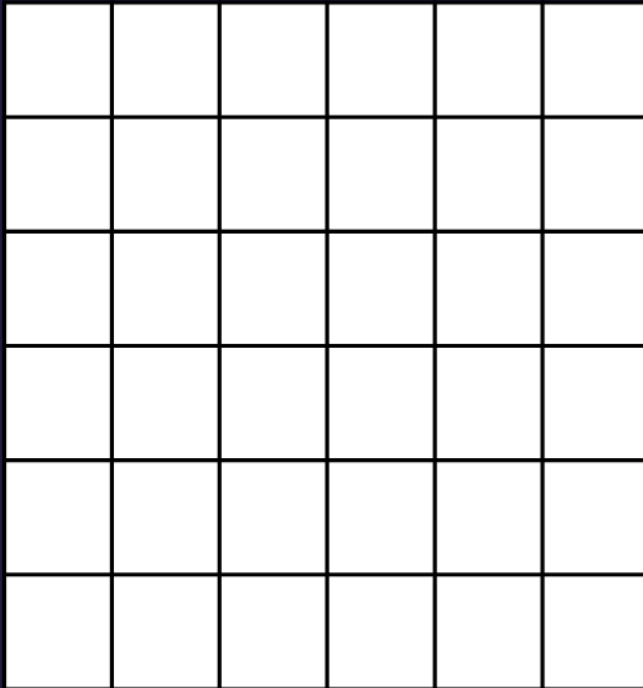
D. 18




SSC CHSL (10+2) 2022



- Find number of squares in figure?
- आकृति में वर्गों की संख्या ज्ञात कीजिए?




-  **A.91**
B.92
C.89
D.98



SSC CHSL (10+2) 2022



- Find number of squares in figure?
- आकृति में वर्गों की संख्या ज्ञात कीजिए?



A. 18

B. 25

C. 19

 D. 27




SSC CHSL (10+2) 2022



- Which of the following diagrams indicate the best relation between India, Haryana and World ?

निम्नलिखित में से कौन सा आरेख भारत, हरियाणा और विश्व के बीच सबसे अच्छे संबंध को दर्शाता है?

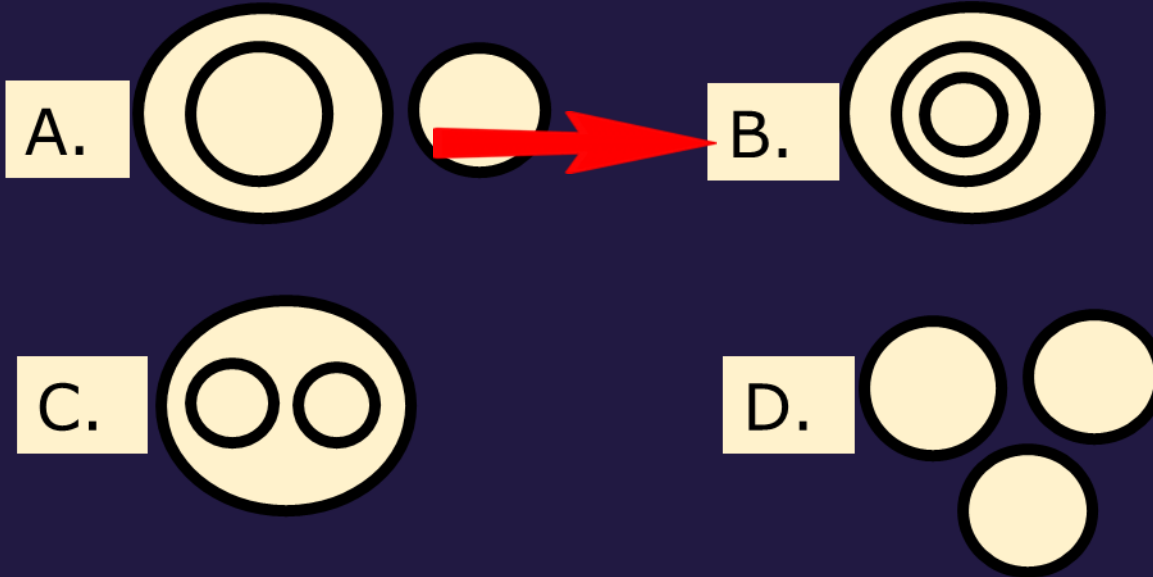




SSC CHSL (10+2) 2022



- Which of the following diagrams indicate the best relation between Country, City and State ?
- निम्नलिखित में से कौन सा आरेख देश, शहर और राज्य के बीच सबसे अच्छा संबंध दर्शाता है?

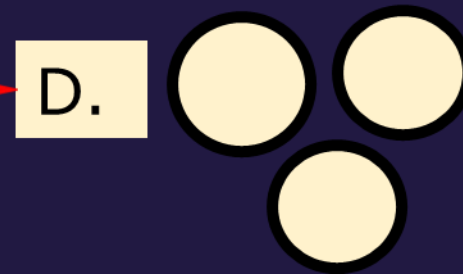
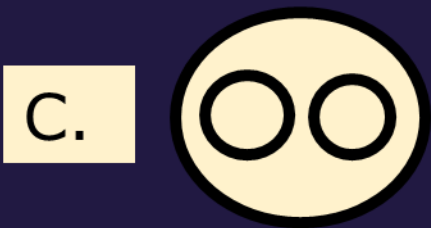






SSC CHSL (10+2) 2022



- Which of the following diagrams indicate the best relation between Hockey, Football and Cricket ?
- निम्नलिखित में से कौन सा आरेख हॉकी, फुटबॉल और क्रिकेट के बीच सबसे अच्छा संबंध दर्शाता है?



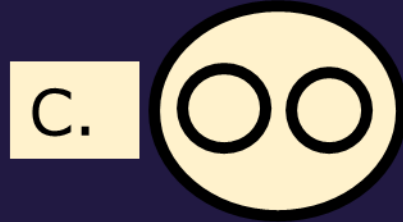
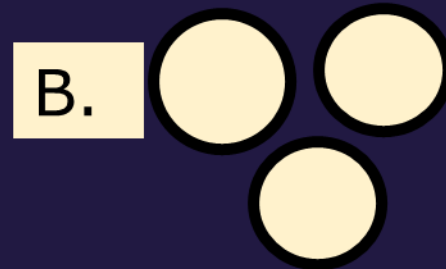
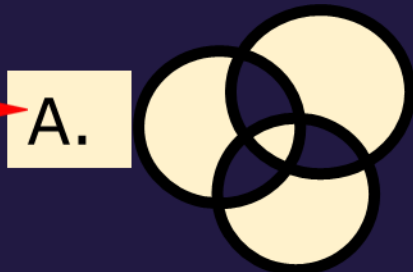


SSC CHSL (10+2) 2022



- Which of the following diagrams indicate the best relation between Writer, Musician and Teacher ?

निम्नलिखित में से कौन सा आरेख लेखक, संगीतकार और शिक्षक के बीच सबसे अच्छे संबंध को दर्शाता है?





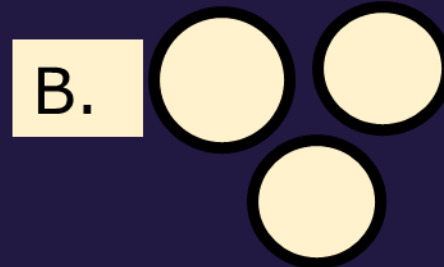
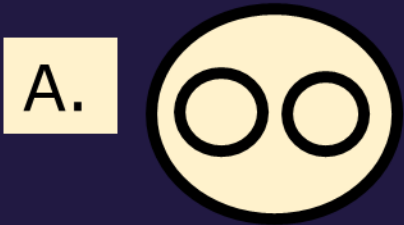


SSC CHSL (10+2) 2022



- Which of the following diagrams indicate the best relation between Teacher, Parents and Guardians ?

निम्नलिखित में से कौन सा आरेख शिक्षक, माता-पिता और अभिभावकों के बीच सबसे अच्छे संबंध को दर्शाता है?




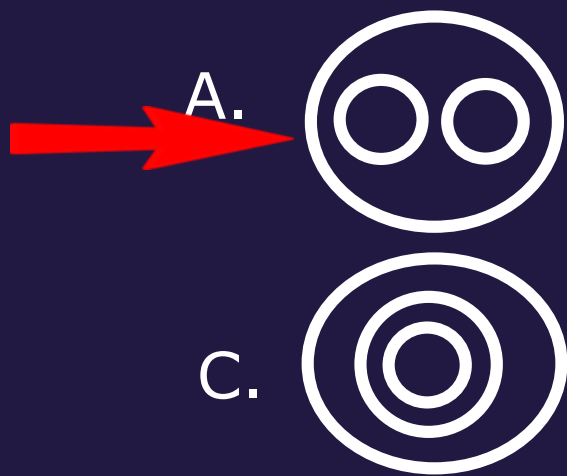


SSC CHSL (10+2) 2022



- Which of the following diagrams indicates the best relation between Paper, Stationery and Ink ?

निम्नलिखित में से कौन सा आरेख कागज, स्टेशनरी और स्याही के बीच सबसे अच्छे संबंध को दर्शाता है?



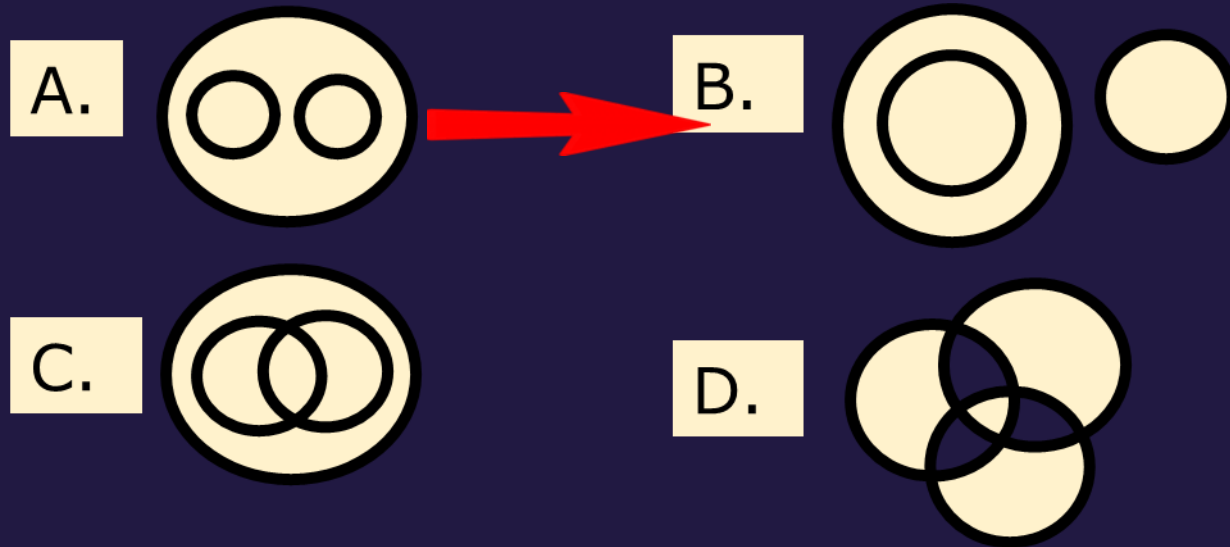


SSC CHSL (10+2) 2022



- Which of the following diagrams indicates the best relation between Judge, Thieves and Criminals?

निम्नलिखित में से कौन सा आरेख जज, चोर और अपराधियों के बीच सबसे अच्छे संबंध को दर्शाता है?





SSC CHSL (10+2) 2022



- Which of the following diagrams indicates the best relation between Males, Fathers and Children ?

निम्नलिखित में से कौन सा आरेख पुरुषों, पिता और बच्चों के बीच सबसे अच्छे संबंध को दर्शाता है?

