



SSC CHSL 2022-23



REASONING

PREVIOUS YEAR PAPER

SET
06

BY MANDEEP MAHENDRAS



LIVE

05:30 PM





@surbhisinha7315 18 hours ago 4 subscribers

Options AAÀA



▼ • 1 reply



@zikrayasmeen4058 17 hours ago

Option A




▼ • 1 reply



@Ravi.1 19 hours ago 4 subscribers

aa



▼ • 1 reply



@indukumari8754 19 hours ago

Aa options hoga



@mansigupta201 19 hours ago

0 is the answer sir



▼ • 1 reply





SSC CHSL (10+2) 2022



- Small wooden cubes each of one inch edge were put together to form a solid cube of three inch edge. This big cube was completely painted red from outside. When the big cube is broken into original cubes, how many cubes will not have any colour?
- एक इंच किनारे वाले लकड़ी के छोटे घनों को एक साथ रखकर तीन इंच किनारे वाला एक ठोस घन बनाया गया। इस बड़े घन को बाहर की ओर से पूर्ण रूप से लाल रंग से रंगा गया। जब बड़े घन को मूल घनों में खंडित किया गया, तो कितने घनों पर कोई रंग नहीं होगा?



A. 0

B. 3

C. 1

D. 4






SSC CHSL (10+2) 2022



- In the year 1999, 1st January is Tuesday, So what day will it be on 1st January, 2000?
- वर्ष 1999 में 1 जनवरी मंगलवार है, तो 1 जनवरी 2000 को कौन सा दिन होगा?



- A. Tuesday
- B. Thursday
- C. Friday
-  D. Wednesday



SSC CHSL (10+2) 2022



- At what time between 3 O' clock and 4 O' clock, minute hand and hour hand will be forming 30° ?
- 3 बजे और 4 बजे के बीच किस समय मिनट की सुई और घंटे की सुई 30° का योग बना रही होंगी?



- A. 21 9/11 min. past 3
- B. 22 9/11 min. past 3
- C. 21 8/11 min. past 3
- D. 22 8/11 min. past 3



SSC CHSL (10+2) 2022



- One day at 7 in the morning, Naresh started walking with his back towards the sun. Then he turned to the left and went straight and then turned to the right and went straight. He again turned to the left. Which direction is he facing now?
- एक दिन प्रातः 7 बजे, नरेश ने सूर्य की ओर अपनी पीठ किए हुए चलना प्रारम्भ किया। फिर वह बाईं ओर मुड़कर सीधे चलता रहा और फिर दाईं ओर मुड़कर सीधे चला। वह फिर से बाईं ओर मुड़ा। अब उसका मुँह किस दिशा की ओर है?



A. North

B. East

C. West

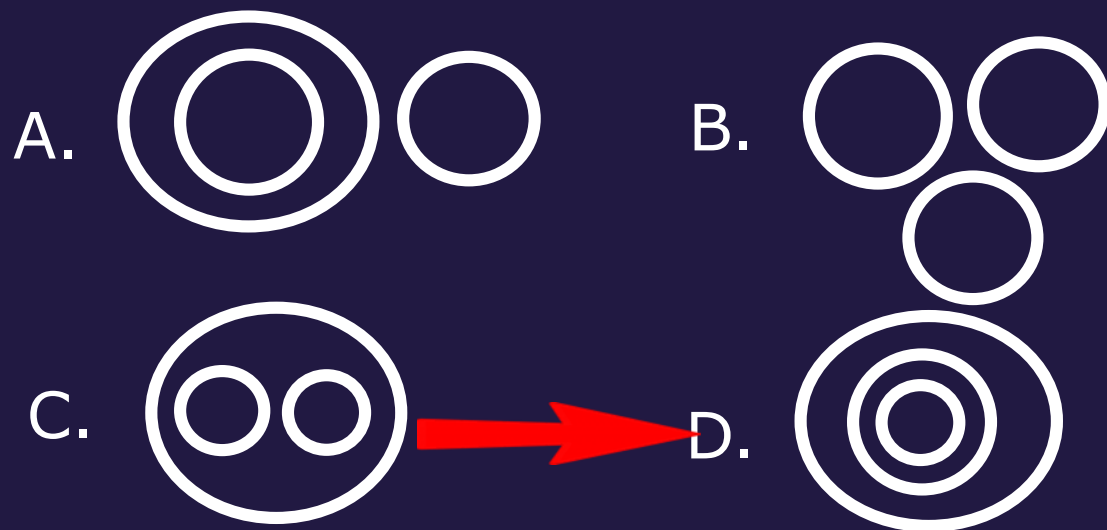
 D. South



SSC CHSL (10+2) 2022



- Which of the following diagrams indicates the relationship between Classroom, Blackboard and School?
- निम्नलिखित में से कौन सा चित्र कक्षा, ब्लैकबोर्ड और स्कूल के बीच संबंध को इंगित करता है?

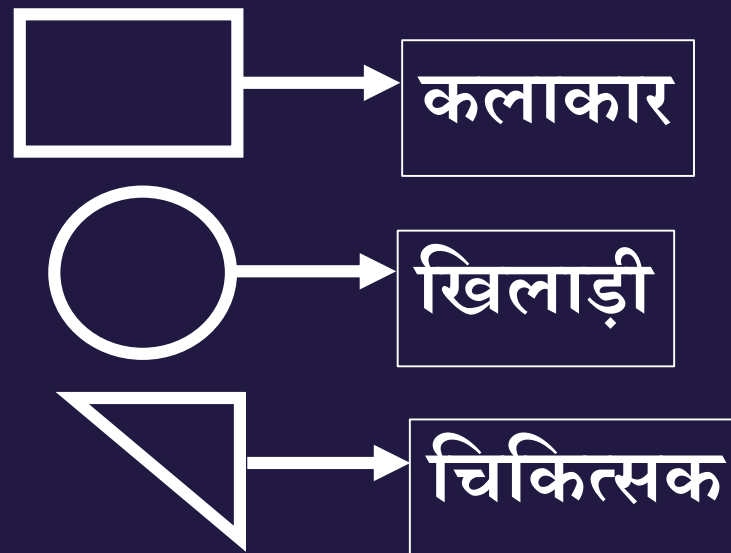
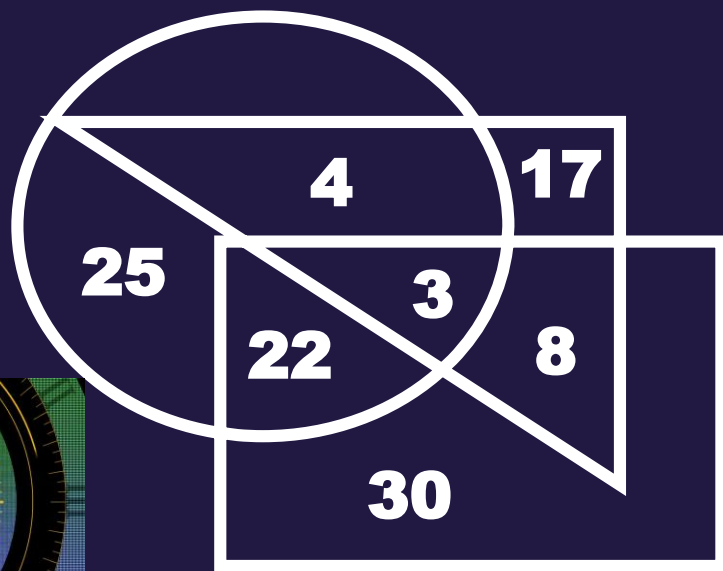




SSC CHSL (10+2) 2022



- How many doctors are neither artist nor sportsman?
- कितने डॉक्टर न तो कलाकार न ही खिलाड़ी हैं?



- A. 17
B. 10
C. 5
D. 30





SSC CHSL (10+2) 2022



- Three of the following four letter-clusters are alike in a certain way and one is different. Pick the odd one out .
- निम्नलिखित चार अक्षर-समूहों में से तीन एक निश्चित तरीके से समान हैं और एक भिन्न है। विषम को चुनिए।



A. LOPK

B. CXGT

→ C. GSVE

D. MNQJ



SSC CHSL (10+2) 2022



• MARKET : IEONCV :: THERMO : _____

A. JKCTKQ

 B. PLBUKQ

C. JLZUKQ

D. PLDSKQ






SSC CHSL (10+2) 2022



- Which two signs should be interchanged in the following equation to make it correct?
- निम्नलिखित समीकरण को सही करने के लिए किन दो चिह्नों को आपस में बदलना चाहिए?
- $24 \div 2 + 13 - 54 \times 2 = 34$



-  A. \times and \div
B. $+$ and \times
C. $-$ and \div
D. $-$ and \times



SSC CHSL (10+2) 2022



- Select the option that is related to the third number in the same way as the second number is related to the first number.
- उस विकल्प का चयन करें जो तीसरी संख्या से उसी प्रकार संबंधित है जैसे दूसरी संख्या पहली संख्या से संबंधित है।
- $54 : 41 :: 32 : \underline{\hspace{2cm}}$

A. 17

 B. 13

C. 11

D. 29






SSC CHSL (10+2) 2022



- In a family of 5 members, X is the sister of Y. M has two children and he is the son of E, who is the father-in-law of H. H has only one son. Y is not the granddaughter of E. How is X related to E?
- 5 सदस्यों के एक परिवार में, X, Y की बहन है। M के दो बच्चे हैं और वह E का पुत्र है, जो H का ससुर है। H का केवल एक पुत्र है। Y, E की पोती नहीं है। X, E से कैसे संबंधित है?



- A. Grand-daughter
- B. Grandson
- C. Daughter
- D. Sister



SSC CHSL (10+2) 2022



- Three of the following four words are alike in a certain way and one is different. Pick the odd word out.
- निम्नलिखित चार शब्दों में से तीन एक निश्चित तरीके से समान हैं और एक भिन्न है। विषम शब्द को चुनिए।



A. Purse

B. Suitcase

C. Bag

→ D. Carpet



SSC CHSL (10+2) 2022



- Which number will replace the question mark (?) in the following series?
- निम्नलिखित श्रंखला में प्रश्नवाचक चिन्ह (?) के स्थान पर कौन सी संख्या आएगी?
- 5, 9, 18, 43, 92, 213, 382, ?



A. 382

A thick red arrow pointing from the left towards the text 'B.671'.

B. 671

C. 328

D. 617



SSC CHSL (10+2) 2022



- Statements:
- Some essays are poems./कुछ निबंध कविताएँ हैं।
- Some poems are directors./कुछ कविताएँ निर्देशक हैं।
- All directors are singers./सभी निर्देशक गायक हैं।
- Conclusions:
- I. Some directors are poems./कुछ निर्देशक कविताएँ हैं।
- II. Some singers are essays./कुछ गायक निबंध हैं।





SSC CHSL (10+2) 2022



- 'Cardiologist' is related to 'Heart' in the same way as 'Chiropractor' is related to '_____'.
• 'हृदय रोग विशेषज्ञ' का संबंध 'हृदय' से उसी प्रकार है जैसे 'कायरोप्राक्टर' का संबंध '_____' से है।



A. Chest

A thick red arrow pointing from the left towards the text 'B. Joints'.

C. Foot

D. Skin



SSC CHSL (10+2) 2022



- Rahul has ₹340 in the denominations of ₹2 notes, ₹5 notes and ₹10 notes. The number of notes of each denomination is equal. What is the total number of notes that Rahul has?
- राहुल के पास ₹340 के दो नोट, ₹5 के नोट और ₹10 के नोट हैं। प्रत्येक मूल्यवर्ग के नोटों की संख्या बराबर होती है। राहुल के पास कुल कितने नोट हैं?

A. 60

B. 40

C. 80

D. 20





SSC CHSL (10+2) 2022



- Select the set in which the numbers are related in the same way as are the numbers of the following set.
- उस सेट का चयन करें जिसमें संख्याएँ उसी तरह से संबंधित हैं जैसे निम्नलिखित सेट की संख्याएँ हैं।
- (4, 10, 23)



A. (7, 23, 49)

 B. (2, 6, 15)

C. (3, 7, 17)

D. (4, 12, 21)



SSC CHSL (10+2) 2022



- Arrange the following words in a logical and meaningful order.
- निम्नलिखित शब्दों को तार्किक और सार्थक क्रम में व्यवस्थित करें
- 1.Monkey 2. Elephant 3. Rat 4. Fly 5. Lion



A. 3,4,1,5,2

 B. 4,3,1,5,2

C. 4,1,3,2,5


D. 3,4,1,2,5



SSC CHSL (10+2) 2022



- In a code language, PERMUTATION is written as IBKFRMXMFLG. How will PUBLICSECTOR be written as in that language?
- एक कूट भाषा में PERMUTATION को IBKFRMXMFLG लिखा जाता है। PUBLICSECTOR को उस भाषा में कैसे लिखा जाएगा?



- A. IRVEFVLBVMLK
- B. ICUFEVLBVMLJ
- C. ICUFEVLBVNLK
- D. IRUEFVLBVMLK