

# SSC CHSL 2022



## REASONING

# PREVIOUS YEAR PAPER

ऐसा पेपर आया था

BY MANDEEP MAHENDRAS

LIVE | 05:30 PM





# SSC CHSL (10+2) 2022



- A watch which gains 5 seconds in 3 minutes was set right at 7 a.m. In afternoon of the same day , then what will the watch indicates at 4 pm
- एक घड़ी जो 3 मिनट में 5 सेकंड आगे बढ़ जाती है, उसी दिन सुबह 7 बजे ठीक हो जाती है, तो घड़ी शाम 4 बजे क्या संकेत देगी?



A. 4:10

B. 3:50

C. 4:20

 D. 4:15



# SSC CHSL (10+2) 2022



- Arrange the given words in a logical and meaningful order.
- 1.Flat
- 2.Street
- 3.Room
- 4.Apartment
- 5.Town



A. 3 , 4 , 1 , 2 , 5

B. 5 , 4 , 3 , 2 , 1

C. 3 , 5 , 1 , 4 , 2

 D. 3 , 1 , 4 , 2 , 5



# SSC CHSL (10+2) 2022



- Choose the letter or group of letters which is different from others.
- वह अक्षर या अक्षरों का समूह चुनें जो अन्य से भिन्न हो



A. LNP

B. DFH

 C. TVW

D. FHJ



# SSC CHSL (10+2) 2022



- Choose the letter or group of letters which is different from others.
- वह अक्षर या अक्षरों का समूह चुनें जो अन्य से भिन्न हो



A. EGV T

→ B. TUGD

C. NOML

D. ADZW



# SSC CHSL (10+2) 2022



- In a certain code N is coded as 30 and COT is coded as 78. How will PET be coded as in that language
- एक निश्चित कोड में N को 30 के रूप में कोडित किया गया है और COT को 78 के रूप में कोडित किया गया है। PET को उस भाषा में कैसे कोडित किया जाएगा?



A. 70

 B. 84

C. 100

D. 41



# SSC CHSL (10+2) 2022



- Statement-
- All beans are meat./सभी बीन्स मीट हैं
- All breads are meat./सभी ब्रेड मीट हैं
- Conclusion-
- Some beans are bread./कुछ बीन्स ब्रेड हैं
- Some breads are bean./कुछ ब्रेड बीन हैं





# SSC CHSL (10+2) 2022



- Select the option in which the numbers are related in the same way as are the numbers in the given set.
- उस विकल्प का चयन करें जिसमें संख्याएं उसी तरह संबंधित हैं जैसे दिए गए सेट में संख्याएं हैं।
- (3 ,68 , 5)



- A. (2 ,10 ,1)  
B. (2 ,72 ,10)  
C. (5 ,95 ,8)  
D. (4 ,64 ,5)





# SSC CHSL (10+2) 2022



- John used to buy petrol at the rate of 80 per lt.till last month. Now he buy it at the rate 85 per lt. By what percentage did the petrol price as compared to last month.
- जॉन पिछले महीने तक 80 रुपये प्रति लीटर की दर से पेट्रोल खरीदते थे। अब वह इसे 85 प्रति लीटर की दर से खरीदते हैं। पिछले महीने की तुलना में पेट्रोल के दाम कितने प्रतिशत बढ़े?



- A. 6.25%
- B. 5.5%
- C. 8.35%
- D. 10%



# SSC CHSL (10+2) 2022



- Bird:Fly/चिड़िया: उड़ो
- Goat:Bleat/बकरी: ब्लीट
-  Hen:Egg/मुर्गी: अंडा
- Eagle:Swoop/ईगल: झपट्टा





# SSC CHSL (10+2) 2022



- In a certain language, BROWSE is written as GUYQTD, then how is AMALGAM written in same language?
- किसी भाषा में BROWSE को GUYQTD लिखा जाता है, तो उसी भाषा में AMALGAM को कैसे लिखा जाएगा?



A. PMDGCPD

B. CONCICO

C. DPMDGCP

→ D. OCINCOC



# SSC CHSL (10+2) 2022



• 8:49



A. 9:87

 B. 12:121

C. 13:170

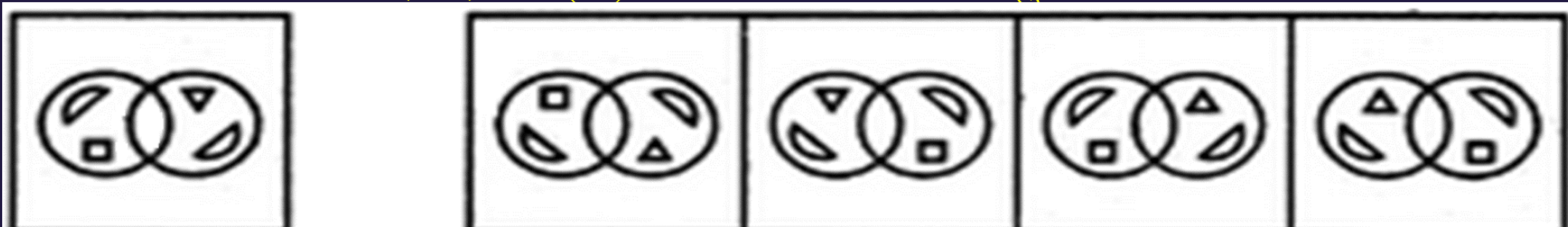
D. 15:210



# SSC CHSL (10+2) 2022



- Choose the correct mirror image of the given figure (X) from the four alternatives?
- चार विकल्पों में से दिए गए चित्र (X) का सही दर्पण प्रतिबिंब चुनें?



(X)

(A)



(B)

(C)

(D)





# SSC CHSL (10+2) 2022



- Movie is related to actor in the same way Magazine is related to \_\_\_\_\_?
- चलचित्र अभिनेता से उसी प्रकार संबंधित है जैसे पत्रिका \_\_\_\_\_ से संबंधित है?



- A. Singer
- B. Publisher
- C. Writer
- D. Seller





# SSC CHSL (10+2) 2022



- Pointing out a man receiving the prize, Malaika said, “He is the brother of my uncle’s daughter.” Who is the man to Malaika?
- पुरस्कार प्राप्त करने वाले एक व्यक्ति की ओर इशारा करते हुए मलाइका ने कहा, "वह मेरे चाचा की बेटी का भाई है।" मलाइका का आदमी कौन है?



A. Son

B. Brother-in-law

C. Nephew

 D. Cousin



# SSC CHSL (10+2) 2022



• 23:110::17:?



A. 70

B. 85

C. 90

A thick red arrow pointing from the left towards the text 'D. 80'.

D. 80


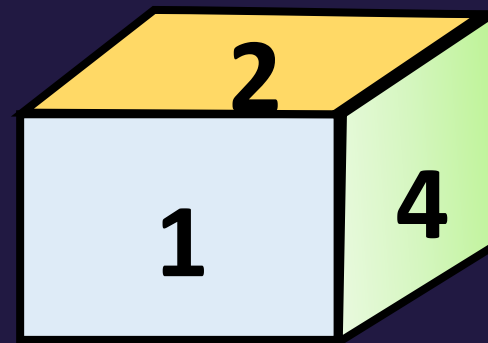
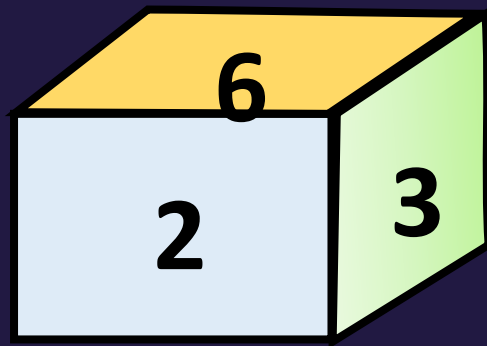
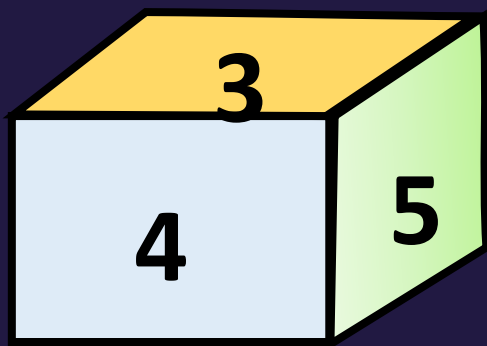




# SSC CHSL (10+2) 2022



- If three faces of the dice are seen then what will happen on the surface opposite to the known key 2?
- पासा की तीन सूरतें दिखीं तो ज्ञात की 2 के विपरीत सतह पर क्या होगा?



A. 3

B. 1

→ C. 5

D. 6



# SSC CHSL (10+2) 2022



- Which one set of letters when sequentially placed at the gaps in the given letter series shall complete it.
- अक्षरों का कौन-सा समूह रिक्त स्थानों पर क्रमिक रूप से रखे जाने पर दी गई अक्षर श्रृंखला को पूरा करेगा।
- \_ ba \_ bab \_ babb \_ b



→ A. abbb

B. aaaa

C. abbc

D. aabb



# SSC CHSL (10+2) 2022



• 3, 5, 9, 17, ?



A. 32

A thick red arrow pointing from the left towards the text 'B. 33'.

B. 33

C. 31

D. 30