



SSC CHSL 2022



REASONING

PREVIOUS YEAR PAPER

SET
04

BY MANDEEP MAHENDRAS

LIVE | 05:30 PM





@Ravi.1 21 hours ago 4 subscribers

Both follow 🌿 🌿

👍 1 🗨️ Reply 📌

▼ • 1 reply



@subhamoyghosh8498 22 hours ago

Both follow is the correct answer

Helpful session

Thank you sir

👍 🗨️ Reply 📌

▼ • 1 reply



@surbhisinha7315 21 hours ago 4 subscribers

BOTH follow 👍 🔒

👍 🗨️ Reply 📌

▼ • 1 reply



@pankajsahu5741 22 hours ago

HW Answer = Both follow ✅

👍 🗨️ Reply 📌

▼ • 1 reply



@chhavisaxena8981 22 hours ago

Home work answer is both follows

👍 🗨️ Reply 📌

▼ • 1 reply



@suruchijha393 22 hours ago

Home work question.... Both

👍 🗨️ Reply 📌

▼ • 1 reply



@mansigupta201 22 hours ago

Sir answer is both follows

👍 🗨️ Reply 📌

▼ • 1 reply



@spriya6056 10 hours ago

Both follows



Reply



• 1 reply



@aishikaghosh9030 22 hours ago

Both follows



Reply



• 1 reply



@akarshsrivastava5292 22 hours ago

Both follows



Reply



• 1 reply

- Statement :
- All liquids are solids.
- Some solids are gases.
- All gases are clouds.
- Conclusions :
- Some clouds are solids.
- Some solids are clouds



- Select the letter combination that when sequentially placed in the blanks of the given letter series will complete the series.
- उस अक्षर संयोजन का चयन करें, जिसे दी गई अक्षर श्रेणी के रिक्त स्थान में क्रमिक रूप से रखने पर श्रेणी पूर्ण हो जाएगी।

a__bcde__abbcd__aabb__ee



- A. Abeaeecd
B. Aeecdbea
C. Aeaebecd
D. Abecdeae

- Four letter-clusters are given, out of which three are alike in some way and one is different. Select a different character set.
- चार अक्षर-समूह दिए गए हैं, जिनमें से तीन किसी तरह से समान हैं और एक भिन्न है। भिन्न अक्षर-समूह का चयन करें।



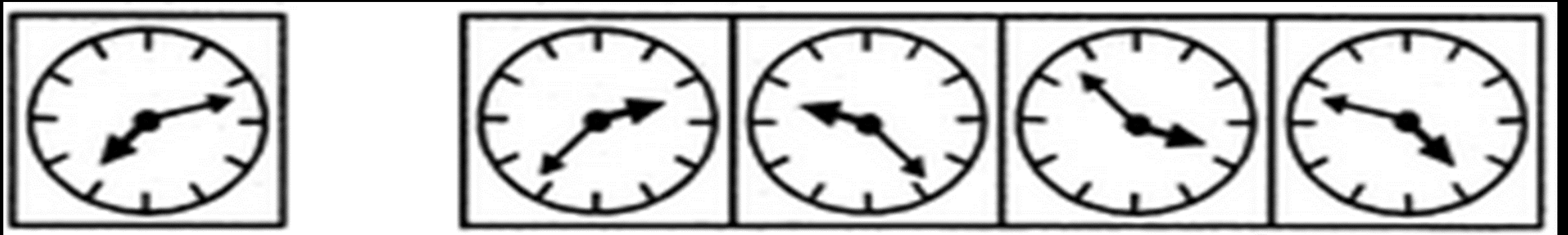
A. TXCJ

B. DHSZ

→ C. NRJQ

D. GKPW

- If the mirror is placed to the right of the given figure, then select the correct image formed in the mirror of the given figure.
- यदि दर्पण को दी गई आकृति के दाईं ओर रखा जाए, तो दी गई आकृति का दर्पण में निर्मित सही प्रतिबिंब चयनित कीजिए।



(X)

(A)

(B)

(C)

→ (D)



- Find the next term
- अगला पद ज्ञात कीजिए
- 3, 5, 15, 41, ?, 173



A. 106

 B. 91

C. 112

D. 78

- Four numbers are given, out of which three are alike in some way and one is different. odd number selection
- चार संख्याएं दी गई हैं, जिनमें से तीन किसी प्रकार समान हैं और एक भिन्न है। भिन्न संख्या का चयन



A. 5423

B. 6341

→ C. 6138

D. 1652

- A sales boy of a washing machine store gets 24% more than the cost price from his customers. If a customer paid ₹6.200 for the washing machine, then find the cost price of the washing machine.
- वॉशिंग मशीन स्टोर का सेल्स बॉय अपने ग्राहकों से क्रय मूल्य से 24% अधिक प्राप्त करता है। यदि एक ग्राहक ने वॉशिंग मशीन के लिए ₹6200 का भुगतान किया, तो वॉशिंग मशीन का क्रय मूल्य ज्ञात करें।

A. 6200

→ B. 5000

C. 5500

D. 7200



- Select the option that is related to the third letter-cluster in the same way as the second letter-cluster is related to the first letter-cluster.
- उस विकल्प का चयन करें, जो तीसरे अक्षर-समूह से ठीक उसी प्रकार संबंधित है, जिस प्रकार दूसरा अक्षर-समूह पहले अक्षर-समूह से संबंधित है।
- BYDW: UFSH:: CXFU: ?



A. SHQJ

B. RIPK

→ C. TGQJ

D. RIOL

- In a certain code language, FORWARD is written as CSZXQPE. in the same code. How will NUMERAL be written?
- एक निश्चित कोड भाषा में, FORWARD को CSZXQPE लिखा जाता है। उसी कोड में NUMERAL को कैसे लिखा जाएगा ?



- A. KBQFLVM
B. MUNELAR
C. MZSDNTO
D. KZQDLTL

- Select the option that is related to the third number in the same way as the second number Related to the first number.
- उस विकल्प का चयन करें जो तीसरी संख्या से उसी तरह संबंधित है जैसे दूसरी संख्या पहली संख्या से संबंधित है।
- 12 : 150 :: 14 : ?



A. 205

B. 502

C. 302

D. 203



- In the same way straw is related to the nest, in the same way cotton is related to.
- जैसे तिनके का संबंध घोंसले से है, वैसे ही कपास से है



- A. Thread/धागा
- B. wool/ऊन
- C. Tailoring/सिलाई
- D. textile industry/कपडा उद्योग

- Four words are given, out of which three are alike in some way and one is different. Select a different word.
- चार शब्द दिए गए हैं, जिनमें से तीन किसी प्रकार समान है और एक भिन्न है। भिन्न शब्द का चयन करें।



A. Integrity/अखंडता

→ B. Happiness/खुशी

C. Veracity/सत्य

D. Honesty/ईमानदारी

- Statement :
- All liquids are solids./ सभी द्रव ठोस हैं
- Some solids are gases./कुछ ठोस गैसें हैं
- All gases are clouds./सभी गैसें बादल हैं
- Conclusions :
- Some clouds are solids./कुछ बादल ठोस हैं
- Some solids are clouds/कुछ ठोस बादल हैं



- Sigda said that she met the father-in-law of the mother of the son of her mother's only brother. who did she meet?
- सिग्दा ने कहा कि वह अपनी माँ के इकलौते भाई के बेटे की माँ के ससुर से मिली। वह किससे मिली?



A. Father

B. Uncle

→ C. Grandfather

D. Brother

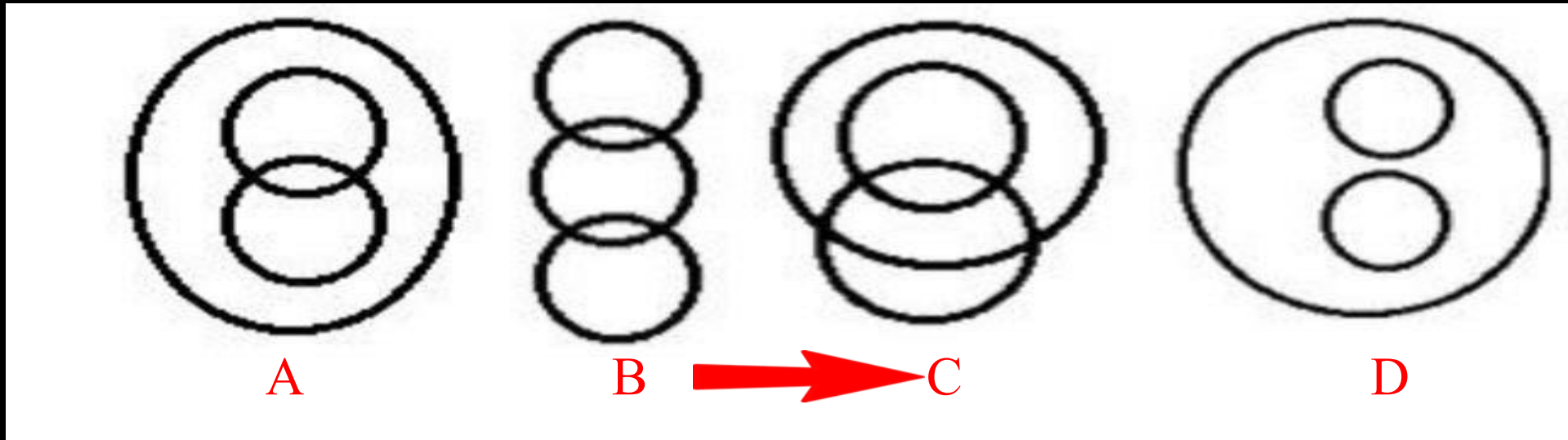
- Select the correct option that shows the order in which they appear in the given word order in English are in the dictionary.
- सही विकल्प का चयन करें जो अंग्रेजी में दिए गए शब्द क्रम में जिस क्रम में वे दिखाई देते हैं वह शब्दकोश में हैं।

1. Multifocal
2. Movement
3. Multinomial
4. Moviemaker.
5. Mutual fund




- A. 2, 4, 1, 3, 5
B. 1, 5, 2, 3, 4
C. 4, 2, 1, 3, 5
D. 4, 2, 3, 1, 5

- Select the line that best represents the relationship between the minor points Woman, Professor, Widows.
- उस रेखा का चयन करें जो मामूली बिंदुओं महिला, प्रोफेसर, विधवाओं के बीच संबंध का सबसे अच्छा प्रतिनिधित्व करती है



- Count the Rectangle
- आयत की गिनती करें



- A. 100
- B. 120
- C. 110
- D. 125

- Select the set in which the numbers are related in the same way as are the numbers of the following set.
- उस सेट का चयन करें जिसमें संख्याएँ उसी तरह से संबंधित हैं जैसे निम्नलिखित सेट की संख्याएँ हैं
- (9, 12, 18)



- A. (5, 12, 24)
- B. (13, 19, 31)
- C. (21, 29, 44)
- D. (7, 13, 27)