

SSC CHSL 2022



REASONING

PREVIOUS YEAR PAPER

SET-2

BY MANDEEP MAHENDRAS

LIVE | 05:30 PM





SSC CHSL (10+2) 2022



- Select the Venn diagram that best illustrates the relationship between the following classes. Nurses, Doctors, Pharmacists
- वेन आरेख का चयन करें जो निम्नलिखित वर्गों के बीच संबंध को सबसे अच्छा दर्शाता है। नर्स, डॉक्टर, फार्मासिस्ट





SSC CHSL (10+2) 2022



- In a code language, CONSULTANCY is written as QOJKYOUYJWP. How will MASTERMINDS be written as in that language?
- एक कूट भाषा में, CONSULTANCY को QOJKYOUYJWP लिखा जाता है। MASTERMINDS को उस भाषा में कैसे लिखा जाएगा?



- A. APOWIOZJEI
B. APOWHIOZJEI
C. APOWIHOZJEI
D. APOWJIOZJEI



SSC CHSL (10+2) 2022



- Ranga got thrice as many sums wrong as he got right in a mathematics assignment. If he attempted 72 sums in all, how many did he solve correctly in his mathematics assignment?
- रंगा को गणित के एक सत्रीय कार्य में जितने सही प्रश्न आए उससे तीन गुना गलत प्रश्न मिले। यदि उसने कुल 72 प्रश्नों का प्रयास किया, तो उसने अपने गणित के असाइनमेंट में कितने प्रश्नों को सही ढंग से हल किया?



A. 16

B. 20

C. 14

D. 18





SSC CHSL (10+2) 2022



- If 'FORTUNE' is coded as '6521347' and 'PREY' is coded as '8279' then how will 'NEPTUNE' be
- यदि 'FORTUNE' को '6521347' और 'PREY' को '8279' के रूप में कोडित किया जाता है, तो 'NEPTUNE' को कैसे कोडित किया जाएगा?



- A. 4781347
- B. 4781342
- C. 4782347
- D. 4781343



SSC CHSL (10+2) 2022



- Select the option that is related to the third letter-cluster in the same way as the second letter. cluster is related to the first letter-cluster.
- उस विकल्प का चयन करें जो तीसरे अक्षर-समूह से दूसरे अक्षर के समान संबंधित है। क्लस्टर पहले अक्षर-क्लस्टर से संबंधित है।
- BANK: WXLJ :: IDOL:



A. DAKM

B. ADMK

C. DAMJ

→ D. DAMK



SSC CHSL (10+2) 2022



- Three of the following four numbers are alike in a certain way and one is different. Pick the number that is different from the rest.



- A. 83115
B. 54215
C. 43217
D. 12347



SSC CHSL (10+2) 2022



- T is sister of D. D is married to P. P is the son of M. T is the mother of J. Y is the father of U. Y has only one son and only one daughter. U is the daughter of T. Q is the son of D. If M is the wife of W, then how is Q related to W?
- T, D की बहन है। D की शादी P से हुई है। P, M का बेटा है। T, J की माँ है। Y, U का पिता है। Y का केवल एक पुत्र और केवल एक पुत्री है। U, T की पुत्री है। Q, D का पुत्र है। यदि M, W की पत्नी है, तो Q, W से किस प्रकार संबंधित है?



A. Son-in-law

B. Son

→ C. Grandson

D. Nephew



SSC CHSL (10+2) 2022



- Find the next term.
- अगला पद ज्ञात कीजिए।
- 2, 4, 16, 52, 132, 282, ?



A. 512

B. 527

 C. 534

D. 572




SSC CHSL (10+2) 2022



- Three of the following four words are alike in a certain way and one is different. Pick the odd word out.
- निम्नलिखित चार शब्दों में से तीन एक निश्चित तरीके से समान हैं और एक भिन्न है। विषम शब्द को चुनिए।



- A. Germany
-  B. Singapore
- C. Austria
- D. Italy



SSC CHSL (10+2) 2022



- Select the combination of letters that when sequentially placed in the gaps of the given letter series will complete the series.
- अक्षरों के उस संयोजन का चयन करें जो दिए गए अक्षर श्रृंखला के अंतराल में क्रमिक रूप से रखे जाने पर श्रृंखला को पूरा करेगा
- ab_ba_db_bd_ac_ba_cdbabd_



A. dcadbbab

→ B. dcabdbab

C. cdabdbba

D. dcdabbab



SSC CHSL (10+2) 2022



- Statement-
- All women are engineers./सभी महिलाएं इंजीनियर हैं।
- Some singers are engineers./कुछ गायक इंजीनियर हैं।
- Conclusion-
- All women are singers./सभी महिलाएँ गायिका हैं।
- All singers are women./सभी गायिकाएं महिलाएं हैं।
- Some engineers are women./कुछ इंजीनियर महिलाएं हैं।





SSC CHSL (10+2) 2022



- From the given alternatives select the numbers that must be interchanged to make the following equation correct.
- दिए गए विकल्पों में से उन संख्याओं का चयन करें जिन्हें निम्नलिखित समीकरण को सही करने के लिए आपस में बदलना चाहिए।
- $16-6+12\times 3\div 4=18$



A. 16 and 3

B. 6 and 3

C. 12 and 4

 D. 6 and 4



SSC CHSL (10+2) 2022



- 2100 is divided among P, Q and R in such a way that P's share is half of the combined share of Q and R. and Q's share is one-fourth of the combined share of P and R. by what amount is R's share more than that of P?
- 2100 को P, Q और R के बीच इस प्रकार विभाजित किया जाता है कि P का हिस्सा Q और R के संयुक्त हिस्से का आधा है और Q का हिस्सा P और R के संयुक्त हिस्से का एक-चौथाई है। R का हिस्सा कितना अधिक है P की तुलना में?




- A. 280
- B. 500
- C. 200
- D. 250



SSC CHSL (10+2) 2022



- 'Cone' is related to 'Ice-cream' in the same way as 'Bowl' is related to?
- 'कोन' का संबंध 'आइसक्रीम' से उसी प्रकार है जैसे 'बाउल' का संबंध किससे है?



- A. Soup/शोरबा
- B. Soap/ साबुन
- C. Sip/ सिप
- D. Drink/पीना



SSC CHSL (10+2) 2022



• Arrange the following words in a logical and meaningful order.

• निम्नलिखित शब्दों को तार्किक और सार्थक क्रम में व्यवस्थित करें।

• 1. Lustrum/लस्ट्रूम

• 2. Century/शतक

• 3. Year/साल

• 4. Millennium/मिलेनियम

• 5. Decade/दशक



A. 2, 1, 5, 3, 4

B. 5, 1, 3, 2, 4

→ C. 3, 1, 5, 2, 4

D. 5, 4, 3, 2, 1



SSC CHSL (10+2) 2022



- In a code language, 'CERTAIN' is written as 'XVIGZRM'. How will 'CLIMATE' be written as in that language?
- एक कूट भाषा में, 'CERTAIN' को 'XVIGZRM' लिखा जाता है। उस भाषा में 'CLIMATE' कैसे लिखा जाएगा?



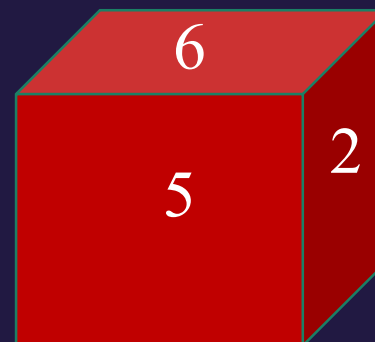
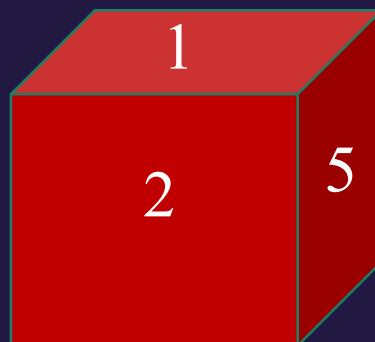
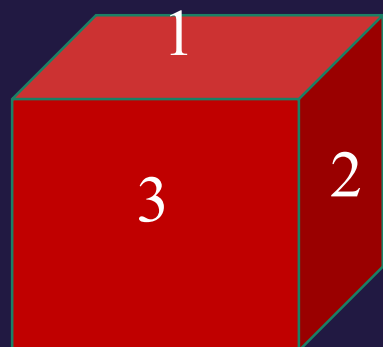
- A. XORNZGV
B. XORNZVG
C. XRONZGV
D. XONRZGV



SSC CHSL (10+2) 2022



- Find the number on face opposite to the one having 1.
- 1 वाले के विपरीत फलक पर संख्या ज्ञात कीजिए।



→ A. 6

B. 3

C. 4

D. 2



SSC CHSL (10+2) 2022



- Find the next term.
- अगला पद ज्ञात कीजिए।
- 89, 90, 82, 109, 45, ?



A. -80

B. 125

 C. 170

D. 109



SSC CHSL (10+2) 2022



• Select the set in which the numbers are related in the same way as are the numbers of the following set.

• उस सेट का चयन करें जिसमें संख्याएँ उसी तरह से संबंधित हैं जैसे निम्नलिखित सेट की संख्याएँ हैं।

• (15, 102, 313)



→ A. (11, 74, 229)

B. (5, 32, 121)

C. (8, 53, 164)

D. (9, 60, 185)