



SSC CHSL 2022-23



REASONING

PREVIOUS YEAR PAPER

SET
13

BY MANDEEP MAHENDRAS



LIVE

05:30 PM






SSC CHSL (10+2) 2022




@mr.pradhanproduction3477 21 hours ago **3 subscribers**

Good evening sir



@krishnakantmallick397 21 hours ago

H.w-A




1 reply



@latajethra4116 20 hours ago


5-327



@sorenbiti2753 21 hours ago **1 subscribers**

Option -a

13



1 reply




@surbhisinha7315 19 hours ago **4 subscribers**

Homework question answer,=13



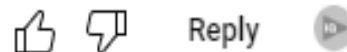
@subhamoyghosh8498 3 hours ago

HW ans opt A 13



@indukumari8754 17 hours ago

13 options



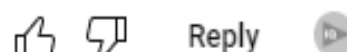
@latajethra4116 20 hours ago

3-d



@latajethra4116 20 hours ago

7-d



@latajethra4116 20 hours ago

8-c




@latajethra4116 20 hours ago



@latajethra4116 20 hours ago

5-a

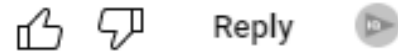


1 reply



@zikrayasmeen4058 17 hours ago

Option A

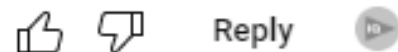


1 reply



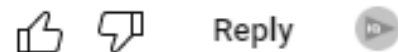
@latajethra4116 21 hours ago

1-528 ans



@rajibsaha1428 18 hours ago **13 subscribers**

HW)13



1 reply



@satyamjha4634 21 hours ago **2 subscribers**



SSC CHSL (10+2) 2022



@suruchijha393 21 hours ago

Hw 13



Reply



• 1 reply



@latajethra4116 20 hours ago

6-d



Reply

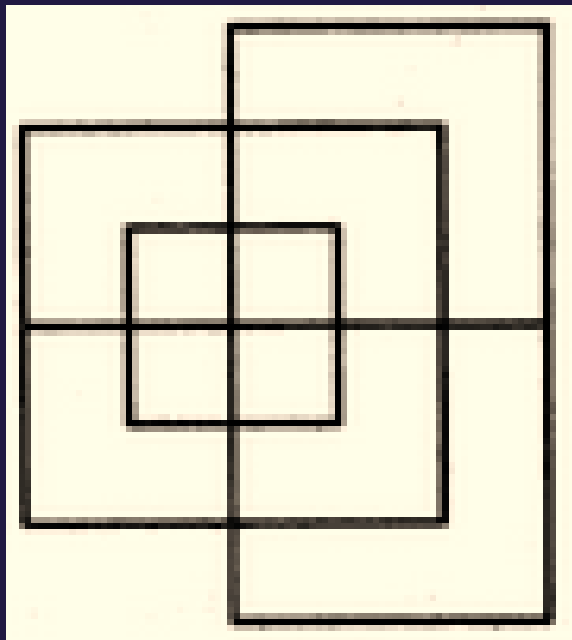




SSC CHSL (10+2) 2022



- Find minimum number of straight lines in figure?
- आकृति में सीधी रेखाओं की न्यूनतम संख्या ज्ञात कीजिए?



- A. 13
- B. 17
- C. 15
- D. 19



SSC CHSL (10+2) 2022



- The District Transport Authority has started special bus services for college going students. One bus starts from village P. the number of girls in the bus is one-fourth of the number of boys. In village Q, 20 boys leave the bus at their college stop and ten girls enter the bus. Now the number of boys and girls is equal. How many students enter the bus in the beginning?

- जिला परिवहन प्राधिकरण ने कॉलेज जाने वाले विद्यार्थियों के लिए विशेष बस सेवाएं शुरू की हैं। एक हलचल गांव P से शुरू होती है। बस में लड़कियों की संख्या लड़कों की संख्या की एक-चौथाई है। गाँव Q में, 20 लड़के अपने कॉलेज स्टॉप पर बस छोड़ देते हैं और दस लड़कियाँ बस में प्रवेश करती हैं। अब लड़के और लड़कियों की संख्या बराबर है। शुरुआत में कितने छात्र प्रवेश करते हैं?

A. 50

B. 40

C. 30

D. 60





SSC CHSL (10+2) 2022



- Select the number from among the given options that can replace the question mark (?) in the following series.
- दिए गए विकल्पों में से उस संख्या का चयन करें जो निम्नलिखित श्रृंखला में प्रश्न चिह्न (?) को प्रतिस्थापित कर सकती है।
- 71, 56, 44, 35, 29, ?



→ A. 26

B. 29

C. 20

D. 23



SSC CHSL (10+2) 2022



- Four numbers have been given, out of which three are alike in some manner and one is different. Select the number that is different.
- चार संख्याएँ दी गई हैं, जिनमें से तीन किसी प्रकार से एक जैसी हैं और एक भिन्न है। उस संख्या का चयन करें जो भिन्न है।



- A. 308
- B. 229
- C. 137
- D. 463



SSC CHSL (10+2) 2022



- Select the option that is related to the third word in the same way as the second word is related to the first word.
- उस विकल्प का चयन करें जो तीसरे शब्द से उसी प्रकार संबंधित है जैसे दूसरा शब्द पहले शब्द से संबंधित है।
- Flock : Sheep :: Crowd : ?



A. Fly

B. Fish

 C. Human

D. Swans



SSC CHSL (10+2) 2022



- Select the correct option that indicates the arrangement of the given words in the order in which they appear in an English dictionary.
- उस सही विकल्प का चयन करें जो दिए गए शब्दों की व्यवस्था को उस क्रम में इंगित करता है जिसमें वे अंग्रेजी शब्दकोश में दिखाई देते हैं

- 1. Inhaler
- 2. Inimitable
- 3. Inhabitant
- 4. Ingenuous
- 5. Inheritance



- A. 4, 3, 1, 5, 2
B. 4, 5, 2, 1, 3
C. 4, 1, 3, 5, 2
D. 4, 3, 5, 1, 2



SSC CHSL (10+2) 2022



- Four options have been given, out which three are alike in some manner and one is different. Select the option that is different.
- चार विकल्प दिए गए हैं, जिनमें से तीन किसी प्रकार से समान हैं और एक भिन्न है। उस विकल्प का चयन करें जो भिन्न है।



A. Indonesia

 B. Bangladesh

C. Singapore

D. Shri Lanka



SSC CHSL (10+2) 2022



- In a certain code language, EXTREME is written as VCGIVNV. How will INITIAL be written in that language?
- एक निश्चित कूट भाषा में EXTREME को VCGIVNV लिखा जाता है। उस भाषा में INITIAL कैसे लिखा जाएगा?



A. RMSHRZP

B. SNRGS AO

→ C. RMRGRZO

D. SMSGSZP



SSC CHSL (10+2) 2022



- Select the option in which the words share the same relationship as that shared by the given pair of words.
- उस विकल्प का चयन करें जिसमें शब्द वही संबंध साझा करते हैं जो दिए गए शब्दों के जोड़े द्वारा साझा किया गया है।
- Mosquito : Swarm



A. Shark : school

B. Cat : murder

C. Monkey : Pride

→ D. Snake : Slither




SSC CHSL (10+2) 2022



- Ruchi's husband's grandfather is Abhinav, whose grandson's father is Viyan. If Abhinav and his wife have only one son, how is viyan related to ruchi's husband?
- रुचि के पति का दादा अभिनव है, जिसके पोते का पिता वियान है। यदि अभिनव और उसकी पत्नी का केवल एक ही पुत्र है, तो वियान रुचि के पति से किस प्रकार संबंधित है?



- A. Cousin
- B. Brother-in-law
-  C. Father
- D. Uncle



SSC CHSL (10+2) 2022



- Statement:
- Some dogs are bulls./कुछ कुत्ते बैल हैं।
- All Bulls are donkeys./सभी बैल गधे हैं।
- Conclusions:
- I. All dogs are donkeys./सभी कुत्ते गधे हैं।
- II. Some donkeys are dogs./कुछ गधे कुत्ते हैं।






SSC CHSL (10+2) 2022



- Four letter-clusters have been given, out of which three are alike in some manner and one is different. Select the letter-cluster that is different.
- चार वर्ण-समूह दिए गए हैं, जिनमें से तीन किसी प्रकार से एक जैसे हैं और एक भिन्न है। लीटर-क्लस्टर का चयन करें जो अलग है।



-  A. TXBV
B. QUFZ
C. KOLF
D. GKPJ



SSC CHSL (10+2) 2022



- Study the given pattern carefully and select the number that can replace the question mark (?) in it.
- दिए गए पैटर्न का ध्यानपूर्वक अध्ययन करें और उस संख्या का चयन करें जो इसमें प्रश्नवाचक चिह्न (?) को प्रतिस्थापित कर सके।

- 13 50 08
- 12 39 05
- 15 51 ?



A. 10

B. 12

→ C. 7

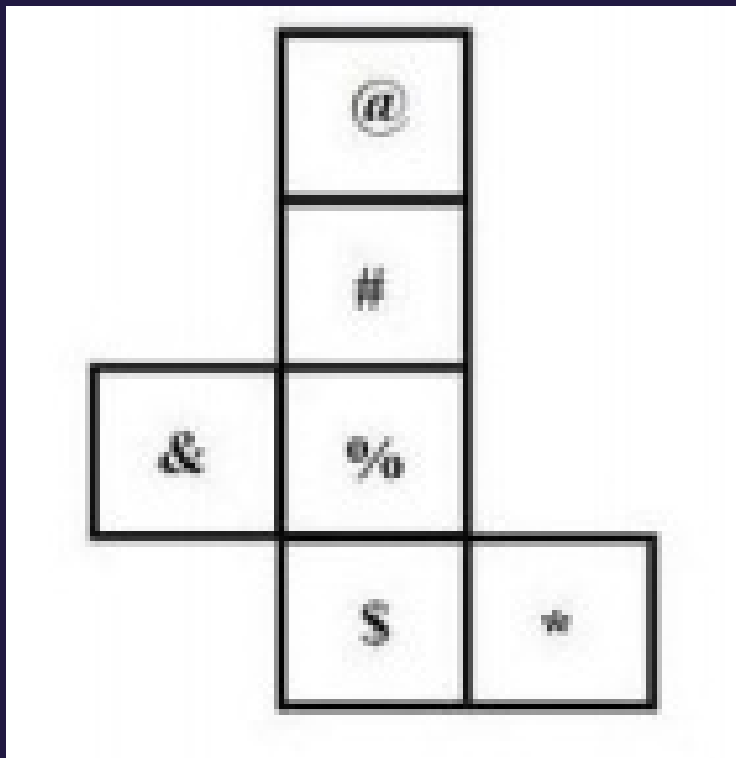
D. 9



SSC CHSL (10+2) 2022



- A cube is made by folding the given sheet. IN the cube so formed, What be the symbol on the opposite side of “S”?
- दी गई शीट को मोड़कर एक घन बनाया जाता है। इस प्रकार बने घन में, “S” के विपरीत दिशा में कौन सा प्रतीक होगा?



- A. &
- B. #
- C. *
- D. @



SSC CHSL (10+2) 2022



- Find the next term?
- अगला पद ज्ञात करें?
- 28, 15, 7, 4.75, ?



 A. 4.95

B. 4.75

C. 11.25

D. 2.25



SSC CHSL (10+2) 2022



- Find the next term?
- अगला पद ज्ञात करें?
- 1598, 798, 398, 198, ? , 48



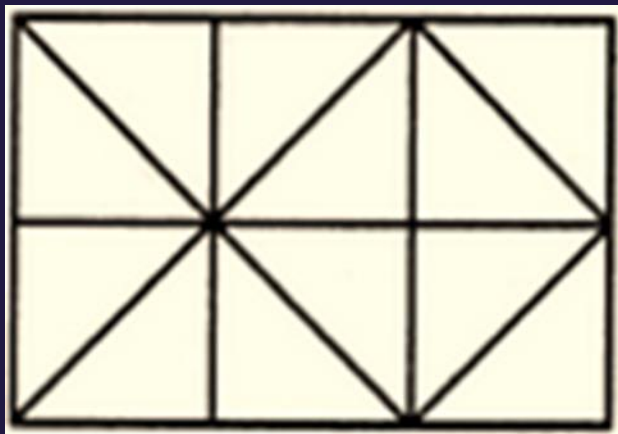
- A. 98
- B. 50
- C. 96
- D. 100



SSC CHSL (10+2) 2022



- Find number of squares in figure?
- आकृति में वर्गों की संख्या ज्ञात कीजिए?



A. 6

 B. 9

C. 7

D. 10