

# SSC CHSL 2022



## REASONING

# PREVIOUS YEAR PAPER

SET-2

BY MANDEEP MAHENDRAS

LIVE | 05:30 PM





@user-il8xe4gs9q 22 hours ago

1ka opposite 6

Thank you sir 🙏

Very helpful session 🔥👍👍👍🥰🎯

👍🗨️ Reply

▼ 🚫 • 1 reply



@sorenbiti2753 22 hours ago 1 subscribers

Options-A

6

👍🗨️ Reply

▼ 🚫 • 1 reply



@suruchijha393 22 hours ago

Home work question.. option Aaa

👍🗨️ Reply

▼ 🚫 • 1 reply



@zikrayasmeen4058 8 hours ago

Option A

👍🗨️ Reply



@user-tw2dz7nq9m 18 hours ago

1

👍🗨️ Reply



@arpitasingh5508 22 hours ago

6 😊







👍🗨️ Reply





▼ 🚫 • 1 reply





 @user-tw2dz7nq9m 18 hours ago  
4  
  Reply 

 @user-tw2dz7nq9m 18 hours ago  
D  
  Reply 







 @user-tw2dz7nq9m 18 hours ago  
B  
  Reply 

 @indukumari8760 22 hours ago  
6 hoga sir  
  Reply   
  • 1 reply

 @chhavisaxena8981 22 hours ago  
Home work answer is 6  
  Reply 

 @mansigupta201 22 hours ago  
6 is the answer sir  
  Reply 

  • 1 reply

 @subhamoyghosh8498 22 hours ago  
Hw ans 6  
  Reply   
  • 1 reply

 @user-tw2dz7nq9m 18 hours ago  
4  
  Reply 



# SSC CHSL (10+2) 2022



- Find the next term.
- अगला पद ज्ञात कीजिए।
- 89, 90, 82, 109, 45, ?



A. -80

B. 125

 C. 170


D. 109



# SSC CHSL (10+2) 2022



- Select the set in which the numbers are related in the same way as are the numbers of the following set.
- उस सेट का चयन करें जिसमें संख्याएँ उसी तरह से संबंधित हैं जैसे निम्नलिखित सेट की संख्याएँ हैं।
- (15, 102, 313)



- A. (11, 74, 229)
- B. (5, 32, 121)
- C. (8, 53, 164)
- D. (9, 60, 185)



# SSC CHSL (10+2) 2022



- From the given alternatives select the word which cannot be formed using the letters of the given words.
- दिए गए विकल्पों में से वह शब्द चुनिए जो दिए गए शब्दों के अक्षरों का प्रयोग करके नहीं बनाया जा सकता है।
- CHARACTER



- A. HEARTY  
B. CRATE  
C. TRACER  
D. CHARTER



# SSC CHSL (10+2) 2022



• 6425 : 6357 :: 3658 : ?



A. 5726

 B. 9674

C. 8835

D. 5382



# SSC CHSL (10+2) 2022



• 12: 72 :: 14 : ?



A. 96

B. 93

A thick red arrow pointing from the left towards the text 'C. 98'.

C. 98

D. 140





# SSC CHSL (10+2) 2022



- Find the different one from the given options.
- दिए गए विकल्पों में से विभिन्न को ढूँढें।



A.  $5+9-2=12$

B.  $8\times 2-13=3$

 C.  $13\times 2-1=26$

D.  $12\div 2+5=11$




# SSC CHSL (10+2) 2022



- Introducing John to guests, Steve said, "Her father is the only son of my father". How is John related to Steve?
- मेहमानों से जॉन का परिचय कराते हुए स्टीव ने कहा, "उसके पिता मेरे पिता के इकलौते पुत्र हैं"। जॉन स्टीव से कैसे संबंधित है?



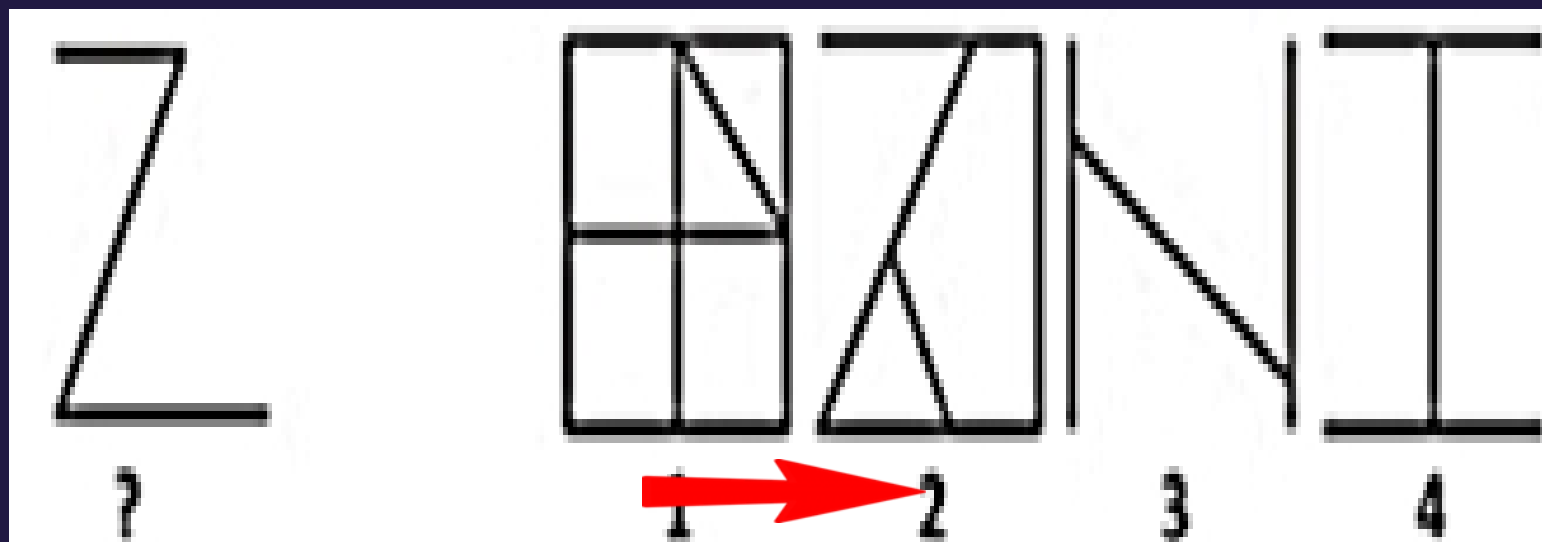
- A. Sister
- B. Niece
-  C. Daughter
- D. Mother



# SSC CHSL (10+2) 2022



- Find out the alternative figure which contains figure (?) as its part.
- वह वैकल्पिक आकृति ज्ञात कीजिए जिसके भाग में आकृति (?) है।





# SSC CHSL (10+2) 2022



- A is 3 years older to B and 3 years younger to C, while B and D are twins. How many years older is C to D?
- A, B से 3 वर्ष बड़ा है और C से 3 वर्ष छोटा है, जबकि B और D जुड़वां हैं। C से D कितने वर्ष बड़ा है?



A. 3

→ B. 6

C. 9

D. 12



# SSC CHSL (10+2) 2022



- Kunal walks 10 km towards North. From there he walks 6 km towards South. Then, he walks 3 km towards East. How far and in which direction is he with reference to his starting point?
- कुणाल उत्तर की ओर 10 किमी चलता है। वहां से वह दक्षिण की ओर 6 किमी चलता है। फिर, वह 3 किमी पूर्व की ओर चलता है। वह अपने शुरुआती बिंदु के संदर्भ में कितनी दूर और किस दिशा में है?



A. 5 km West

B. 7 km West

C. 7 km East


 D. 5 km North-east



# SSC CHSL (10+2) 2022



- A man is 3 years older than his wife and four times as old as his son. If the son becomes 15 years old after 3 years, what is the present age of the wife ?
- एक आदमी अपनी पत्नी से 3 साल बड़ा है और अपने बेटे से चार गुना बड़ा है। यदि पुत्र 3 वर्ष बाद 15 वर्ष का हो जाता है, तो पत्नी की वर्तमान आयु क्या है?



A. 60

B. 51

C. 48

D. 45





# SSC CHSL (10+2) 2022



- Suresh is 7 ranks ahead of Ashok in the class of 39 students. If Ashok's rank is 17th from the last, what is Suresh's rank from the start?
- 39 विद्यार्थियों की कक्षा में सुरेश, अशोक से 7 स्थान आगे है। यदि अशोक की रैंक अंत से 17वीं है, तो शुरू से सुरेश की रैंक क्या है?



- A. 16
- B. 23
- C. 24
- D. 15



# SSC CHSL (10+2) 2022



Find the next term

अगला पद ज्ञात कीजिए

2, 4, 10, 22, 42, 72, ?



A. 102

B. 106

A thick red arrow pointing from the left towards the option 'C. 114'.

C. 114

D. 124





# SSC CHSL (10+2) 2022



Find the next term

अगला पद ज्ञात कीजिए

4, 2, 2, 4, 16, ?



A. 64

B. 72

C. 96

 D. 128

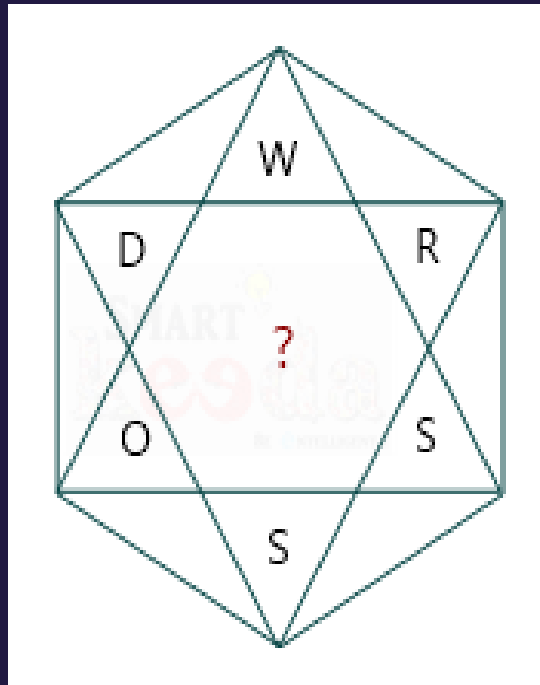


# SSC CHSL (10+2) 2022



Find the value of question mark.

प्रश्न चिह्न का मान ज्ञात कीजिए।



A. 97

B. 180

C. 79

 D. 98



# SSC CHSL (10+2) 2022



Statement :

All liquids are solids.

Some solids are gases.

All gases are clouds.

Conclusions :

Some clouds are solids.

Some solids are clouds.

