



# MISSION SSC 2024



## SSC CHSL SPECIAL

# PRACTICE BATCH

**DAY - 13**

**REASONING**

**LIVE 07:00 PM**





# MISSION SSC-2024



**Q.1. Select the related word from the given alternatives.**

दिए गए विकल्पों में से संबंधित शब्द का चयन करें।

**Ocean: Water :: Glacier : ?/ महासागर: जल:: हिमनद: ?**



- |           |           |
|-----------|-----------|
| (A) Ice   | (A) बर्फ  |
| (B) Water | (B) पानी  |
| (C) Pole  | (C) ध्रुव |
| (D) Heat  | (D) गर्मी |



Q.2. Select the related figure from the given responses..  
दिए गए उत्तरों में से संबंधित आकृति का चयन करें।

Question Figures

Answer Figures

(A)

(B)

(C)

(D)





# MISSION SSC - 2024



Q.3. What will be the water image of the question figure?

प्रश्न आकृति का जल प्रतिबिम्ब क्या होगा?

Question Figure S N A C K



Answer Figures

(A) SNACK

(B) SNACK

(C) SNACK

(D) SNACK



## MISSION SSC-2024



**Q.4. Which one set of letters when sequentially placed at the gaps in given letter series shall complete it.**

अक्षरों का कौन-सा समूह दी गई अक्षर श्रृंखला में रिक्त स्थानों पर क्रमिक रूप से रखे जाने पर इसे पूरा करेगा।

n \_ t \_ s \_ \_ s \_ n \_ t



- (A) sntnt s
- (B) nt s t tn
- (C) t t snt s
- (D) ns tns t



## MISSION SSC - 2024



**Q.5. In a row of girls, Pooja is 7th from the left and Vandana who is the 9th from the right. They interchange their seats then Pooja becomes 11th from the left. How many girls are there in the row?**  
**लड़कियों की एक पंक्ति में, पूजा बायीं ओर से 7वीं है और वंदना दायीं ओर से 9वीं है। वे अपनी सीटें आपस में बदल लेते हैं, फिर पूजा बाईं ओर से 11वीं हो जाती है। पंक्ति में कितनी लड़कियाँ हैं?**



- (A) 16
- (B) 18
- (C) 20
- (D) 19



## MISSION SSC - 2024



**Q.6. If POSTER is coded as 592314 and DARK is coded as 8647, then how will STROKE be coded?  
यदि POSTER को 592314 के रूप में कोडित किया गया है और DARK को 8647 के रूप में कोडित किया गया है, तो STROKE को कैसे कोडित किया जाएगा?**



- (A) 234917
- (B) 234971
- (C) 493287
- (D) 329417



## MISSION SSC-2024



**Q.7 . In a certain code language 'Ki Su Mo' means 'heart has broken', 'Ci Cu' means 'enjoy sight' and ' Ki Ci Ho' means 'enjoy heart attack'.. How is 'sight' written in that code language?**



- (A) Ci**
- (B) Cu**
- (C) Either Ci or Cu**
- (D) Ki**

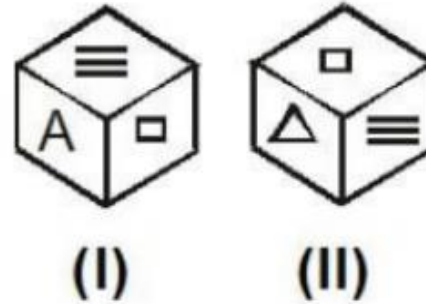





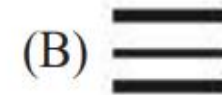
# MISSION SSC-2024



Q.8. Two positions of a cube are given below. Study each position and answer the question given below.  
एक घन की दो स्थितियाँ नीचे दी गई हैं। प्रत्येक स्थिति का अध्ययन करें और नीचे दिए गए प्रश्न का उत्तर दें।



Which symbol is opposite the square  ?



(C) A





## MISSION SSC-2024



**Q.9. A is facing towards North and then he turns left and walks some km. He then turns right and walks some km. Again he turns left and walks some km. Now he is walking in which direction?**

**A का मुख उत्तर की ओर है और फिर वह बाईं ओर मुड़ता है और कुछ किमी चलता है। फिर वह दाएँ मुड़ता है और कुछ किमी चलता है। वह फिर से बायीं ओर मुड़ता है और कुछ किमी चलता है। अब वह किस दिशा में चल रहा है?**



- (A) North**
- (B) South**
- (C) East**
- (D) West**

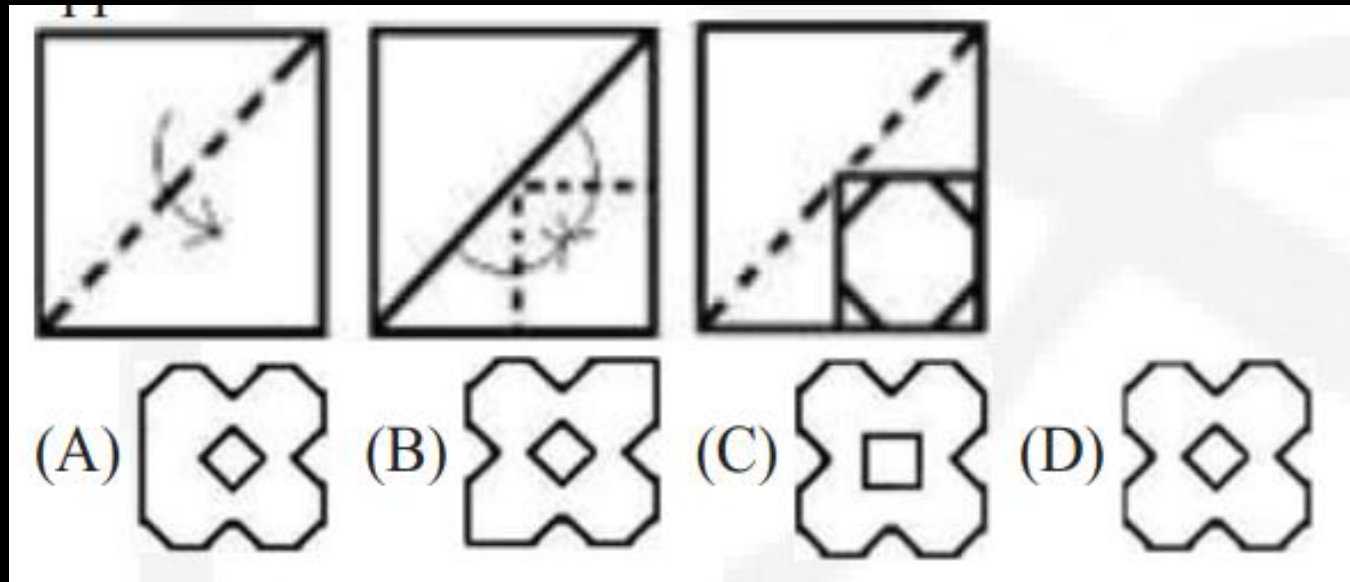


# MISSION SSC-2024



**Q.10. A paper is folded and cut as shown below.  
How will it appear when unfolded?**

एक कागज को नीचे दिखाए अनुसार मोड़ा और काटा जाता है। खुलने पर यह कैसा दिखाई देगा?





## MISSION SSC-2024



**Q.11. A is the father of X. B is the mother of Y. The sister of X and Z is Y. Which of the following statements is definitely not true?**

**A, X का पिता है। B, Y की माँ है। X और Z की बहन Y है। निम्नलिखित में से कौन सा कथन निश्चित रूप से सत्य नहीं है?**



- (A) B is the mother of Z.**
- (B) X is the sister of Z.**
- (C) Y is the son of A.**
- (D) B has one daughter**



## MISSION SSC-2024



**Q.12. Aman's rank is 10th from top and 12th from bottom in a row of people. How many people are there in the row?**

**लोगों की एक पंक्ति में अमन की रैंक ऊपर से 10वीं और नीचे से 12वीं है। पंक्ति में कितने व्यक्ति हैं?**



**(A)21**

**(B)22**

**(C)15**

**(D)18**



## MISSION SSC-2024



**Q.13. B is the brother of A, and his only sister is the mother of C. D is the maternal grandmother of C. How is A related to D?**

**B, A का भाई है, और उसकी एकमात्र बहन C की माँ है। D, C की नानी है। A, D से किस प्रकार संबंधित है?**



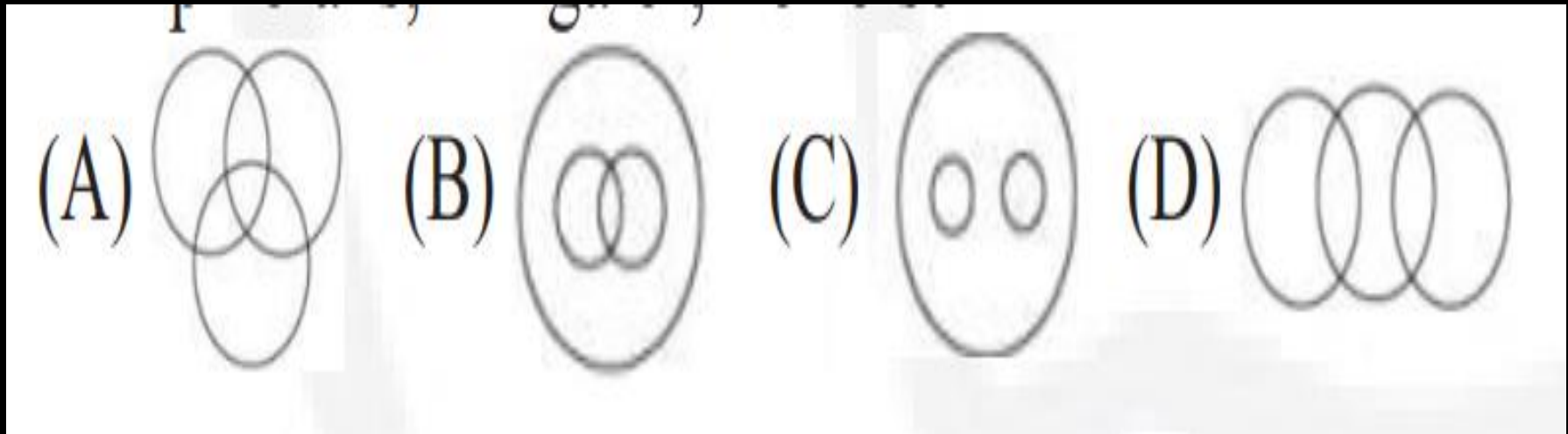
- (A) Daughter-in-law**
- (B) Daughter**
- (C) Aunt**
- (D) Nephew**



**Q.14. Choose the best suitable Venn diagram for the following words:**

निम्नलिखित शब्दों के लिए सबसे उपयुक्त वेन आरेख चुनें:

"Amphibians, Alligator, Tortoise" / "उभयचर, मगरमच्छ, कछुआ"





## MISSION SSC - 2024



**Q.15. Find out the set of numbers amongst the four set of numbers given in the alternatives which are the most similar to the numbers given in the question.**

विकल्पों में दिए गए संख्याओं के चार सेटों में से संख्याओं का वह सेट ज्ञात कीजिए जो प्रश्न में दी गई संख्याओं के सबसे अधिक समान है।

**Given set : (28,44,60)**

**(A) (17,35,53)**

**(B) (14,28,41)**

**(C) (35,65,83)**

**(D) (21,38,57)**







Q.16. Find the next figure for the given series. दी गई श्रृंखला के लिए अगला अंक ज्ञात कीजिए।



Problem Figures:



Answer Figures:



(A) C

(B) A

(C) B

(D) D



## MISSION SSC-2024



**Q.17. In a party there are 160 members. Three-fourth of them are men and rest are women. All the members are married except 8 women. How many married women are there in the party**  
**एक पार्टी में 160 सदस्य हैं। उनमें से तीन-चौथाई पुरुष हैं और बाकी महिलाएं हैं। 8 महिलाओं को छोड़कर सभी सदस्य विवाहित हैं। हिस्से में कितनी शादीशुदा महिलाएं हैं**



- (A) 8
- (B) 30
- (C) 10
- (D) 32



## MISSION SSC-2024



**Q.18. Vinay said to Rohan, Seema is your maternal aunt and my mother is also your maternal aunt and Rekha is my sister then how Rohan is related to Rekha?**

विनय ने रोहन से कहा, सीमा तुम्हारी मामी है और मेरी माँ भी तुम्हारी मौसी है और रेखा मेरी बहन है तो रोहन, रेखा से कैसे संबंधित है?



- (A) Brother**
- (B) Aunt**
- (C) Sister**
- (D) Cousin**

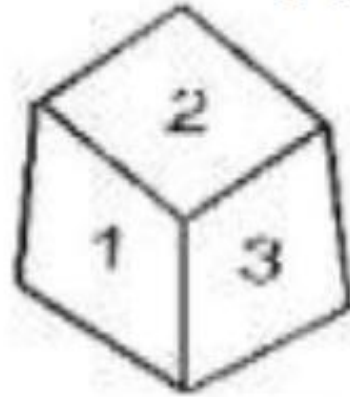


# MISSION SSC-2024



Q19. What is opposite number of 3 ?

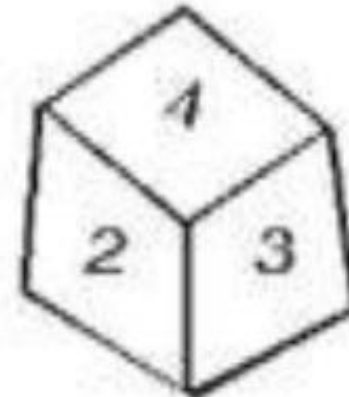
3 की विपरीत संख्या क्या है?



(A) 1



(B) 6



(C) 4

(D) 3



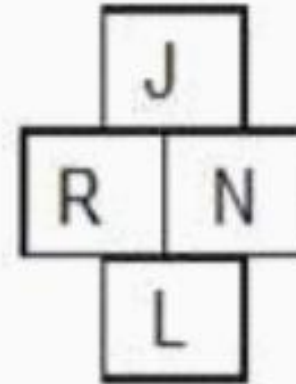
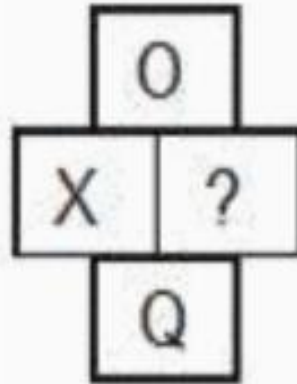


# MISSION SSC-2024



Q 20. Select the missing letter from the given responses.

दी गई प्रतिक्रियाओं में से लुप्त अक्षर का चयन करें



(A) R

(B) S

(C) U

(D) T





**Q.21. Which one set of letters when sequentially placed at the gaps in the given letter series shall complete it?**

अक्षरों का कौन सा समूह दी गई अक्षर श्रृंखला में रिक्त स्थानों पर क्रमिक रूप से रखे जाने पर इसे पूरा करेगा?

w \_ e e \_ b e \_ w b \_ \_ w \_ e e



- (A) bweeee
- (B) bweeeb
- (C) wweeeb
- (D) bwebbb

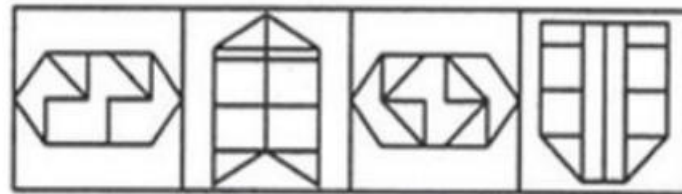


**Q.22. Find out the alternative figure which contains figure (X) as its part (rotation is not allowed).**

उस वैकल्पिक आकृति को ज्ञात कीजिए जिसमें आकृति (X) को उसके भाग के रूप में शामिल किया गया है (घूर्णन की अनुमति नहीं है)।



(X)



(1)

(2)

(3)

(4)

(A)1

(B)2

(C)3

(D)4



**Q.23. Select the word which cannot be formed from the letters of the given word.**

उस शब्द का चयन करें जो से नहीं बनाया जा सकता दिए गए शब्द के अक्षर.

**LEGIBILITY**



- (A) BILL**
- (B) ABILITY**
- (C) BIG**
- (D) LEG**





Q.24. Select the related word from the given alternatives.

दिए गए विकल्पों में से संबंधित शब्द का चयन करें।

Key: Lock:: Switch: ?/कुंजी: लॉक:: स्विच: ?



- (A) Fan
- (B) Electricity
- (C) Om
- (D) Plastic



**Q.25. Select the related number from the given alternatives.**

**दिए गए विकल्पों में से संबंधित संख्या का चयन करें।**

**1137 : 441 :: 4312 : ?**



**(A) 576**

**(B) 676**

**(C) 671**

**(D) 729**



**Q.26 Statements: All blue are green.**

**Some green are yellow.**

**Conclusions: I. Some green are blue.**

**II. Some green are not yellow.**

**(A) Only conclusion I follows.**

**(B) Only conclusion II follows.**

**(C) Neither conclusion I nor II follows.**

**(D) Both conclusions I and II follow.**





**Q.27. Arrange the given words in the Dictionary order.**

दिए गए शब्दों को शब्दकोश क्रम में व्यवस्थित करें।

1. First
2. Frown
3. Fist
4. Fast
5. Floor



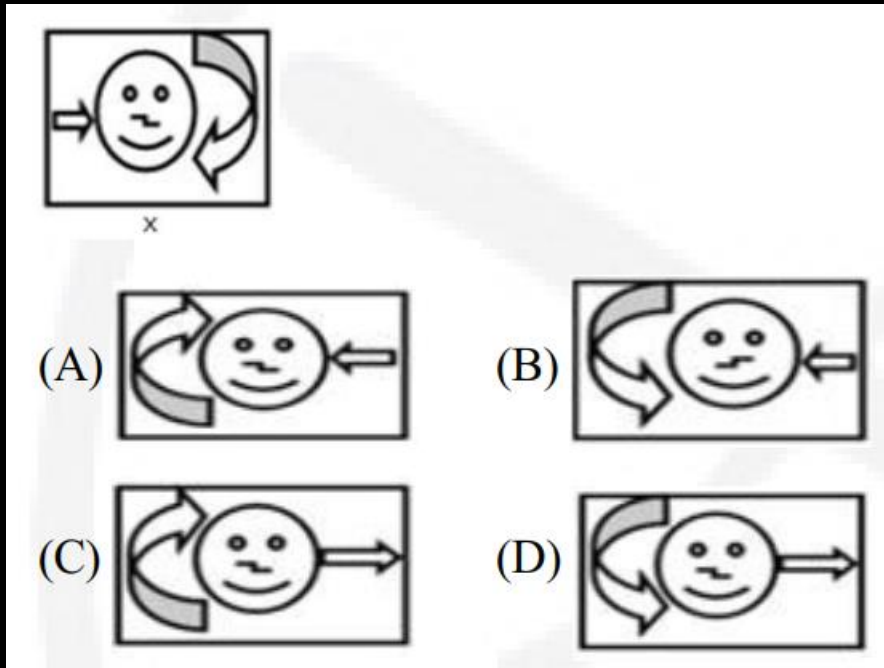
- (A) 3,5,2,4,1  
(B) 4,1,3,5,2  
(C) 2,1,3,5,4  
(D) 2,4,1,5,3



# MISSION SSC-2024



**Q.28. Choose the correct mirror image of the given figure (X) from amongst the four alternatives.**  
चार विकल्पों में से दी गई आकृति (X) की सही दर्पण छवि चुनें।





**Q.29. Three of the following four are alike in a certain way and hence form a group. Which one of the following does not belong to the group?**

निम्नलिखित चार में से तीन एक निश्चित तरीके से समान हैं और इसलिए एक समूह बनाते हैं। निम्नलिखित में से कौन सा समूह से संबंधित नहीं है?



- (A) BDGJ
- (B) DGJM
- (C) KNQT
- (D) TWZC



**Q.30. If in a certain code language, 'SUTFQ' is coded as 19-21-20-6-17 and 'GMNSF' is coded as 7-13-14- 19-6 then how can 'LREPP' be coded in that code language?**

यदि किसी निश्चित कोड भाषा में, 'SUTFQ' को 19-21-20-6-17 के रूप में कोडित किया गया है और 'GMNSF' को 7-13-14- 19-6 के रूप में कोडित किया गया है, तो उस कोड भाषा में 'LREPP' को कैसे कोडित किया जा सकता है? ?



- (A)12-18-5-16-16
- (B)11-18-5-16-16
- (C)12-13-5-16-16
- (D)12-18-15-16-16



**Q.31. In a family, B is the father of M and N. B does not have any daughter. K is the brother of R. R is the wife of S. A is the daughter of S. B is the brother of A and husband of P. How is B related to S?**

एक परिवार में, B, M और N का पिता है। B की कोई बेटी नहीं है। K, R का भाई है। R, S की पत्नी है। A, S की बेटी है। B, A का भाई है और P का पति है। B, S से किस प्रकार संबंधित है?



- (A) Son-in-law
- (B) Son
- (C) Brother-in-law
- (D) Brother





**Q.32. The height of A and B are equal. C is shorter than A. D is shorter than E but taller than B then find out who is the shortest among them?**

**A और B की ऊंचाई बराबर है। C, A से छोटा है। D, E से छोटा है लेकिन B से लंबा है, तो पता लगाएं कि उनमें से सबसे छोटा कौन है?**



- (A) D**
- (B) C**
- (C) E**
- (D) B**



**Q.33. Three of the following four letter-clusters are alike in a certain way and one is different. Pick the odd one out.**  
निम्नलिखित चार अक्षर-समूहों में से तीन एक निश्चित तरीके से समान हैं और एक भिन्न है। बेजोड़ को चुनें।



- (A) H19K16
- (B) D23G20
- (C) P11S8
- (D) J17M11

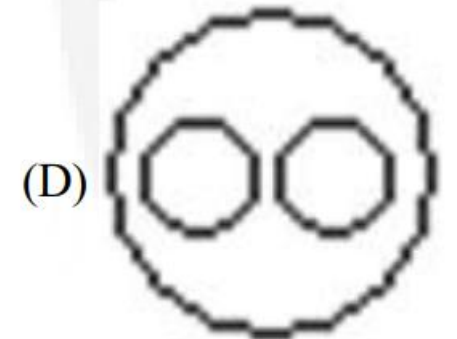
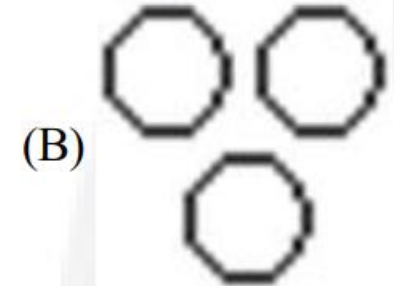
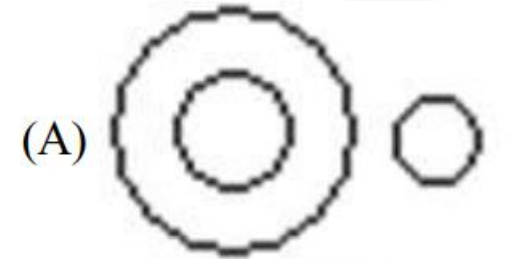


**Q.34. Which of the following diagrams indicates the best relation between**

**निम्नलिखित में से कौन सा आरेख सबसे अच्छे संबंध को दर्शाता है?**

**ELEPHANT, TIGER and HERBIVORES?**

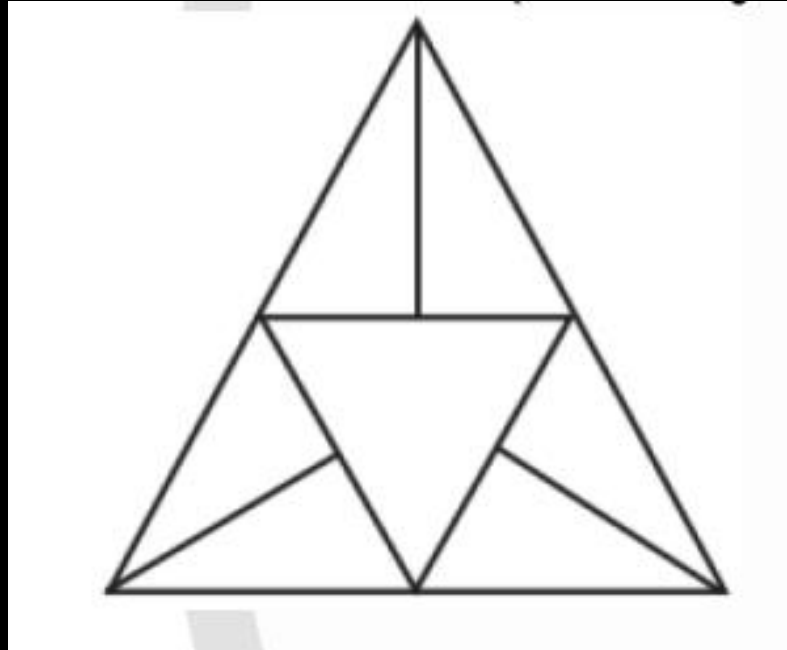
**हाथी, बाघ और शाकाहारी?**





Q.35. How many triangles are there in the given figure ?

दी गई आकृति में कितने त्रिभुज हैं?



(A) 10

(B) 11

(C) 12

(D) 14



MISSION SSC-2024



THANK YOU