

SSC GD 2022



अब वहीं दूर नहीं

5

REASONING

**SPECIAL MOCK
PAPER**

TARGET 20/20

BY MANDEEP MAHENDRAS

LIVE | 03:00 PM





- Which one set of letters when sequentially placed at the gaps in the given letter series shall complete it
- अक्षरों का कौन-सा समूह रिक्त स्थानों पर क्रमिक रूप से रखे जाने पर दी गई अक्षर श्रृंखला को पूरा करेगा
- aab _ ab _ cabcca _ bcab _ c



- A. cabc
- B. bbab
- C. cbab
- D. bbcc



- What number will come in place of the question mark?
- प्रश्न चिन्ह के स्थान पर कौन सी संख्या आएगी ?

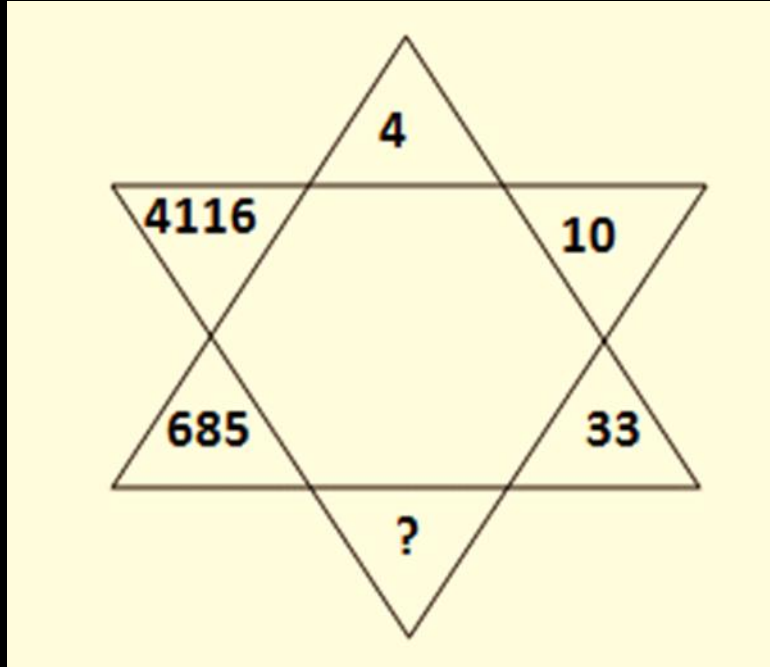
| | | |
|----|----|----|
| 42 | 44 | 38 |
| 23 | 55 | 28 |
| 37 | ? | 39 |



- A. 22
- B. 33
- C. 66
- D. 77



- What number will come in place of the question mark?
- प्रश्न चिन्ह के स्थान पर कौन सी संख्या आएगी ?

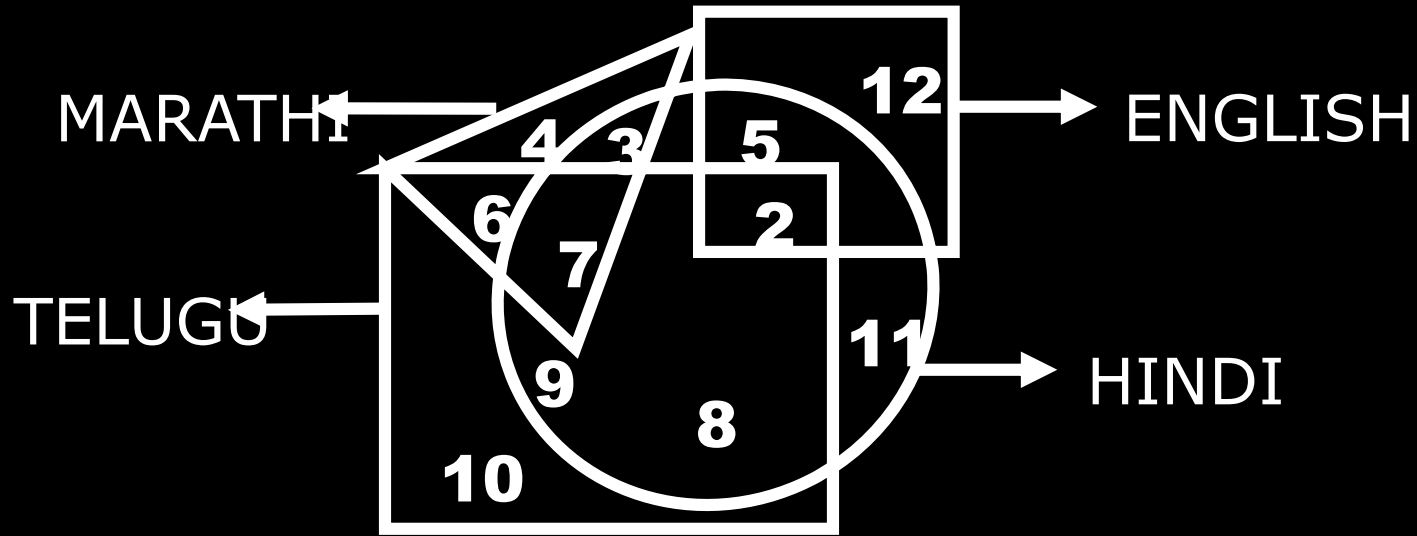


- A. 125
- B. 116
- C. 136
- D. 95



How many persons can speak English and Hindi both the languages only ?

कितने व्यक्ति केवल अंग्रेजी और हिंदी दोनों भाषाएं बोल सकते हैं?



- A. 5
- B. 7
- C. 8
- D. 18



- Find the next term?
- अगला पद ज्ञात कीजिए?
- 5, 9, 16, 29, 54, 103, ?



- A. 200
- B. 212
- C. 180
- D. 216



- Six persons are sitting in a circle facing the centre. Parikh is sitting between Babita and Narendra. Asha sits between Chitra and Pankaj. Chitra is to the immediate right of Babita. Who is to the immediate right of Babita?
- छः व्यक्ति केंद्र की ओर मुख करके वृत्त में बैठे हैं। पारिख, बबिता और नरेंद्र के बीच में बैठा है। आशा, चित्रा और पंकज के बीच में बैठी है। चित्रा, बबिता के तत्काल दाये ओर है। बबिता के तत्काल दायीं तरफ कौन है?



- A. Pankaj
- B. Narendra
- C. Parikh
- D. Chitra



- In ASEAN Summit, all leaders shake hands with each other once. How many handshakes will there be altogether if there are 15 leaders?

आसियान समिट में सभी नेता एक-दूसरे से एक बार हाथ मिलाते हैं। यदि 15 नेता हों तो कुल कितने हाथ मिलाये जायेंगे?



- A. 100
- B. 105
- C. 75
- D. 85



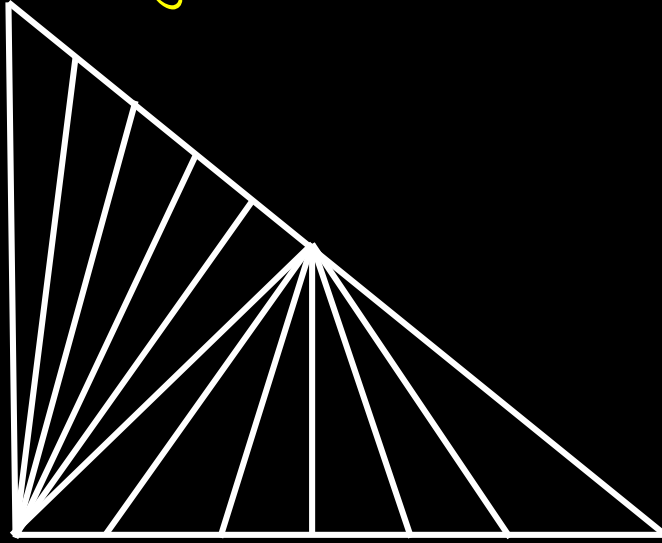
- which day of week will the last day of a century?
- सप्ताह का कौन सा दिन सदी का अंतिम दिन होगा?



- A. Friday
- B. Tuesday
- C. Thursday
- D. Saturday



- Find the number of triangles in the given figure?
- दिए गए चित्र में त्रिभुजों की संख्या ज्ञात करें?



- A. 32
- B. 27
- C. 41
- D. 37



- Choose the correct mirror image of the given figure (X) from amongst the four alternatives ?
- चार विकल्पों में से दी गई आकृति (X) की सही दर्पण छवि चुनें?



(X)

(A)

(B)

(C)

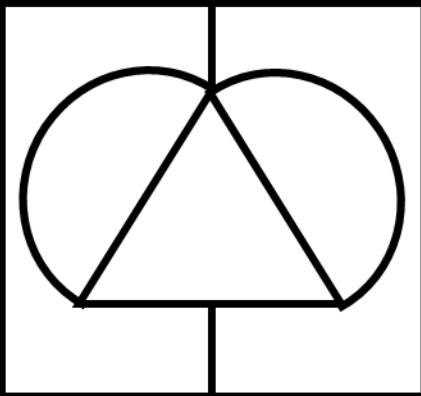
(D)



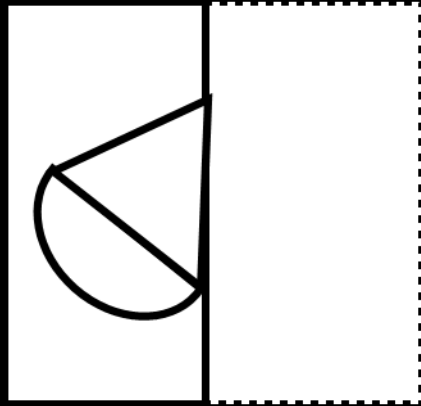


- Find out from amongst the four alternatives as to how the pattern would appear when the transparent sheet is folded at the dotted line.

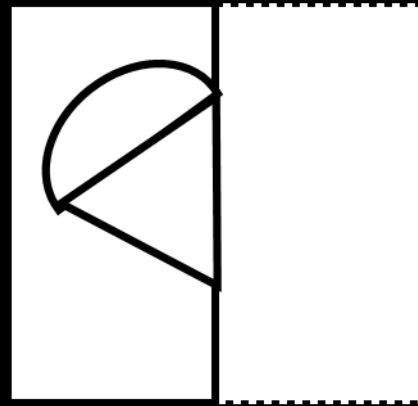
चार विकल्पों में से ज्ञात कीजिए कि जब पारदर्शी शीट को बिंदीदार रेखा पर मोड़ा जाता है तो पैटर्न कैसा दिखाई देगा।



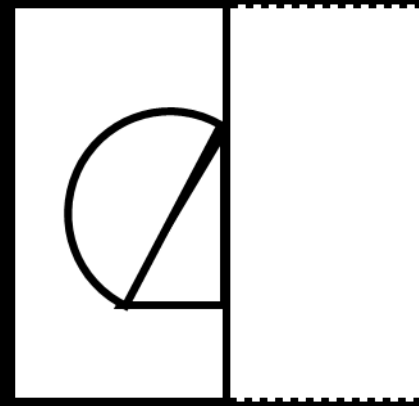
X



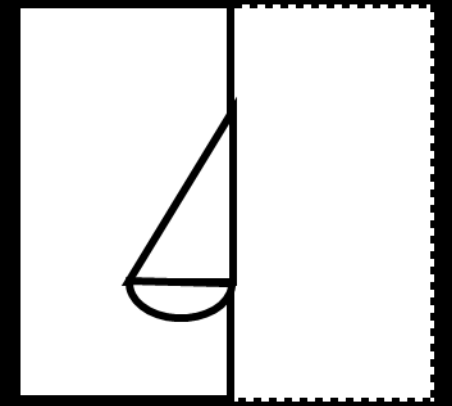
1



2



3



4

