



SSC CGL 2022



REASONING

**MOST EXPECTED
PAPER**

ALL SHIFTS / 01ST DEC

आज के EXAM पर आधारित

LIVE | 05:30 PM

BY MANDEEP MAHENDRAS



DFHJ : LNPR :: TVXZ : ?

(A) DBFH

(B) DBHF

(C) BDFH

(D) FDBH



In a certain language, **KUNAL** is written as **MWPCN**, then how is **KISHORE** written in same language?

किसी भाषा में **KUNAL** को **MWPCN** लिखा जाता है, तो उसी भाषा में **KISHORE** को कैसे लिखा जाएगा?

(A) **MKJUTQG**

(B) **KMUJTQG**

(C) **MKUJQTG**

(D) **MKUJQGT**



Choose the odd one.

(A) 125

(B) 216

(C) 729

(D) 525



Read the information below and answer the question thereafter:

(A) $P \times Q$ means 'P is mother of Q'. / 'P, Q की माता है।'

(B) $P - Q$ means 'P is father of Q'. / 'P, Q का पिता है।'

(C) $P \div Q$ means 'P is brother of Q'. / 'P, Q का भाई है।'

(D) $P + Q$ means 'P is sister of Q'. / 'P, Q की बहन है।'

Q. In the expression $C - D + E$. How is D related to C ?/ अभिव्यक्ति $C - D + E$ में, D, C से कैसे संबंधित है?

(A) Mother

(B) Sister

(C) Daughter

(D) Son



Anubhav is 7th to the left of Rohan, who is 31st from right.
What is rank of Anubhav from right?

अनुभव रोहन के बायें से 7वें स्थान पर है, जो दायें से 31वें स्थान पर है। दायें से अनुभव की रैंक क्या है?

(A) 21st
(C) 19th

(B) 25th
(D) 38th



Find the next term.

5, 6, 9, 14, 21, ?



- (A) 32
- (B) 31
- (C) 35
- (D) 30

Find the next term.

1, 3, 6, 11, 18, ?

(A) 32

(B) 27

(C) 29

(D) 30



6 Boys are sitting in a circle and facing towards the center of the circle. R is sitting to the immediate right of M, but he is not just to the left of V. S is between B and V. A is sitting to the immediate left of V. Who is second to the right of v ?

6 लड़के एक वृत्त में बैठे हैं और वृत्त के केंद्र की ओर उन्मुख हैं। R, M के ठीक दायें बैठा है, लेकिन वह V के ठीक बायें नहीं बैठा है। S, B और V के बीच में है। A, V के ठीक बायें बैठा है। v के दायें से दूसरा कौन है?

(A) S

(B) R

(C) B

(D) M



What is a day on 5th DEC 2006 ?

5 दिसंबर 2006 को कौन सा दिन है?

(A) Saturday

(B) Monday

(C) Tuesday

(D) Thursday



If 'a' means ' \div ', 'b' means '+', 'c' means '-' and 'd' means ' \times ' then

$$11 \text{ b } 15 \text{ c } 8 \text{ a } 4 \text{ d } 5 = ?$$

(1) 36

(2) 16

(3) 26

(4) 6



Find number of triangle in given figure ?

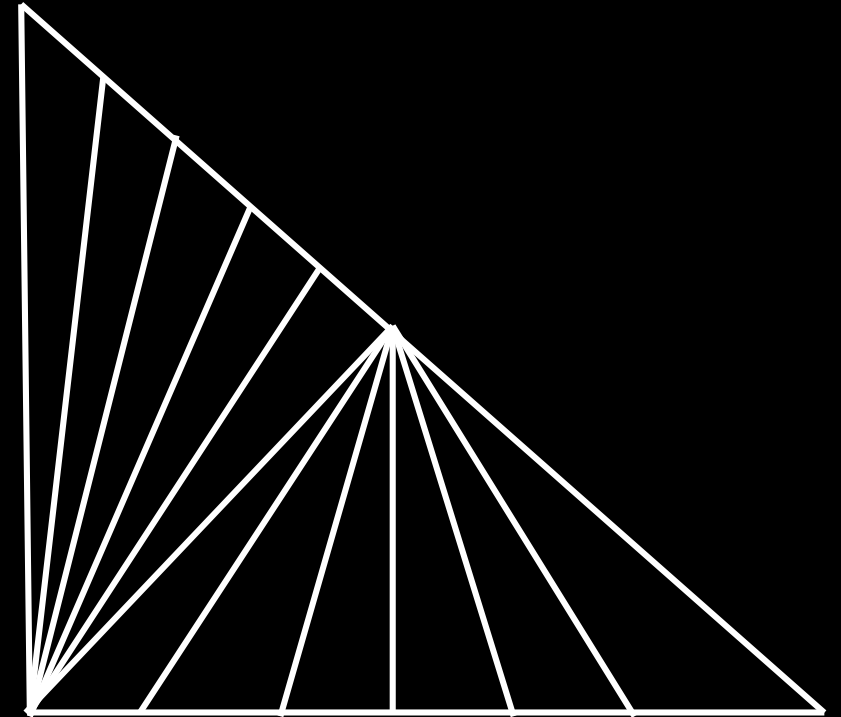
दी गई आकृति में त्रिभुजों की संख्या ज्ञात कीजिए?

(A) 32

(B) 41

(C) 23

(D) 37



Statement:

All the philosophers are males.
Socrates was a philosopher.

Conclusion:

1. Socrates was male.
2. Females cannot be the philosophers.

- (A) Only 1 is correct
(B) Only 2 is correct
(C) both are not correct
(D) both are correct



कथन:

सभी दार्शनिक पुरुष हैं।

सुकरात एक दार्शनिक थे।

निष्कर्ष: 1. सुकरात पुरुष थे।

2. महिलाएँ दार्शनिक नहीं हो सकतीं।

- (A) केवल 1 सही है
(B) केवल 2 सही है
(C) दोनों सही नहीं हैं
(D) दोनों सही हैं

Q. Two positions of dice are shown. What will appear on the opposite to the face containing 6?

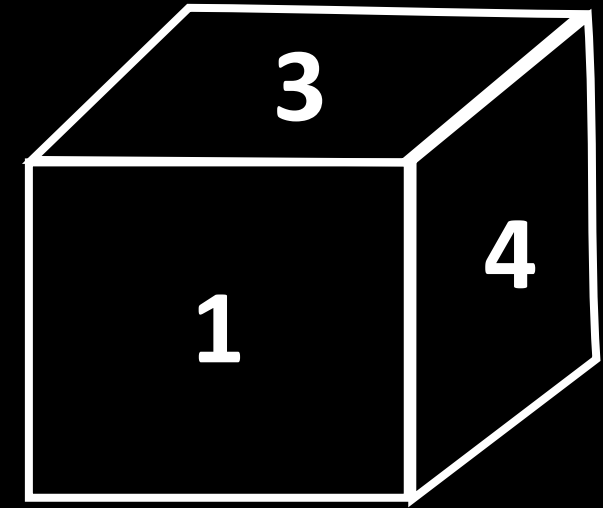
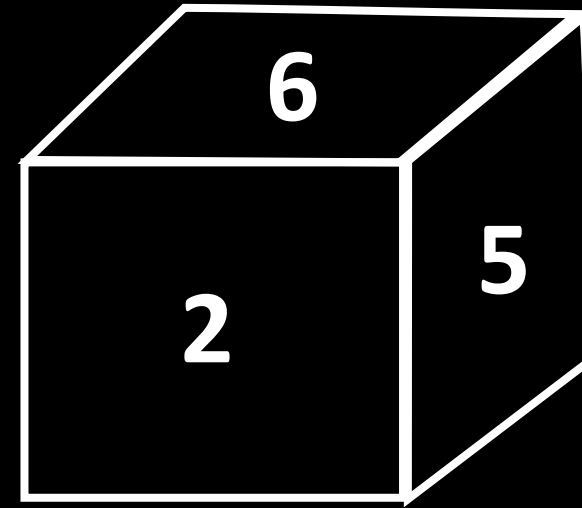
पासे की दो स्थितियाँ दर्शाई गई हैं। 6 वाले फलक के विपरीत क्या दिखाई देगा?

(A) 3

(B) 5

(C) 1

(D) 2



Statement :

All the harmoniums are instruments.

All the instruments are flutes.

Conclusions :

(I) All the flutes are instrument.

(II) All the harmoniums are flutes.

कथन :

सभी हारमोनियम वाद्य यंत्र हैं।

सभी वाद्य यंत्र बांसुरी हैं।

निष्कर्ष :

सभी बांसुरी यंत्र हैं।

सभी हारमोनियम बांसुरी हैं।



Q. Choose a figure which would most closely resemble the unfolded form of Figure (Z)./ एक ऐसी आकृति चुनें, जो चित्र (Z) के अनफोल्डेड फॉर्म के सबसे करीब से मिलती-जुलती हो।

