



# MISSION SSC 2024



# PREVIOUS YEAR PAPERS

## REASONING

# PAPER - 7

 LIVE 07:00 PM





# MISSION SELECTION –SSC 2024

**Q.1 Question:**

**Which is the lightest box among**

**B1, B2 and B3?**

**statement:**

**1. B has packed food.**

**2. The weight of B is one fourth of the weight of all the other boxes put together.**



**प्रश्न:**

**B1, B2 और B3 में से सबसे हल्का बॉक्स कौन सा है ?**

**कथन:**

**1. B में पैक किया गया खाना है।**

**2. B का भार एक साथ जोड़े गए सभी अन्य बक्सों के भार का चौथाई हिस्सा है।**

**(a) Both statements 1 and 2 are sufficient.**

**(b) Only statement 2 is sufficient.**

**(c) Only statement 1 is sufficient.**

**(d) Both statement 1 and 2 are not sufficient.**



## MISSION SELECTION –SSC 2024

Q.2 Find out the next letter in the below given series on place of question mark. / नीचे दी गयी श्रृंखला में प्रश्न चिन्ह के स्थान पर आने वाला अगला अक्षर ज्ञात कीजिये |

C, D, F, ?, M, R, X



A| J

B| G

C| I

D| H



## MISSION SELECTION –SSC 2024

Q.3 निम्नलिखित प्रश्न में दिए गए विकल्पों में से सम्बंधित संख्या को चुनिए | /In the following question, select the related number from the giving alternatives.

28: 520 :: 17:?



A] 345

B] 347

C] 346

D] 344



## MISSION SELECTION –SSC 2024

**Q.4 In the following question, select the related word from the giving alternatives./ निम्नलिखित प्रश्न में दिए गए विकल्पों में से सम्बंधित शब्द को चुनिए ।**  
**क्रिकेट: caught :: ? : पेनल्टी किक / Cricket : Caught :: ? : Penalty Kick**



**A Football**

**B Tennis**

**C Chess**

**D Basketball**



## MISSION SELECTION –SSC 2024

Q.5 निम्नलिखित प्रश्न में दिए गए विकल्पों में से सम्बंधित अक्षरों को चुनिए | /In the following question, select the related letters from the giving alternatives.

**RMYG: NITB :: ? : PWGM**




**A] DKMT**

**B] DLLT**

**C] DKLU**

**D] DKNT**

# MISSION SELECTION –SSC 2024



**Q.6 Statement:** The African government had decided to declare Ebola as a pandemic disease. People are liable to be punished if they do not report to the authority about Ebola occurring in the family or neighborhood. **Action Implementation:**

1. The government effectively planned to legislate to control Ebola.
2. Mass media should be used to spread the message about punishment. So that people know about the proceedings

- (a) Only 1 follows.
- (b) Only 2 follows.
- (c) neither 1 nor 2 follows
- (d) Both 1 and 2 follow.

1. कथन: अफ्रीकी सरकार ने इबोला को महामारी रोग के रूप में घोषित करने का फैसला किया था। यदि लोग परिवार या पड़ोस में होने वाली इबोला के बारे में प्राधिकरण को रिपोर्ट नहीं करते हैं, तो लोग दंडित करने के लिए उत्तरदायी होते हैं। कार्यवाही कार्यान्वयन:

1. इबोला को नियंत्रित करने के लिए सरकार ने प्रभावशाली रूप से कानून बनाने के लिए योजना बनाई।
2. दंड के बारे में संदेश फैलाने के लिए मास मीडिया का उपयोग किया जाना चाहिए। ताकि लोगों को कार्यवाही के बारे में पता हो।





# MISSION SELECTION –SSC 2024

**Q.7** Which two signs should be interchanged in the the following equation to make it correct? / निम्नलिखित समीकरण को सही बनाने के लिए में किन दो संकेतों का परस्पर बदलना होगा |

$$49 \times 7 + 11 - 3 \div 4 = 20 - 14$$



A ]  $\times$  and -

B]  $\div$  and  $\times$

C]  $\times$  and +

D]  $\div$  and -





## MISSION SELECTION –SSC 2024

Q.8 अब से दो साल, राम और सैम की उम्र अनुपात 5: 7 में होगी। तीन साल पहले उनकी उम्र का अनुपात 5: 8 था। तो वर्तमान युग की आयु का पता लगाएं। /Two years from now, the ages of Ram and Sam will be in the ratio 5 : 7. Three years ago the ratio of their ages was 5 : 8. Find the sum of their present ages.



A] 32

B] 45

C] 36

D] 39



## MISSION SELECTION –SSC 2024

Q.9 If, '+' is coded as 'L', '\*' is coded as 'M', '/' is coded as 'N', '-' is coded as 'O' then what is the value of 26 L 18 N 2 O 6 M 6 / यदि, '+' को 'L' के रूप में, '\*' को 'M' के रूप में, '/' को 'N' के रूप में, '-' को 'O' के रूप में कोडित किया जाता है तो 26 L 18 N 2 O 6 M 6 का मान क्या है |



A] -3

B] 4

C] -1

D] 2



## MISSION SELECTION –SSC 2024

Q . 10 यदि, '+' को '\$' के रूप में, '\*' को '#' के रूप में, '/' को '@' के रूप में, और '-' को '!' के रूप में कोडित किया गया है तो 95 @ 5 \$ 46 ! 3 # 27 का मान क्या होगा |/If, '+' is coded as '\$', '\*' is coded as '#', '/' is coded as '@', '-' is coded as '!' then what is the value of 95 @ 5 \$ 46 ! 3 # 27



A] -18

B] -21

C] -16

D] -14



## MISSION SELECTION –SSC 2024

Q.11 If C is the wife of K and sister of B, and L is the son of K, then how is L related to B?/ यदि यदि C, K की पत्नी है और B की बहन है,, और और L, K का पुत्र है, तो L, B से कैसे संबंधित है?



- A] Niece / भਾਂजी      B] Cousin / चचेरा भाई  
C] Nephew / भतीजा      D] Son/बेटा



## MISSION SELECTION –SSC 2024

Q.12 टाउन B, टाउन A के पश्चिम में है। टाउन D, टाउन C के उत्तर में है। टाउन B टाउन M के दक्षिण में है, जो टाउन C के पूर्व में है। तब टाउन A, टाउन D के संबंध में किस दिशा में है? / Town B is west of Town A. Town D is north of Town C. Town B is south of Town M which is east of Town C. Then Town A is in which direction with respect to Town D?



A] North West

B] North East

C] South East

D] South West



# MISSION SELECTION –SSC 2024

Q.13 सर्वोच्च न्यायालय ने निर्णय लिया है कि सभी बलात्कारियों को फांसी पर लटका दिया जाए।

मान्यता :

1. महिलाओं को सुरक्षा मिलेगी।
2. बलात्कार के मामलों को कम किया जा सकता है।



The Supreme Court has decided that all rapists should be hanged.

Recognition :

1. Women will get security.
2. Rape cases can be reduced.

- (a) neither 1 nor 2 is clear
- (b) Only assumption 2 is clear
- (c) recognition only. is clear
- (d) Both 1 and 2 are clear



# MISSION SELECTION –SSC 2024

**Q.14** Arrange the words as they would appear in a dictionary / शब्दों को शब्दकोश में आने वाले क्रम के अनुसार व्यवस्थित करें।

1. syndicate
2. synonymous
3. synchronize
4. symptom



A] 4,3,1,2

B] 2,1,4,3

C] 1,3,4,2

D] 1,2,3,4



## MISSION SELECTION –SSC 2024

Q.15 एक विशिष्ट कोड भाषा में "Facebook Free Wifi" को "rct jmt kjk" लिखा जाता है, "Available Wifi Public" को "rct bel vct" लिखा जाता है और "Public Use Free" को "jmt bel nyc" लिखा जाता है | "Available" के लिए कोड क्या है? / In a certain code language "Facebook Free Wifi" is coded as "rct jmt kjk" , "Available Wifi Public" is coded as "rct bel vct" and "Public Uses Free" is coded as "jmt bel nyc". What is the code for "Available"?



A] rct

B] vct

C] bel

D] None of these.





# MISSION SELECTION –SSC 2024

Q.16 Find the missing value in the figure represented as '?' / दिए गए आरेख में लुप्त संख्या ज्ञात कीजिये ।

13	4	153
17	?	225
21	3	432



- A] 7      B] 8  
C] 5      D] 6



# MISSION SELECTION –SSC 2024

Q.17 यदि 3 & 5 # 2=17, 4 & 6 # 2=26, तब 5 & 6 # 4=?

/If 3 & 5 # 2=17, 4 & 6 # 2=26, then 5 & 6 # 4=?



A] 24

B] 29

C] 34

D] 36



## MISSION SELECTION –SSC 2024

Q.18 निम्नलिखित को एक सार्थक क्रम में व्यवस्थित करें।/Arrange the following in a meaningful order.

1. शिकार / Hunting
2. आदमी / Man
3. आग / Fire
4. भोजन / Food
5. काम / Work



A] 21,345

B] 23,514

C] 21,354

D] 23,541



# MISSION SELECTION –SSC 2024

Q.19 Find the missing number in the series./

श्रृंखला में लुप्त संख्या ज्ञात कीजिए |

57, 74, ?, 108, 125



A] 89

B] 90

C] 91

D] 92



# MISSION SELECTION –SSC 2024

**Q.20 प्रश्न :**

**A, B, C और D के बीच सबसे कम उम्र का कौन है?**

**कथन:**

- 1. A, D और B से बड़ा है।**
- 2. C, A से बड़ा है।**



**Question :**

**Who is the youngest among A, B, C and D?**

**statement:**

- 1. A is older than D and B.**
- 2. C is older than A.**

- (a) Both the statements are not sufficient**
- (b) Only statement 2 is sufficient**
- (c) Both the statements taken together are sufficient.**
- (d) Only statement 1 is sufficient**



# MISSION SELECTION –SSC 2024

Q.21 विषम चुनें / Pick the odd one out



- A] दरवाजा/ door    B] मेज / table  
C] द्वार / gate    D] खिड़की / window



## MISSION SELECTION –SSC 2024

Q.22 Which of the following is odd one out? / उस विकल्प का चयन करें जो अन्य तीन विकल्पों से अलग है।



- A| P      B| S  
C| O      D| Y



## MISSION SELECTION –SSC 2024

**Q.23** In the question only one Conclusion is given and 4 statements are given .From this you have to take the statements as true even if it seems to be at variance from commonly known facts and then decide which of the following Statement logically follow

**निष्कर्ष: कुछ हाथ टोपी हैं, सभी टोपी चूहे हैं / Conclusions : Some Hats are Hands , All Hats are Rats**

**A] कथन: कुछ टोपी हाथ है, कोई टोपी चूहा नहीं है / Statement: Some Hats are Hands , No Hat is Rat**

**B] कथन: कोई टोपी नहीं है, कोई चूहा हाथ नहीं है / Statement: No Hat is Rat , No Rat is Hand**

**C] कथन: कुछ टोपी हाथ हैं, कुछ हाथ चूहे हैं / Statement: Some Hats are Hands , Some Hands are Rats**

**D] कथन: सभी टोपी हाथ हैं, सभी हाथ चूहे हैं / Statement: All Hats are Hands , All Hands are Rats**

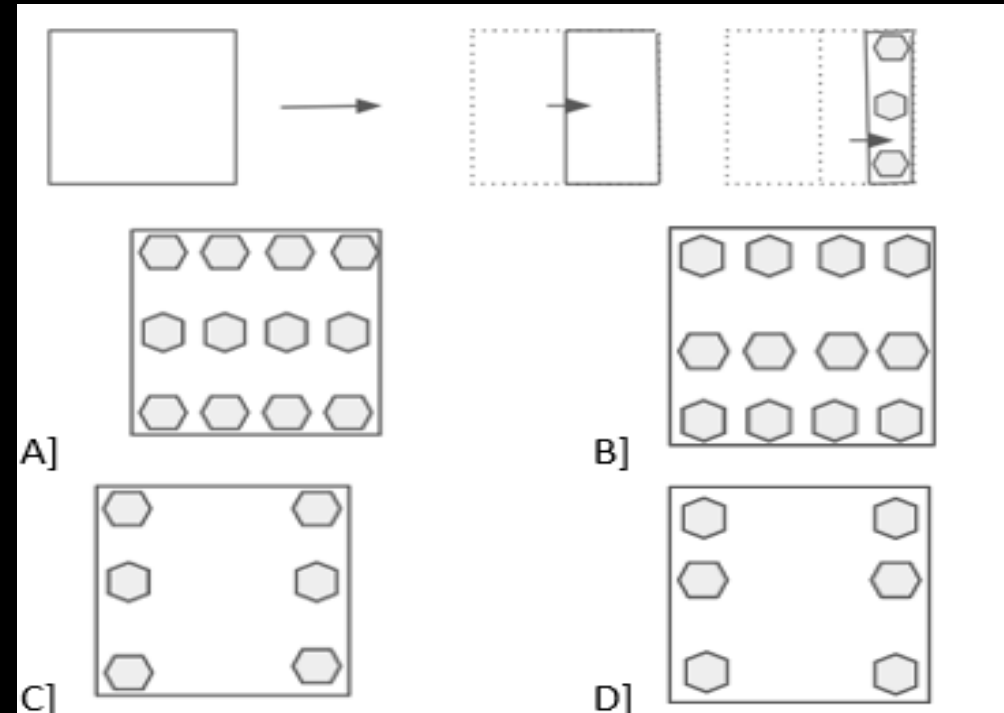






# MISSION SELECTION –SSC 2024

Q.24 A piece of paper is folded and punched as shown below in the question figures. From the given answer figures, indicated how it appears when opened. / निचे दी गयी प्रश्न आकृतियों में दिखाए अनुसार कागज को मोड़कर छेदने तथा खोलने के बाद वह किस उत्तर आकृति जैसा दिखाई देगा





# MISSION SELECTION –SSC 2024

Q.25 कथन

उत्तर कर्नाटक में निर्माण उद्योगों को पानी की अत्यधिक कमी का सामना करना पड़ रहा है। कार्यवाही

1. पानी के संकट को हल करने के लिए सरकार को कदम उठाने चाहिए।
- II. पानी बचाने के लिए निर्माण उद्योगों को बंद कर देना चाहिए।

Narration

Supply of water to construction industries in North Karnataka facing acute shortage.

Proceeding

- I. Government should take steps to solve the water crisis.
- II. Manufacturing industries should be stopped to

(a) Neither 1 nor 2 follows.

(b) Either 1 or 2 follows.

(c) Only 2 follows.

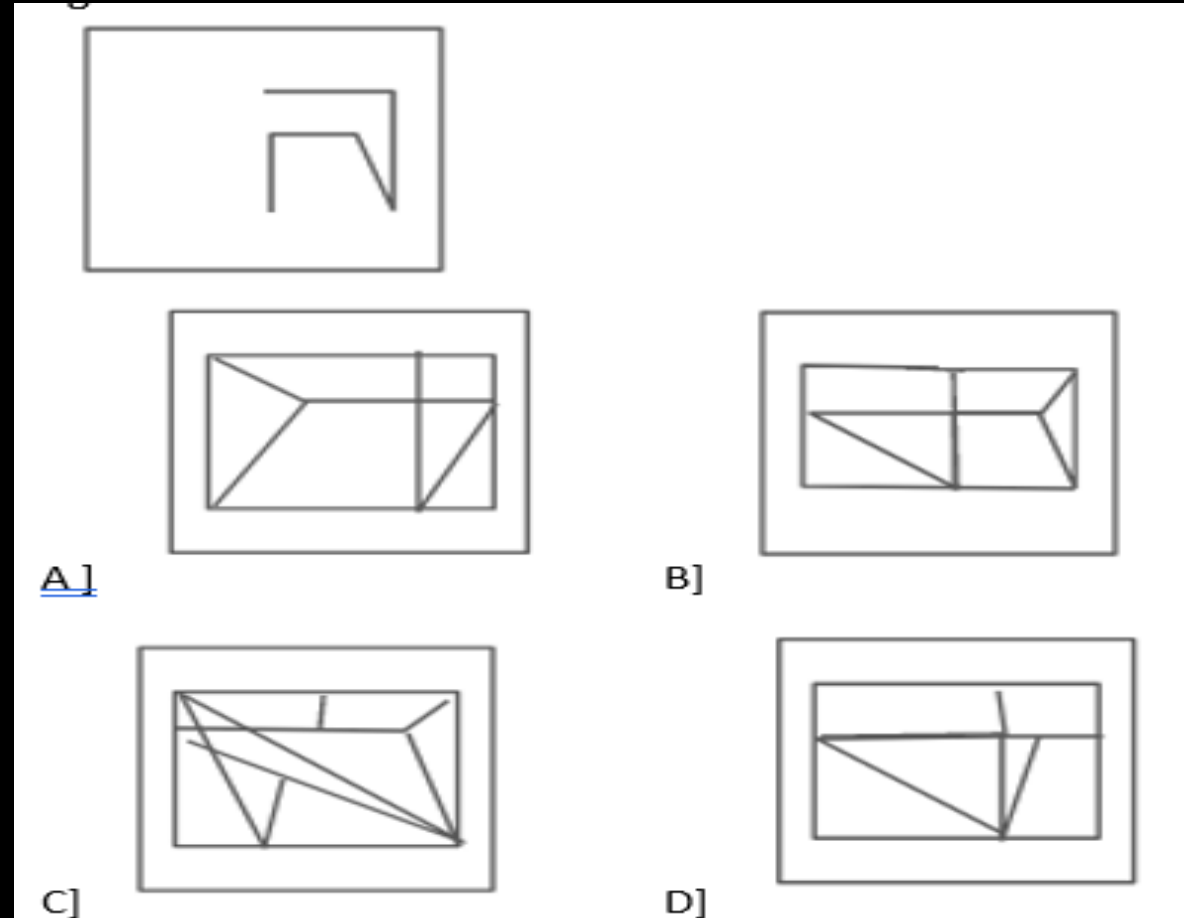
(d) Only 1 follows.





# MISSION SELECTION –SSC 2024

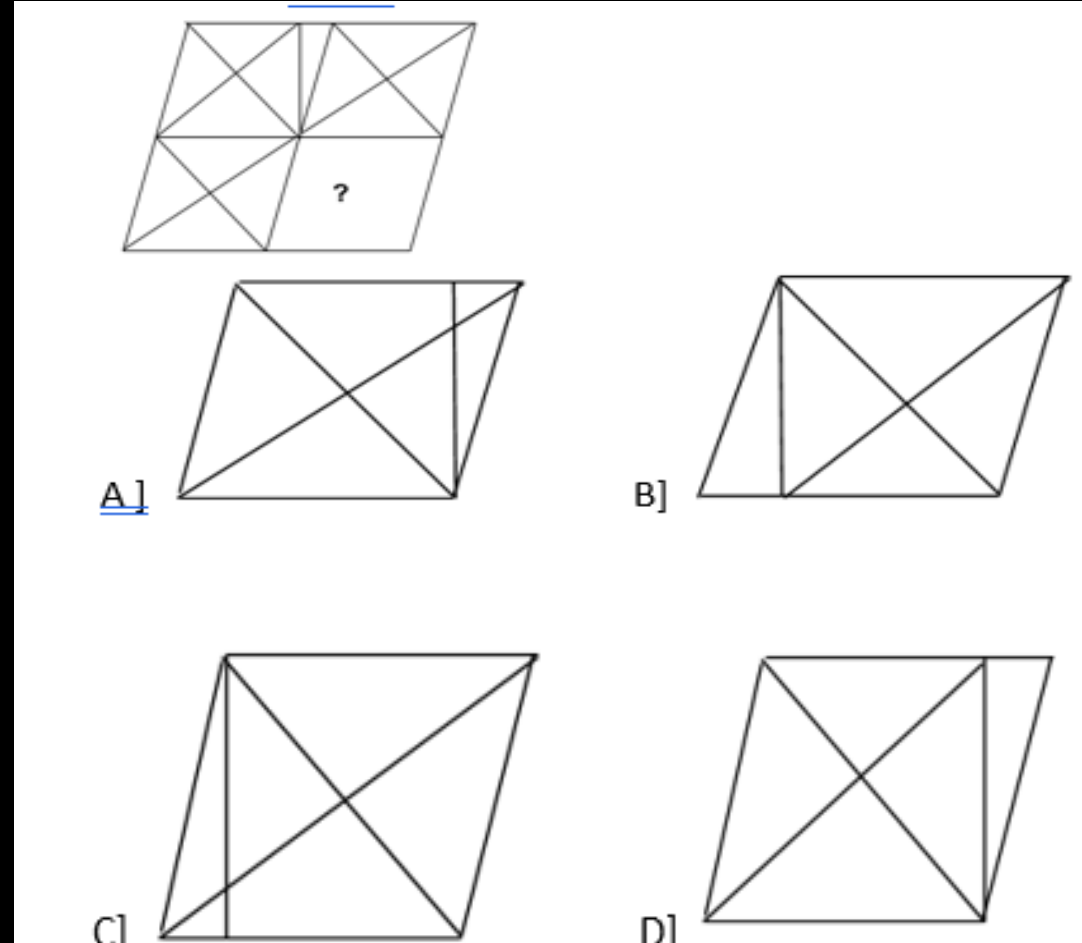
Q.26 वह विकल्प चुनें जिसमे दी गई आकृति निहित है | / Choose the alternative which is closely resemble the embedded of the given figure





# MISSION SELECTION –SSC 2024

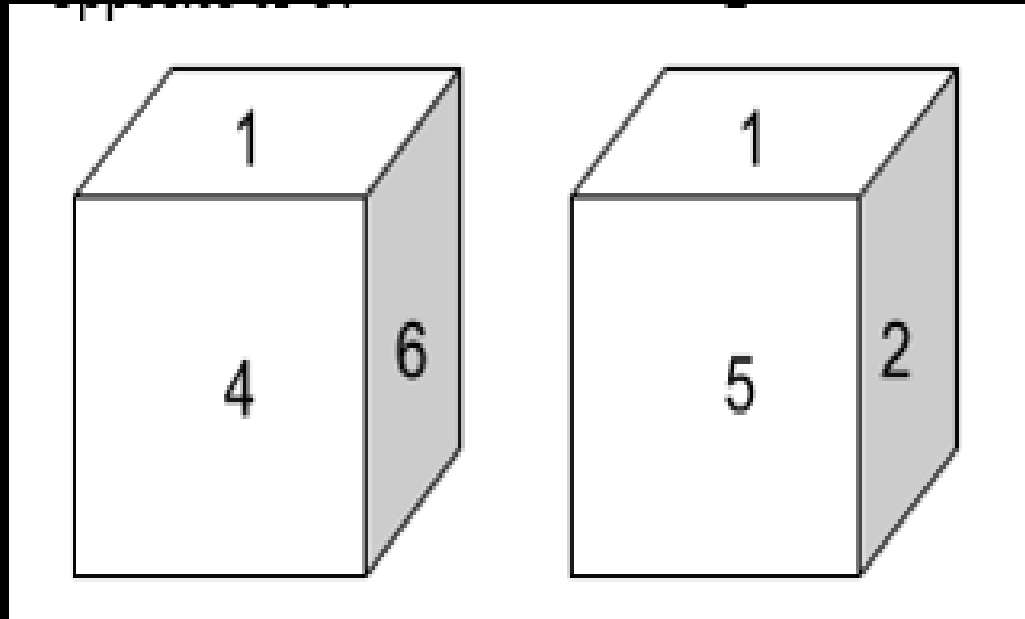
Q.27 Which figure will come in place of question mark (?) in the below-given figure. / नीचे दी गई आकृति में प्रश्न चिह्न (?) के स्थान पर कौन सी आकृति आएगी ?





# MISSION SELECTION –SSC 2024

Q.28 एक ही पासे की दो अलग-अलग स्थिति दर्शायी गई हैं। निम्नलिखित में से कौन सी संख्या 6 के विपरीत होगी ?/ Two different positions of the same cube are given below. Which of the following number will be opposite to 6?



A] 2

B] 5

C] 3

D] Either 2 or 5



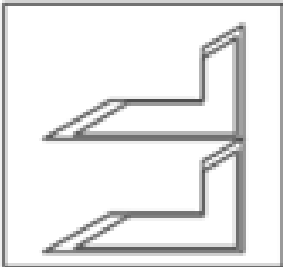
# MISSION SELECTION –SSC 2024




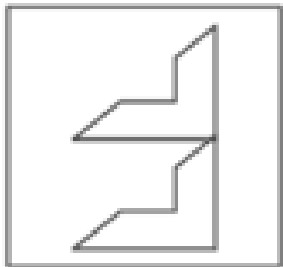
Q.29 Please select the related shape from the given options / कृपया दिए गए विकल्पों में से संबंधित आकृति का चयन करें

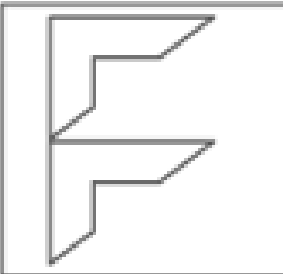
Q.29 Please select the related shape from the given options / कृपया दिए गए विकल्पों में से संबंधित आकृति का चयन करें

◀ : ▶ :: F : ?

A] 

B] 

C] 

D] 



## MISSION SELECTION –SSC 2024

Q.30 एक चुनाव के दौरान, विपक्षी दल ने कहा, "पिछले पांच वर्षों में कीमतों में वृद्धि को देखें"।

मान्यता :

1. इस बार हमारे दल को सत्ता में मौका दें।
2. यदि आप सत्ता के लिए इसी दल को दुबारा चुनेंगे तो कीमतें बढ़ती रहेंगी।

- (a) Both 1 and 2 are implicit.  
(b) Only Assumption 2 is implicit.  
(c) Both 1 and 2 are not implicit.  
(d) Only Assumption 1 is implicit.

During an election, the opposition party said, "Look at the rise in prices in the last five years".

Recognition :

1. This time give chance to our party in power.
2. If you re-elect the same party to power, the prices will keep rising.





# MISSION SSC 2024



# PREVIOUS YEAR PAPERS

## REASONING

## PAPER - 8

 LIVE 07:00 PM







**MISSION SELECTION –SSC 2024**

**THANK YOU**