



MISSION SSC 2024



PREVIOUS YEAR PAPERS

REASONING

PAPER - 6

 LIVE 07:00 PM





MISSION SELECTION –SSC 2024

Q.1 कथन:

IMD रिपोर्ट के अनुसार "बंगाल की खाड़ी में कम दबाव के कारण तमिलनाडु में भारी बारिश हो सकती है।" कार्यवाही:

1. समय पर चेतावनी देने के लिए IMD की प्रशंसा की जानी चाहिए।
2. सरकार को मीडिया द्वारा यह चेतावनी दे देनी चाहिए कि मछुवारे इस दौरान मछली पकड़ने के लिए समुद्र में न जायें।

As per IMD report "Low pressure in Bay of Bengal may cause heavy rains in Tamil Nadu." Action:

1. IMD should be commended for giving timely warnings.

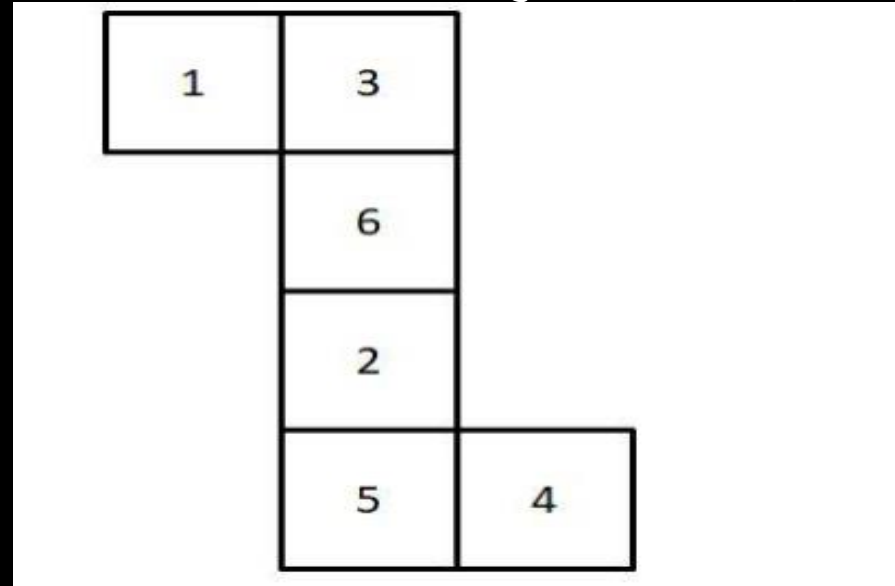
2. The government should warn through the media that fishermen should not venture into the sea for fishing during this period.

- (a) Both 1 and 2 follow.
- (b) neither 1 Nor does 2 follow.
- (c) Only 2 follows.
- (d) Only 1 follows



MISSION SELECTION –SSC 2024

Q.2 Which of the following will be opposite to number 4 when the following cube is folded? / निम्नलिखित में से कौन सी संख्या 4 के विपरीत होगी जब दिया हुआ पासा मुड़ा हुआ हो?



A] 1

B] 2

C] 3

D] 5



MISSION SELECTION –SSC 2024

Q.3 मेरे भाई के ससुर की बेटी मुझसे कैसे संबंध है ? / How is my brother's father-in-law's daughter related to me?



A] Sister

B] Sister-in-law

C] Niece

D] Daughter-in-law



MISSION SELECTION –SSC 2024

Q.4 In the following question, select the related letter from the giving alternatives.

निम्नलिखित प्रश्न में दिए गए विकल्पों में से सम्बंधित अक्षर को चुनिए ।

K : R :: ? : N



A| P B| M

C| L D| O



MISSION SELECTION –SSC 2024

Q.5 15 जून 2007 को रविवार था। 14 जुलाई 2009 को सप्ताह का दिन कोनसा होगा ? / It was Sunday on 15 June 2007. What is the day of the week on 14 July 2009?



A] Tuesday

B] Friday

C] Monday

D] Thursday



MISSION SELECTION –SSC 2024

Q.6 What will come in place of question mark in the below given series? / नीचे दी गई श्रृंखला में प्रश्न चिह्न के स्थान पर क्या आएगा?

17, 25, 89, 305, (?), 1817



- A] 795 B] 789
C] 817 D] 812



MISSION SELECTION –SSC 2024

Q.7 यदि $84 \$ 12 \& 3 = 21$, $72 \$ 8 \& 3 = 27$ तो $48 \$ 3 \& 2 = ?$

/If $84 \$ 12 \& 3 = 21$, $72 \$ 8 \& 3 = 27$ then $48 \$ 3 \& 2 = ?$



A] 64

B] 32

C] 16

D] 96



MISSION SELECTION –SSC 2024

Q.8 In a certain code language “JET” is coded as 245 and “CRY” is coded as 322. Then what is the code for “BID”? / एक विशिष्ट कोड भाषा में "JET" को 245 लिखा गया है और "CRY" को 322 लिखा गया है। फिर "BID" के लिए कोड क्या है?



A] 105

B] 120

C] 135

D] 90



MISSION SELECTION –SSC 2024

Q.9 एक चुनाव के दौरान, विपक्षी दल ने कहा, "पिछले पांच वर्षों में कीमतों में वृद्धि को देखें"।

मान्यता :

1. इस बार हमारे दल को सत्ता में मौका दें।
2. यदि आप सत्ता के लिए इसी दल को दुबारा चुनेंगे तो कीमतें बढ़ती रहेंगी।

- (a) Both 1 and 2 are implicit.
- (b) Only Assumption 2 is implicit.
- (c) Both 1 and 2 are not implicit.
- (d) Only Assumption 1 is implicit.

During an election, the opposition party said, "Look at the rise in prices in the last five years".

Recognition :

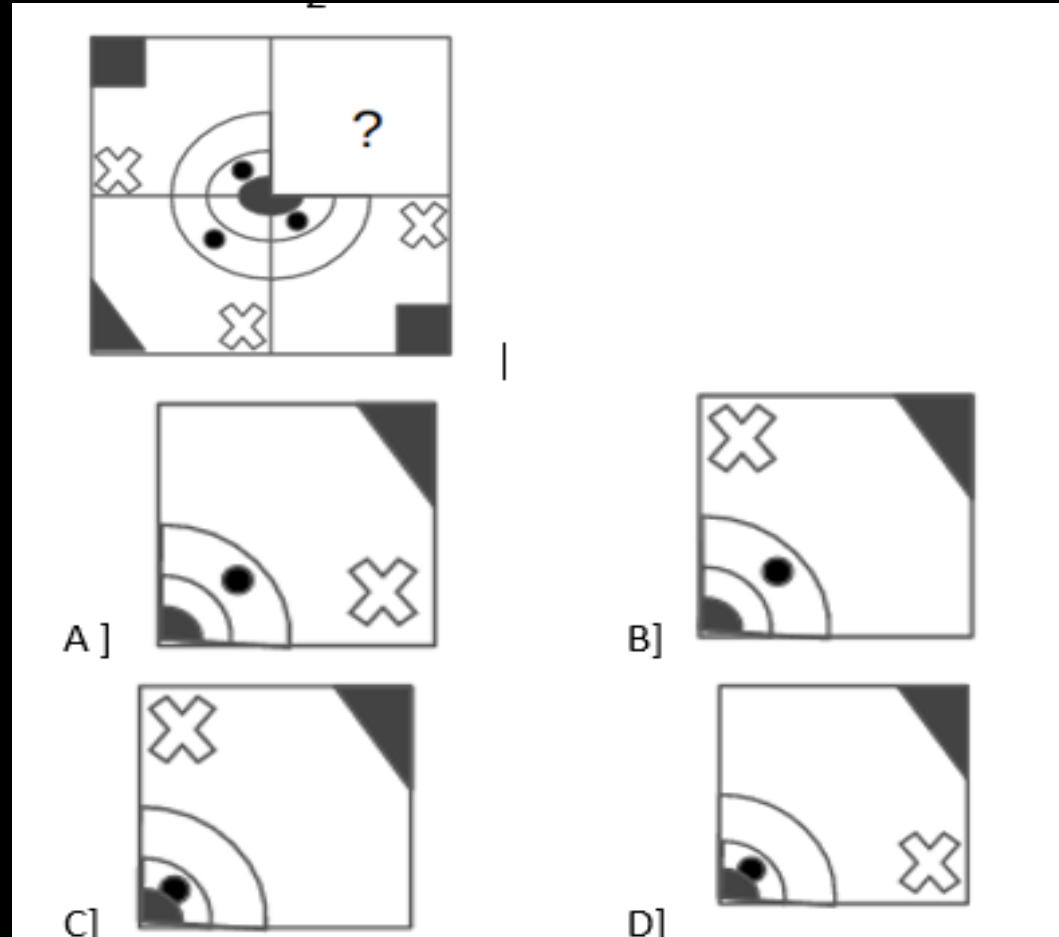
1. This time give chance to our party in power.
2. If you re-elect the same party to power, the prices will keep rising.





MISSION SELECTION –SSC 2024

Q.10 इस आकृति का लुप्त भाग खोजें। /Find the missing part of this figure.





MISSION SELECTION –SSC 2024

Q.11 Find the odd pair among the given options: /दिए गए विकल्पों में विषम जोड़ी खोजें:

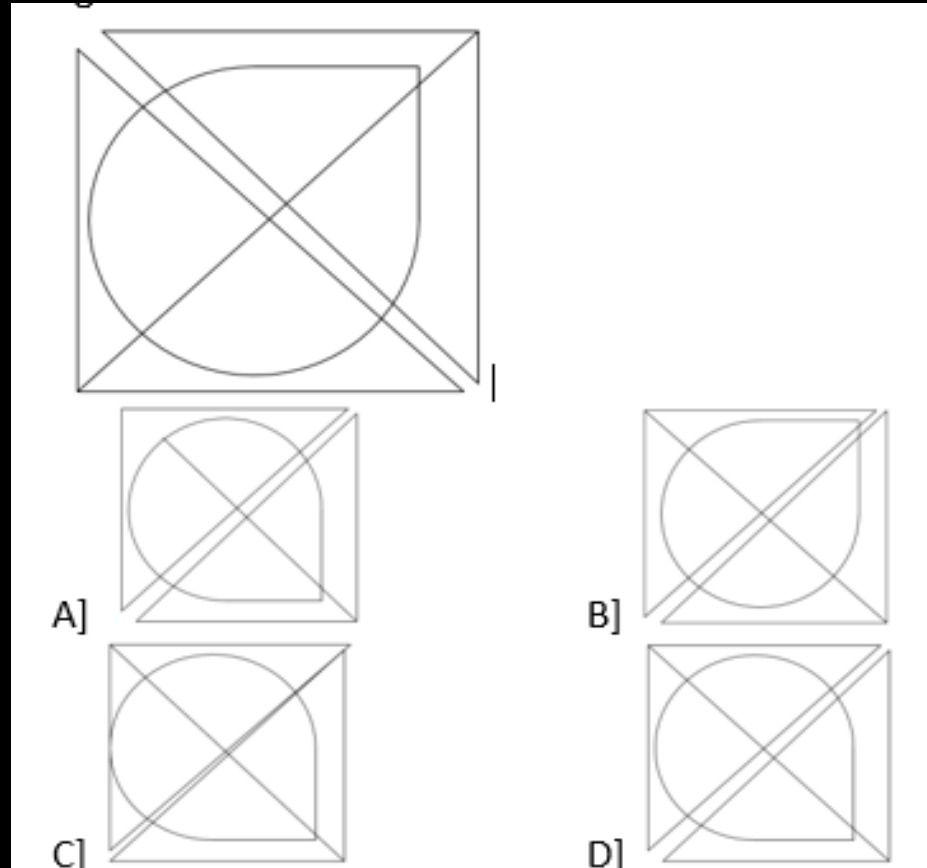


- A] Dolphin: school / डॉल्फिन: स्कूल
- B] Peacocks: murder / मोर: मर्डर
- C] Lion: pride / शेर प्राइड
- D] Wolf: pack / भेड़िये पैक



MISSION SELECTION –SSC 2024

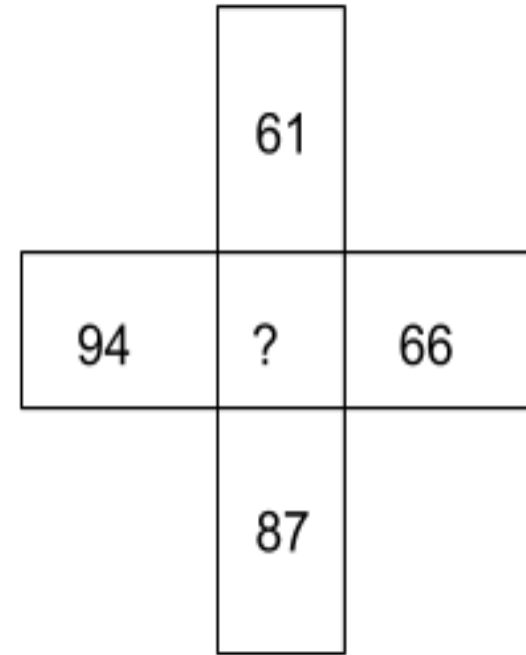
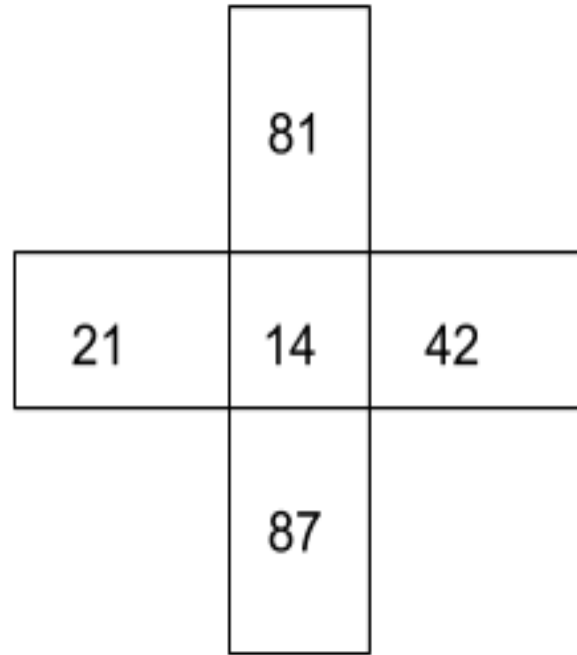
Q.12 नीचे दी गई आकृति का जलीय प्रतिबिम्ब निम्न में से कौनसा है ? /Which of the following is the water image of the below-given figure?





MISSION SELECTION –SSC 2024

Q.13 Find the missing value in the figure represented as ‘?’ /
दी गयी आकृति में प्रश्न चिह्न के स्थान पर क्या आएगा?



- A] 0 B] 84
C] 5 D] 62



MISSION SELECTION –SSC 2024

Q.14 वक्तव्य: दिल्ली में प्रदूषण और वायु की गुणवत्ता स्वीकार्य स्तर से परे है। यह उद्योगों और वाहनों द्वारा हुए प्रदूषण के कारण है। कार्यवाहियां

1. वाहनों को क्रमशः विषम और सम दिनों में चलाने के लिए समूहों में विभाजित किया जाना चाहिए।
2. सरकार को नए कारखानों और वाहनों के पंजीकरण को रोकना चाहिए।

(a) Only 1 follows.(b) Only 2 follows.

(c) Both 1 and 2 follow.(d) Neither 1 nor 2 follows

Statement: The pollution and air quality in Delhi is beyond acceptable levels. This is due to pollution caused by industries and vehicles.

proceedings

1. Vehicles should be divided into groups to run on odd and even days respectively.
2. The government should stop the registration of new factories and vehicles.





MISSION SELECTION –SSC 2024

Q.15 M, N का पिता है। N, O का भाई है। O, P की माँ है। M, P से कैसे संबंधित है? / M is father of N. N is brother of O. O is mother of P. How is M related to P?



- A] Grandfather B] Grandson
C] Nephew D] Niece



MISSION SELECTION –SSC 2024

Q.16 Select the set in which the numbers are related in the same way as are the numbers of the following set. / उस युग्म का चयन करें जिसमें संख्या उसी तरह से संबंधित हैं जैसे निम्नलिखित युग्म की संख्या हैं।

(961 , 27 , 16)



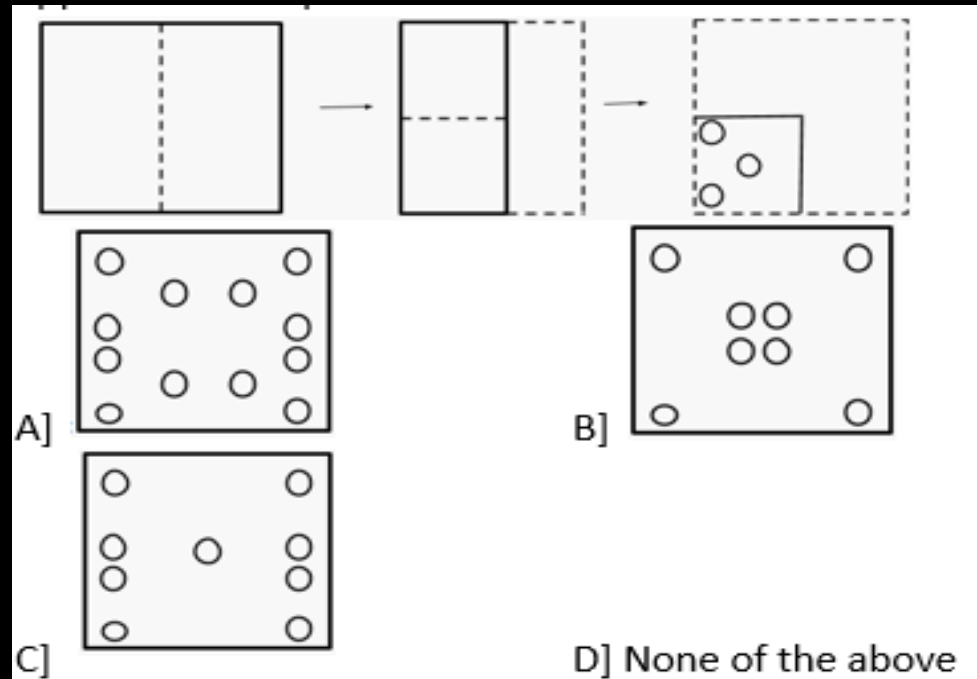
A] (441, 19, 4) B] (289, 13, 9)

C] (676, 22, 25) D] None of the above



MISSION SELECTION –SSC 2024

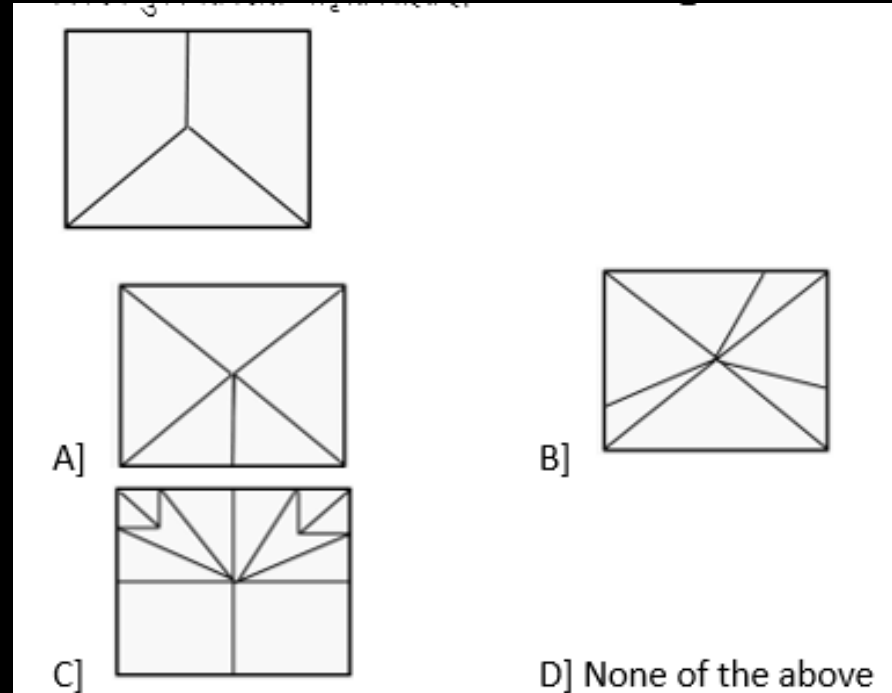
Q.17 निचे दी गयी प्रश्न आकृतियों में दिखाए अनुसार कागज को मोड़कर छेदने तथा खोलने के बाद वह किस उत्तर आकृति जैसा दिखाई देगा | / A piece of paper is folded and punched as shown below in the question figures. From the given answer figures, indicated how it appears when opened.





MISSION SELECTION –SSC 2024

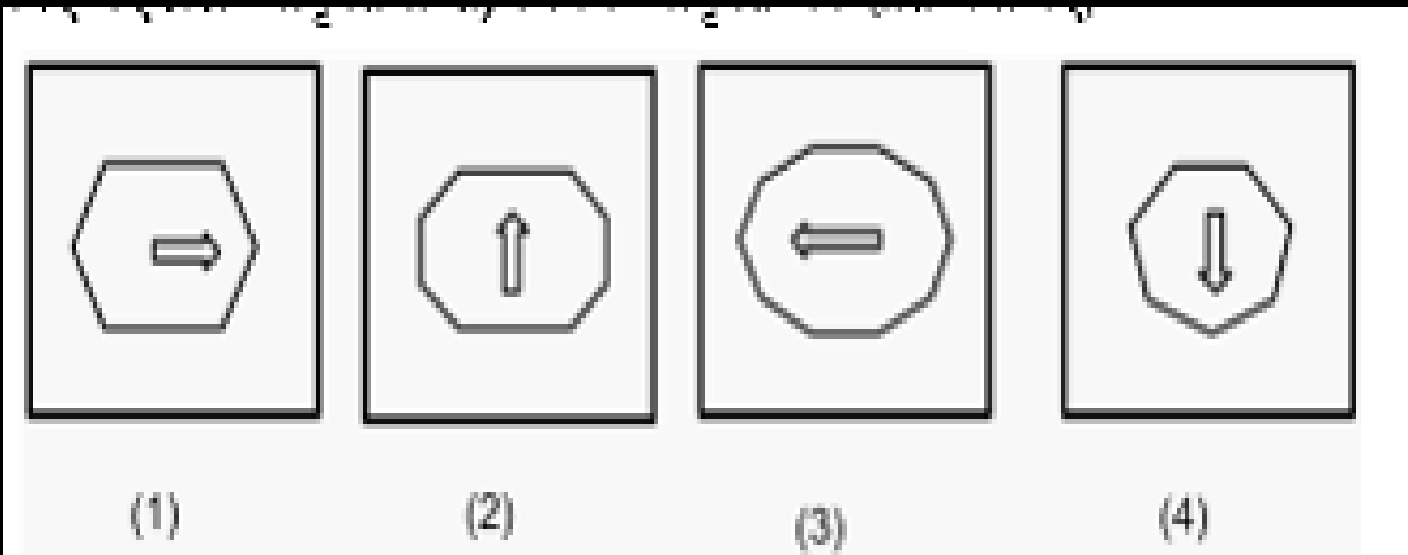
Q.18 From the given answer figure, select the one in which the question figure is embedded. / दिए गए उत्तर आकृति से, वह विकल्प चुनें जिसमें प्रश्न आकृति निहित है।





MISSION SELECTION –SSC 2024

Q.19 From the given question figures, find the odd one out.
दिए गए प्रश्न आकृतियों से, विषम आकृति को ज्ञात कीजिए।



A] (1)

B] (2)

C] (3)

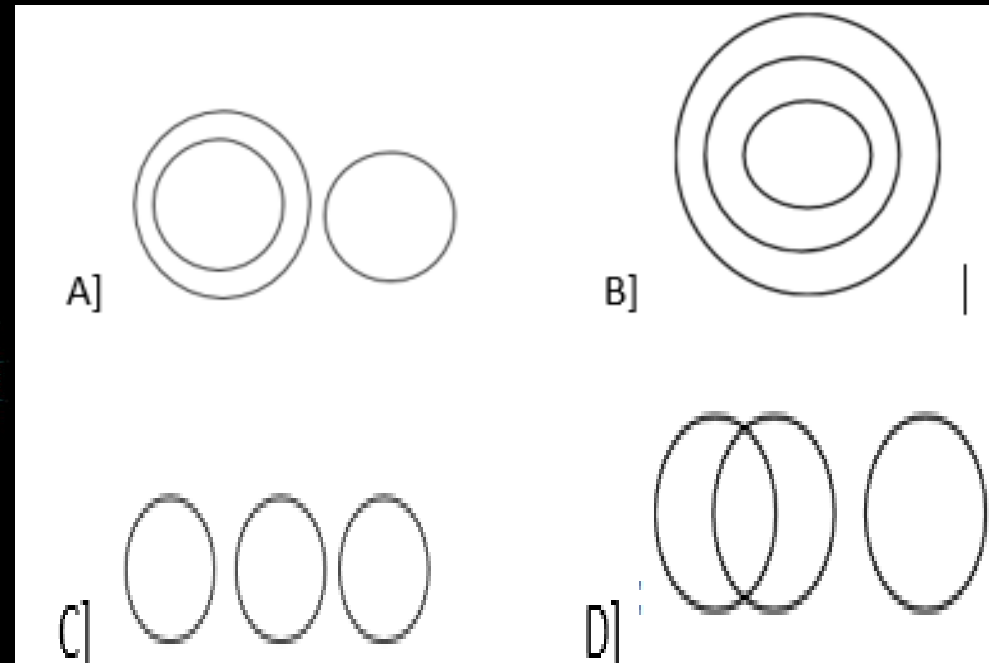
D] (4)



MISSION SELECTION –SSC 2024

Q.20 वह आरेख चुनिए जो नीचे दए गए वर्ग के बीच के संबंध का सह निरूपण करता है । / Select the venn diagram which represents the best relationship between the below-given classes.

Radius, Circle, Volume/ त्रिज्या, वृत्त, आयतन





MISSION SELECTION –SSC 2024

Q.21 सभी शिक्षकों को सुबह 9.00 बजे तक कॉलेज पहुंचने का निर्देश दिया जाता है।

मान्यताएँ:

1. कुछ शिक्षक समय पर नहीं आते हैं।
2. शिक्षक सूचना पत्र में दिए गये सभी निर्देशों का पालन करेंगे।

All the teachers are instructed to reach the college by 9.00 am.

Assumptions:

1. Some teachers do not come on time.
2. Teachers will follow all the instructions given in the information sheet.

- (a) Both 1 and 2 are implicit.
- (b) Only Assumption 1 is implicit.
- (c) Only Assumption 2 is implicit.
- (d) Both 1 and 2 are not implicit.

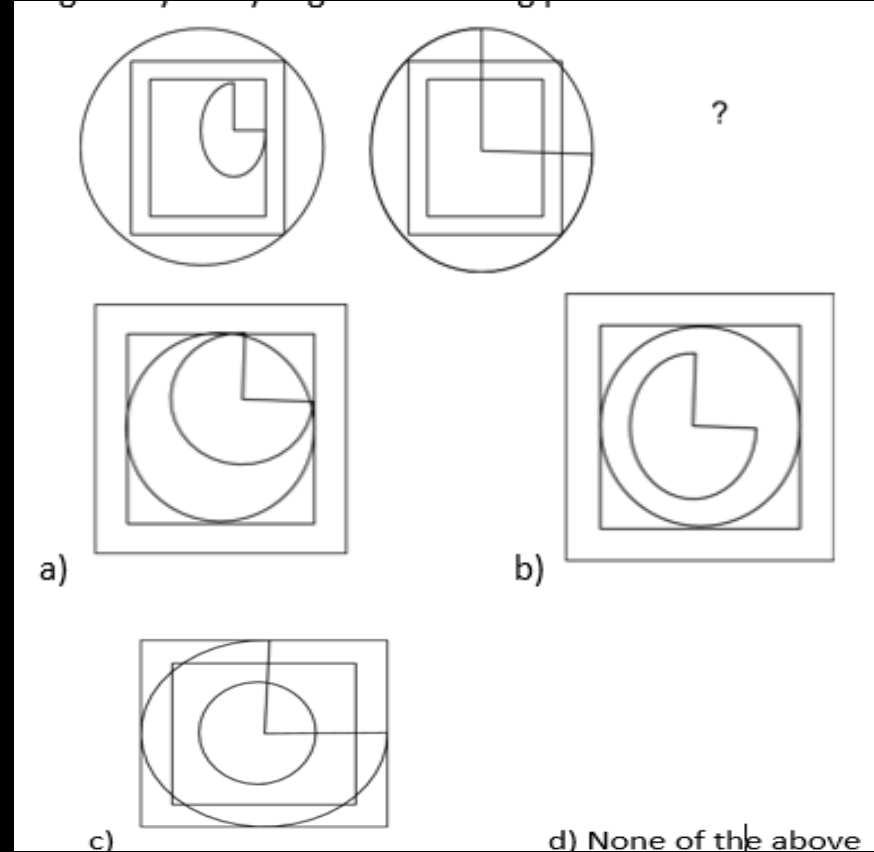




MISSION SELECTION –SSC 2024

Q.22 निम्नलिखित पैटर्न का विश्लेषण करके अगली आकृति ज्ञात करे ।

/ Find the next figure by analyzing the following pattern





MISSION SELECTION –SSC 2024

Q.23 In the following question, select the related letter from the giving alternatives. / निम्नलिखित प्रश्न में दिए गए विकल्पों में से सम्बंधित अक्षर को चुनिए ।

853 : 120 :: 682 : ?



A] 102

B] 88

C] 96

D] 84



MISSION SELECTION –SSC 2024

Q.25 प्रश्न में, चार जोड़े शब्द दिए गए हैं, जिनमें से तीन जोड़े के शब्दों में एक विशिष्ट उभयनिष्ठ रिश्ता है उस जोड़े का चुनाव करें जिसमें शब्द भिन्न रूप से संबंधित हैं। /

In the question, four pairs of words are given, out of which the words in three pairs bear a specific common relationship. Choose the pairs in which the words are differently related



A] ऊष्मा - पास्कल / Heat - Pascal

B] तापमान - केल्विन / Temperature - Kelvin

C] आवेश - कूलाम्ब / Charge - Coulomb

D] बल- न्यूटन / Force - Newton



MISSION SELECTION –SSC 2024

Q.26 M, A, N and K are standing in a row. Based on the following information, if we arrange from shortest to tallest, who is standing at the end?

M, A, N और K एक पंक्ति में खड़े हैं। निम्नलिखित जानकारी के आधार पर, यदि हम सबसे छोटे से सबसे लंबे में व्यवस्थित करते हैं, तो कौन सबसे अंत में खड़ा है?

statement:

1. A is younger than K
2. M is younger than A

- (a) Both the statements 1 and 2 are not sufficient.
- (b) Both statement 1 and 2 are sufficient
- (c) Statement 1 alone is sufficient.
- (d) Statement 2 alone is sufficient.





MISSION SELECTION –SSC 2024

Q.27 यदि '+' का अर्थ है घटाव, '-' का अर्थ है गुणा, '*' का अर्थ है विभाजन और '/' का अर्थ है जोड़ना तो निम्नलिखित अभिव्यक्ति का मान क्या होगा: /

If '+' means subtraction, '-' means multiplication, '*' means division and '/' means addition, what will be the value of the following expression:

$$25 * 5 - 3/12 + 13-2$$



A] 0 B] 1

C] 26 D] 27



MISSION SELECTION –SSC 2024

Q.28 Select the word which is related to the third word in the same as the second word is related to the first word. / उस शब्द का चयन करें जो तीसरे शब्द से संबंधित है उसी तरह दूसरा शब्द पहले शब्द से संबंधित है।
विटामिन सी: स्कर्वी :: विटामिन बी: ? / Vitamin C : Scurvy :: Vitamin B : ?



- A] Abetalipoproteinemia
- B] Liver disorders / यकृत के विकार
- C] Rickets / सूखा रोग
- D] Beriberi / बेरीबेरी



MISSION SELECTION –SSC 2024

Q.29 शब्दों को शब्दकोश में आने वाले क्रम के अनुसार व्यवस्थित करें । /

Arrange the words as they would appear in a dictionary

1. substitute
2. subversive
3. subway
4. subsistence



A] 4,1,2,3

B] 1,3,4,2

C] 3,4,2,1

D] 2,4,1,3



MISSION SELECTION –SSC 2024

Q.30 Question : Which of the rods T1, T2 and T3 is the longest?

statement :

- 1. T2 is longer than T1 and T3.**
- 2. T2 is an iron rod.**

T1, T2 और T3 में से कौन सी रॉड सबसे लंबी है?

कथन :

- 1. T2, T1 और T3 से लंबा है।**
- 2. T2 एक लोहे का रॉड है।**

(a) Only statement 1 is sufficient

(b) Both statement 1 and 2 are not sufficient

(c) Both statement 1 and 2 are sufficient

(d) Only statement 2 is sufficient





MISSION SELECTION –SSC 2024

THANK YOU