



# SSC CHSL 2023



## EXAM DAY

## मैराथन

### 4 घंटे लगातार

**ALL  
SUBJECTS**



पूरे दिन का **संपूर्ण विश्लेषण** एवं आधारित प्रश्नों की चर्चा

**2 अगस्त से 21 अगस्त रोज़ शाम 6 बजे से 10 बजे तक**



## SSC CHSL 2023 (EXAM DAY)

Q1. Select the option that is related to the third number in the same way as the second number is related to the first number.

उस विकल्प का चयन करें जो तीसरी संख्या से उसी प्रकार संबंधित है जैसे दूसरी संख्या पहली संख्या से संबंधित है।

54 : 41 :: 32 :

(A)29

(B)13

(C)17


(D)11



# SSC CHSL 2023 (EXAM DAY)

Q2. Select the correct mirror image of the given figure when the mirror is placed to the right of the figure.

दी गई आकृति की सही दर्पण छवि का चयन करें जब दर्पण को आकृति के दाईं ओर रखा जाए।



- (a)
- (b)
- (c)
- (d)

- (A) A
- (B) B
- (C) C



## SSC CHSL 2023 (EXAM DAY)

Q.3 Which two signs should be interchanged in the following equation to make it correct?

निम्नलिखित समीकरण को सही बनाने के लिए इसमें किन दो चिन्हों को आपस में बदला जाना चाहिए?

$$24 \div 2 + 13 - 54 \times 2 = 34$$

(A) + and  
×

(B) - and  
×

(C) ×



# SSC CHSL 2023 (EXAM DAY)

Q.4 Arrange the following words in a logical and meaningful order.

निम्नलिखित शब्दों को तार्किक और सार्थक क्रम में व्यवस्थित करें।

1. Promotion
2. Application
3. Job appointment
4. Written test
5. Merit list

(A) 2, 5, 4,

3, 1

(B) 3, 2, 4,

1, 5

(C) 4, 2, 5,

3, 1



# SSC CHSL 2023 (EXAM DAY)

Q.5 How many triangles are present in the following figure ?



- (A) 14
- (B) 13
- (C) 10
- (D) 12



# SSC CHSL 2023 (EXAM DAY)

Q.6 Statements: Some essays are poems./ कुछ  
निबंध कविताएँ हैं।

Some poems are directors./ कुछ  
कविताएँ निर्देशक हैं.

All directors are singers. / सभी  
निर्देशक गायक हैं।

Conclusions: I. Some directors are poems./ कुछ  
निर्देशक कविताएँ हैं।

II. Some singers are essays./ कुछ  
गायक निबंध हैं.

III. Some singers are poems./ कुछ  
गायक कविताएँ हैं।

(A) Only conclusions I and III

(B) Only conclusions II and

(C) Only conclusions I and II



## SSC CHSL 2023 (EXAM DAY)

Q.7 Rahul has ₹340 in the denominations of ₹2 notes, ₹5 notes and ₹10 notes. The number of notes of each denomination is equal. What is the total number of notes that Rahul has?

राहुल के पास ₹2 के नोट, ₹5 के नोट और ₹10 के मूल्यवर्ग में ₹340 हैं। प्रत्येक मूल्यवर्ग के नोटों की संख्या बराबर है। राहुल के पास कुल कितने नोट हैं?

(A)40

(B)60

(C)20

(D)80





# SSC CHSL 2023 (EXAM DAY)

Q.8 Which number will replace the question mark (?) in the following series?

निम्नलिखित श्रृंखला में कौन सी संख्या प्रश्न चिह्न (?) का स्थान लेगी?

5, 9, 18, 43, 92, 213, 382, ?

(A)32

8

(B)61

7

(C)38

2



## SSC CHSL 2023 (EXAM DAY)

Q.9 Three of the following four letter-clusters are alike in a certain way and one is different. Pick the odd one out .

निम्नलिखित चार अक्षर-समूहों में से तीन एक निश्चित तरीके से समान हैं और एक भिन्न है।

(A)GSV

E

(B)LOP

K

(C)CXG

T



## SSC CHSL 2023 (EXAM DAY)

Q.10 In a code language, PERMUTATION is written as IBKFRMXMFLG. How will PUBLICSECTOR be written as in that language?

एक कूट भाषा में, PERMUTATION को IBKFRMXMFLG लिखा जाता है। उस भाषा में PUBLICSECTOR को कैसे लिखा जाएगा?

(A) ICUFEVLBVM  
LK

(B) ICUFEVLBVM  
LJ

(C) IRUEFVLBVM



## SSC CHSL 2023 (EXAM DAY)

Q.11 Select the combination of letters that when sequentially placed in the gaps of the given letter series will complete the series.

अक्षरों के उस संयोजन का चयन करें जिसे दी गई अक्षर श्रृंखला के अंतराल में क्रमिक रूप से रखने पर श्रृंखला पूरी हो जाएगी।

a b \_ b a \_ b a b d \_ a c b \_ b d b a \_ b

(A) cdab

c

(B)

dcbac

(C)

cabcd


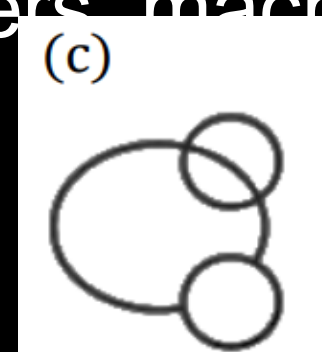
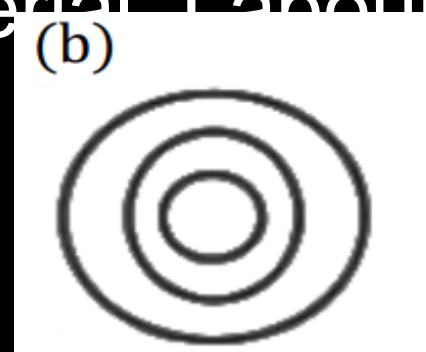
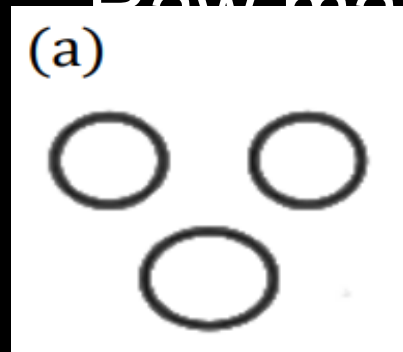


# SSC CHSL 2023 (EXAM DAY)

Q.12 Select the Venn diagram that best illustrates relationship between the following classes.

उस वेन आरेख का चयन करें जो निम्नलिखित वर्गों के बीच संबंध को सर्वोत्तम रूप से दर्शाता है।

Raw material, Labourers, machines



- (A) A
- (B) B
- (C) C
- (D) D



## SSC CHSL 2023 (EXAM DAY)

Q.13 In a family of 5 members, X is the sister of Y. M has two children and he is the son of E, who is the father-in-law of H. H has only one son. Y is not the grand-daughter of E. How is X related to E?

5 सदस्यों वाले परिवार में, X, Y की बहन है। M के दो बच्चे हैं और वह E का बेटा है, जो H का ससुर है। H का केवल एक बेटा है। Y, E की पोती नहीं है। X, E से किस प्रकार संबंधित है?

(A) Sister

(B) Daughter

(C) Grand-daughter

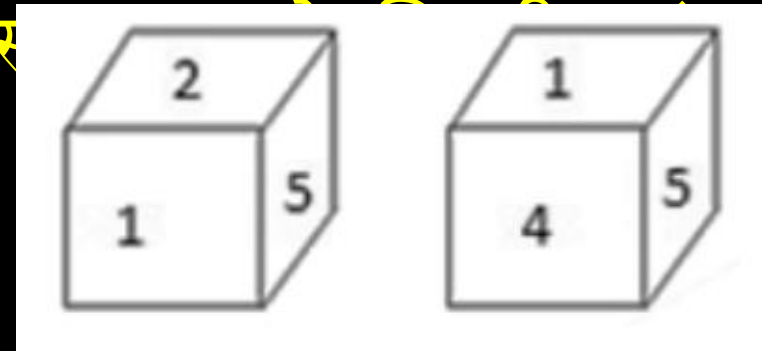
(D) Grandson



## SSC CHSL 2023 (EXAM DAY)

Q.14 Two different positions of the same dice are shown. Find the number opposite to the having facing 4?

एक ही पासे की दो अलग-अलग स्थितियाँ दिखाई गई हैं।  
संख्या के विपरीत स्थिति में कौनसा ज्ञात कीजिये?



- (A) 6
- (B) 3
- (C) 2
- (D) 1



## SSC CHSL 2023 (EXAM DAY)

Q.15 'Cardiologist' is related to 'Heart' in the same way as 'Chiropractor' is related to

'कार्डियोलॉजिस्ट' का संबंध 'हृदय' से उसी प्रकार है जिस प्रकार 'काइरोप्रेक्टर' का संबंध है

- (A) Skin
- (B) Foot
- (C) Chest
- (D) Joints





## SSC CHSL 2023 (EXAM DAY)

Q.16 Select the word-pair in which the two words are related in the same way as are the two words in the following word-pair.

उस शब्द-जोड़ी का चयन करें जिसमें दो शब्द उसी प्रकार संबंधित हैं जैसे निम्नलिखित शब्द-जोड़ी में दो शब्द हैं।

Spoke : Wheel

(A) Word :

Sentence

(B) Printer :

Computer

(C) Square : Side

(D) Tree : Branch



## SSC CHSL 2023 (EXAM DAY)

Q.17 Select the set in which the numbers are related in the same way as are the numbers of the following set.

उस सेट का चयन करें जिसमें संख्याएँ उसी प्रकार संबंधित हैं जैसे निम्नलिखित सेट की संख्याएँ हैं।  
(4, 10, 23)

(A)(7, 23, 49)

(B)(3, 7, 17)

(C)(4, 12, 21)



## SSC CHSL 2023 (EXAM DAY)

Q.18 Three of the following four words are alike in a certain way and one is different. Pick the odd word out.

निम्नलिखित चार शब्दों में से तीन एक निश्चित तरीके से समान हैं और एक भिन्न है।

- (A) Bag
- (B) Suitcase
- (C) Purse
- (D) Carpet



## SSC CHSL 2023 (EXAM DAY)

Q.19 Select the option that is related to the third letter-cluster in the same way as the second letter-cluster is related to the first letter-cluster.

उस विकल्प का चयन करें जो तीसरे अक्षर-समूह से **MARKET** संबंधित है जैसे दूसरे अक्षर-समूह पहले अक्षर-समूह से संबंधित है।

(A) PLBUKQ

(B) JKCTKQ

(C) PLDSK

Q

(D) JLZUKQ



## SSC CHSL 2023 (EXAM DAY)

Q20 . Three of the following four numbers are alike in a certain way and one is different. Pick the number that is different from the rest.

निम्नलिखित चार संख्याओं में से तीन एक निश्चित तरीके से समान हैं और एक भिन्न है।

(A)41

47

(B)82

05

(C)93

68



**SSC CHSL 2023 (EXAM DAY)**

**THANK YOU**