



SSC CHSL 2023



EXAM DAY

मैराथन

4 घंटे लगातार

**ALL
SUBJECTS**



पूरे दिन का **संपूर्ण विश्लेषण** एवं आधारित प्रश्नों की चर्चा

2 अगस्त से 21 अगस्त रोज़ शाम 6 बजे से 10 बजे तक

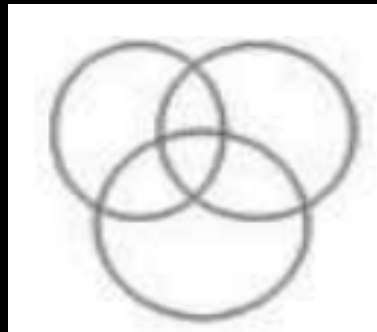


SSC CHSL 2023 (EXAM DAY)

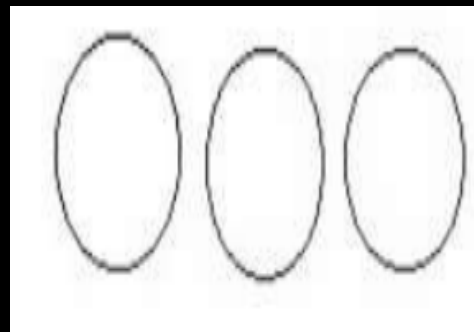
Q1. Select the Venn diagram that best illustrates the relationship between the following classes.

उस वेन आरेख का चयन करें जो निम्नलिखित वर्गों के बीच संबंध को सर्वोत्तम रूप से दर्शाता है।

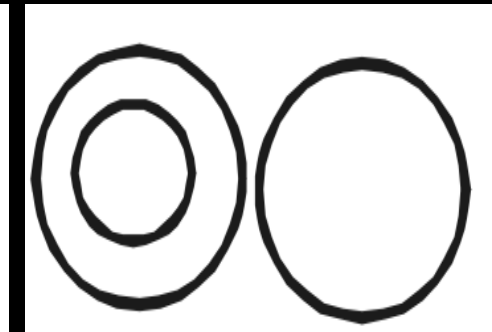
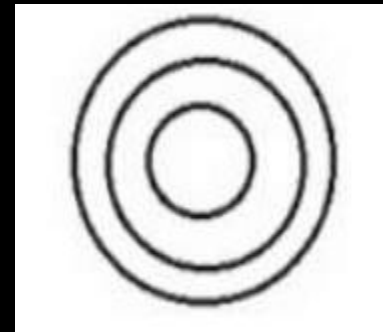
Nurses, Doctors, Pharmacists



A



B



C

(A)A

(B)B

(C)D

(D)E



SSC CHSL 2023 (EXAM DAY)

Q2. In a code language, CONSULTANCY is written as QOJKYOUYJWP. How will MASTERMINDS be written as in that language?

एक कूट भाषा में, CONSULTANCY को QOJKYOUYJWP लिखा जाता है। उस भाषा में MASTERMINDS कैसे लिखे जायेंगे?

(A) APOWIOZJE

I

(B) APOWHIOZJ

EI

(C) APOWIHOZJ

EI

(D) APOWHIOZJ



SSC CHSL 2023 (EXAM DAY)

Q3. Ranga got thrice as many sums wrong as he got right in a mathematics assignment. If he attempted 72 sums in all, how many did he solve correctly in his mathematics assignment?

रंगा को गणित के एक असाइनमेंट में जितने अंक सही मिले उससे तीन गुना अधिक अंक गलत मिले। यदि उसने कुल मिलाकर 72 प्रश्न हल किए, तो उसने अपने गणित सत्रीय कार्य में कितने प्रश्नों को सही ढंग से हल किया?

(A) 16

(B) 20

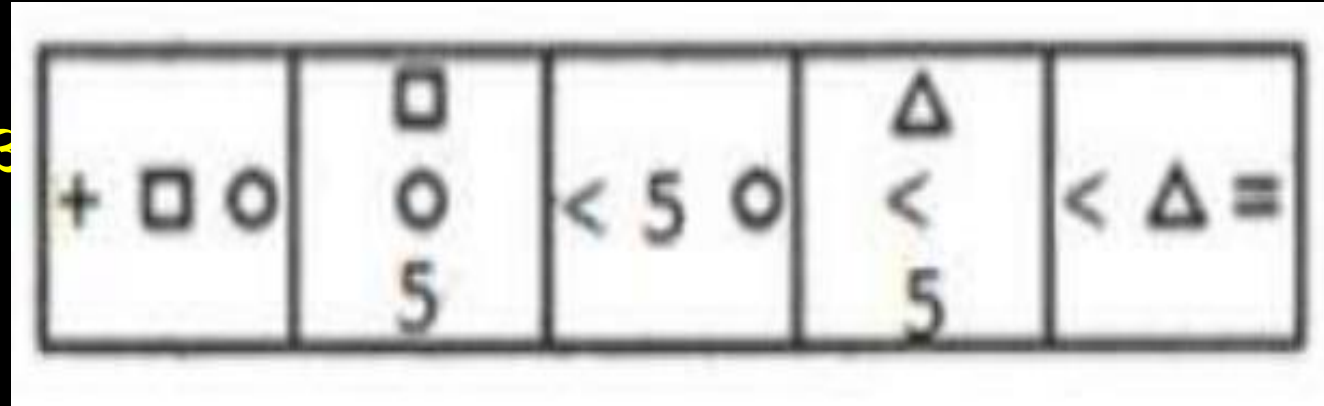
(C) 14

(D) 18

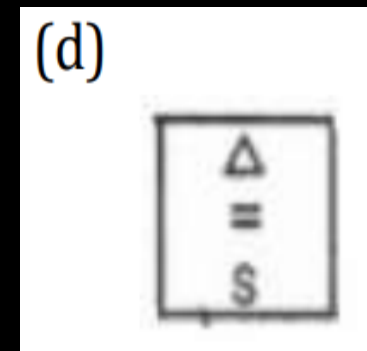
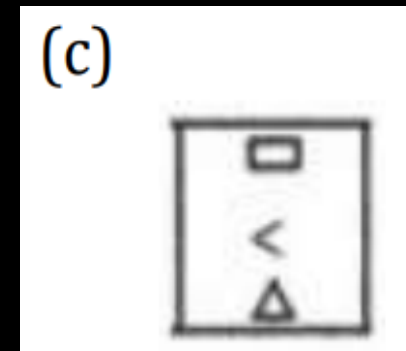
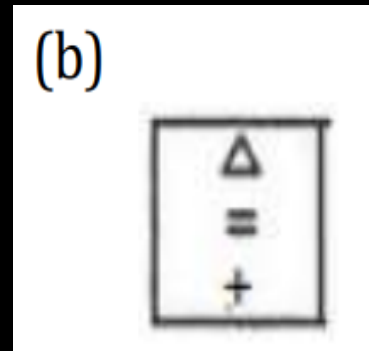
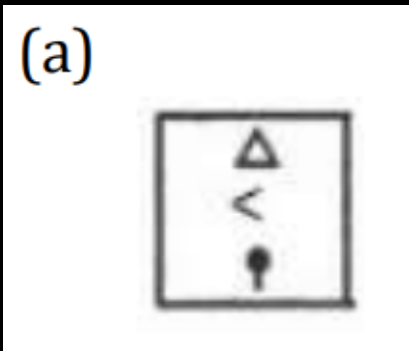


SSC CHSL 2023 (EXAM DAY)

Q4. Select the figure that will come next in the following figure series.



आकृति श्रृंखला में



- (A) A
- (B) B
- (C) C
- (D) D



SSC CHSL 2023 (EXAM DAY)

Q.5 If 'FORTUNE' is coded as '6521347' and 'PREY' is coded as '8279' then how will 'NEPTUNE' be coded as?

यदि 'FORTUNE' को '6521347' और 'PREY' को '8279' के रूप में कोडित किया जाता है, तो 'NEPTUNE' को किस प्रकार कोडित किया जाएगा?

(A)478134

7

(B)478134

2

(C)478234



SSC CHSL 2023 (EXAM DAY)

Q 6. Select the option that is related to the third letter-cluster in the same way as the second letter cluster is related to the first letter-cluster.

उस विकल्प का चयन करें जो तीसरे अक्षर-समूह से उसी प्रकार संबंधित है जैसे दूसरा अक्षर समूह पहले अक्षर-समूह से संबंधित है।

BANK: WXLJ :: IDOL: _____

(A)DAKM

(B)ADMK

(C)DAMJ

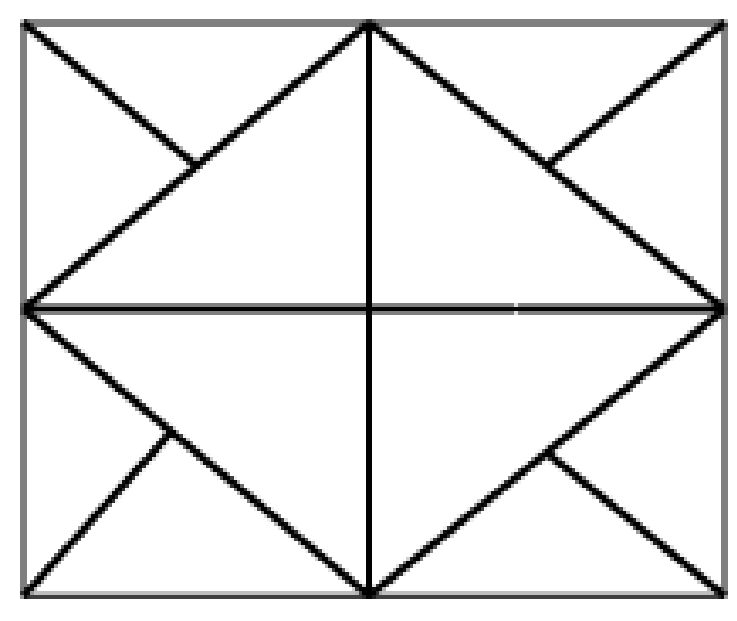
(D)DAMK



SSC CHSL 2023 (EXAM DAY)

Q.7 How many triangles are present in the following figure?

निम्नलिखित आकृति में कितने त्रिभुज हैं?



- (A) 12
- (B) 16
- (C) 10
- (D) 20



SSC CHSL 2023 (EXAM DAY)

Q8. Three of the following four numbers are alike in a certain way and one is different. Pick the number that is different from the rest.

निम्नलिखित चार संख्याओं में से तीन एक निश्चित तरीके से समान हैं और एक भिन्न है।

(A)83115

(B)54215

(C)43217

(D)12347



SSC CHSL 2023 (EXAM DAY)

Q.9 T is sister of D. D is married to P. P is the son of M. T is the mother of J. Y is the father of U. Y has only one son and only one daughter. U is the daughter of T. Q is the son of D. If M is the wife of W, then how is Q related to W?

T, D की बहन है। D का विवाह P से हुआ है। P, M का पुत्र है। T, J की माँ है। Y, U का पिता है। Y का केवल एक पुत्र और केवल एक पुत्री है। U, T की बेटी है। Q, D का बेटा है। यदि M, W की पत्नी है, तो Q, W से कैसे संबंधित है?

- (A) Son-in-law
- (B) Son
- (C) Grandson
- (D) Nephew



SSC CHSL 2023 (EXAM DAY)

Q.10 Which number will replace the question mark (?) in the following series?

निम्नलिखित श्रृंखला में कौन सी संख्या प्रश्न चिह्न (?) का स्थान लेगी?

2, 4, 16, 52, 132, 282, ?

(A) 512
(B) 527
(C) 534
(D) 572



SSC CHSL 2023 (EXAM DAY)

Q.11 Three of the following four words are alike in a certain way and one is different. Pick the odd word out.

निम्नलिखित चार शब्दों में से तीन एक निश्चित तरीके से समान हैं और एक भिन्न है

- (A) Germany
- (B) Singapore
- (C) Austria
- (D) Italy



SSC CHSL 2023 (EXAM DAY)

Q.12 Select the combination of letters that when sequentially placed in the gaps of the given letter series will complete the series.

अक्षरों के उस संयोजन का चयन करें जिसे दी गई अक्षर श्रृंखला के अंतराल में क्रमिक रूप से रखने पर श्रृंखला पूरी हो जाएगी।

ab_ba_db_bd_ac_ba_cdbabd_

(A)dcadbb

ab

(B)dcabdb

ab

(C)cdabdb



SSC CHSL 2023 (EXAM DAY)

Q.13 Statements: All women are engineers./ सभी महिलाएँ इंजीनियर हैं

Some singers are engineers./ कुछ गायक इंजीनियर हैं.

Conclusions: I. All women are singers/ सभी महिलाएँ गायिका हैं

II. All singers are women / सभी गायिकाएँ महिलाएँ हैं

III. Some engineers are women./ कुछ इंजीनियर महिलाएँ हैं

(A) Only conclusions I and II

(B) Only conclusion I follows.

(C) Only conclusion III follows.

(D) Only conclusions II and III



SSC CHSL 2023 (EXAM DAY)

Q.14 From the given alternatives select the numbers that must be interchanged to make the following equation correct.

दिए गए विकल्पों में से उन संख्याओं का चयन करें जिन्हें निम्नलिखित समीकरण को सही बनाने के लिए परस्पर बदला जाना चाहिए।

$$16 - 6 + 12 \times 3 \div 4 = 18$$

(A) 16 and 3

(B) 6 and 3

(C) 12 and

4

(D) 6 and 4



SSC CHSL 2023 (EXAM DAY)

Q.15 2100 is divided among P, Q and R in such a way that P's share is half of the combined share of Q and R. and Q's share is one-fourth of the combined share of P and R. by what amount is R's share more than that of P?

2100 को P, Q और R के बीच इस प्रकार विभाजित किया गया है कि P का हिस्सा Q और R के संयुक्त हिस्से का आधा है और Q का हिस्सा P और R के संयुक्त हिस्से का एक-चौथाई है। R का हिस्सा कितना अधिक है P की तुलना में?

- (A) `280
- (B) `500
- (C) `200
- (D) `250



SSC CHSL 2023 (EXAM DAY)

Q.16 'Cone' is related to 'Ice-cream' in the same way as 'Bowl' is related to

'_____'

'कोन', 'आइसक्रीम' से उसी प्रकार संबंधित है जैसे 'बाउल' संबंधित है

- (A) Soup
- (B) Soap
- (C) Sip
- (D) Drink



SSC CHSL 2023 (EXAM DAY)

Q.17 Arrange the following words in a logical and meaningful order.

निम्नलिखित शब्दों को सार्थक और सार्थक क्रम में व्यवस्थित करें।

1. Lustrum	1. द्युति
2. Century	2. शतक
3. Year	3. वर्ष
4. Millennium	4. सहस्राब्दी
5. Decade	5. दशक

(A) 2, 1, 5,
3, 4

(B) 5, 1, 3,
2, 4

(C) 3, 1, 5,



SSC CHSL 2023 (EXAM DAY)

Q.18 In a code language, 'CERTAIN' is written as 'SVIGZRM'. How will 'CLIMATE' be written as in that language?

एक कूट भाषा में, 'CERTAIN' को 'XVIGZRM' के रूप में लिखा जाता है। उस भाषा में 'CLIMATE' कैसे लिखा जाएगा?

(A)XORNZ

GV

(B)XORNZV

G

(C)XRONZ

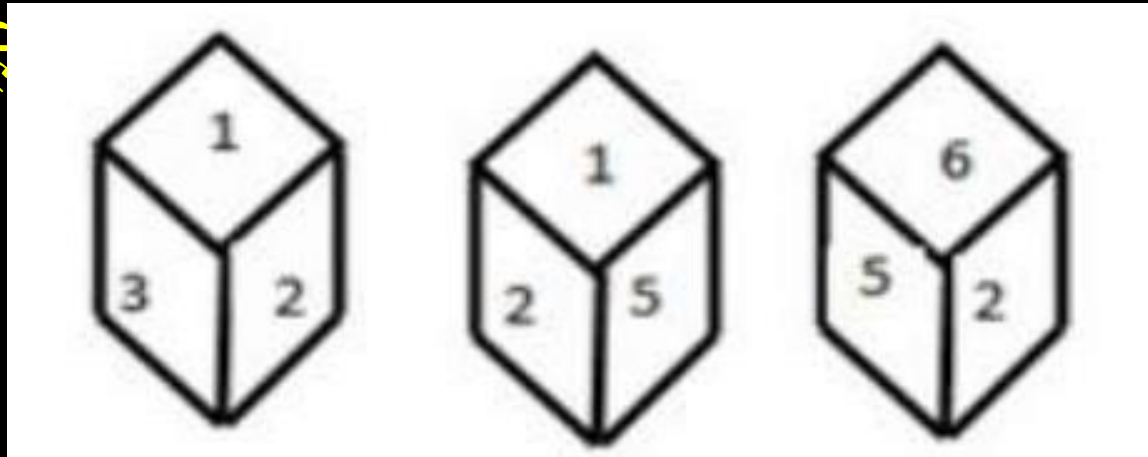
GV



SSC CHSL 2023 (EXAM DAY)

Q.19 Three different positions of the same dice are shown. Find the number on the face opposite to the one having 1.

एक ही पासे की तीन अलग-अलग स्थितियाँ दिखाई गई हैं। 1 वाले कीजिए।



- (A) 6
- (B) 3
- (C) 4
- (D) 2



SSC CHSL 2023 (EXAM DAY)

Q.20 Which number will replace the question mark (?) in the following series?

निम्नलिखित श्रृंखला में कौन सी संख्या प्रश्न चिह्न (?) का स्थान लेगी?

89, 90, 82, 109, 45 ?

(A)-

80

(B)12

5

(C)17



SSC CHSL 2023 (EXAM DAY)

THANK YOU