



# SSC CHSL 2023



# EXAM DAY

# मैराथन

## 4 घंटे लगातार

**ALL  
SUBJECTS**



पूरे दिन का **संपूर्ण विश्लेषण** एवं आधारित प्रश्नों की चर्चा

**2 अगस्त से 21 अगस्त रोज़ शाम 6 बजे से 10 बजे तक**



## SSC CHSL 2023 (EXAM DAY)

Q.1 In the following question, select the missing number from the given series.

निम्नलिखित प्रश्न में, दी गई श्रृंखला से लुप्त संख्या का चयन करें।

669, 660, 651, 642, 633, ?

(A)622

(B)620

(C)624

(D)618



# SSC CHSL 2023 (EXAM DAY)

Q.2 The following equation is incorrect. Which two signs should be interchanged to correct the equation?

निम्नलिखित समीकरण ग़लत है. समीकरण को सही करने के लिए किन दो चिन्हों को आपस में बदला जाना चाहिए?

$$16 - 2 \div 40 + 4 \times 18 = 40$$

(A)  $\div$  and

-

(B) + and

x

(C) + and



## SSC CHSL 2023 (EXAM DAY)

Q.3 In a certain code language, "FLUTE" is written as "UOFGV". How is "LAMPS" written in that code language?

एक निश्चित कूट भाषा में, "FLUTE" को "UOFGV" लिखा जाता है। उस कोड भाषा में "LAMPS" को कैसे लिखा जाता है?

- (A) ONKPT
- (B) OZNPS
- (C) OSNPZ
- (D) OZNBK



# SSC CHSL 2023 (EXAM DAY)

Q.4 Which of the following element is 13th from the left end ?

निम्नलिखित में से कौन सा तत्व बाएं छोर से 13वां है ?  
6 \* 9 Δ Z N M © V

(A)%

(B)I

(C)Q

(D)1



## SSC CHSL 2023 (EXAM DAY)

Q.5 Select the letter-cluster from among the given options that can replace the question mark (?) in the following series.

दिए गए विकल्पों में से उस अक्षर-समूह का चयन करें जो निम्नलिखित श्रृंखला में प्रश्न चिह्न (?) को प्रतिस्थापित कर सकता है।

BEI, EHL, HKO, KNR, (A) NPS  
(B) NRU  
(C) NQ  
U  
(D) NQT





## SSC CHSL 2023 (EXAM DAY)

Q.6 If SUN = 26 and GPL = 11, then what will be the code of SKT in that coding language?

यदि SUN = 26 और GPL = 11 है, तो उस कोडिंग भाषा में SKT का कोड क्या होगा?

(A)10

(B)11

(C)12

(D)13



## SSC CHSL 2023 (EXAM DAY)

Q.7 One morning after Sunrise Mohan and Gaurav were standing opposite to each other. Mohan's shadow fell exactly on his left. Toward which direction does Gaurav facing?

एक सुबह सूर्योदय के बाद मोहन और गौरव एक दूसरे के सामने खड़े थे। मोहन की छाया ठीक उसके बायीं ओर पड़ी। गौरव का मुख किस दिशा की ओर है?

(A)South

(B)North

(C)West

(D)Can't be

determined





# SSC CHSL 2023 (EXAM DAY)

Q.8 Statements : Some instruments are not books./  
कुछ वाद्ययंत्र किताबें नहीं हैं.

All books are flutes./ सभी किताबें बांसुरी  
हैं.

Some flutes are flats./ कुछ बांसुरी फ्लैट  
हैं.

Conclusions : I. Some flats are instruments./ कुछ फ्लैट  
वाद्ययंत्र हैं.

II. Some instruments are not flats./ कुछ  
वाद्ययंत्र फ्लैट नहीं हैं.

III. Some instruments are not flutes./ कुछ  
वाद्ययंत्र बांसुरी नहीं हैं.

(A) Only II follows

(B) None follows

(C) Only IV follows

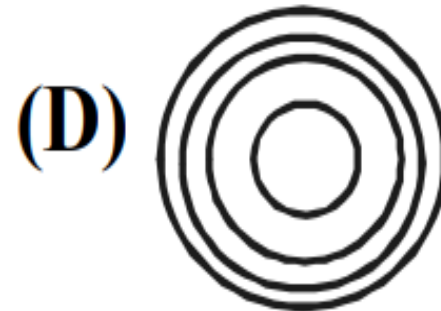
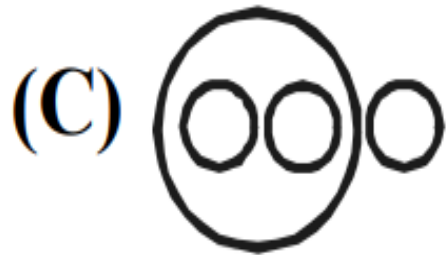
follows



# SSC CHSL 2023 (EXAM DAY)

Q.9 Which of the answer figure indicates the best relationship among

कौन सा उत्तर चित्र सबसे अच्छे संबंध को दर्शाता है?  
मुर्गी?



- (A)A
- (B)B
- (C)C
- (D)D



## SSC CHSL 2023 (EXAM DAY)

Q.10 Select the option that is related to the third number in the same way as the second number is related to the first number.

उस विकल्प का चयन करें जो तीसरी संख्या से उसी प्रकार संबंधित है जैसे दूसरी संख्या पहली संख्या से संबंधित है।

25 : 750 :: 30 : ?

(A) 1110

(B) 1275

(C) 1625

(D) 1050



## SSC CHSL 2023 (EXAM DAY)

Q.11 Select the option that is related to the third letters in the same way as the second letters is related to the first letters.

उस विकल्प का चयन करें जो तीसरे अक्षर से उसी प्रकार संबंधित है जैसे दूसरा अक्षर पहले अक्षर से संबंधित है।

HKN : KOS :: MPQ :

- (A) TPX
- (B) PTW
- (C) TPW
- (D) PTX



# SSC CHSL 2023 (EXAM DAY)

Q.12 Find the odd word from the given alternatives.

दिए गए विकल्पों में से बेजोड़ शब्द ढूँढिए।

(A) Sparrow/

गौरैया

(B) Crow /

कौआ

(C) Firefly/



# SSC CHSL 2023 (EXAM DAY)

Q.13 Find the odd number from the given alternatives.

दिए गए विकल्पों में से विषम संख्या ज्ञात कीजिए।

(A)112

(B)433

(C)500

(D)413



# SSC CHSL 2023 (EXAM DAY)

Q.14 Find the term which does not fit into the series.

वह पद ज्ञात कीजिए जो श्रृंखला में फिट नहीं बैठता है।  
1, 3, 7, 15, 27, 63, 127

(A) 15

(B) 27

(C) 63

(D) 12





# SSC CHSL 2023 (EXAM DAY)

Q.15 Find the missing number from the given responses.

दि

5	5	2
2	4	1
8	3	10
40	30	?

या ज्ञात कीजिए

- (A) 10
- (B) 12
- (C) 13
- (D) 20



## SSC CHSL 2023 (EXAM DAY)

Q.16 Select the set in which the numbers are related in the same way as the numbers of the following set.

उस सेट का चयन करें जिसमें संख्याएँ उसी प्रकार संबंधित हैं (9, 35, 6) जैसे कि निम्नलिखित सेट की संख्याएँ।

(A)(16, 50, 64)

(B)(25, 30, 4)

(C)(36, 55,



# SSC CHSL 2023 (EXAM DAY)

Q.17 Arrange the following words in a logical and meaningful order.

निम्नलिखित शब्दों को तार्किक और सार्थक क्रम में व्यवस्थित करें।

1. Buy
2. Dinner
3. Market
4. Vegetables
5. Cook

(A) 1, 4, 5,  
3, 2

(B) 3, 5, 4,  
1, 2

(C) 4, 5, 3,  
1, 2



## SSC CHSL 2023 (EXAM DAY)

Q.18 If January 1, 2007 was Monday then what day of the week lies on Jan. 1, 2008?

यदि 1 जनवरी 2007 को सोमवार था तो 1 जनवरी 2008 को सप्ताह का कौन सा दिन पड़ेगा?

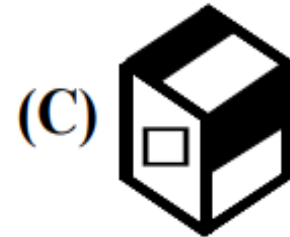
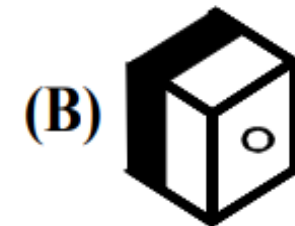
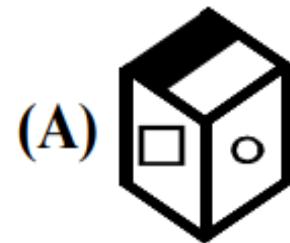
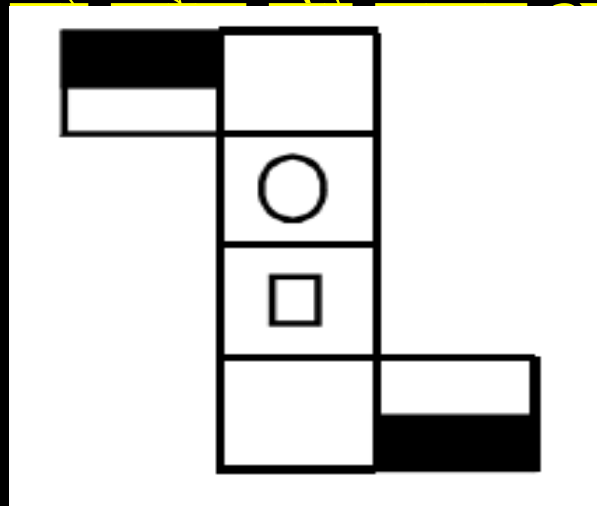
- (A)Monday
- (B)Tuesday
- (C)Wednes  
day
- (D)Sunday



# SSC CHSL 2023 (EXAM DAY)

Q.19 Which answer figure can be made, if we change the shown figure into a cube or dice by folding it?

यदि हम दिखाए गए चित्र को मोड़कर घन या पासे में बदल दें



- (A) A
- (B) B
- (C) C
- (D) D



## SSC CHSL 2023 (EXAM DAY)

Q.20 which of the words CANNOT be formed by the letters of the word "FLAMBOYANT"

शब्द "FLAMBOYANT" के अक्षरों से कौन सा शब्द नहीं बन सकता है

(A) LAMB

(B) BOUT

(C) MOAN



**SSC CHSL 2023 (EXAM DAY)**

**THANK YOU**