



SSC CGL 2023



महा मैराथन

12 घंटे लगातार

हमारे टॉप FACULTIES के साथ

8:00 AM - REASONING

11:00 AM - MATHS

02:00 PM - ENGLISH

05:00 PM - GS



अंतिम वार, CGL पार



SSC CGL 2023- महा मैराथन

Q.1 If DIG is coded as 25 and CUT is coded as 49, then how will KICK be coded as?

यदि DIG को 25 और CUT को 49 से कोडित किया जाता है, तो KICK को किस प्रकार कोडित किया जाएगा?

SSC CGL PPF 04 June 2019

Shift

0:45

(A) 43

(B) 33

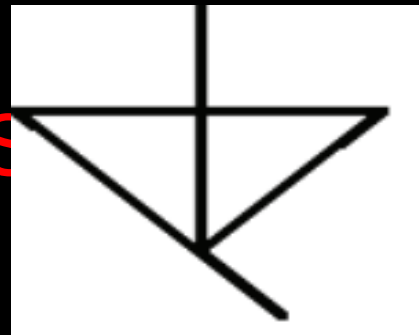


SSC CGL 2023- महा मैराथन

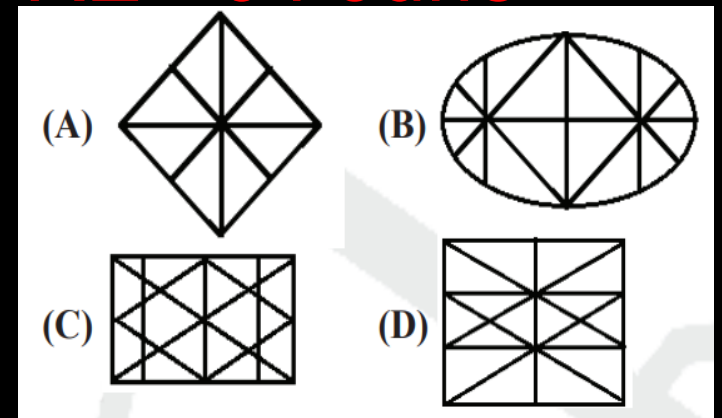
Q.2 Select the option in which the given figure is embedded. (Rotation not allowed)

उस विकल्प का चयन करें जिसमें दी गई आकृति सन्निहित है। (रोटेशन की अनुमति नहीं)

2019 S



GL-PRE - 04 June





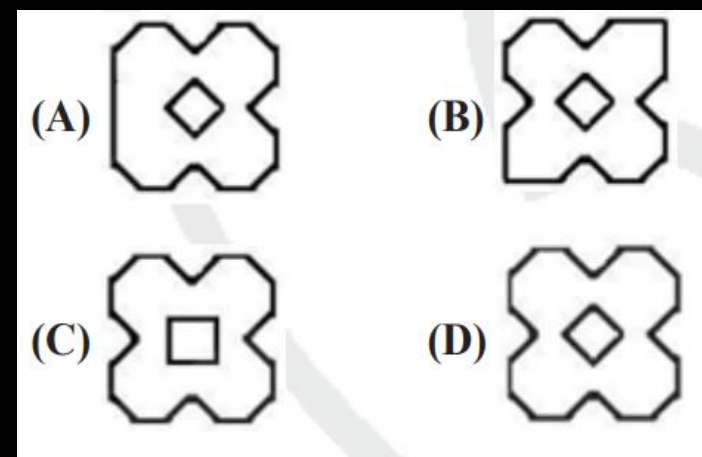
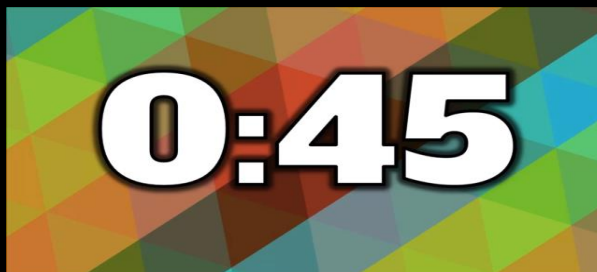
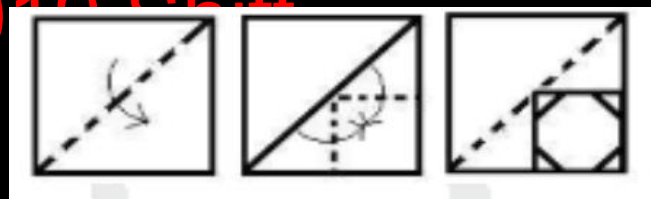
SSC CGL 2023- महा मैराथन

Q.3 A paper is folded and cut as shown below. How will it appear when unfolded?

एक कागज को नीचे दिखाए अनुसार मोड़ा और काटा जाता है। खुलने पर यह कैसा दिखाई देगा?

SSC CGL-PRE - 04 June

2019 Shift



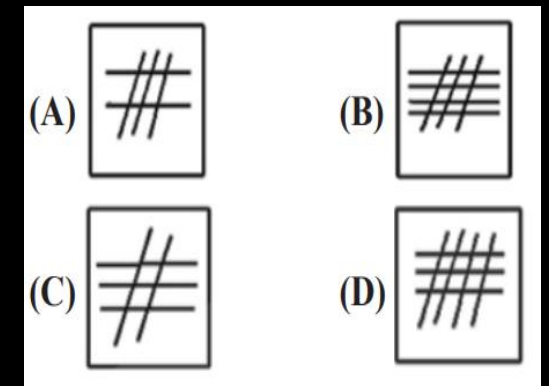
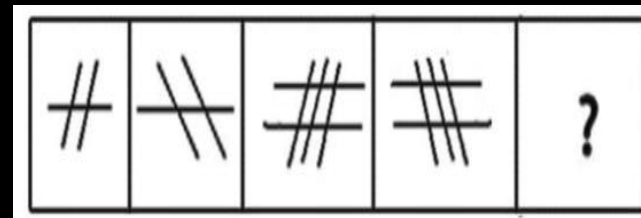


SSC CGL 2023- महा मैराथन

Q.4 Select the figure that will come next in the following figure series

उस आकृति का चयन करें जो निम्नलिखित आकृति श्रृंखला में आगे आएगी

SSC CGL-PRE - 04 June 2019 Shift



0:45



SSC CGL 2023- महा मैराथन

Q.5 Select the set in which the numbers are related in the same way as are the numbers of the following set.

उस सेट का चयन करें जिसमें संख्याएँ उसी प्रकार संबंधित हैं जैसे निम्नलिखित सेट की संख्याएँ हैं।

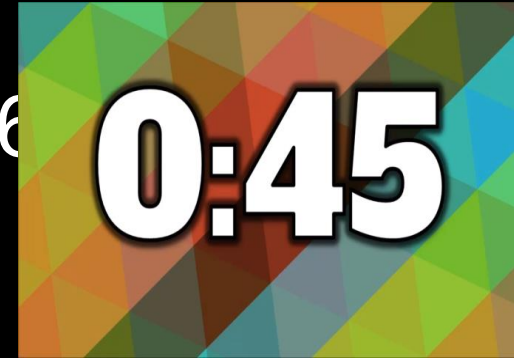
SSC CGL-PRE - 04 June

2019 Shift

(9, 35, 16)

(A) (16, 50, 64)

(B) (25, 30, 4)





SSC CGL 2023- महा मैराथन

Q.6 Select the set in which the numbers are related in the same way as are the numbers of the following set.

उस सेट का चयन करें जिसमें संख्याएँ उसी प्रकार संबंधित हैं जैसे निम्नलिखित सेट की संख्याएँ हैं।

SSC CGL-PRE - 04 June

2019 Shift

(3, 24, 4)

0:45

(A) (6, 35, 11)

(B) (2, 30, 8)



SSC CGL 2023- महा मैराथन

Q.7 Three of the following four letter-clusters are alike in a certain way and one is different. Pick the odd one out.

निम्नलिखित चार अक्षर-समूहों में से तीन एक निश्चित तरीके से समान हैं और एक भिन्न है। बेजोड़ को चुनें।

SSC CGL-PRE - 0. hift



(A) CFIL

(B) GHIJ

(C) MOQS



SSC CGL 2023- महा मैराथन

Q.8 Three of the following four numbers are alike in a certain way and one is different. Pick the number that is different from the rest.

निम्नलिखित चार संख्याओं में से तीन एक निश्चित तरीके से समान हैं और एक भिन्न है। वह संख्या चुनें जो बाकियों से भिन्न हो।

SSC CGL -PRE - 04 June

2019 Shift

0:45

(A) 126



SSC CGL 2023- महा मैराथन

Q.9 In a family of eight persons, there are two couples, each having two children. B and D are brothers and each has two children. E is the aunt of A, who is the cousin brother of C. C is the sister of H, who is the cousin brother of G. F is the wife of B. How is H related to F?

आठ व्यक्तियों के एक परिवार में, दो जोड़े हैं, प्रत्येक के दो बच्चे हैं। B और D भाई हैं और प्रत्येक के दो बच्चे हैं। E, A की चाची है, जो C का चचेरा भाई है, जो G का चचेरा भाई है। F, B की पत्नी है। H कैसे संबंधित है?

0:45

GL-PRE - 04

June 2019 Shift



SSC CGL 2023- महा मैराथन

Q.10 Arrange the following words in a logical and meaningful order.

1. Buy
2. Dinner
3. Market
4. Vegetables
5. Cook

निम्नलिखित शब्दों को तार्किक और सार्थक क्रम में व्यवस्थित करें।

1. खरीदें
2. रात का खाना
3. बाज़ार
4. सब्ज़ियाँ
5. पकाएँ

June

0:45

SSC CGL-PRE - 04

(A) 1, 4, 5, 3, 2

(B) 3, 5, 4, 1, 2

(C) 1, 5, 3, 4, 2



SSC CGL 2023- महा मैराथन

Q.11 Select the Venn diagram that best illustrates the relationship between the following classes.

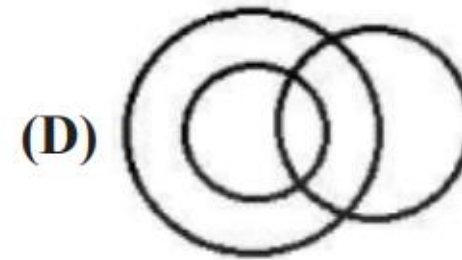
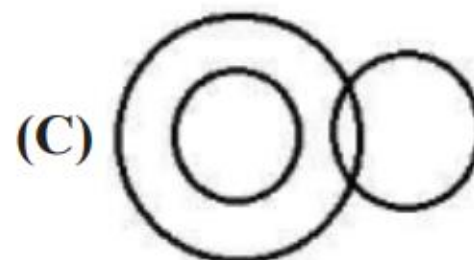
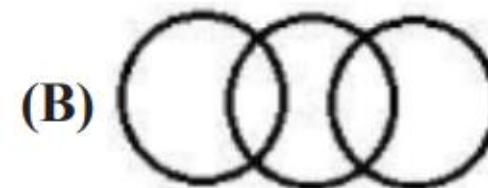
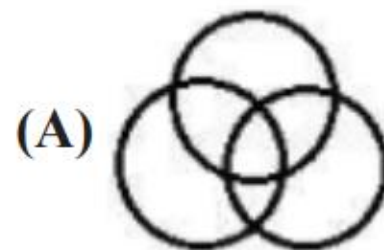
Uncle, Relatives, Rich

उस वेन आरेख का चयन करें जो निम्नलिखित वर्गों के बीच संबंध को सर्वोत्तम रूप से दर्शाता है।

चाचा, रिश्तेदार, धनी

04 June

0:45



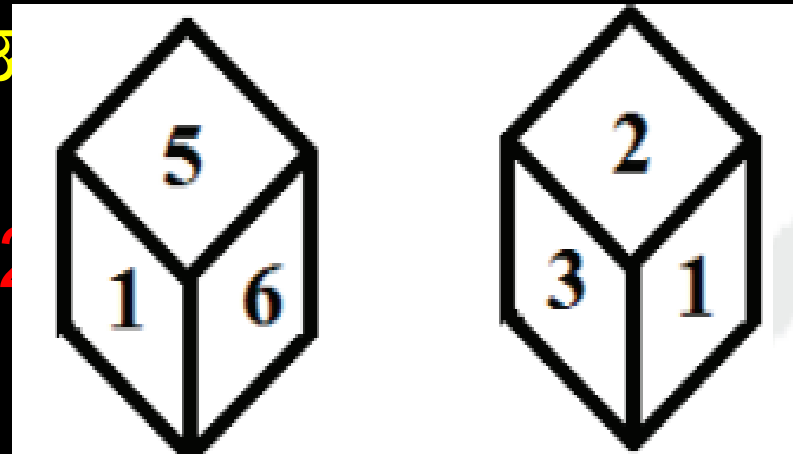


SSC CGL 2023- महा मैराथन

Q.12 Two different positions of the same dice are shown. Which number will be at the top if 6 is at the bottom?

एक ही पासे की दो अलग-अलग स्थितियाँ दिखाई गई हैं। यदि 6 सबसे नीचे है तो कौन सी संख्या सबसे ऊपर आएगी?

0:45



GL-PRE - 04

(A) 4

(B) 3



SSC CGL 2023- महा मैराथन

Q.13. 'Lawyer' is related to 'Justice' in the same way as 'Arbitrator' is related to.....

'वकील' का संबंध 'न्याय' से उसी प्रकार है जिस प्रकार 'मध्यस्थ' का संबंध..... से है।

SSC CGL-PRE

- 04 June 2023

0:45

Judgment / न्यायावारा का निर्णय

/ अन्याय

Settlement / समझौता

(A)

(B) Injustice

(C)



SSC CGL 2023- महा मैराथन

Q.14. Three of the following four words are alike in a certain way and one is different. Pick the odd word out.

निम्नलिखित चार शब्दों में से तीन एक निश्चित तरीके से समान हैं और एक भिन्न है। बेजोड़ शब्द चुनें



मूंगफली

SSC CGL-PRE - 04

(A) Groundnut./

(B) Mustard/ सरसों

(C) Cumin/ जीरा

(D) Fennel/ सैम



SSC CGL 2023- महा मैराथन

Q.15 Two statements are given followed by three conclusions numbered I, II and III. Assuming the statements to be true, even if they seem to be at variance with commonly known facts, decide which of the conclusions logically follow(s) from the statements.

SSC CGL-PRE - 04 June 2019 Shift

Statements: All rulers are machines./ सभी शासक मशीनें हैं
Some machines are costly items /कुछ मशीनें महँगी वस्तुएँ हैं

Conclusions: I. Some rulers are costly items./कुछ शासक महँगी वस्तुएँ हैं
II. Some costly items are machines./ कुछ महँगी वस्तुएँ मशीनें हैं

0:45

III. All costly items are machines. / सभी महँगी वस्तुएँ मशीनें हैं



SSC CGL 2023- महा मैराथन

Q.16 Select the option that is related to the third letter cluster in the same way as the second letter-cluster is related to the first letter-cluster.

उस विकल्प का चयन करें जो तीसरे अक्षर समूह से उसी प्रकार संबंधित है जैसे दूसरा अक्षर-समूह पहले अक्षर-समूह से संबंधित है।

SSC CGL - PRE - 04

June 2019 Sh

CEGI : AGEK

0:45

(A)

CHFI



SSC CGL 2023- महा मैराथन

Q.17. Select the combination of letters that when sequentially placed in the gaps of the given letter series will complete the series.

अक्षरों के उस संयोजन का चयन करें जिसे दी गई अक्षर श्रृंखला के अंतराल में क्रमिक रूप से रखने पर श्रृंखला पूरी हो जाएगी।

SSC CGL-PRE - 04

June 2019

b_bab_b

0:45

(A) cbbac



SSC CGL 2023- महा मैराथन

Q.18. Which number will replace the question mark (?) in the following series?

निम्नलिखित श्रृंखला में कौन सी संख्या प्रश्न चिह्न (?) का स्थान लेगी?

SSC

CGL-PRE - 04 June 2019 Shift

3, 7, 16, 3

0:45

(A) 84

(B) 74

(C) 70



SSC CGL 2023- महा मैराथन

Q.19. In a code language, VICTORY is written as CIVSYRO. How will TRAITOR be written as in that language?

एक कूट भाषा में, VICTORY को CIVSYRO लिखा जाता है। उस भाषा में TRAITOR कैसे लिखा जाएगा?

0:45

GL-PRE - 04

June 2019 S

(A) RATHORT

(B) RTHAORT



SSC CGL 2023- महा मैराथन

Q.20. Select the number-pair in which the two numbers are related in the same way as are the two numbers of the following number-pair.

उस संख्या-जोड़ी का चयन करें जिसमें दो संख्याएँ उसी प्रकार संबंधित हैं जैसे कि निम्नलिखित संख्या-जोड़ी की दो संख्याएँ हैं।

36 : 84

June 2019 S

0:45

-PRE - 04

(A) 27 : 63

(B) 21 : 51



SSC CGL 2023- महा मैराथन

Q.21. `1,875 is divided among A, B and C in such a way that A's share is half of the combined share of B and C, and B's share is one-fourth of the combined share of A and C. By what amount is C's share more than that of A?

1,875 रुपये को A, B और C के बीच इस प्रकार विभाजित किया गया है कि A का हिस्सा B और C के संयुक्त हिस्से का आधा है, और B का हिस्सा A और C के संयुक्त हिस्से का एक-चौथाई है। C का हिस्सा A की तुलना में?

0:45

SSC CGL-PRE -

04 June 2019 Shift



SSC CGL 2023- महा मैराथन

Q.22. Select the word-pair in which the two words are related in the same way as are the two words in the following word pair.

उस शब्द-युग्म का चयन करें जिसमें दो शब्द उसी प्रकार संबंधित हैं जैसे निम्नलिखित शब्द युग्म में दो शब्द हैं।

Book : Thesaurus / किताब: थिसारस

SSC CGL-PRE - 04

June 2019 Shift

0:45

(A) Tree : Forest /

(B) Reptile : Python/

सरीसृप: अजगर

(C) Furniture : Wood



SSC CGL 2023- महा मैराथन

Q.23. Which two signs should be interchanged in the following equation to make it correct?

निम्नलिखित समीकरण को सही बनाने के लिए इसमें किन दो चिन्हों को आपस में बदला जाना चाहिए?

$$8 - 12 + 12 \times 9 \div 3 = 2$$

04 June 2019

SSC CGL-PRE -

0:45

(A) + and \div

(B) + and \times

(C) \div and \times

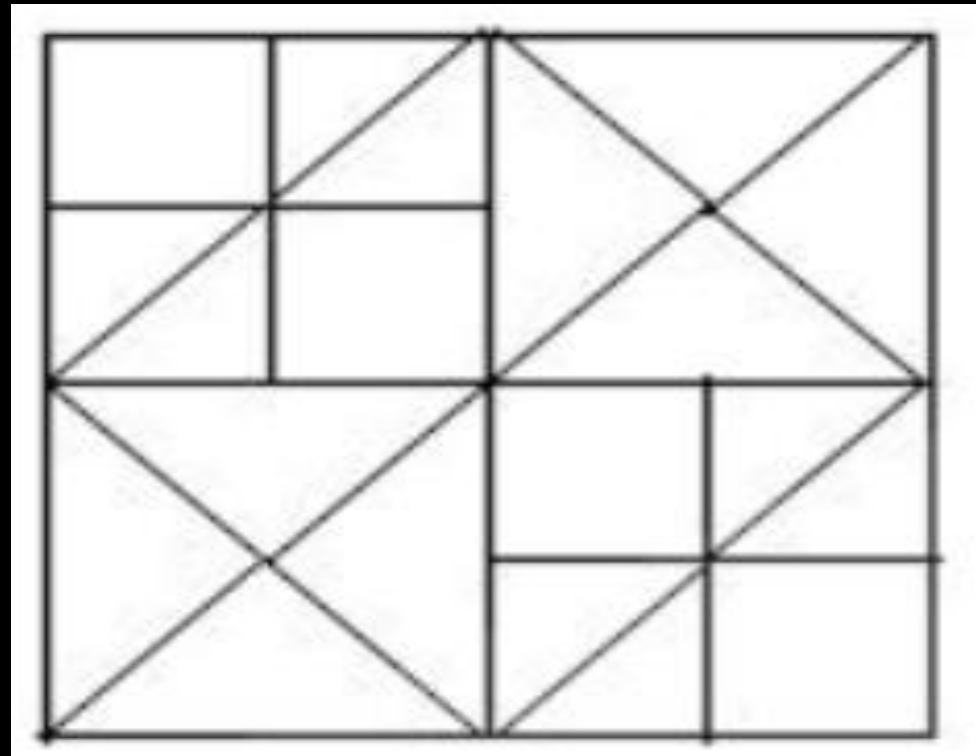


SSC CGL 2023- महा मैराथन

0:45

Q.24. How many squares are there in the following figure?
निम्नलिखित आकृति में कितने वर्ग हैं?

SSC CGL-PRE - 04



(A) 12

(B)

(C)

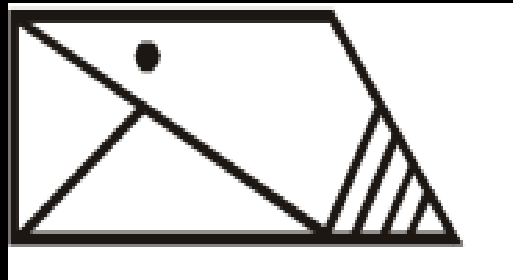
(D)



SSC CGL 2023- महा मैराथन

Q.25. Select the correct mirror image of the given figure when the mirror is placed to the right of the figure

दी गई आकृति की सही दर्पण छवि का चयन करें
जब दर्पण को आकृति के दाईं ओर रखा जाए



9



SSC CGL PRE

(A)

(B)

(C)

(D)



SSC CGL 2023- महा मैराथन

Q.26 Select the related word from the given alternatives.

दिए गए विकल्पों में से संबंधित शब्द का चयन करें।

Cow : Calf :: Hen : ? / गाय : बछड़ा :: मुर्गी : ?

SSC CGL-PRE - 21

august 2018 shift-I

0:45

Chick/ चूजा

(A)

Cock/ मुर्गा

(B)

Egg / अंडा

(C)



SSC CGL 2023- महा मैराथन

Q.27 Select the related letters from the given alternatives.

दिए गए विकल्पों में से संबंधित अक्षर का चयन करें।

DHL : AEI :: QUY : ?

SSC CGL-PRE - 21

august 2018 shift-1

0:45

MQU

(A)

NRV

(B)

OSW

(C)

(D)



SSC CGL 2023- महा मैराथन

Q.28 Select the related number from the given alternatives.

दिए गए विकल्पों में से संबंधित संख्या का चयन करें।

0.5 : 2 :: 0.125 : ?

SSC CGL PPE - 21

august 2018 shift-I

0:45

(A) 6

(B) 16



SSC CGL 2023- महा मैराथन

Q.29 Select the odd word from the given alternatives.

दिए गए विकल्पों में से बेजोड़ शब्द का चयन करें।

SSC CGL-PRE - 21 august 2018

shift-I

0:45

(A) Book/ किताब

(B) Page / पृष्ठ

(C) Pen / कलम



SSC CGL 2023- महा मैराथन

Q.30 Select the odd letters from the given alternatives.

दिए गए विकल्पों में से विषम अक्षरों का चयन करें।

SSC CGL August 2018
shift-I

0:45

(A) EGI

(B) MOQ

(C) UWX



SSC CGL 2023- महा मैराथन

Q.31 Select the odd number from the given alternatives.

दिए गए विकल्पों में से विषम संख्या का चयन करें

SSC CGL-PRE - 21 august 2018
shift-I

0:45

(A) 47

(B) 41

(C) 50



SSC CGL 2023- महा मैराथन

Q.32 A series is given with one word missing. Choose the correct alternative from the given ones that will complete the series as per the dictionary. ?,

एक शृंखला दी गई है जिसमें एक शब्द लुप्त है। दिए गए विकल्पों में से वह सही विकल्प चुनें जो शब्दकोश के अनुसार शृंखला को पूरा करेगा। ?,

Lifelike, Lifeline, Lifelong

SSC CGL -PRE - 21 august 2018

shift-I

0:45

(A) Lifelong



SSC CGL 2023- महा मैराथन

Q.33 A series is given, with one term missing. Choose the correct alternative from the given ones that will complete the series.

एक श्रृंखला दी गई है, जिसमें एक पद लुप्त है।
दिए गए विकल्पों में से वह सही विकल्प चुनें जो
श्रृंखला को पूरा करेगा।

B, C, E, H, L, ?

SSC CGL-PRE - 21 august 2018

shift-I

0:45

(A) C



SSC CGL 2023- महा मैराथन

Q34. A series is given, with one number missing. Choose the correct alternative from the given ones that will complete the series.

एक श्रृंखला दी गई है, जिसमें एक संख्या लुप्त है। दिए गए विकल्पों में से वह सही विकल्प चुनें जो श्रृंखला को पूरा करेगा।

-4, ?, 3, 8, 14, 21

SSC CGL-PRE - 21 august 2018

shift-I

0:45

(A) 0



SSC CGL 2023- महा मैराथन

Q.35 Meetu's birthday is on Wednesday 8th March. On what day of the week will be Ritu's Birthday in the same year if Ritu was born on 10th July?

मीतू का जन्मदिन बुधवार 8 मार्च को है। यदि रितु का जन्म 10 जुलाई को हुआ तो उसी वर्ष रितु का जन्मदिन सप्ताह के किस दिन होगा?

SSC CGL-PRE - 21 august 2018

shift-I

0:45

(A) Monday



SSC CGL 2023- महा मैराथन

Q.36 From the given alternative words, select the word which cannot be formed using the letters of the given word:

दिए गए वैकल्पिक शब्दों में से वह शब्द चुनिए जो दिए गए शब्द के अक्षरों का प्रयोग करके नहीं बनाया जा सकता:

DUPLICATE

2018 shift-I

SSC CGL 2023 11 august

0:45

(A) PLATE



SSC CGL 2023- महा मैराथन

Q. 37 If PRIMATE is coded as MOFJXQB, then how will COW be coded as?

यदि PRIMATE को MOFJXQB के रूप में कोडित किया गया है, तो COW को किस प्रकार कोडित किया जाएगा?

SSC CGL- Post 2018
shift-I

0:45

(A) ZLT



SSC CGL 2023- महा मैराथन

Q.38 In a certain code language, '+' represents 'x', '-' represents '+', 'x' represents '÷' and '÷' represents '-'. What is the answer to the following question?

एक निश्चित कूट भाषा में, '+' 'x' को दर्शाता है, '-' '+' को दर्शाता है, 'x' '÷' को दर्शाता है और '÷' '-' को दर्शाता है। निम्नलिखित प्रश्न का उत्तर क्या है?

$$11 + 50 - 150 \div 200 = ?$$

SSC **0:45** - 21 august 2018

shift-I

(A)



SSC CGL 2023- महा मैराथन

Q.39 If $7 \times 1 = 12$; $5 \times 4 = 2$; $6 \times 4 = 4$;
then what is the value of $7 \times 4 = ?$

यदि $7 \times 1 = 12$; $5 \times 4 = 2$; $6 \times 4 = 4$; तो $7 \times 4 =$ का
मान क्या है?

SSC CGL-PRE - 21 august 2018

shift-I

0:45

(A) 8

(B) 6



SSC CGL 2023- महा मैराथन

Q.40 Select the missing number from the responses.

प्रतिक्रियाओं में से लुप्त संख्या का चयन करें।

SSC CGL-PRE - 21 august 2018

0:45

18	90	5
13	143	11
7	?	5

(A) 12

(C) 53



SSC CGL 2023- महा मैराथन

Q 41. A man cycles 7 km East, then turns South and cycles 12 km, then turns West and cycles 7 km, then turns to his left and cycles 10 km. Where is he now with reference to his starting position?

एक आदमी 7 किमी पूर्व की ओर साइकिल चलाता है, फिर दक्षिण की ओर मुड़ता है और 12 किमी साइकिल चलाता है, फिर पश्चिम की ओर मुड़ता है और 7 किमी साइकिल चलाता है, फिर बाईं ओर मुड़ता है और 10 किमी साइकिल चलाता है। अपनी प्रारंभिक स्थिति के संदर्भ में वह अब कहां है?

0:45

CGL-PRE - 21 august 2018

shift-I



SSC CGL 2023- महा मैराथन

Q.42 In the question two statements are given, followed by two conclusions, I and II. You have to consider the statements to be true even if it seems to be at variance from commonly known facts. You have to decide which of the given conclusions, if any, follows from the given statements.

Statement : All steel is iron./ सभी स्टील लोहा हैं.

: No iron is solid./ कोई भी लोहा ठोस नहीं है.

Conclusion: I : No steel is solid. / कोई स्टील ठोस नहीं है.

II : Some iron are steel./ कुछ लोहा स्टील हैं

0:45

CGL-PRE - 21 august 201

(A) Only

conclusion I follows

(B) Only conclusion II follows



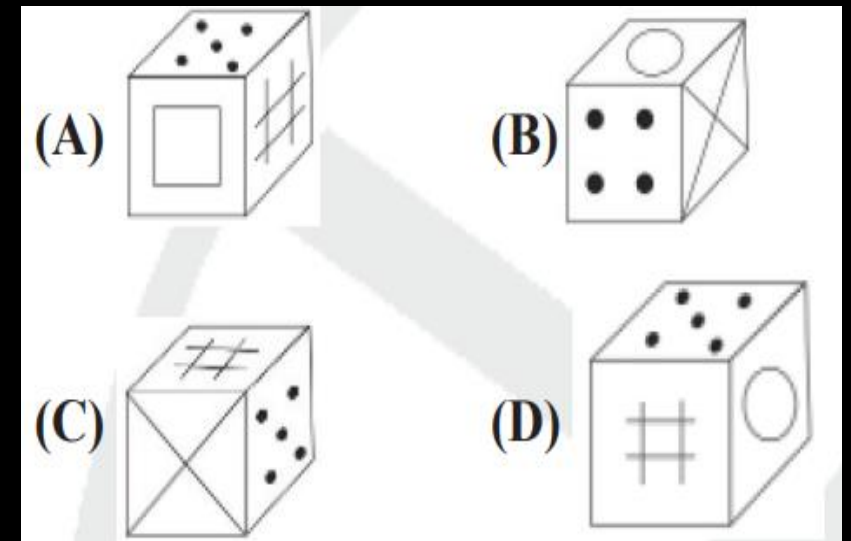
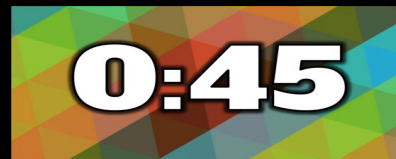
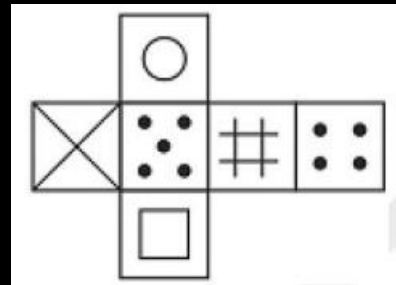
SSC CGL 2023- महा मैराथन

Q.43 Which of the following cube in the answer figure cannot be made based on the unfolded cube in the question figure?

उत्तर आकृति में निम्नलिखित में से कौन सा घन प्रश्न आकृति में खुले हुए घन के आधार पर नहीं बनाया जा सकता है?

SSC CGL-PRE - 21 august 2018

shift-I



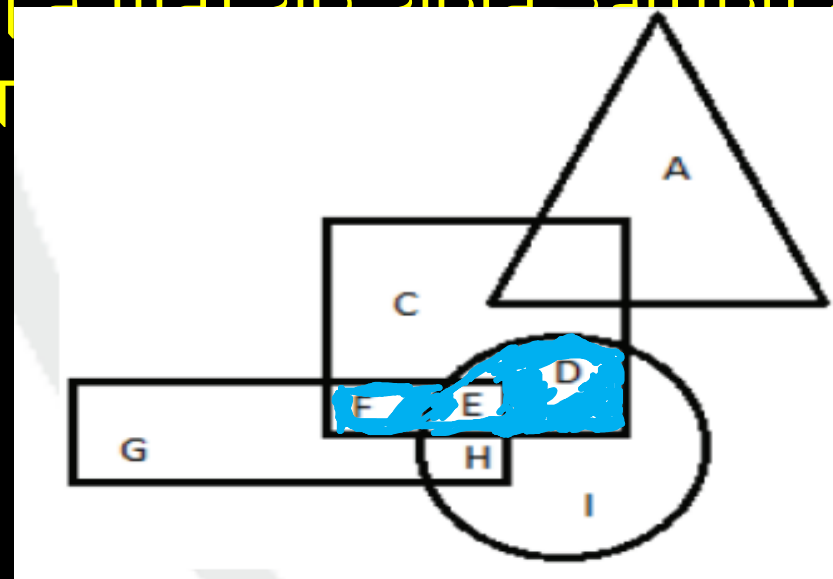
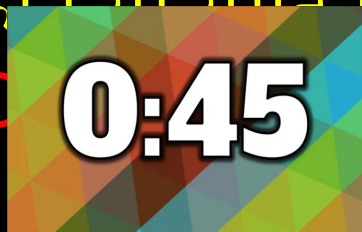


SSC CGL 2023- महा मैराथन

Q.44 In the following figure, square represents athletes, triangle represents engineers, circle represents fathers and rectangle represents entrepreneurs. Which set of letters represents athletes who are either entrepreneurs or fathers?

निम्नलिखित आकृति में, वर्ग एथलीटों को दर्शाता है, त्रिभुज इंजीनियरों को दर्शाता है, वृत्त दर्शाता है पिता और आयत उद्योगियों को दर्शाता है। अक्षरों का कौन सा समूह एथलीटों को दर्शाता है जो या पिता?

SSC CGL 2023- महा मैराथन



- (A) F, E, D
- (B) D, E, F, G, H, I
- (C) G, H, I
- (D) E, H

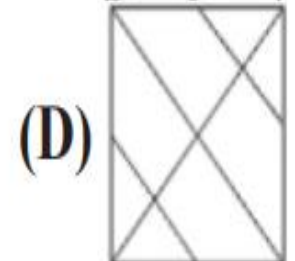
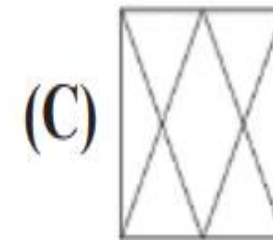
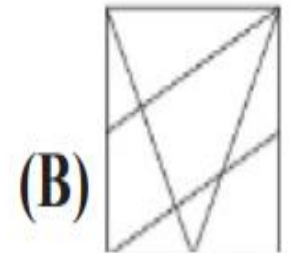
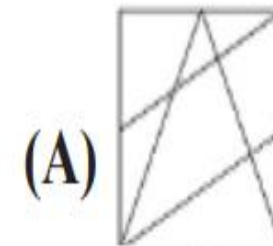
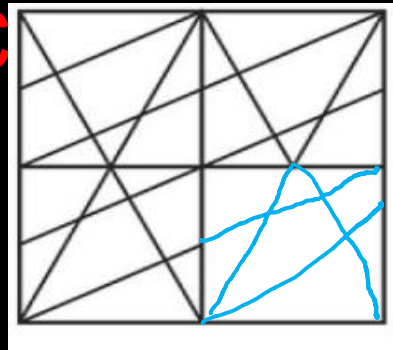


SSC CGL 2023- महा मैराथन

Q.45 Which answer figure will complete the pattern in the question figure?

कौन सी उत्तर आकृति प्रश्न आकृति के पैटर्न को पूरा करेगी?

SSC



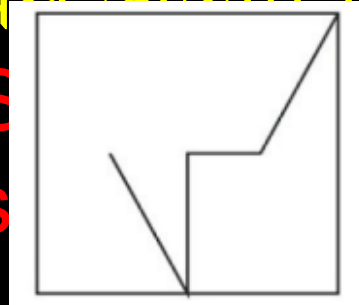
0:45



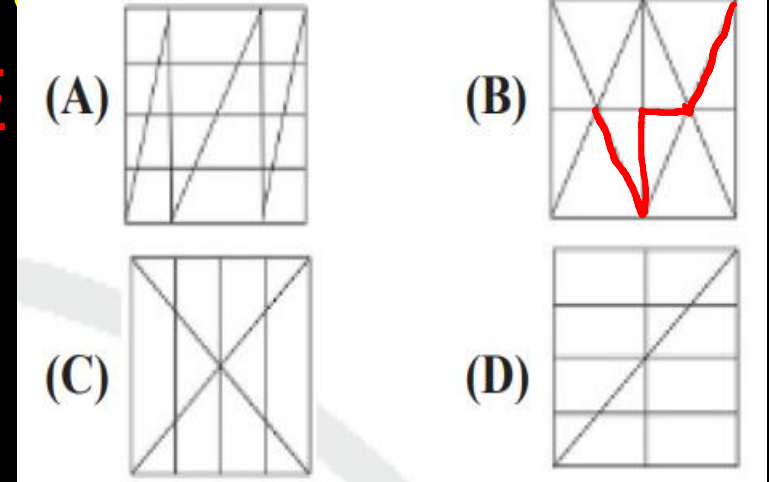
SSC CGL 2023- महा मैराथन

Q.46 From the given answer select the one in which the question figure is hidden / embedded

दिए गए उत्तर में से वह उत्तर चुनें जिसमें प्रश्न आकृति छिपी/निहित है



0:45





SSC CGL 2023- महा मैराथन

Q.47 Three of the following four numbers are alike in a certain way and one is different. Pick the number that is different from the rest.

निम्नलिखित चार संख्याओं में से तीन एक निश्चित तरीके से समान हैं और एक भिन्न है। वह संख्या चुनें जो बाकी तीनों से भिन्न हो।

0:45

PRE- 08

July 2019 sh

(A) 336



SSC CGL 2023- महा मैराथन

Q.48 Arrange the following activities in a logical and meaningful order.

निम्नलिखित गतिविधियों को तार्किक और सार्थक क्रम में व्यवस्थित करें।

1. Setting up alarm clock / अलार्म घड़ी सेट करना
2. Solving question paper / प्रश्न पत्र हल करना
3. Alarm Bell ringing/ अलार्म की घंटी बज रही है
4. Reach examination centre./ परीक्षा केंद्र पर पहुंचें.
5. Getting dressed and be ready / कपड़े पहनो तैयार हो जाओ
6. Returning answer book / उत्तर पुस्तिका लौटा रहा हूँ

July

0:45

SSC CHSL -PRE- 08

(A) 3, 1, 5, 4, 2, 6

(B) 1, 3, 4, 5, 2, 6

(C) 1, 3, 5, 4, 6, 2



SSC CGL 2023- महा मैराथन

Q49 Select the set in which the numbers are related in the same way as are the numbers of the following set.

उस सेट का चयन करें जिसमें संख्याएँ उसी प्रकार संबंधित हैं जैसे निम्नलिखित सेट की संख्याएँ हैं।

0:45

-PRE- 08 July

(A)

(11, 67, 8)



SSC CGL 2023- महा मैराथन

Q.50 Two statements are given, followed by three conclusions numbered I, II and III. Assuming the statements to be true, even if they seem to be at variance with commonly known facts, decide which of the conclusions logically follow(s) from the statements. Statements: Some plants are vegetable. / कुछ पौधे वनस्पति हैं।

All vegetables are vitamins. / सभी सब्जियाँ विटामिन हैं।

Conclusions: I. Some vitamins are plants. / कुछ विटामिन पौधे हैं।

II. Some vitamins are vegetables./ कुछ विटामिन सब्जियाँ हैं।



ant. / कोई विटामिन पौधा नहीं है.

SSC CHSL -

PRE- 08 J

(A) Either



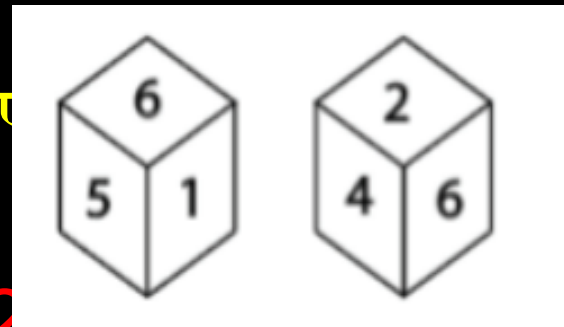
SSC CGL 2023- महा मैराथन

Q51 .Two different positions of the same dice are shown below, the six faces of which are numbered 1 to 6.

Find the number opposite to the face having 3.

एक ही पासे की दो अलग-अलग स्थितियाँ दिखाई गई हैं नीचे, जिसके छह फलकों को 1 से क्रमांकित किया गया है।

0:45



(A) 2

(B) 6

(C) 4

(D) 5



SSC CGL 2023- महा मैराथन

Q.52 A + B means 'A is the sister of B'.

A - B means 'A is the son of B'.

A × B means 'A is the father of

B' A ÷ B means 'A is the brother of B'

If $S \times M \div U + L \times Z - I$ is true then how is L related to I?

यदि $S \times M \div U + L \times Z - I$ सत्य है तो L, I से कैसे संबंधित है?

08 July
(A) Hu

0:45

SSC CHSL -PRE-

(B) Son /



SSC CGL 2023- महा मैराथन

Q.53 Three of the following four words are alike in a certain way and one is different. Pick the odd word out.

निम्नलिखित चार शब्दों में से तीन एक निश्चित तरीके से समान हैं और एक भिन्न है। बेजोड़ शब्द चुनें।

SSC CHSL -PRE-

08 July 2019 shift-2

0:45

- (A) Ulcer / अल्सर
- (B) Anaemia / रक्तहीनता
- (C) Hormone /

हार्मोन



SSC CGL 2023- महा मैराथन

Q.54 If CALLOSUM is coded as 31336134, then how will CEREMONY be coded as?

यदि CALLOSUM को 31336134 के रूप में कोडित किया गया है, तो CEREMONY को किस प्रकार कोडित किया जाएगा?

000 CHSL -PRE- 08
J 0:45
200 107 07

(A)

(B)

35854656

(C)



SSC CGL 2023- महा मैराथन

Q.55 Select the option that is related to the third letter cluster in the same way as the second letter cluster is related to the first letter-cluster.

उस विकल्प का चयन करें जो तीसरे अक्षर समूह से उसी प्रकार संबंधित है जैसे दूसरा अक्षर समूह पहले अक्षर-समूह से संबंधित है।

DHMR : BJKT :: YQCF : ?

08 July 2019 CHSL -PRE-

0:45

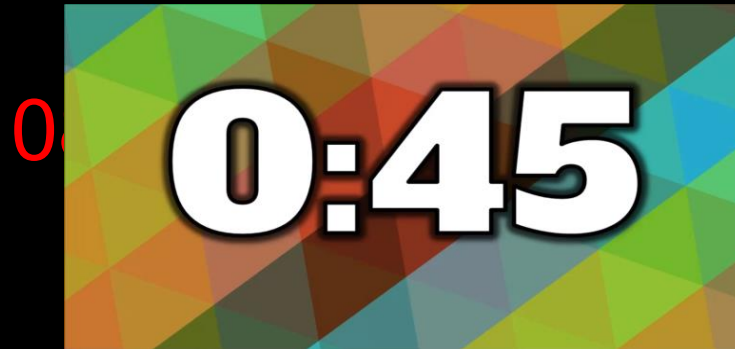
(A) VFMH



SSC CGL 2023- महा मैराथन

Q.56 Mercury' is related to 'Metal' in the same way as 'Frog' is related to '_____'.
पारा का संबंध 'धातु' से उसी प्रकार है जिस प्रकार 'मेंढक' का संबंध है

पारा का संबंध 'धातु' से उसी प्रकार है जिस प्रकार 'मेंढक' का संबंध है



रेंगनेवाला जन्तु

उभयचर

सस्तक

SSC CHSL -PRE-

(A) Rodent / कृतक

(B) Reptilian /

(C) Amphibian /

(D) Mammal/



SSC CGL 2023- महा मैराथन

Q.57 Select the number-pair in which the two numbers are related in the same way as are the two numbers of the following number-pairs.

उस संख्या-युग्म का चयन करें जिसमें दो संख्याएँ उसी प्रकार संबंधित हैं जैसे
10 : 100 :: 1 : 100
जोड़े की दो संख्याएँ

0:45

SSC CHSL -PRE- 08 July
2019 shift-2



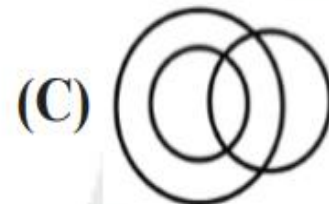
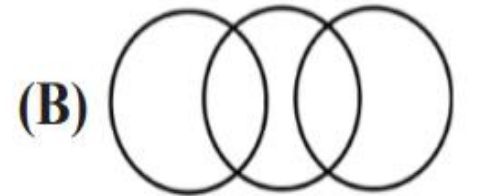
SSC CGL 2023- महा मैराथन

Q.58 Select the Venn diagram that best illustrates the relationship between the following classes.

Women, Lawyers, Sons

उस वेन आरेख का चयन करें जो निम्नलिखित वर्गों के बीच संबंध को सर्वोत्तम रूप से दर्शाता है।

0:45





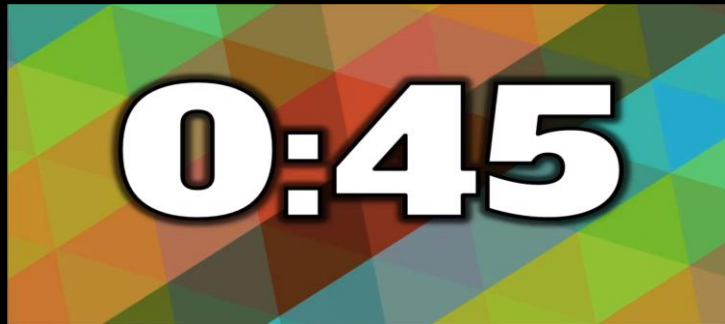
SSC CGL 2023- महा मैराथन

Q.59 Which number will replace the question mark (?) in the following series?

निम्नलिखित श्रृंखला में कौन सी संख्या प्रश्न चिह्न (?) का स्थान लेगी?

55, 56, 64, 91, 155, ?

SSC CHSL -PRE- 08



- 10 shift-2
- (A) 280
 - (B) 265
 - (C) 275
 - (D) 270



SSC CGL 2023- महा मैराथन

Q.60 Select the option in which Figure-X is embedded. (Rotation is not allowed)

उस विकल्प का चयन करें जिसमें चित्र-X


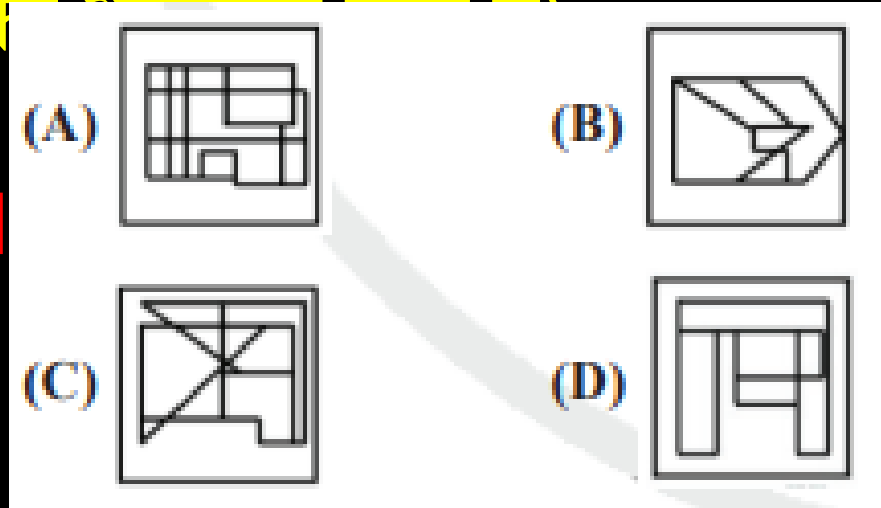


Figure-X



08



SSC CGL 2023- महा मैराथन

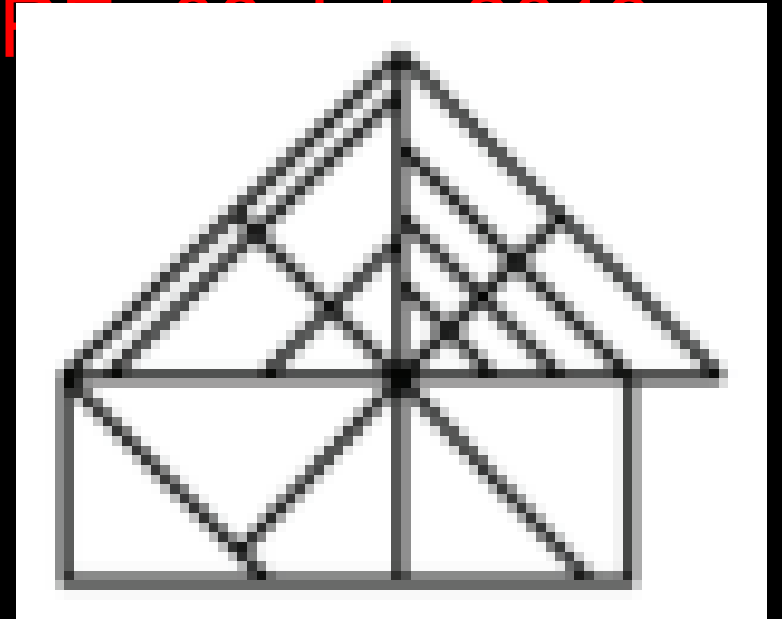
Q.61 How many triangles are present in the given figure?

दी गई आकृति में कितने त्रिभुज मौजूद हैं?

SSC CHSL -PF 2019
shift-2



- (A) 27
- (B) 26
- (C) 24
- (D) 25





SSC CGL 2023- महा मैराथन

Q.62 Three of the following four letter-clusters are alike in a certain way and one is different. Pick the odd one out.

निम्नलिखित चार अक्षर-समूहों में से तीन हैं एक निश्चित तरीके से एक जैसा और एक

0:45

(A) DGJM

(B) BDGJ

(C) TWZC

(D) KNQT

SSC CHSL -PRE- 08 July

11-2

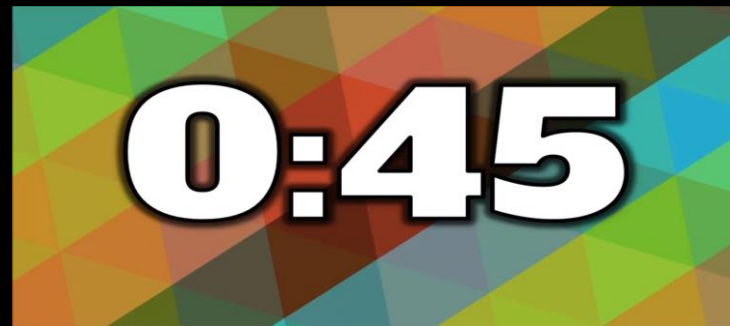


SSC CGL 2023- महा मैराथन

Q.63 Select the word-pair in which the two words are related in the same way as are the two words in the following word-pair.

उस शब्द-जोड़ी का चयन करें जिसमें दो शब्द उसी प्रकार संबंधित हैं जैसे निम्नलिखित शब्द-जोड़ी में दो शब्द हैं।

Temple :



- (A) School : Education / स्कूल : शिक्षा
(B) University : Professor / विश्वविद्यालय : प्रोफेसर
(C) Hotel : Expenditure / होटल : व्यय
(D) Hospital : Doctor / अस्पताल : डॉक्टर



SSC CGL 2023- महा मैराथन

Q.64 In a code language, PROXIMITY is written as ZQTRKAVKO. How will ILLOGICAL be written as in that language?

एक कूट भाषा में, PROXIMITY को ZQTRKAVKO लिखा जाता है। उस भाषा में ILLOGICAL कैसे लिखा जाएगा?

0:45

(A) QNNKINCEK

(B) QMMKIMCEK

(C) RNNLINCEK

(D) QNNLINBEL

SSC CHSL PRE- 08 July

2019 shift-2



SSC CGL 2023- महा मैराथन

Q.65 Select the set in which the numbers are related in the same way as are the numbers of the following set

उस सेट का चयन करें जिसमें संख्याएँ उसी प्रकार संबंधित हैं जैसे निम्नलिखित सेट की संख्याएँ हैं

0:45

5, 115)

(A) (185, 65, 170)

(B) (80, 50, 110)

(C) (185, 70, 95)

(D) (130, 70,

100)

SSC CHSL - PRE - 08 July
Shift-2



SSC CGL 2023- महा मैराथन

Q.66 In the following question, select the related word pair from the given alternatives.

निम्नलिखित प्रश्न में दिए गए विकल्पों में से संबंधित शब्द युग्म का चयन करें।

Ohm : Resistance :: ? : ? / ओम : प्रतिरोध :: ? : ?

0:45

- (A) Temperature : Degree
(B) Hectare : Area
(C) Energy : Watt
(D) Current : Ampere



SSC CGL 2023- महा मैराथन

Q.66 In the following question, select the related number from the given alternatives.

निम्नलिखित प्रश्न में दिए गए विकल्पों में से संबंधित संख्या का चयन करें।

$$16 : 23 :: 22 : ?$$

SSC CHSL -PRE- 08 July



- (A) 34
- (B) 29
- (C) 23
- (D) 31



SSC CGL 2023- महा मैराथन

Q.67 In the following question, select the related letter/letters from the given alternatives.

निम्नलिखित प्रश्न में दिए गए विकल्पों में से संबंधित अक्षर/अक्षर का चयन करें।

GOI : RZT :: FMD : ?

SSC CHSL -PRE- 08 July



- (A) PWN
- (B) QXP
- (C) PWO
- (D) QXO



SSC CGL 2023- महा मैराथन

Q.68 In the following question, select the odd word pair from the given alternatives.

निम्नलिखित प्रश्न में दिए गए विकल्पों में से विषम शब्द युग्म का चयन करें।

SSC CHSL -PRE- 08 July

2019 shift-2



(A) Figure – Rectangle/ आकृति - आयत

(B) Ornament – Ring/आभूषण - अंगूठी

(C) Vehicle – Scooter/वाहन - स्कूटर

(D) Necklace – Ornament/हार - आभूषण



SSC CGL 2023- महा मैराथन

Q.69 In the following question, select the odd letter/letters from the given alternatives.

निम्नलिखित प्रश्न में, दिए गए विकल्पों में से विषम अक्षर/अक्षर का चयन करें।

SSC CHSL -PRE- 08 July

2019 shift-2

0:45

(A) SKC

(B) ZRJ

(C) ZSK

(D) VNF



SSC CGL 2023- महा मैराथन

Q.70 A series is given with one term missing. Select the correct alternative from the given ones that will complete the series.

एक श्रृंखला दी गई है जिसमें एक पद लुप्त है। दिए गए विकल्पों में से वह सही विकल्प चुनें जो श्रृंखला को पूरा करेगा।

0:45

(A) TBW, RTO, OXS, ?

(B) SZW

(C) SWA

(D) SBW

SSC CHSL -PRE- 08 July

hill-2



SSC CGL 2023- महा मैराथन

THANK
YOU