



MISSION SSC 2024



REASONING

**MOST EXPECTED
250 QUESTIONS**

SUPER SERIES (DAY-2)

 **LIVE 07:00 PM**





Most Expected 250 Questions (Super Series)



a) Only II follows/केवल II अनुसरण करती है।

b) Both I and II follow/I और II दोनों अनुसरण करती हैं।

c) Neither I nor II follows/न तो I और न ही II अनुसरण करती है।

d) Only I follows/केवल I अनुसरण करती है।

Q.1 Statement: There is a large increase in migration of villagers to urban areas as repeated crop failure has put them into financial problems.

कथन: शहरी क्षेत्रों में ग्रामीणों के प्रवास में भारी वृद्धि हुई है क्योंकि बार-बार फसल खराब होने से उन्हें वित्तीय समस्याओं में डाल दिया है।

Course of action:/कार्रवाई:

I. The villagers should be provided with an alternate source of income in their villages which will make them stay there only.

I. ग्रामीणों को उनके गांवों में आय का एक वैकल्पिक स्रोत प्रदान किया जाना चाहिए जो उन्हें वहीं रहने देगा।

II. To ensure their survival, the migrated villagers should be given access to all housing options in urban areas.

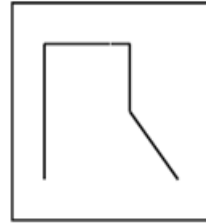
II. उनके अस्तित्व को सुनिश्चित करने के लिए, विस्थापित ग्रामीणों को शहरी क्षेत्रों में आवास के सभी विकल्पों तक पहुंच प्रदान की जानी चाहिए।



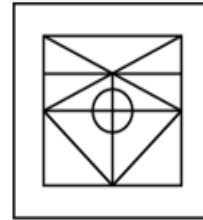
Most Expected 250 Questions (Super Series)



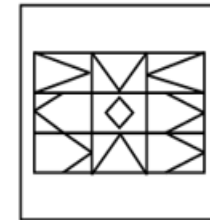
Q.2 निम्नलिखित में से किस उत्तर आकृति में, नीचे की आकृति छिपी / सन्निहित है? / In which of the following answer figures, the below figure is hidden/embedded?



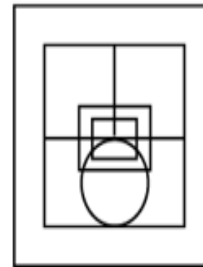
A]



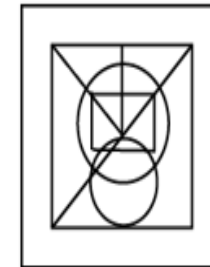
B]



C]



D]



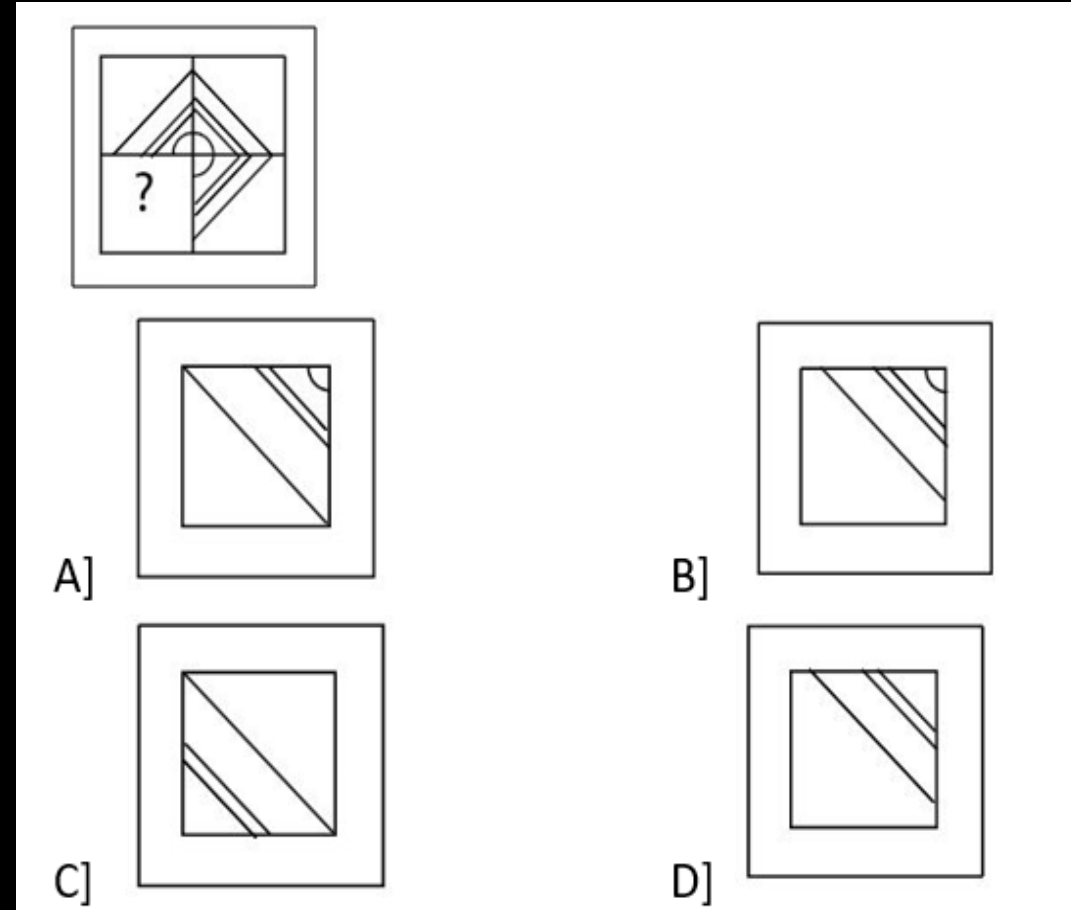


Most Expected 250 Questions (Super Series)



Q.3 नीचे दिए गए आंकड़े में लुप्त भाग ज्ञात करें। /

Find the missing part in the below figure





Most Expected 250 Questions (Super Series)



Q 4 If A is sister of B. B is wife of C. C is son of D, how is A related to D? / यदि A, B की बहन है। B, C की पत्नी है। C, D का पुत्र है। A, D से कैसे संबंधित है?



A] Daughter / बेटी B] Niece / भांजी

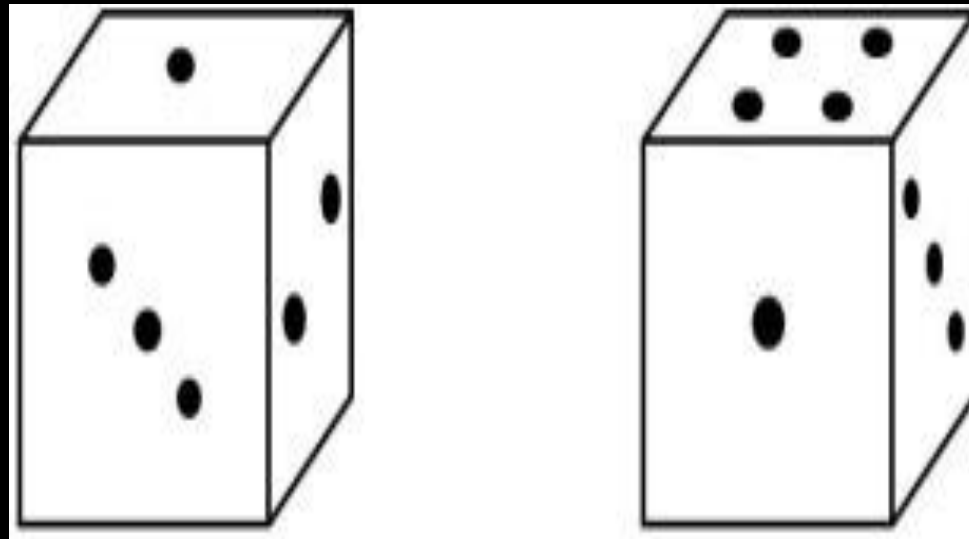
C] Daughter-in-law/ बहु D] Sister-in-law / ननद



Most Expected 250 Questions (Super Series)



Q.5 एक घन के दो पदों को नीचे दिखाया गया है। निम्नलिखित में से कौन-सा चेहरा निम्नलिखित घन में 2 डॉट्स धारण करने वाला होगा? / Two positions of a cube is shown below. Which of the following will be opposite to the face bearing 2 dots in the following cube?



- A] 2 B] 3
C] 1 D] 4



Q.6 In the question below, the two figures on the left of ‘::’ follow relationship. Which figure should replace the ‘?’ so the figures on the right of ‘::’ should follow the same relationship? / नीचे दिए गए प्रश्न में, ‘::’ के बाईं ओर दो चित्र एक संबंध का पालन करते हैं। कौन सा चित्र ‘?’ को प्रतिस्थापित करेगा ताकि ‘::’ के दाईं ओर वाले चित्र भी समान संबंध का अनुपालन करें ?



Diagram illustrating a relationship between two pairs of figures. The first pair shows a box containing a rectangle, an upward arrow, and a circle, followed by a colon and a box containing a circle, a downward arrow, and a rectangle. This is followed by a double colon and a second pair: a box containing an upward arrow, a triangle, and a rectangle, followed by a colon and a box containing a question mark.

Four options are provided:

- A) A box containing a rectangle, a downward arrow, and an inverted triangle.
- B) A box containing a rectangle, a downward arrow, and a triangle.
- C) A box containing a rectangle, an upward arrow, and a triangle.
- D) A box containing a rectangle, a downward arrow, and a triangle.



Most Expected 250 Questions (Super Series)



Q.7 अनुक्रम में लुप्त शब्द को पहचानें: / Identify
the missing term in the sequence

EV, TG, IR, ?, MN



A| JQ

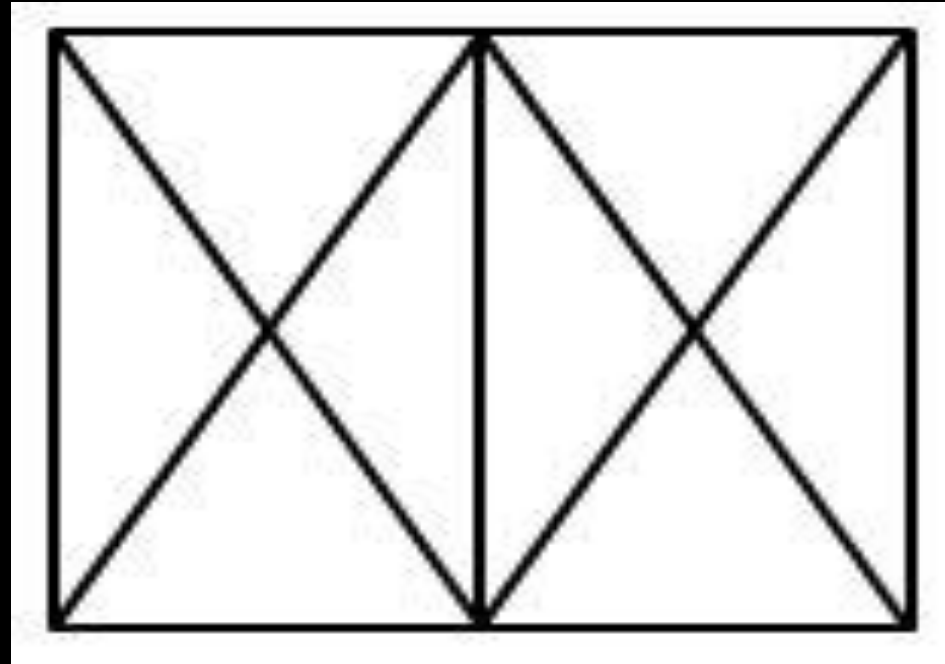
B| OL

C| LO

D| PK



Q.8 Count the number of triangles in the given figure / दिए गए आंकड़े में त्रिभुज की संख्या गिनें



A] 18

B] 10

C] 8

D] 22



Most Expected 250 Questions (Super Series)



Q.9 The second number in the given number-pairs is obtained by performing certain mathematical operation(s) on the first number. The same operation(s) are followed in all the number-pairs **EXCEPT** one. Find that odd number-pair.

दी गई संख्या-युग्मों में दूसरी संख्या पहली संख्या पर कुछ गणितीय संक्रियाएँ करके प्राप्त की जाती है। एक को छोड़कर सभी संख्या-युग्मों में एक ही संक्रिया का अनुसरण किया जाता है। वह विषम संख्या-युग्म ज्ञात कीजिए।



- a) 169 : 14
- b) 225 : 18
- c) 196 : 17
- d) 256 : 19



कथन: शहर के लोगों की एक बड़ी संख्या का मलेरिया रोग से पीड़ित होने का पता चला है।

कार्रवाइयाँ: 1. शहर के नगरपालिका अधिकारियों को शहर में व्यापक धूमन करने के लिए तत्काल कदम उठाने चाहिए।

II. क्षेत्र के लोगों को मच्छरों के काटने से बचने के लिए कदम उठाने की सलाह दी जानी चाहिए।

Q.10 Statement: A large number of the people of the city are diagnosed to be suffering from Malaria disease.

Course of Action:

I. The city municipal authorities should take immediate steps to carry out extensive fumigation in the city.

II. The people in the area should be advised to take steps to avoid mosquito bites.

1. Both I and II follow

2. Only II follows

3. Only I follows

4. Neither I nor II follows





Q.11 निम्नलिखित प्रश्नों में, दिए गए विकल्पों में से विषम संख्या / अक्षर / शब्द युग्म ज्ञात कीजिए। / In the following questions, find the odd number/letters /word pair from the given alternatives.



A] 20 - 81 B] 12 - 36

C] 34 - 289 D] 42 - 441



Most Expected 250 Questions (Super Series)



Q.12 Find the option which should replace (?), so that the second pair shares the same relation as the first pair. / उस विकल्प का पता लगाएं जो (?) को इस प्रकार प्रतिस्थापित कर सके, ताकि दूसरी जोड़ी पहले जोड़ी के समान संबंध साझा करे।

भारत: ताज महल :: ब्राजील: ? / India : Taj Mahal :: Brazil : ?



A] The colloseum / कोलोसुअम

B] Football / फुटबॉल

C] Petra / पेट्रा

D] Christ the Redeemer / क्राइस्ट द रिडीमर



Most Expected 250 Questions (Super Series)



Q.13 दिए गए विकल्पों में से संख्याओं के समुच्चय को चुनिए जो दिए गए समुच्चय के समान है।/ Choose the set of numbers from the given alternatives that is similar to the given set. $(16,41,1)$



A] (9,37,49) B] (17,43,19)

C] (12,18,24) D] (16,24,36)



Most Expected 250 Questions (Super Series)



Q.14 In the following question, select the related number from the given alternatives.

/ निम्नलिखित प्रश्न में दिए गए विकल्प से संबंधित संख्या का चयन करें।

18 : 83 :: 46 : ?



A] 118

B] 98

C] 104

D] 132



Most Expected 250 Questions (Super Series)



Q.15 If '+' means '×', '-' means '÷', '×' means '-', '÷' means '+', then find the value of $84-21+2\times 6\div 14$ / यदि '+' का अर्थ है '×', '-' का अर्थ है '÷', '×' का अर्थ है '-', '÷' का अर्थ है '+', तब $84-21+2\times 6\div 14$ का मान ज्ञात करें।



A] 12

B] 26

C] 18

D] 16



Most Expected 250 Questions (Super Series)



Q.16 निम्नलिखित प्रश्न में, दिए गए अक्षर श्रृंखला में अंतराल पर क्रमिक रूप से रखे गए अक्षरों में से कौन सा एक इसे पूरा करेगा? / In the following question, which one set of letters when sequentially placed at the gaps in the given letter series shall complete it?

x_za_yza_xy_aa_



A] yxaaz

B] yxzaa

C] yxzza

D] yxaza



Q.17 Find the missing number ?

लुप्त संख्या ढूँढें?

13	54	?
7	45	32
27	144	68



A .4

B .6

C .36

D .42



Most Expected 250 Questions (Super Series)



Q.18 Select the correct combination of mathematical signs to sequentially replace the * signs and to balance the given equation.

दिए गए समीकरण को संतुलित करने के लिए * चिह्नों को क्रमिक रूप से प्रतिस्थापित करने के लिए गणितीय चिह्नों के सही संयोजन का चयन कीजिए।

$$25 * 5 * 10 * 2 * 8 * 44$$



a) $\div, \times, +, -, =$

b) $\times, \div, -, +, =$

c) $\div, \times, -, +, =$

d) $-, +, \div, \times, =$



Q.19 Arrange the words as they would appear in a dictionary / शब्दों को शब्दकोश में आने वाले क्रम के अनुसार व्यवस्थित करें।

1. spectrum
2. specimen
3. spectacular
4. specification



A] 4,2,3,1

B] 1,3,4,2

C] 3,1,2,4

D] 2,4,1,3



Most Expected 250 Questions (Super Series)



Q.20 वक्तव्य 1: सभी फोन डेस्कटॉप हैं। / Statement 1: All phones are desktops.

विवरण 2: सभी कंप्यूटर टीवी हैं। / Statement 2: All computers are televisions.

विवरण 3: कोई डेस्कटॉप कंप्यूटर नहीं है। / Statement 3: No desktop is a computer.

निष्कर्ष I: कुछ टीवी फोन हो सकते हैं। / Conclusion I: Some televisions can be phones.

निष्कर्ष II: कोई कंप्यूटर एक फोन नहीं है। / Conclusion II: No computer is a phone.

A] केवल निष्कर्ष I में अनुसरण करता हूँ / Only Conclusion I follows

B] केवल निष्कर्ष द्वितीय का पालन करता है / Only Conclusion II follows

C] कोई निष्कर्ष नहीं है / No Conclusion follows

D] निष्कर्ष I और निष्कर्ष II दोनों का पालन करता है / Both Conclusion I and Conclusion II follows

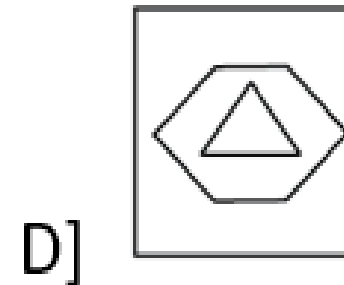
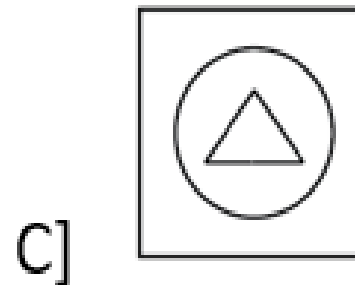
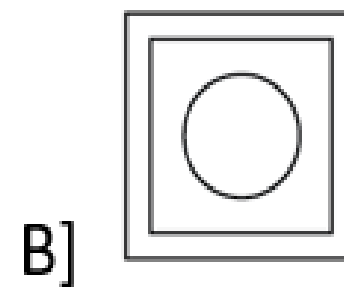
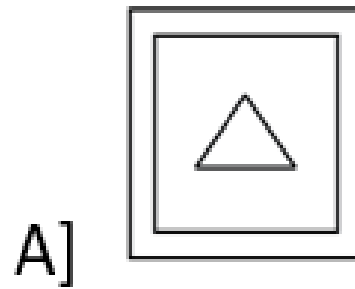
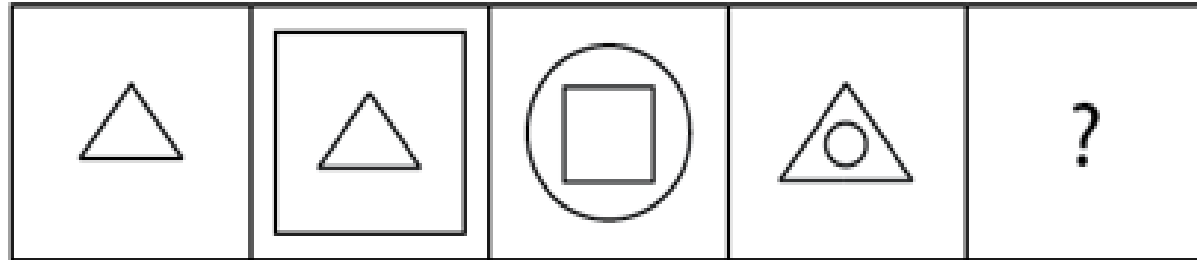




Most Expected 250 Questions (Super Series)



Q.21 Choose the figure which should come next in the series. / उस आंकड़े को चुनें जो श्रृंखला में आगे आना चाहिए।





Most Expected 250 Questions (Super Series)



Q.22 विकल्प को खोजें जो (?) को इस प्रकार प्रतिस्थापित करे कि, दूसरी जोड़ी पहली जोड़ी के समान संबंध साझा करे। / Find the option which should replace (?), so that the second pair shares the same relation as the first pair.

PS : OT :: ? : FV



A] GX

B] TX

C] AN

D] GU



Most Expected 250 Questions (Super Series)



Q.23 Three of the following four are alike in a certain way and so form a group. Which is the one that does not belong to that group? / निम्नलिखित चार में से तीन एक निश्चित तरीके से समान हैं और इसलिए एक समूह बनाते हैं। वह कौन सा है जो उस समूह से संबंधित नहीं है?



A] Wheat / गेहूँ B] Maize / मक्का

C] Sugarcane / गन्ना D] Rice / चावल



Most Expected 250 Questions (Super Series)



Q. 24 दी गई प्रतिक्रियाओं में से कौन सा निम्नलिखित शब्दों का आरोही क्रम में एक अर्थपूर्ण क्रम होगा? / Which one of the given responses would be a meaningful order of the following words in ascending order?

1. जवान आदमी / Young man
2. किशोरावस्था / Adolescent
3. बच्चे / Child
4. बूढ़ा आदमी / Old man



A] 4123

B] 3124

C] 3214

D] 4321



Most Expected 250 Questions (Super Series)



Q.25 Select the related word/letters/number from the given alternatives. / दिए गए विकल्पों में से संबंधित शब्द / अक्षर / संख्या को चुनिए।

Bournvita : Cadbury :: Boost : ? / बोर्नविटा: कैडबरी :: बूस्ट:?



- A] Dabur / डाबर B] GSK / जीएसके**
C] ITC / आईटीसी D] Marico / मैरिको



Most Expected 250 Questions (Super Series)



a) Data in statement II alone is sufficient to answer the question while data in statement I is not.

b) Data in statement I alone is sufficient to answer the question while data in statement II is not.

c) Data in statements I and II together are not sufficient to answer the question.

d) Data in statements I and II together are sufficient to answer the question

Q.26 Six people - A, B, C, D, E and F are sitting in a straight line facing north. Who sits to the immediate left of D?

छह व्यक्ति - A, B, C, D, E और F एक सीधी पंक्ति में उत्तर की ओर उन्मुख होकर बैठे हैं। D के निकटतम बायें कौन बैठा है?

(I) A sits second from one of the extreme ends of the line. Only two people sit between A and B. E sits to the immediate right of C.

(I) A पंक्ति के किसी एक अंतिम छोर से दूसरे स्थान पर बैठा है। A और B के मध्य केवल दो व्यक्ति बैठे हैं। E, C के निकटतम दायें बैठा है।

(II) C sits third from the left end of the line. Only one person sits between C and F. E sits third to the right of F.

(II) C पंक्ति के बायें छोर से तीसरे स्थान पर बैठा है। C और F के मध्य केवल एक व्यक्ति बैठा है। E, F के दायें से तीसरे स्थान पर बैठा है।



Q.27 शब्दों को शब्दकोश में आने वाले क्रम के अनुसार व्यवस्थित करें | / Arrange the words as they would appear in a dictionary

1. surrogate

2. surround

3. surveillance

4. survival



A] 1,2,3,4

B] 2,4,3,1

C] 3,1,4,2

D] 3,2,1,4



Q.28 If $49 \$ 7 \# 21 = 35$ and $29 \$ 8 \# 14 = 23$, then find the value of $17 \$ 4 \# 13$ /
यदि $49 \$ 7 \# 21 = 35$ और $29 \$ 8 \# 14 = 23$ है, तो $17 \$ 4 \# 13$ का मान ज्ञात करें



A] 11 B] 5

C] 8 D] 12



Q.29 निम्न में से कौन सी संख्या दिए गए क्रम में प्रश्न चिह्न को बदल देती है? / Which of the following numbers replaces the question mark in the given sequence?

2, 4, 32, 576, ?



A] 1236

B] 1048

C] 894

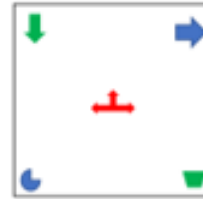
D] None of these



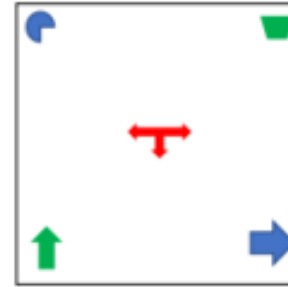
Most Expected 250 Questions (Super Series)



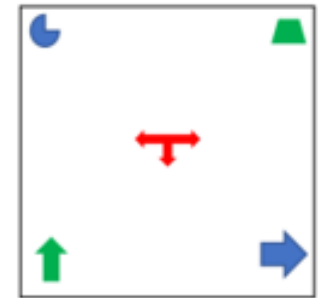
Q.30 Find the water reflection of the given image: / दिए गए चित्र का पानी प्रतिबिंब देखें:



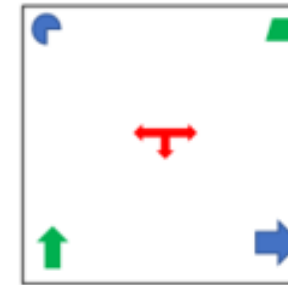
A]



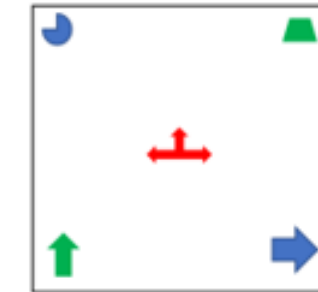
B]



C]



D]





THANK YOU