



# MISSION SSC 2024



## REASONING

### MOST EXPECTED 250 QUESTIONS

### SUPER SERIES ( DAY-10 )

 LIVE 07:00 PM





# Most Expected 250 Questions (Super Series)



Q.1 If a mirror is placed on the line AB, then which of the answer figures is the image of the given figure?/यदि एक दर्पण को AB रेखा पर रखा जाए, तो दी गई उत्तर आकृतियों में से कौन सी आकृति प्रश्न आकृति की सही प्रतिबिम्ब होगी?

<b>A</b> 	<b>B</b> 
<b>C</b> 	<b>D</b> 





# Most Expected 250 Questions (Super Series)



Q.2 In a certain code language, '+' represents 'x', '-' represents '+', 'x' represents '÷' and '÷' represents '-'. What is the answer to the following question? / किसी कोड भाषा में, '+' का मतलब 'x' है, '-' का मतलब '+' है, 'x' का मतलब '÷' है और '÷' का मतलब '-' है। निम्नलिखित प्रश्न का उत्तर क्या है?  $72 \times 9 - 14 + 2 = ?$



A) 20

B) 86

C) 30

D) 36



**Q.3** Arrange the given words in the sequence in which they occur in the dictionary. / निम्नलिखित शब्दों को शब्दकोश में आने वाले क्रम के अनुसार लिखे।

1. Feeble
2. From
3. Floor
4. Foam
5. Fluorescent



A) 13542

B) 15342

C) 13524

D) 15324



# Most Expected 250 Questions (Super Series)



**Q.4 A man is facing towards the east. He turns 270 degrees clockwise and then takes a right turn. Finally, he turns 90 degrees anticlockwise. Which direction is he facing now? / एक व्यक्ति पूर्व की ओर मुहँ किए हुए है। वह 270 डिग्री पर घड़ी की सुई के चलने की दिशा में मुड़ जाता है और फिर दाएं मुड़ जाता है। अंत में, वह 90 डिग्री पर घड़ी की सुई के चलने के विपरीत दिशा में मुड़ जाता है। अब वह किस दिशा की ओर मुह करके खड़ा है?**



- A) West / पश्चिम B) South / दक्षिण  
C) North / उत्तर D) East / पूर्व**



# Most Expected 250 Questions (Super Series)



**Q.5 In a certain code language, "HIT" is written as "38" and "BIT" is written as "32". How is "ION" written in that code language? / एक विशिष्ट कोड भाषा में, "HIT" को "38" तथा "BIT" को "32" लिखा जाता है। इस कोड भाषा में "ION" को किस प्रकार लिखा जाएगा?**



**A) 38**

**B) 39**

**C) 40**

**D) 37**



## Most Expected 250 Questions (Super Series)



**Q.6 Preeti is the daughter of Rajesh and Amit is the son of Ankita. Rajesh is the only son of Rajan. Ankita is the daughter-in-law of Rajan. How is Preeti related to Amit? / प्रीति, राजेश की बेटी है और अमित, अंकिता का बेटा है। राजेश, राजन का इकलौता बेटा है। अंकिता, राजन की बहू है। प्रीति, अमित से कैसे संबंधित है?**



- A) Sister / बहन      B) Mother / माँ**  
**C) Cousin / चचेरी बहन      D) Aunt / चाची**



# Most Expected 250 Questions (Super Series)



Q.7 Present ages of M and N are in the ratio 7 : 8 respectively. After five years, this ratio becomes 8 : 9. What is the present age (in years) of M? /  
M तथा N की वर्तमान आयु क्रमशः 7 : 8 के अनुपात में है। पाँच वर्ष पश्चात, यह अनुपात 8 : 9 हो जाता है। M की वर्तमान आयु (वर्षों में) क्या है?



A) 35

B) 40

C) 45

D) 30





# Most Expected 250 Questions (Super Series)



**Q.8 In the following question, select the related word from the given alternatives. / निम्नलिखित प्रश्न में, दिए गए विकल्पोंमें से संबंधित शब्द को चुनिए। Wines: Brewery:: Coin:?** / शराब: शराब की भट्टी :: सिक्का:?



- A) Locker / Locker    B) Wallet / Wallet**  
**C) Mint / Mint    D) Safe / Safe**



**Q.9** In the following question, select the related number from the given alternatives./ निम्नलिखित प्रश्न में, दिए गए विकल्पों में से संबंधित संख्या को चुनिए।

$$12 : 169 :: 14 : ?$$



A) 125

B) 225

C) 625

D) 425



**Q.10** In the following question, select the odd word from the given alternatives. / निम्नलिखित प्रश्न में दिए गए विकल्पों में से विषम शब्द को चुनिए।



- A) Mobile phone / सचल दूरभाष यंत्र
- B) Laptop / लैपटॉप
- C) Television / टेलीविजन
- D) Cathode Rays / कैथोड किरणें



## Most Expected 250 Questions (Super Series)



**Q.11** Vikram remembers that his son Vihan's birthday is after 25th December. Vikram's wife remember that Vihan's birthday is after 23rd December but before 27th December. On which date of December is Vihan's birthday? विक्रम को याद है की उसके पुत्र विहान का जन्मदिन 25 दिसम्बर के बाद है। विक्रम की पत्नी को याद है की विहान का जन्मदिन 23 दिसम्बर के बाद लेकिन 27 दिसम्बर से पहले है। विहान का जन्मदिन दिसम्बर की कौन-सी तारीख को है?



- A) 23      B) 24  
C) 25      D) 26



# Most Expected 250 Questions (Super Series)



Q.12 If  $23\$35 = 13$ ,  $3\$5 = 8$ , then what is the value of  $4\$13$ ? /

यदि  $23\$35 = 13$ ,  $3\$5 = 8$  हो, तो  $4\$13$  का मान ज्ञात कीजिये।



- A) 8      B) 14  
C) 6      D) 49



# Most Expected 250 Questions (Super Series)



Q.13 Select the related word/letter/number from the given alternatives. / दिए गए विकल्पों में से सम्बंधित शब्द/अक्षर/संख्या को चुनिए।

FGH : ? :: QRS : SUW



- A) OPQ      B) GHI  
C) HIJ      D) HJL



**Q.14** From the given alternative words, select the word which cannot be formed using the letters of the given word: / निम्नलिखित विकल्पों में से वह शब्द चुनिए जो दिए गए शब्द के अक्षरों का प्रयोग करके नहीं बनाया जा सकता:

**ELABORATE**



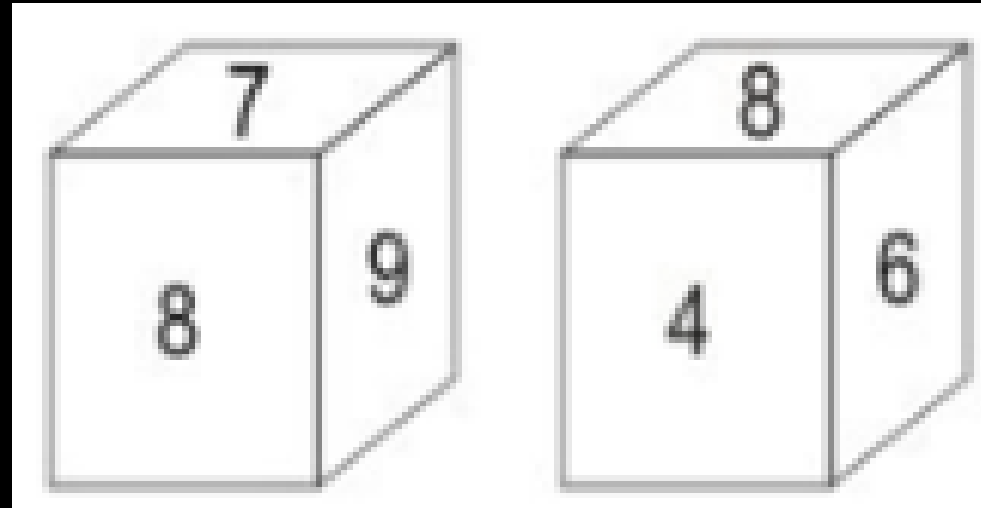
- A) BRUTAL    B) RELATE**  
**C) EARLOBE    D) BERATE**



# Most Expected 250 Questions (Super Series)



Q.15 Two positions of a cube are shown below. What will come opposite to face containing '9'? / नीचे एक घन की दो अवस्थाएँ दर्शायी गयी हैं। '9' युक्त फलक के विपरीत क्या आयेगा?



- A) 7      B) 4  
C) 6      D) 4 or 6 / 4 अथवा 6





**Q.16 Statements: / कथन:**

**I. All bags are tables. / सभी बस्ते मेंज़ हैं।**

**II. No table is red. / कोई मेंज़ लाल नहीं है।**

**Conclusions: / निष्कर्ष:**

**I. Some bags are red. / कुछ बस्ते लाल हैं।**

**II. All bags are red. / सभी बस्ते लाल हैं।**

- A) Only conclusion (I) follows. / केवल निष्कर्ष (I) सही है।**
- B) Only conclusion (II) follows. / केवल निष्कर्ष (II) सही है।**
- C) Neither conclusion (I) nor conclusion (II) follows. / न तो निष्कर्ष (I) और न ही निष्कर्ष (II) सही है।**
- D) Both conclusions follow. / दोनों ही निष्कर्ष सही है।**

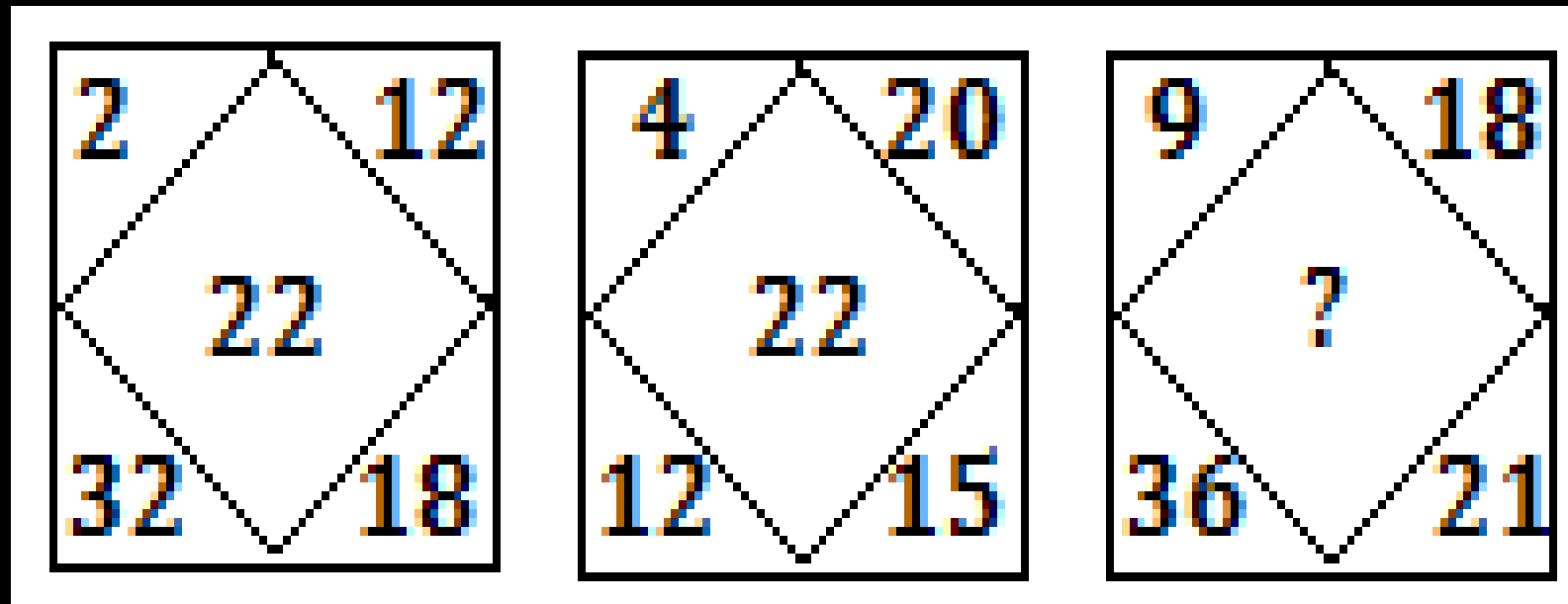


# Most Expected 250 Questions (Super Series)



Q.17 FIND THE MISSING NUMBER ?

लुप्त संख्या ढूँढें?



- A .22
- B .34
- C .36
- D .42



# Most Expected 250 Questions (Super Series)



Q.18 In the following question, select the odd number from the given alternatives. / निम्नलिखित प्रश्न में दिए गए विकल्पों में से विषम संख्या को चुनिए।



A) 362

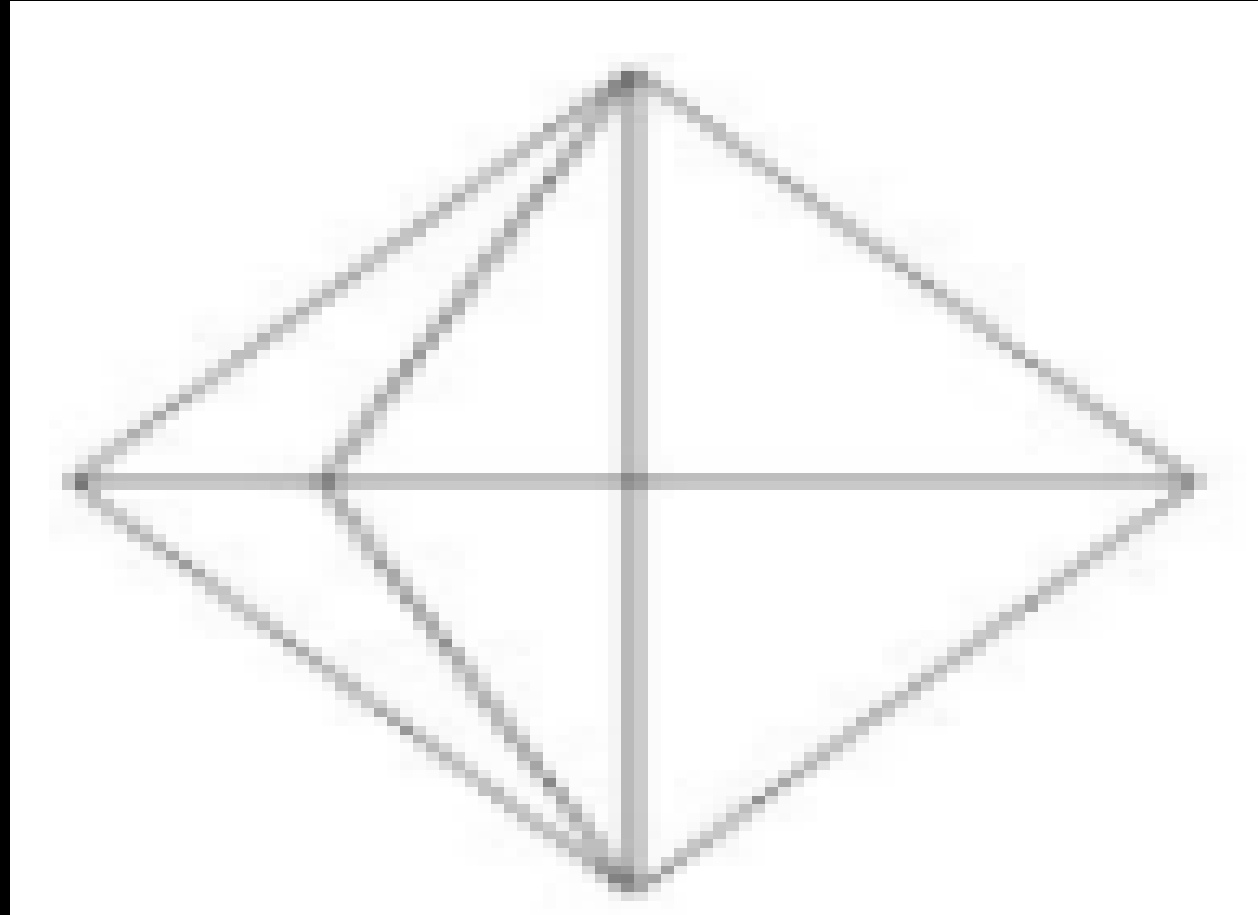
B) 442

C) 26

D) 23



Q.19 How many triangles are there in the given figure? / दी गई आकृति में कितने त्रिभुज हैं?



- A) 12
- B) 13
- C) 15
- D) 18



# Most Expected 250 Questions (Super Series)



Q.20 Which set of letters when sequentially placed at the gaps in the given letter series shall complete it? / अक्षरों का कौन सा समूह खाली स्थानों पर क्रमवार रखने से दी गई अक्षर श्रृंखला को पूरा करेगा?

s \_ r \_ t \_ s \_ r



A) trts

B) rtst

C) tsrt

D) tsss



# Most Expected 250 Questions (Super Series)



Q.21 In the following question, select the number which can be placed at the sign of question mark (?) from the given alternatives. / निम्नलिखित प्रश्न में, दिए गए विकल्पों में से प्रश्न चिन्ह (?) के स्थान पर आने वाली संख्या को चुनिए।

7	4	2	14
3	5	6	15
6	1	4	?



A) 10

B) 11

C) 12

D) 14



# Most Expected 250 Questions (Super Series)



Q.22 From the given answer figure, select the one in which the question figure is hidden/embedded. / दी गई उत्तर आकृतियों में से उस उत्तर आकृति को चुनिए जिसमें प्रश्न आकृति निहित है।



<b>A</b> 	<b>B</b> 
<b>C</b> 	<b>D</b> 



# Most Expected 250 Questions (Super Series)



Q.23 A series is given with one term missing. Choose the correct alternative from the given ones that will complete the series. / एक अनुक्रम दिया गया है, जिसमें से एक पद लुप्त है। दिए गए विकल्पों में से वह सही विकल्प चुनिए जो अनुक्रम को पूरा करे।

DM, EN, FO, ?



- A) FG      B) HI  
C) GP      D) HP





**Q.24** The last bus from Meerut to Delhi leaves at 10:00 pm if the buses are on leaves at the same interval of every 3 hours and there are 6 buses in total then when will the third bus leave for Delhi?

मेरठ से दिल्ली के लिए अंतिम बस 10:00 बजे निकलती है यदि बसें हर 3 घंटे के समान अंतराल पर चलती हैं और कुल 6 बसें हैं तो तीसरी बस दिल्ली के लिए कब रवाना होगी?



- (A) 1 A.M.
- (B) 7 P.M.
- (C) 1 P.M.
- (D) 7 A.M.



## Most Expected 250 Questions (Super Series)



**Q.25** In a row of people, there are 12 people before Q. There are 4 people between P and Q. There are 15 people between Q and S. If there are 8 people between S and R, then how many minimum people are there in the row? / लोगों की एक पंक्ति में, Q से पहले 12 लोग हैं। P तथा Q के मध्य में 4 लोग हैं। Q तथा S के मध्य में 15 लोग हैं। यदि S तथा R के मध्य में 8 लोग हैं, तो पंक्ति में कम से कम कितने लोग हैं?



A) 29

B) 32

C) 36

D) 37



# Most Expected 250 Questions (Super Series)



**Q.26** In the following question, select the missing number from the given series. / निम्नलिखित प्रश्न में दिए गए विकल्पों में से लुप्त अंक ज्ञात कीजिए।

**67, 70, 74, 77, 81, 84, ?**



**A) 87**

**B) 88**

**C) 86**

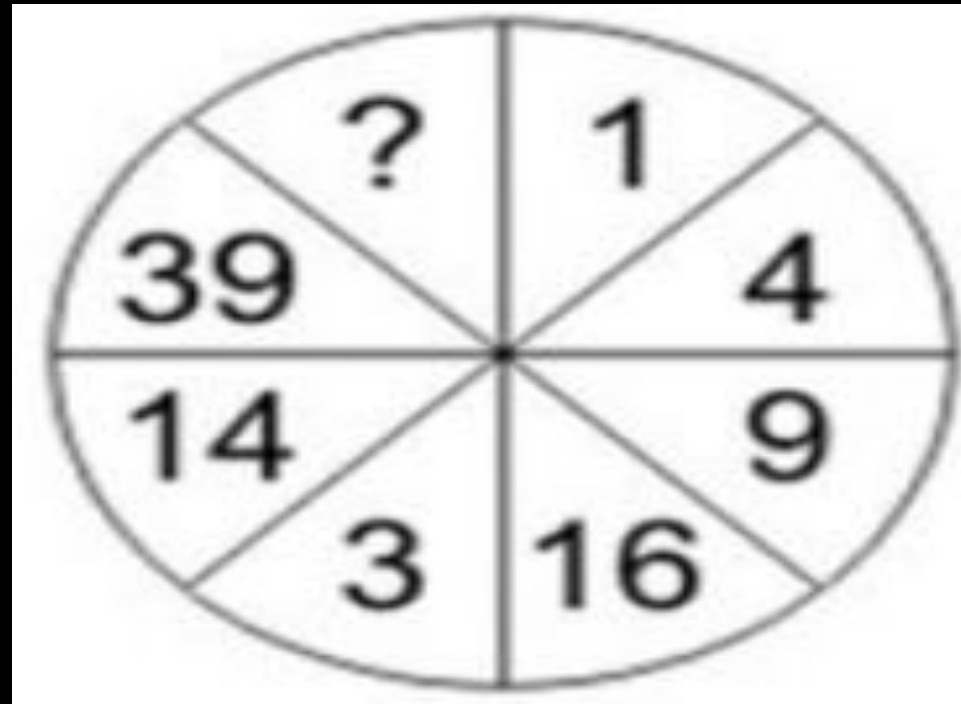
**D) 89**



# Most Expected 250 Questions (Super Series)



**Q.27** In the following question, select the number which can be placed at the sign of question mark (?) from the given alternatives. / निम्नलिखित प्रश्न में दिए गए विकल्पों में से प्रश्न चिन्ह (?) के स्थान पर आने वाली संख्या को चुनिए।



- A) 84
- B) 91
- C) 83
- D) 95



**Q.28** In a certain code language, “RESTED” is written as “SDTSFC” and “POINTS” is written as “QNJMUR”. How is “BANNED” written in that code language? / एक विशिष्ट कोड भाषा में, “RESTED” को “SDTSFC” लिखा जाता है तथा “POINTS” को “QNJMUR” लिखा जाता है। इस कोड भाषा में “BANNED” को किस प्रकार लिखा जाएगा?



**A) CZOMFC**

**B) ABMODE**

**C) CZOODE**

**D) ABMMFC**



# Most Expected 250 Questions (Super Series)



Q.29 If "x" denotes "added to", " $\div$ " denotes "subtracted from", "+" denotes "divided by" and "-" denotes "multiplied by", then  $14 \times 12 - 16 \div 18 = ?$  / यदि "x" का अर्थ "जोड़" है, " $\div$ " का अर्थ "घटाव" है, "+" का अर्थ "भाग" है तथा "-" का अर्थ "गुणा" है, तो  $14 \times 12 - 16 \div 18 = ?$



A) 430

B) 180

C) 168


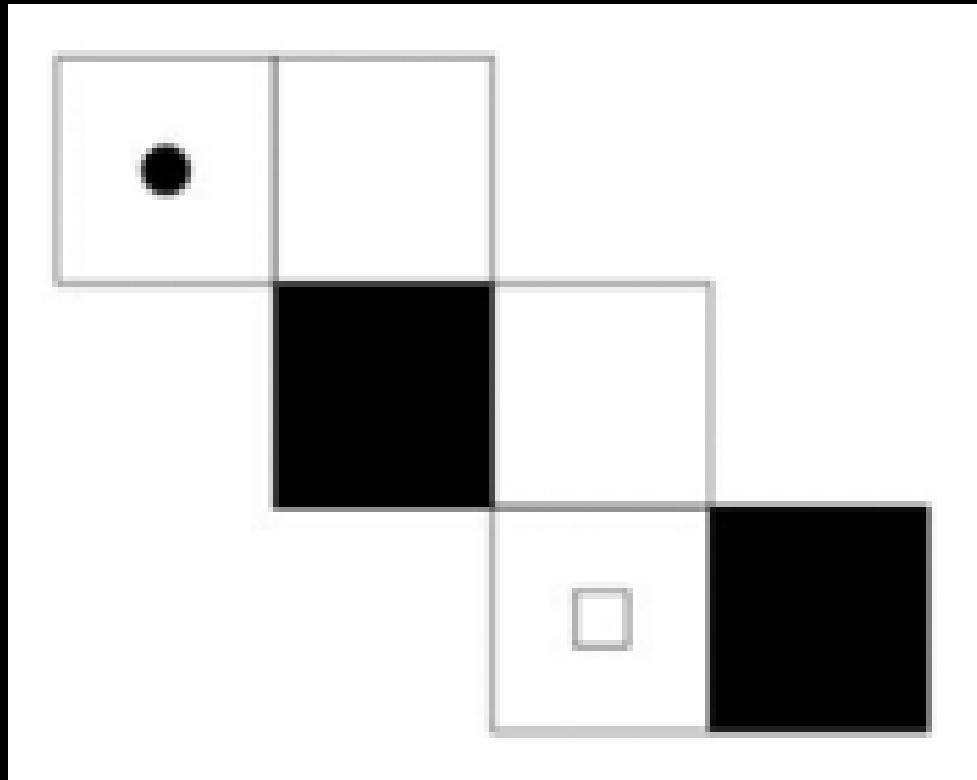
D) 188



# Most Expected 250 Questions (Super Series)



**Q.30 From the given option, which answer figure can be formed by folding the figure given in the question? / निम्नलिखित विकल्पों में से कौन सी उत्तर आकृति प्रश्न में दी गई आकृति को मोड़कर बनाई जा सकती है?**





# THANK YOU