



MISSION SSC 2024



REASONING

**MOST EXPECTED
250 QUESTIONS**

SUPER SERIES (DAY-9)

LIVE 07:00 PM





Most Expected 250 Questions (Super Series)



(a) Only Assumption 2 is implicit

(b) Both 1 and 2 are implicit.

(c) Only Assumption 1 is implicit

(d) Neither 1 nor is 2 implicit.

Q.1 A top university has cut the syllabus of Class 12 Mathematics.

एक शीर्ष विश्वविद्यालय ने कक्षा 12 के गणित के पाठ्यक्रम में कटौती की है।

Assumptions / अनुमान :

1. Students can score more marks than before.

1. छात्र पहले की तुलना में अधिक अंक ला सकते हैं।

2. This has been done to reduce the stress and burden of maths in the students.

2. यह छात्रों में गणित के तनाव और बोझ को कम करने के लिए किया गया है।

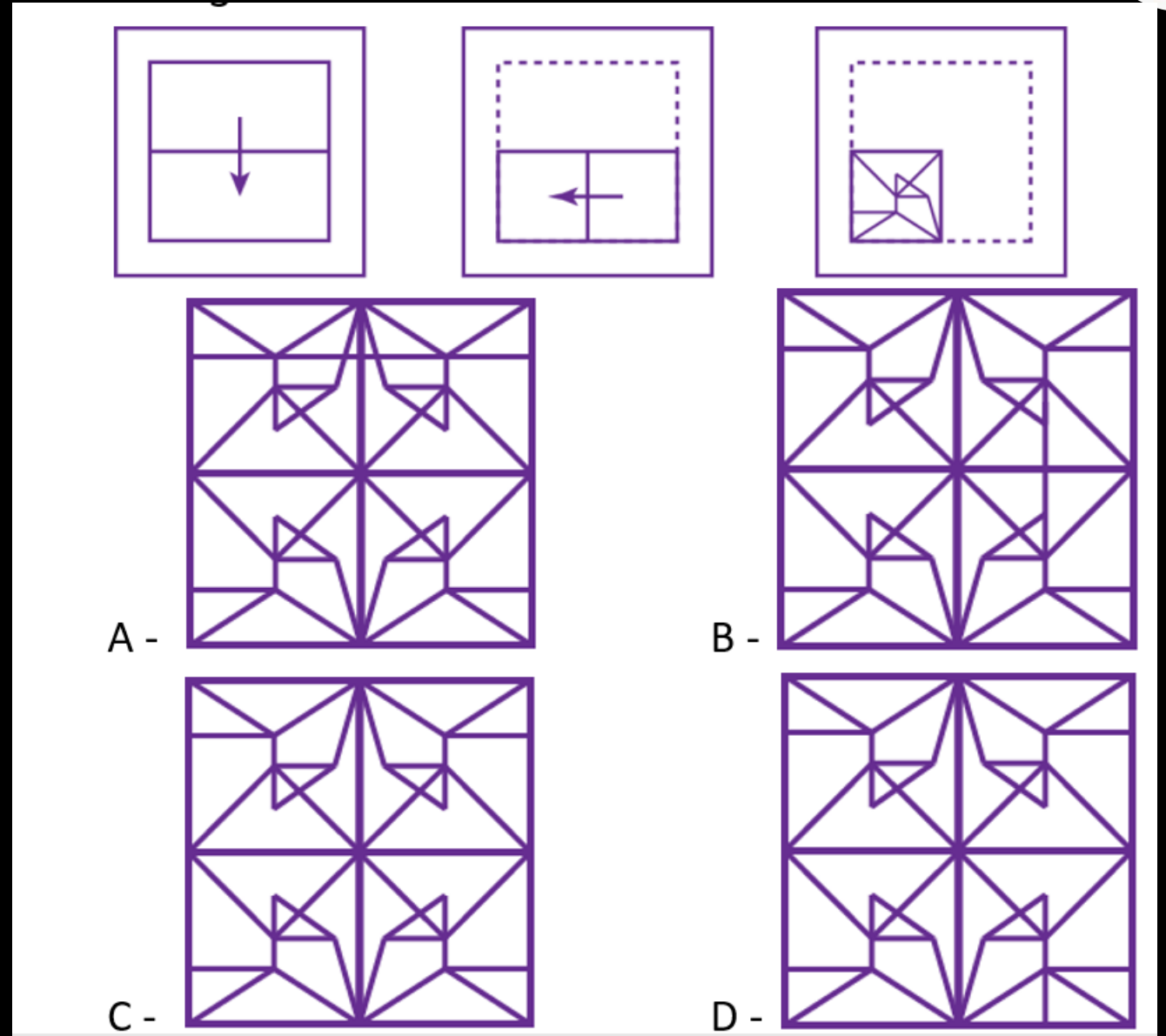




Most Expected 250 Questions (Super Series)



Q.2 कागज का एक टुकड़ा मुड़ा और मुड़ा हुआ है जैसा कि नीचे दिए गए प्रश्न के आंकड़ों में दिखाया गया है। दिए गए उत्तर के आंकड़ों से, इंगित करें कि खोला जाने पर यह कैसे दिखाई देगा। / A piece of paper is folded and punched as shown below in the question figures. From the given answer figures, indicate how it will appear when opened.





Most Expected 250 Questions (Super Series)



Q.3 Statements: / कथन: Some dream are sleep. / कुछ dream sleep हैं। All sleep are mind. / सभी sleep mind हैं।

All mind are think. / सब mind think हैं।

Conclusions: / निष्कर्ष: I. All dream being think is a possibility. / सभी dream के think होने की संभावना है।

II. Each sleep are think. / प्रत्येक sleep think है।



A - Only conclusion I follows

B - Only conclusion II follows

C - Both conclusions I and II follow

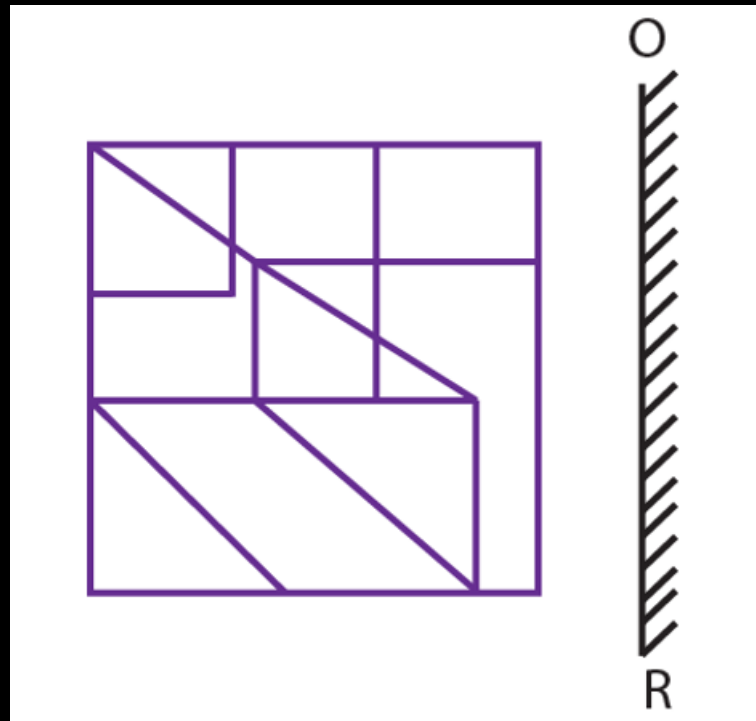
D - Neither conclusion I nor II follows



Most Expected 250 Questions (Super Series)



Q.4 यदि एक दर्पण को लाइन पर रखा जाता है या, तो दिए गए आंकड़े में से कौन सी उत्तर आकृति की सही छवि है? / If a mirror is placed on the line OR, then which of the answer figures is the right image of the given figure?



- A -
- B -
- C -
- D -

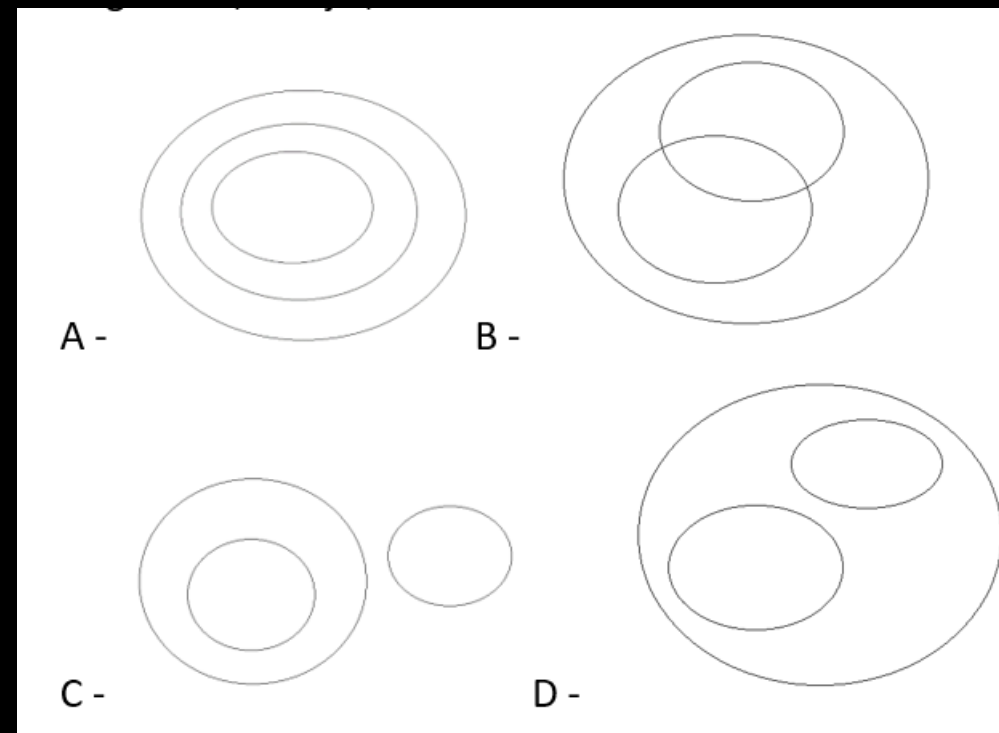


Most Expected 250 Questions (Super Series)



Q.5 Select the Venn diagram that best illustrates the relationship between the following classes: / Venn diagram का चयन करें जो निम्नलिखित classes के बीच संबंधों को सबसे अच्छा दिखाता है:

Vegetable, Brinjal, Banana





Most Expected 250 Questions (Super Series)



सात व्यक्ति P, Q, R, S, T, U और V उत्तर दिशा की ओर मुख कर एक पंक्ति में बैठे हैं। V S के बाईं ओर से तीसरे स्थान पर बैठा है और S R के बगल में नहीं है। Q, V के बगल में है। दो व्यक्ति Q और P के बीच में बैठते हैं। न तो P और न ही S अंतिम छोर पर बैठते हैं। T U के तत्काल बाईं ओर बैठता है, लेकिन किसी भी अंतिम छोर पर नहीं। / Seven persons P, Q, R, S, T, U and V are sitting in a row facing north direction. V sits third to the left of S, who is not adjacent to R. Q is adjacent to V. Two persons sit between Q and P. Neither P nor S sit at extreme end. T sits to the immediate left of U but not at any extreme end.

Q.6 R के तत्काल बाईं ओर कौन बैठता है? / Who sits to the immediate left



A - P

B - S

C - V

D - T



Q.7 Statement:कथन:

N is to the north-west of O /N, O . के उत्तर-पश्चिम में है

M is to the north of N/ M, N . के उत्तर में है

L is to the south-west of P / L, P . के दक्षिण-पश्चिम में है

O is to the west of P/ O, P . के पश्चिम में है

Conclusion:निष्कर्ष:

(I) M is to the north-west of P /M, P . के उत्तर-पश्चिम में है

(II) L is to the south-east of N/ L, N . के दक्षिण-पूर्व में है

A. Only I follow

B. None follows

C.Both I and II follows

D. Only II follows

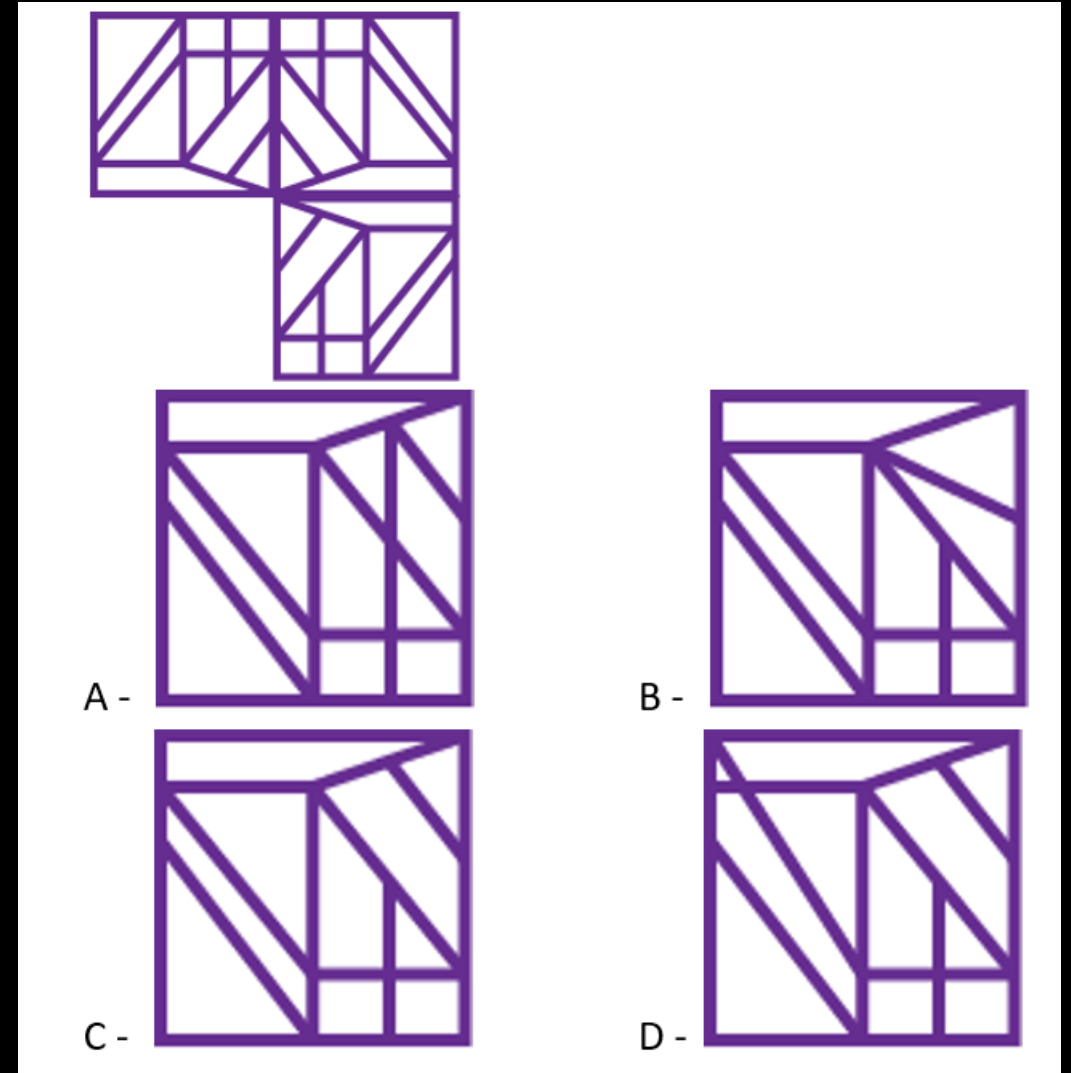




Most Expected 250 Questions (Super Series)



Q.8 उस विकल्प का चयन करें जिसमें निम्नलिखित आंकड़ा पूरा हो जाएगा। /
Select the option in which will complete the following figure.





Most Expected 250 Questions (Super Series)



Q.9 If '÷' denotes '+', '+' denotes '-', '-' denotes '×' and '×' denotes '÷', then $75 \times 5 \div 6 - 3 + 12 \div 8 \div 4 = ?$ / यदि '÷', '+' को दर्शाता है, '+', '-', को दर्शाता है, '-', '×' को दर्शाता है और '×', '÷', को दर्शाता है, तो $75 \times 5 \div 6 - 3 + 12 \div 8 \div 4 = ?$



A - 40

B - 33

C - 32

D - 18



Most Expected 250 Questions (Super Series)



Q.10 निम्नलिखित चार संख्या समूहों में से तीन एक निश्चित तरीके से एक जैसे हैं और एक अलग है। विषम ज्ञात करें? / Three of the following four numbers clusters are alike in a certain way and one is different. Pick the odd one out.



A - 68

B - 1730

C - 1002

D - 10



Most Expected 250 Questions (Super Series)



- (a) Neither 1 Nor is 2 implicit.
- (b) Only Assumption 2 is implicit.
- (c) Only Assumption 1 is implicit.
- (d) Both Assumptions 1 and 2 are implicit.

Q.11 Many people are not able to reach the airport on time due to potholes in the city.

शहर में गड्ढों के कारण बहुत से लोग समय पर हवाई अड्डे तक नहीं पहुँच पाते हैं।



Assumptions/ अनुमान

- 1. It is not necessary to reach the airport on time.
- 1. समय पर हवाई अड्डे तक पहुंचना आवश्यक नहीं है।
- 2. There is no other way to the airport.
- 2. हवाई अड्डे के लिए कोई अन्य मार्ग नहीं है।



Q.12 Arrange the following words in reverse dictionary order. / निम्नलिखित शब्दों को उल्टे शब्दकोश क्रम में व्यवस्थित करें।

1. Tenement

2. Tencent

3. Tentacle

4. Tenant

5. Ternary



A - 52314

B - 53124

C - 45312

D - 42315



Most Expected 250 Questions (Super Series)



Q.13 Complete the given series: / दी गई श्रृंखला को पूरा करें:

16, 18, 21, 26, 33, ?



A - 35

B - 44

C - 45

D - 50



Most Expected 250 Questions (Super Series)



Q.14 निम्नलिखित में से कौन सी जोड़ी दी गई श्रृंखला में '?' की जगह लेती है। / Which of the following pairs replaces '?' in series given.

C3F, F4J, J5O, ?



A - S8T

B - R6P

C - O7T

D - O6U



Most Expected 250 Questions (Super Series)



Q.15 If 'TURMERIC' is related to 'SVQLFQJB' then in the same way 'SURRENDER' is related to '_____'. / यदि 'TURMERIC' 'SVQLFQJB' से संबंधित है, तो उसी तरह 'SURRENDER' ' _____ ' से संबंधित है।



A - VVQQFMCFE

B - RVQQFMCFQ

C - PVRQFMCFE

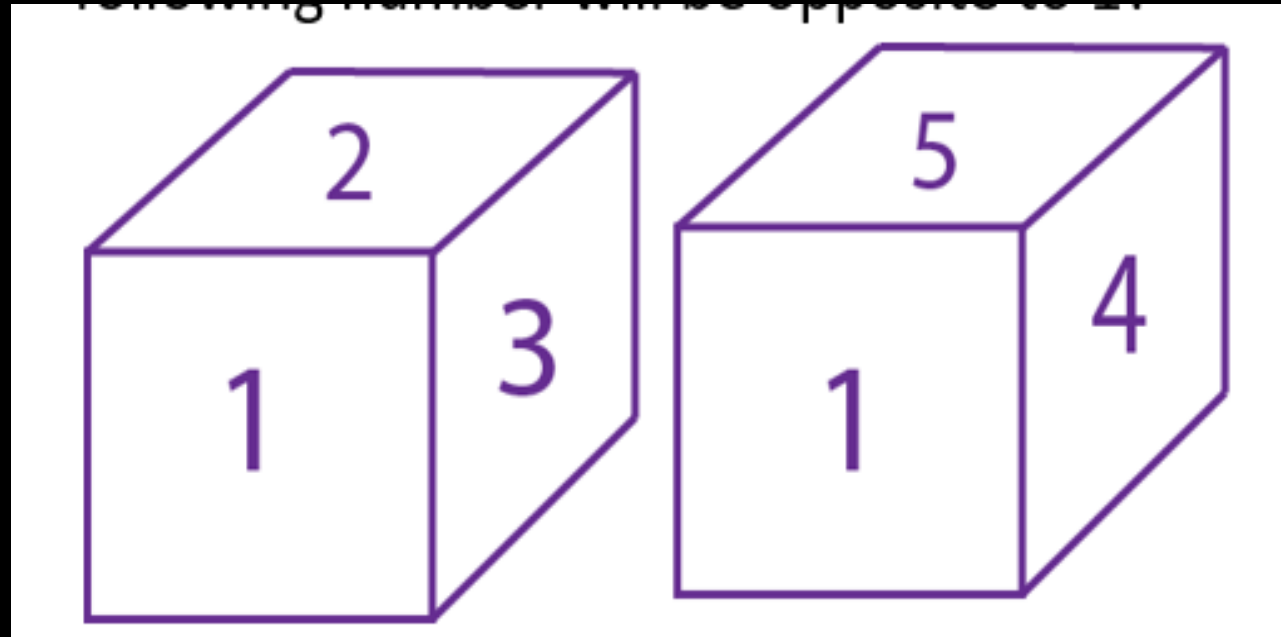
D - RRQVFMCFD



Most Expected 250 Questions (Super Series)



Q.16 एक ही पासा के दो पद दिए गए हैं, निम्नलिखित में से कौन सी संख्या 1 के विपरीत होगी? / Two positions of the same dice are given, which of the following number will be opposite to 1?



- A - 4 B - 6
C - 3 D - 2



Most Expected 250 Questions (Super Series)



Q.17 A direction pole was situated on the crossing. Due to an accident the pole turned in such a manner that the pointer which was showing east, started showing south. One traveller went to the wrong direction thinking it to be west. In what direction actually he was travelling?

क्रॉसिंग पर एक दिशा ध्रुव स्थापित किया गया था। दुर्घटना के कारण पोल इस तरह मुड़ गया कि पूर्व की ओर इशारा करने वाला सूचक दक्षिण की ओर दिखाने लगा। एक यात्री इसे पश्चिम समझकर गलत दिशा में चला गया। वास्तव में वह किस दिशा में यात्रा कर रहा था?



- (A) NORTH/उत्तर**
- (B) SOUTH/दक्षिण**
- (C) EAST/पूर्व**
- (D) WEST /पश्चिम**



Most Expected 250 Questions (Super Series)



Q.18 छह व्यक्ति P, Q, R, S, T और U केंद्र की ओर मुख कर एक वृत्ताकार टेबल पर बैठे हैं। T, P के दाईं ओर से दूसरे स्थान पर बैठता है। Q, U के विपरीत बैठता है, लेकिन T के बगल में नहीं बैठता है। R, T के बगल में नहीं है। T के ठीक दाईं ओर कौन बैठता है? / Six persons P, Q, R, S, T and U are sitting around circular table facing towards the centre. T sits second to the right of P. Q sits opposite to U but not adjacent to T. R is not adjacent to T. Who sits to the immediate right of T?



A - S

B - Q

C - U

D - P



Q.19 Arrange the following words in a logical and meaningful order: /

निम्नलिखित शब्दों को एक तार्किक और सार्थक क्रम में व्यवस्थित करें:

1. Ice

2. Water

3. Kerala

4. Friends

5. Neon



A - 5, 1, 3, 4, 2 B - 5, 1, 2, 3, 4

C - 1, 5, 2, 3, 4 D - 1, 5, 2, 4, 3



Most Expected 250 Questions (Super Series)



Q.20 तीन पीढ़ियों के परिवार में पांच सदस्य A, B, C, D और E हैं। कोई एकल अभिभावक नहीं है। C, E का ससुर है। B, D का पिता है। D, E से कैसे संबंधित है? /

There are five members namely, A, B, C, D and E in the family of three generations. No single parent has a child. C is father-in-law of E. B is father of D. How is D related to E?



A - पुत्र / Son

B - पुत्री / Daughter

C - बहु Daughter-in-law

D - निर्धारित नहीं किया जा सकता / Can't be determined



Most Expected 250 Questions (Super Series)



Q.21 If “FAT” is coded as “27”, “CAT” is coded as “24”, then how will “RAT” be coded as ? / यदि "FAT" को "27", "CAT" को "24" के रूप में कोडित किया जाता है, तो "RAT" को किस प्रकार कोडित किया जाएगा?



A - 45

B - 40

C - 39

D - 38



Most Expected 250 Questions (Super Series)



Q .22 समीकरण को सही बनाने के लिए निम्नलिखित में से कौन-से 'signs' क्रमशः समीकरण में दिए गए 'symbols' के स्थान पर रखे गए हैं? / Which of the following 'signs' are placed in place of 'symbols' given in equation respectively to make the equation true?

$$7 + 6 \& 8 \# 3 + 9 ? 3 - 10 + 12 = 42$$



- A - & equals to '-', # equals to '+', ? equals to '÷'
- B - & equals to '+', # equals to '×', ? equals to '÷'
- C - & equals to '×', # equals to '×', ? equals to '+'
- D - & equals to '-', # equals to '+', ? equals to '×'



Q.23 Select the set of numbers that is similar to the following set / उन संख्याओं के समूह का चयन करें जो निम्न सेट के समान है।

(3, 4, 12, 39)



A - (3, 15, 23, 45) B - (5, 12, 18, 30)

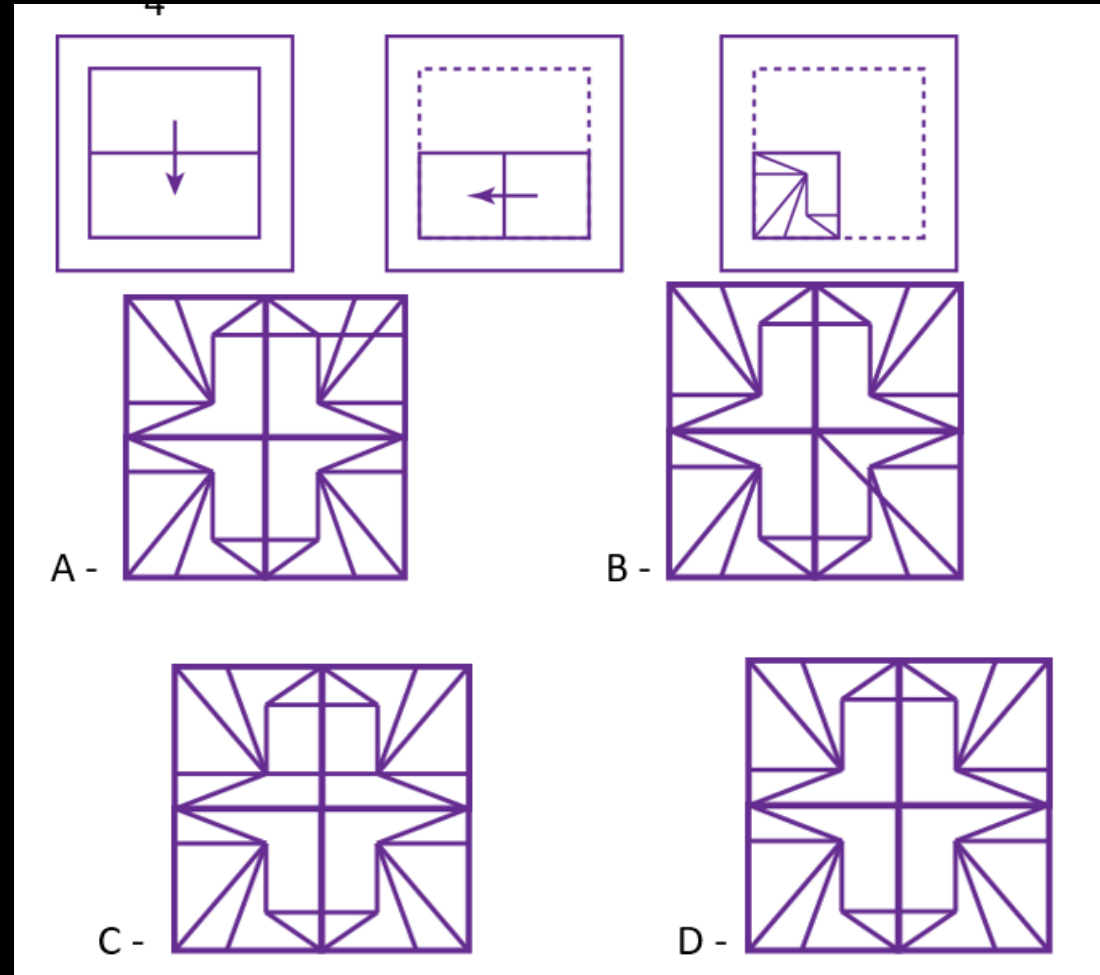
C - (2, 3, 11, 38) D - (1, 2, 10, 30)



Most Expected 250 Questions (Super Series)



Q. 24 कागज का एक टुकड़ा मुड़ा और मुड़ा हुआ है जैसा कि नीचे दिए गए प्रश्न के आंकड़ों में दिखाया गया है। दिए गए उत्तर के आंकड़ों से, इंगित करें कि खोला जाने पर यह कैसे दिखाई देगा। / A piece of paper is folded and punched as shown below in the question figures. From the given answer figures, indicate how it will appear when opened.





Most Expected 250 Questions (Super Series)



Q.25 Select the digit which can replace the ? from the given four alternatives.

/ दिए गए चार विकल्पों में से वह अंक चुनें जो ? को प्रतिस्थापित कर सकता है?

7	9	6
3	?	4
4	3	8
31	32	52



A - 10 B - 5

C - 7 D - 9



Q.26 यदि "MONITOR" को "NOMIROT" के रूप में कोडित किया गया है और "JUMPER" को "MUJREP" के रूप में कोडित किया गया है, तो "DENVER" को कैसे कोडित किया जाएगा? / If "MONITOR" is coded as "NOMIROT" and "JUMPER" is coded as "MUJREP" then how will "DENVER" be coded as?




- A - EDVNRE B - DENREV
C - NEDRVE D - NEDREV



Most Expected 250 Questions (Super Series)



Q.27 Select the option in which the given figure is embedded. / उस विकल्प का चयन करें जिसमें दी गई आकृति embedded है।



A -



B -



C -



D -





Most Expected 250 Questions (Super Series)



Q.28 Select the related word/letters/number from the given alternatives. / दिए गए विकल्पों में से संबंधित शब्द/अक्षर/संख्या को चुनिए।

AIDS : VIRUS :: MALARIA : ? / एड्स : वायरस :: मलेरिया : ?



- A) Protozoa / प्रोटोजोआ B) Bacteria / जीवाणु
C) Fungi / कवक D) Algae / शैवाल



Most Expected 250 Questions (Super Series)



Q.29 A series is given with one term missing. Select the correct alternative from the given ones that will complete the series. / एक अनुक्रम दिया गया है, जिसमें से एक पद लुप्त है। दिए गए विकल्पों में से वह सही विकल्प चुनिए, जो अनुक्रम को पूरा करे।

FGH, NOP, VWX, ?



- A) FGH B) DEF
C) EFG D) FGH



(a) Only Assumption 2 is implicit.

(b) Neither 1 nor 2 is implicit.

(c) Both 1 and 2 are implicit.

(d) Only Assumption 1 is implicit.

Q.30 Statement कथन:

Akbar said to his queen, "Birbal is the wisest man in my kingdom."

अकबर ने अपनी रानी से कहा, "बीरबल मेरे राज्य का सबसे बुद्धिमान व्यक्ति है। "

Assumptions अनुमान :

1. Akbar is not as intelligent as Birbal.

1. अकबर बीरबल जितना बुद्धिमान नहीं है।

2. Akbar wants to make Birbal the next king.

2. अकबर बीरबल को अगला राजा बनाना चाहते हैं।





THANK YOU