



# MISSION SSC 2024



## REASONING

**MOST EXPECTED  
250 QUESTIONS**

**SUPER SERIES ( DAY-7 )**

**LIVE 07:00 PM**





# Most Expected 250 Questions (Super Series)



**Q.1 In the following question, select the related number from the given alternatives. / निम्नलिखित प्रश्न में दिए विकल्पों में से संबंधित संख्या चुनिए।**

**54 : 135 :: 32 : ?**



- a) 90      b) 80**  
**c) 65      d) 74**



# Most Expected 250 Questions (Super Series)



Q.2 एक श्रृंखला दी गई है जिसमें एक पद लुप्त है। दिए गये विकल्पों में से वह सही विकल्प चुनिए, जो श्रृंखला को पूरा करेगा।/ A series is given with one term missing. Select the correct alternative from the given ones that will complete the series.

3, 7, 16, 35, ?, 153



- a) 72      b) 74  
c) 76      d) 78



# Most Expected 250 Questions (Super Series)



**Q.3 Fill in the place of \*, %, # and &, in the alphabetical series given below.** / नीचे दी गई वर्णमाला श्रृंखला में \*, %, # और & के स्थान पर भरिये।

*	R	N	L
V	%	L	J
P	J	F	#
R	L	&	F



a) HPXD

b) XHPD

c) XPHD

d) XPDH



# Most Expected 250 Questions (Super Series)



Q.4 निम्नलिखित प्रश्न में, दिए गये विकल्पों में से बेमेल शब्द/शब्दों का चयन कीजिये। /In the following question, select the odd word from the given alternatives



- a) विशेषाधिकार / Privilege
- b) पुरस्कार /Prize
- c) शोषण /Exploit
- d) सराहना/Accolade



# Most Expected 250 Questions (Super Series)



Q.5 Find the wrong term in the following series. /

निम्नलिखित श्रृंखला में गलत पद ज्ञात कीजिये।

20, 25, 32, 45, 62, 97



a) 20      b) 25

c) 32      d) 45



# Most Expected 250 Questions (Super Series)



**Q.6 In the following question, find out the alternative which will replace the question mark. / निम्नलिखित प्रश्नों में वह विकल्प ज्ञात करें जो प्रश्न चिह्न के स्थान पर आयेगा।**

**GRU : Russia :: MSS : ?**



- a) चीन      b) जर्मनी  
c) अष्ट्रेलिया      d) युनाईटेड किंगडम



# Most Expected 250 Questions (Super Series)



**Q.7** In the following question, select the odd letters from the given alternatives. / निम्नलिखित प्रश्न में, दिए गए विकल्पों में से बेजोड़ अक्षरों को चुनिए।



- a) PSU                      b) BEG
- c) MPR                     d) GIL





# Most Expected 250 Questions (Super Series)



Q.8 नीचे दिए गए प्रश्नों के विकल्पों में से बेजोड़ ज्ञात कीजिए। / In question given below find the odd one from the given responses.



a) P32B

b) C24H

c) M65E

d) N85F



# Most Expected 250 Questions (Super Series)



**Directions:** In a certain code language '378' means 'write on canvas', '364' means 'coffee on farm' and '379' means 'art on canvas' / निर्देशक: एक कूट-भाषा में कोड '378' का अर्थ 'write on canvas', '364' का अर्थ 'coffee on farm' और '379' का अर्थ 'art on canvas' है।

**Q.9** Which of the following is the code for 'coffee'?/ निम्न में से 'coffee' का कोड क्या है?



- a) 4 or 6      b) 6  
c) 3 or 6      d) 3



## Most Expected 250 Questions (Super Series)



**Directions:** In a certain code language '378' means 'write on canvas', '364' means 'coffee on farm' and '379' means 'art on canvas' / निर्देशक: एक कूट-भाषा में कोड '378' का अर्थ 'write on canvas', '364' का अर्थ 'coffee on farm' और '379' का अर्थ 'art on canvas' है।



**Q.10** निम्न में से 'canvas' का कोड क्या है? / Which of the following is the code for 'canvas'?

a) 9

b) 3

c) 7

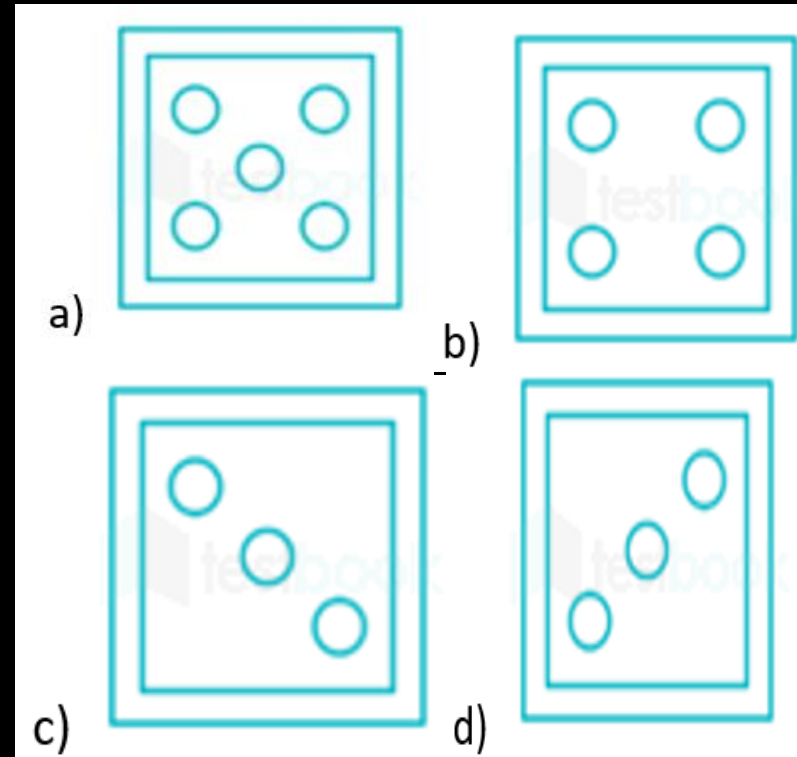
d) Cannot say



# Most Expected 250 Questions (Super Series)



**Q.11** A piece of paper is folded and punched as shown below in the question figures. From the given answer figures, indicate how it will appear when opened?  
/ एक कागज़ के टुकड़े को निम्न प्रश्न आकृतियों में दर्शाए गये अनुसार मोड़ा जाता है और उसमें छेद किया जाता है। खोलने के बाद वह किस उत्तर आकृति के समान दिखाई देगा?





# Most Expected 250 Questions (Super Series)



**Q.12 In the following question, by using which mathematical operators will the expression become correct? / निम्नलिखित प्रश्न में किन गणितीय संक्रियाओं का प्रयोग करने पर व्यंजक सही हो जाएगा?**

$$270 \_ 3 \_ 65 \_ 25$$



a) =, ×, +

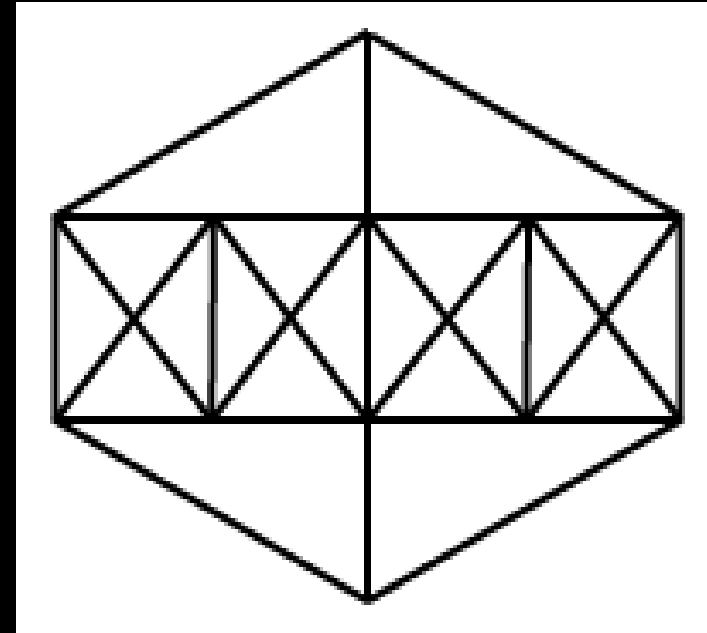
b) ÷, =, +

c) ÷, +, =

d) =, ×, -



**Q.13 How many triangles are there in this figure?.**



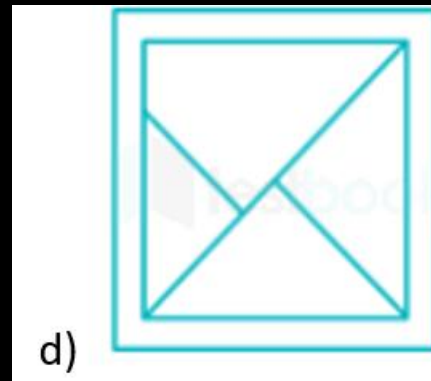
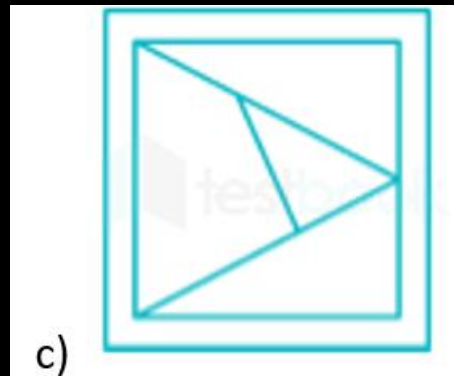
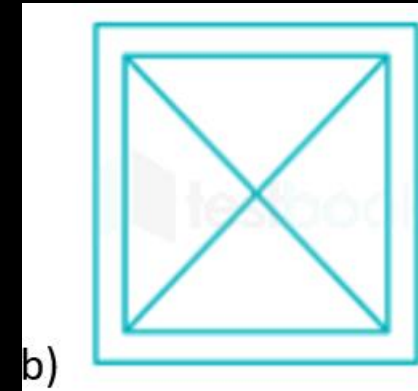
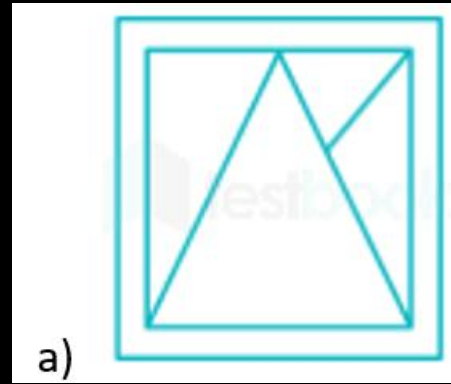
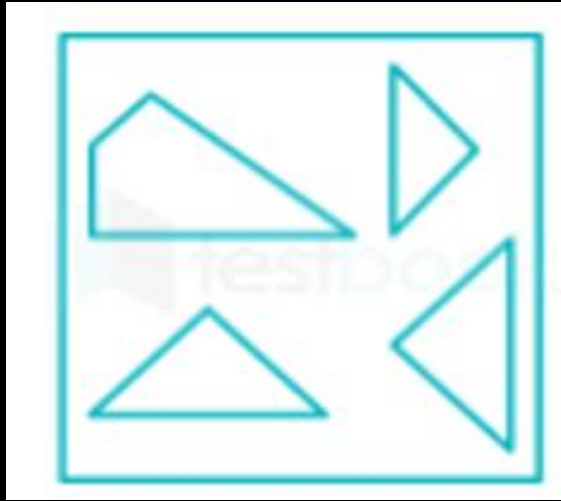
- a) 38
- b) 44
- c) 46
- d) 54



# Most Expected 250 Questions (Super Series)



**Q.13 Identify the answer figure from which the pieces given in the question figure have been cut. / उत्तर में दी गयी उन आकृतियों को पहचानिये, जिनमे से प्रश्न में दी गयी आकृतियाँ काटी गयी हैं?**





# Most Expected 250 Questions (Super Series)



Q.13 निम्नलिखित समीकरण गलत है। समीकरण को सही करने के लिए किन दो चिह्नों को आपस में बदलना चाहिए? / The following equation is incorrect. Which two signs should be interchanged to correct the equation?

$$12 - 6 \times 5 + 20 \div 4 = 31$$



a) + and  $\div$

b) + and  $\times$

c) - and +

d)  $\div$  and  $\times$

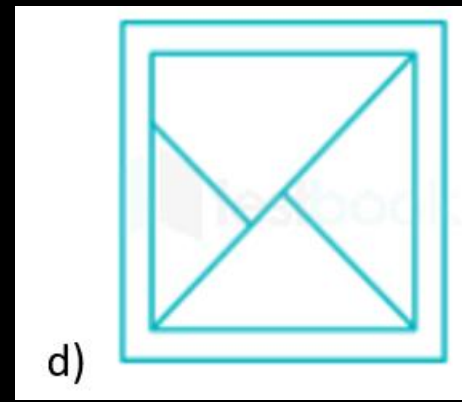
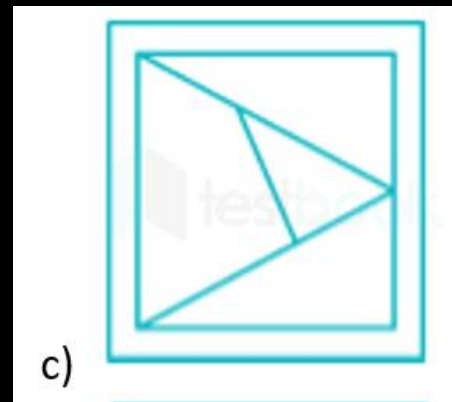
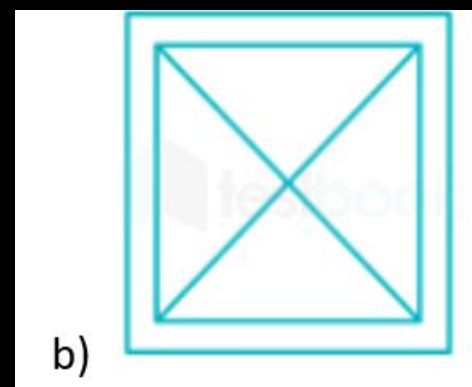
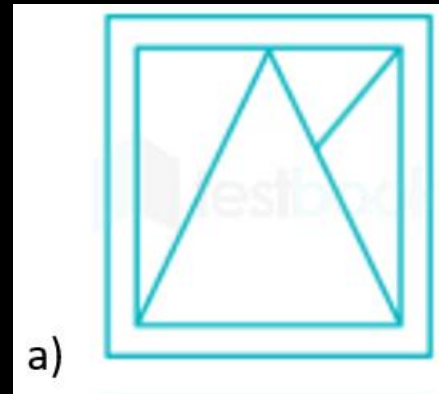




# Most Expected 250 Questions (Super Series)



**Q.14 Identify the answer figure from which the pieces given in the question figure have been cut. / उत्तर में दी गयी उन आकृतियों को पहचानिये, जिनमे से प्रश्न में दी गयी आकृतियाँ काटी गयी हैं?**





# Most Expected 250 Questions (Super Series)



Q.15 निम्नलिखित समीकरण गलत है। समीकरण को सही करने के लिए किन दो चिह्नों को आपस में बदलना चाहिए? / The following equation is incorrect. Which two signs should be interchanged to correct the equation?

$$12 - 6 \times 5 + 20 \div 4 = 31$$



a) + and  $\div$

b) + and  $\times$

c) - and +

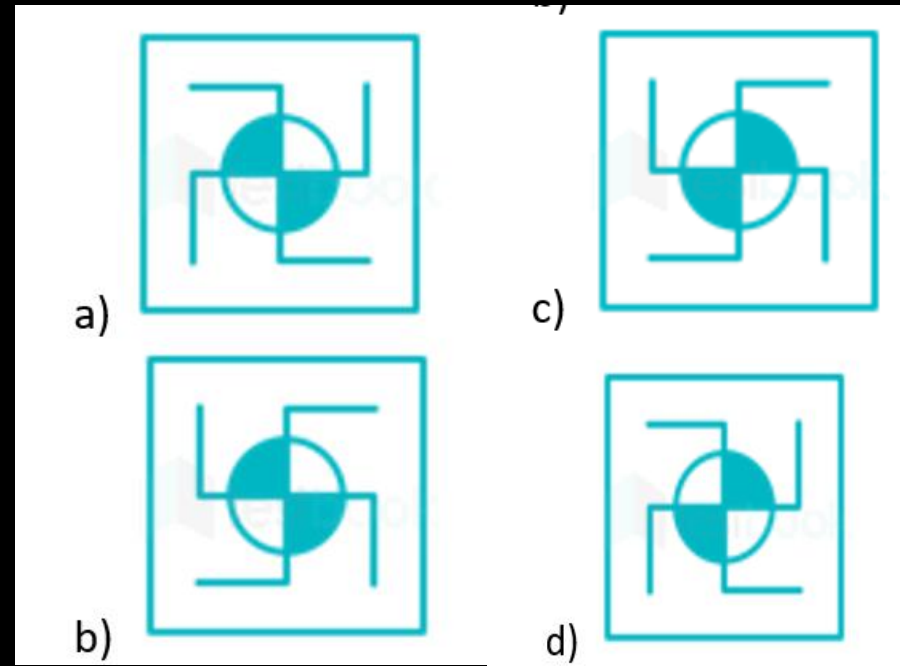
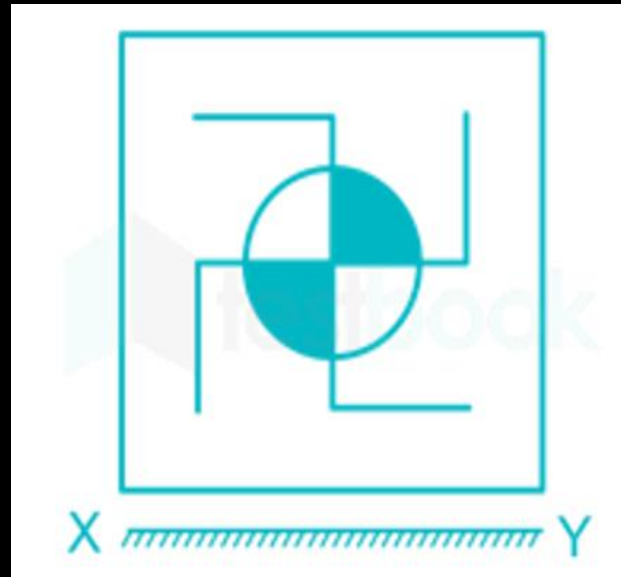
d)  $\div$  and  $\times$



# Most Expected 250 Questions (Super Series)



**Q.16** Choose the mirror image of the following figure along the **XY** axis. / **XY** अक्ष के साथ निम्न आरेख की दर्पण छवि को चुनिए।





## Most Expected 250 Questions (Super Series)



Q.17 यदि A को B कहा जाता है, B को C कहा जाता है, C को D कहा जाता है, और D को E कहा जाता है और इसी प्रकार आगे भी तथा अंत में Z को A कहा जाता है। तो निम्न में से कौन-सा विकल्प एक सार्थक शब्द बनाता है? /If A is called as B, B is called as C, C is called as D, and D is called as E and so on and finally Z is called as A. Then which of the following options makes a meaningful word?



a) BZQQX

b) ODMBHS

c) DZABC

d) GZSSQ



**Q.18 Statements: / कथन: Some actors are not singer / कुछ अभिनेता गायक नहीं है No singer is dancer/ कोई गायक नर्तक नहीं है**

**All artist are singer/ सभी कलाकार गायक हैं**

**Conclusions: / निष्कर्ष:**

**I. All dancers are artist / सभी नर्तक कलाकार हैं**

**II. Some artist are not actors / कुछ कलाकार अभिनेता नहीं हैं**

**III. Some actors are dancers is a possibility / कुछ अभिनेता नर्तक हैं**

**यह एक संभावना है**

**a) Both conclusion I and II follows/ दोनों निष्कर्ष I और II अनुसरण करते हैं**

**b) Only conclusion III follows / केवल निष्कर्ष III अनुसरण करता है**

**c) Either I or III follows / या तो I या III अनुसरण करता है**

**d) Only conclusion II follows / केवल निष्कर्ष II अनुसरण करता है**





# Most Expected 250 Questions (Super Series)



Q.19 यदि P @ Q का अर्थ है कि P, Q का पिता है, P \* Q का अर्थ है कि P, Q की पत्नी है, P \$ Q का अर्थ है कि P, Q का पति है और P ! Q का अर्थ है कि P, Q की बहन है। किस स्थिति में H, L की दादी है? / If P @ Q means P is the father of Q, P \* Q means P is the wife of Q, P \$ Q means P is the husband of Q and P ! Q means P is the sister of Q. In which case, H is the grandmother of L?



a) H \* I @ J ! K @ L

b) H \$ I ! J @ K @ L

c) H ! I \* J @ K \* L

d) H \* I @ J @ K @ L



**Q.20 Arrange the given words in the order in which they will be arranged in a reverse dictionary and choose the one that comes second?/ दिये गये शब्दों को उनके शब्दकोश के विपरीत क्रम में व्यवस्थित कीजिये और दूसरे स्थान पर आने वाले शब्द का चयन कीजिये।**

**i. Kindergartner**

**ii. Kindling**

**iii. Kindergarten**

**iv. Kingdom**

**a) Kindergarten**

**b) Kingdom**

**c) Kindling**

**d) Kindergartner**







# Most Expected 250 Questions (Super Series)



Q.21 एक परीक्षा में अलग-अलग अंक प्राप्त करने वाले छह व्यक्ति अभय, दीपक, मोहन, मृदुल, जोया और फबेहा हैं। अभय को केवल मोहन और फबेहा से अधिक अंक मिले हैं। दीपक को जोया की तुलना में कम अंक मिले, जिसे परीक्षा में अधिकतम अंक नहीं मिले हैं। दूसरे अधिकतम अंक प्राप्त करने वाले व्यक्ति को 70 अंक मिले हैं। कितने व्यक्तियों को मोहन से अधिक अंक मिले हैं? / There are six persons Abhay, Deepak, Mohan, Mridul, Joya and Fabeha, who got different marks in the examination. Abhay got more marks than only Mohan and Fabeha. Deepak got less marks than Joya, who did not get the highest marks in the examination. The second highest person got 70 marks. How many persons got more marks than Mohan?



a) Four

b) Two

c) Five

d) Can't be determined





**Q.22 How many Leap Years in 800years?**

**800 वर्षों में कितने लीप वर्ष होते हैं?**



**(A) 200**

**(B) 202**

**(C) 194**

**(D) 197**



Q.23 दिए गए विकल्पों में से उस शब्द को ज्ञात कीजिये, जिसे दिए गए शब्द में प्रयुक्त अक्षरों से नहीं बनाया जा सकता है। / From the given alternatives find the word which cannot be formed from the letters used in the given word.

**CONJUNCTIVELY**



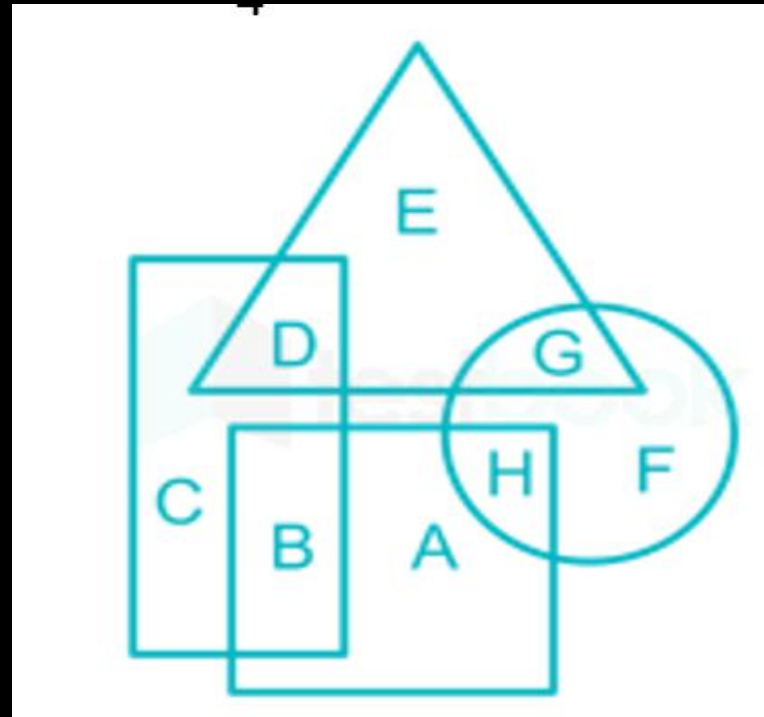
- a) CONVINC b) JUNCTION  
c) VELOCITY d) CONTINUED



# Most Expected 250 Questions (Super Series)



**Q.24** In the following figure Rectangle represent Hollywood, Circle represent Bollywood, triangle represent Tollywood and Square represents Movies. Which of the following represent Bollywood which are neither Tollywood nor Movies./ निम्नलिखित आरेख में, आयत, हॉलीवुड को दर्शाता है, वृत्त, बॉलीवुड को दर्शाता है, त्रिभुज, टॉलीवुड को दर्शाता है और वर्ग, फिल्मों को दर्शाता है। तो निम्नलिखित में से कौन-सा उन बॉलीवुड को दर्शाता है जो ना तो टॉलीवुड और ना ही फिल्ममें हैं?



- a) A, H
- b) G, F, H
- c) H, E
- d) F



# Most Expected 250 Questions (Super Series)



Q.25 निम्नलिखित प्रश्न में, दिए गये विकल्पों में से उस संख्या का चयन कीजिये जिसे प्रश्न चिह्न (?) के स्थान पर रखा जा सकता है। / In the following question, select the number which can be placed at the sign of question mark (?) from the given alternative.

7	8	113
5	?	106
7	9	130





Q.26 Statement/ कथन:

All are cordially invited to participate in the entertainment program. It's free.' An announcement in a newspaper.

'सभी मनोरंजन कार्यक्रम में भाग लेने के लिए प्रेमपूर्वक आमंत्रित हैं। यह निःशुल्क है।' एक समाचार पत्र में एक घोषणा।

Assumption / पूर्वानुमान:

I. A negligible number of readers read the announcements in the newspaper.

I. पाठकों की एक नगण्य संख्या समाचार पत्र में घोषणाएं पढ़ती है।

II. Generally people do not attend such entertainment programs which are free of cost.

II. आम तौर पर लोग ऐसे मनोरंजन कार्यक्रम में नहीं भाग लेते जो निःशुल्क होते हैं।

a) Both Assumption I and Assumption II are implicit

(b) Only assumption I is implicit

(c) Neither Assumption I nor Assumption II is implicit

(d) Only assumption II is implicit





# Most Expected 250 Questions (Super Series)



**Q.27 Statements:/कथन:**

**Some potatoes are onions./कुछ आलू प्याज हैं।**

**Some onions are tomatoes./कुछ प्याज टमाटर हैं।**

**Conclusions:/निष्कर्ष:**

**I. Some tomatoes are potatoes./I. कुछ टमाटर आलू हैं।**

**II. No tomato is a potato./II. कोई टमाटर आलू नहीं है।**

- a) Only conclusion II follows/केवल निष्कर्ष II अनुसरण करता है
- b) Only conclusion I follows/केवल निष्कर्ष I अनुसरण करता है
- c) Either conclusion I or II follows/या तो निष्कर्ष I या II अनुसरण करता है
- d) Both conclusions I and II follow/निष्कर्ष I और II दोनों अनुसरण करते हैं

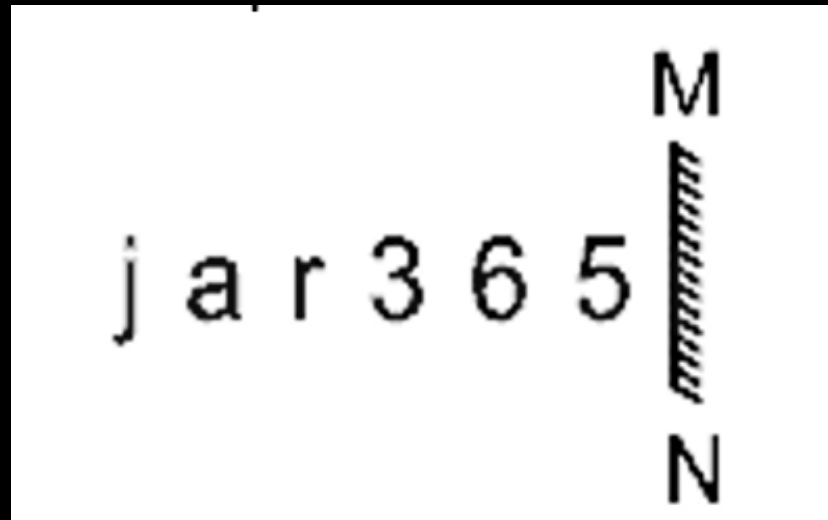




# Most Expected 250 Questions (Super Series)



**Q.28 Select the correct mirror image of the given combination when the mirror is placed at MN as shown./दिए गए संयोजन के सही दर्पण प्रतिबिम्ब का चयन कीजिए जब दर्पण को निम्नानुसार MN पर रखा जाता है।**



- a) Ɔ ɒ ɛ ɹ 6 5 †
- b) Ɔ ɒ ɛ ɹ ɛ †
- c) Ɔ 9 ɛ ɹ ɛ †
- d) Ɔ 9 ɛ ɹ ɛ †



# Most Expected 250 Questions (Super Series)



**Q.29** Which of the following letter-clusters will replace the question mark (?) in the given series to make it logically complete?/ दी गई श्रृंखला को तार्किक रूप से पूर्ण बनाने के लिए निम्नलिखित में से कौन सा अक्षर-समूह प्रश्नवाचक चिह्न (?) को प्रतिस्थापित करेगा?

**XUR, WTQ, VSP, URO, ?**



**a) TRP**

**b) TQN**

**c) SQO**

**d) SPM**





# Most Expected 250 Questions (Super Series)



**Q.30** Select the option that is related to the third number in the same way as the second number is related to the first number and the sixth number is related to the fifth number./ उस विकल्प का चयन कीजिए जो तीसरी संख्या से उसी प्रकार संबंधित है जिस प्रकार दूसरी संख्या पहली संख्या से संबंधित है और छठवीं संख्या पांचवीं संख्या से संबंधित है।

$$10 : 0 :: 12 : ? :: 16 : 3$$



a) 4

b) 5

c) 3

d) 1



# THANK YOU