



# MISSION SSC 2024



## REASONING

**MOST EXPECTED  
250 QUESTIONS**

**SUPER SERIES ( DAY-5 )**

**LIVE 07:00 PM**





# Most Expected 250 Questions (Super Series)



Q.1 एक श्रृंखला लापता शब्दों के साथ दी गई है। दिए गए विकल्पों में से सही विकल्प चुनें जो श्रृंखला को पूरा करे।/ A series is given with one term missing. Choose the correct alternative from the given ones that will complete the series.

BFH, GED, LCA, ?



A| KOP

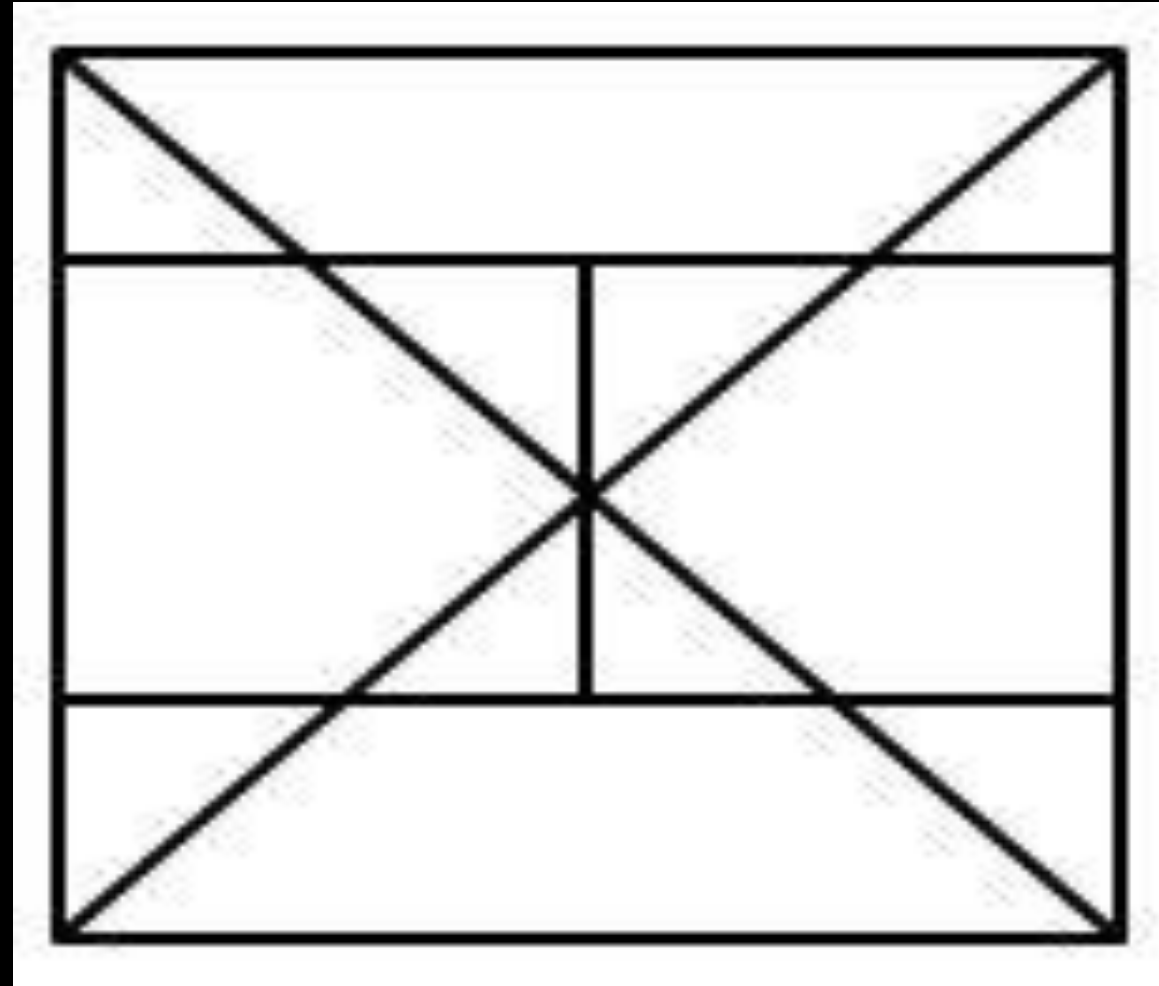
B| DIJ

C| JBD

D| CFK



**Q.2 Count the number of triangles in the given figure /  
दिए गए आंकड़े में त्रिभुज की संख्या गिनें**



**A] 14**

**B] 12**

**C] 22**

**D] 24**



Q.3 एक पिता और पुत्र की आयु का योग 58 है। उनकी आयु का अनुपात 19:10 है। फिर, बेटे की वर्तमान उम्र का पता लगाएं। / The sum of ages of a father and son is 58. The ratio of ages of them is 19:10. Then find the present age of son.



A] 20

B] 32

C] 18

D] 10



# Most Expected 250 Questions (Super Series)



Q.4 select the odd word from the given alternatives / दिए गए विकल्पों में से विषम शब्द का चयन करें



- A] Berlin/ बर्लिन    B] Vientiane / वियांग चान  
C] Ottawa / ओटावा    D] Croatia / क्रोएशिया



Q.5 अनुक्रम में अगले पद की पहचान करें /

Identify the next term in the sequence

1, 1, 5, 23, 71, 171, ?



A] 343

B] 243

C] 351

D] 295



# Most Expected 250 Questions (Super Series)



Q.6 Identify the term which best replaces the question mark. / उस विकल्प की पहचान करें जो प्रश्न चिह्न की जगह सबसे अच्छी है।

0, 6, 24, 60, ?, 210



A] 100

B] 136

C] 120

D] 144



**Q.7 निम्नलिखित शब्दों को शब्दकोश के क्रम के अनुसार व्यवस्थित करें। / Arrange the following words as per order in the dictionary.**

**1: Zechins**

**2: Zebraic**

**3: Zestful**

**4: Zebrano**

**5: Zebrass**



**A] 4, 2, 5, 1, 3**

**B] 2, 4, 5, 1, 3**

**C] 2, 5, 4, 1, 3**

**D] 2, 4, 1, 5, 3**





**Q.8 Select the related word/letters/number from the given alternatives. / दिए गए विकल्पों में से संबंधित शब्द / अक्षर / संख्या को चुनिए।**

**AGM : CFL :: NQT : ?**



**A| PRT      B| PSW**

**C| PQR      D| OPR**



# Most Expected 250 Questions (Super Series)



Q.9 उस आंकड़े को चुनें जो श्रृंखला में आगे आना चाहिए। / Choose the figure which should come next in the series.

				?
--	--	--	--	---

A]	B]
C]	D]





**Q.10 A machine codes HIATUS as 891202119, which word will be coded as 13518? / मशीन कोड HIATUS को 891202119 के रूप में, किस शब्द को 13518 के रूप में कोडित किया जाएगा?**



- A] MEAH      B] ACER**  
**C] MER        D] Cannot be determined**



# Most Expected 250 Questions (Super Series)



Q.11 कथन I: कुछ बोतलें प्लास्टिक हैं। / Statement I: Some bottles are plastics.

कथन II: सभी बक्से प्लास्टिक हैं। / Statement II: All boxes are plastics.

कथन III: कुछ बक्से कंटेनर हैं। / Statement III: Some boxes are containers.

निष्कर्ष I: कुछ कंटेनर प्लास्टिक हैं। / Conclusion I: Some containers are plastics.

निष्कर्ष II: कुछ बोतलें कंटेनर हैं। / Conclusion II: Some bottles are containers.



A] निष्कर्ष I अनुसरण करता है / Conclusion I follows

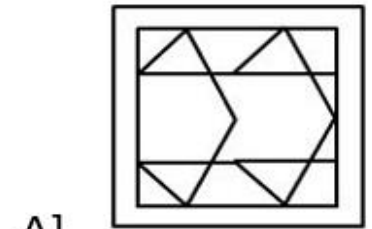
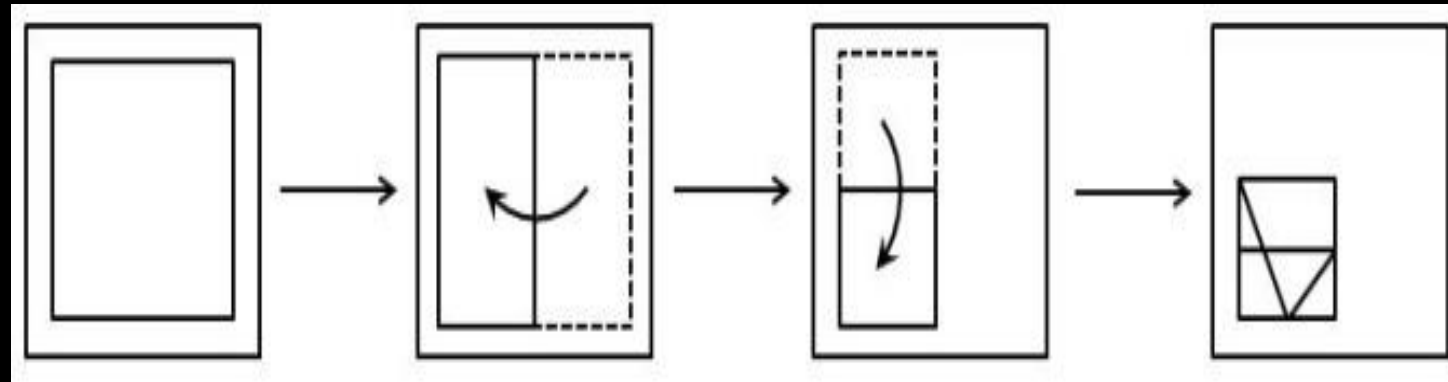
B] निष्कर्ष II अनुसरण करता है / Conclusion II follows

C] दोनों निष्कर्ष I और निष्कर्ष II अनुसरण करते हैं / Both conclusion I and conclusion II follow

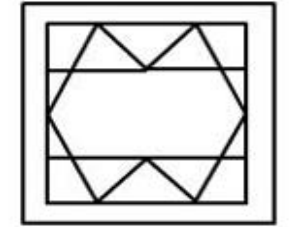
D] न तो निष्कर्ष I और निष्कर्ष II अनुसरण करते हैं / Neither conclusion I



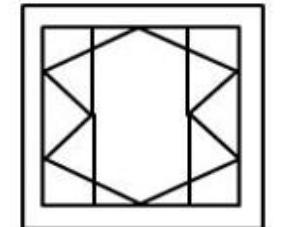
**Q.12 A piece of paper is folded and punched as shown in the figure below. From the below answer figures, indicate how it will appear when opened/ कागज का एक टुकड़ा मुड़ा और मुड़ा हुआ है जैसा कि नीचे दिए गए चित्र में दिखाया गया है। नीचे दिए गए उत्तर के आंकड़ों से, इंगित करें कि इसे खोलने पर कैसे दिखाई देगा**



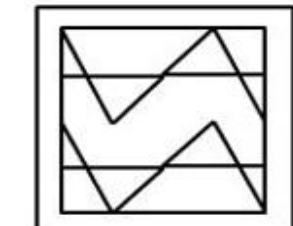
A]



B]



C]



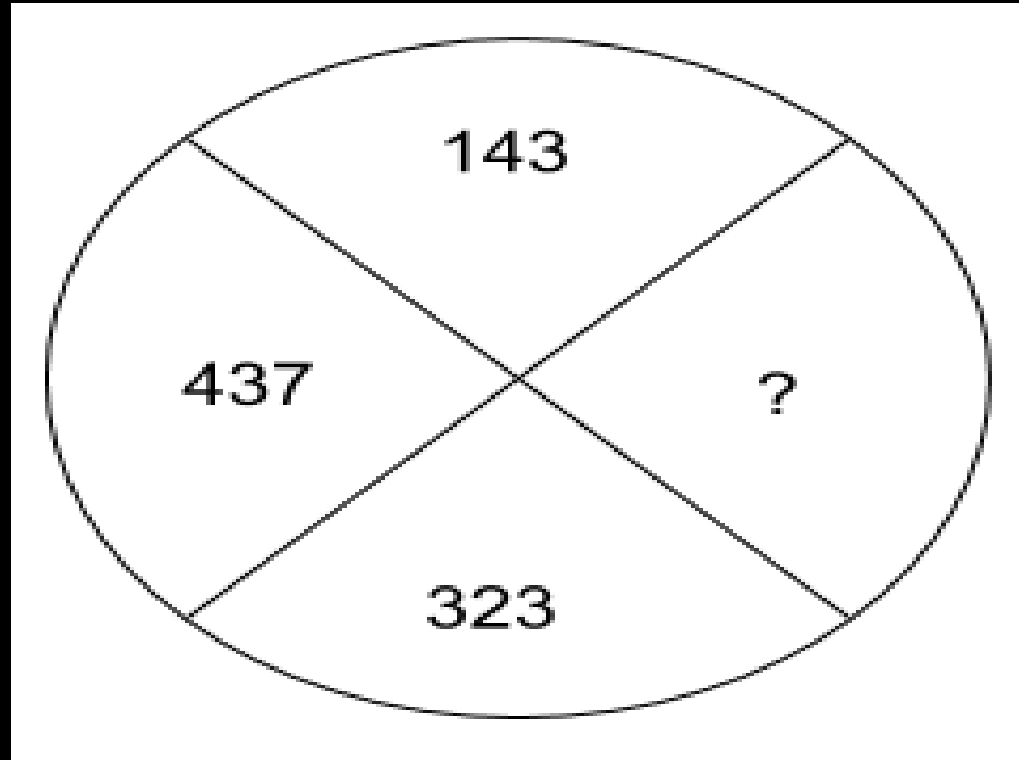
D]





Q.13 प्रश्न चिन्ह '?' के रूप में दर्शाई गई संख्या में लापता संख्या ज्ञात कीजिए?

/ Find the missing number in the figure represented as '?'



A] 132

B] 221

C] 212

D] 321



# Most Expected 250 Questions (Super Series)



**Q.14 Select the odd letters from the given alternatives.**

**/ दिए गए विकल्पों से विषम अक्षरों का चयन करें।**



**A| UPK**

**B| MGA**

**C| RMH**

**D| SNI**



# Most Expected 250 Questions (Super Series)



Q.15 एक श्रृंखला लापता शब्दों के साथ दी गई है। दिए गए विकल्पों में से सही विकल्प चुनें जो श्रृंखला को पूरा करेगा। / A series is given with one term missing. Choose the correct alternative from the given ones that will complete the series.

JKL, CEG, RUX, ?, HMR



A| DHL

B| LKD

C| MWF

D| JVE





## Most Expected 250 Questions (Super Series)



Q.16 In a certain code language, 'FANATIC' is coded as 'GCQEYOJ'. How will 'QUEST' be coded in the same language?  
/ एक निश्चित कूट भाषा में, 'FANATIC' को 'GCQEYOJ' के रूप में कोडित किया जाता है। उसी भाषा में 'QUEST' को किस प्रकार कोडित किया जाएगा?



- A] RWHWY      B] RUTHY  
C] STURV      D] RVFTU



# Most Expected 250 Questions (Super Series)



Q.17 निम्नलिखित प्रश्न में, दिए गए विकल्पों से संबंधित शब्द का चयन करें।  
कम करें: तीव्रता :: एफ़िनिटी : ?

/ In the following question, select the related word from the given alternatives. Alleviate: Intensify :: Affinity:



A] सामंजस्य/ Harmony B] रिपोर्ट/ Rapport

C] सहानुभूति / Empathy D] घृणा/ Aversion



# Most Expected 250 Questions (Super Series)



Q.18 Arrange the words given below in meaningful order. / दिए गए शब्दों को सार्थक क्रम में व्यवस्थित करें।

1. Neighbourhood / पड़ोस
2. City / शहर
3. House / घर
4. State / राज्य
5. Room / कमरा



A] 53124

B] 53214

C] 35124

D] 35142



**Q.19 सही विकल्प चुनें ताकि संख्याओं के सभी जोड़ों के बीच संबंध समान हो। / Choose the correct option so that the relationship between all pairs of numbers is same.**

$$8 * 9 = 49, 6 * 5 = 35, 5 * 7 = ?$$



**A] 40**

**B] 32**

**C] 28**

**D] 35**



# Most Expected 250 Questions (Super Series)



**Q.20** Which of the following answer figures can be made using below question figure? / नीचे प्रश्न आकृति का उपयोग करके निम्नलिखित में से कौन सी उत्तर आकृति बनाई जा सकती है?

A]

B]

C]

D]





## Most Expected 250 Questions (Super Series)



Q.21 किरण का जन्मदिन 21 दिसंबर, 2013 को है। यह गुरुवार को आता है। तिलक का जन्म 2 मार्च 2014 (लीप वर्ष नहीं) को है, तो अगले सप्ताह तिलक का जन्मदिन किस सप्ताह होगा? / Kiran's birthday is on 21st December, 2013. It falls on a Thursday. On what day of the week will be Tilak's birthday next year, if Tilak was born on March 2nd (2014 is not a leap year) ?



- A] Sunday      B] Monday  
C] Saturday    D] Friday



**Q.22** Select the option that is related to the fifth term in the same way as the second term is related to the first term and the fourth term is related to the third term.

उस विकल्प का चयन कीजिए जो पांचवें पद से उसी प्रकार संबंधित है जिस प्रकार दूसरा पद पहले पद से और चौथा पद तीसरे पद से संबंधित है।

**BROWSER : SERWBRO :: CAPTURE : URETCAP :: DESKTOP**



a) SEDKTOP

b) TOPKDES

c) TPOKEDS

d) TOPKSED



Q.23 दिए गए विकल्पों में से विषम संख्या का चयन करें: / Select the odd number from the given alternatives:



A] 41

B] 49

C] 67

D] 83





Q.24 Arrange the words given below in meaningful order. /

दिए गए शब्दों को सार्थक क्रम में व्यवस्थित करें।

1. Harvesting / फसल
2. Selection / चयन
3. Sowing / बुवाई
4. Growth / विकास
5. Fertilizer / उर्वरक



A] 23451

B] 23541

C] 35412

D] 34512



**Q.25 शब्दकोश के क्रम के अनुसार निम्नलिखित शब्दों को व्यवस्थित करें / Arrange the following words as per order in dictionary.**

**1: supportive**

**2: supreme**

**3: supposing**

**4: suppose**

**5: supportable**



**A] 1, 5, 3, 4, 2    B] 5, 1, 4, 3, 2**

**C] 1, 5, 4, 2, 3    D] 5, 1, 3, 2, 4**



# Most Expected 250 Questions (Super Series)



**Q.26 How many times 29 dates will come in 100 years?  
100 वर्षों में 29 तारीखें कितनी बार आएंगी?**



- (A) 24**
- (B) 1124**
- (C) 1100**
- (D) 1200**



# Most Expected 250 Questions (Super Series)



छ: व्यक्ति - K, M, N, P, Q और R एक गोल मेज के परितः केंद्र के अभिमुख होकर बैठे हैं। K के ठीक दाएं कौन बैठा है?

- (I) K, M के बाईं ओर तीसरे स्थान पर बैठा है। K और N के बीच केवल एक व्यक्ति बैठा है। R, N के ठीक बाएं बैठा है।
- (II) (II) K, Q के दाईं ओर दूसरे स्थान पर बैठा है। K और M के बीच केवल दो व्यक्ति बैठे हैं। P, R के बाईं ओर दूसरे स्थान पर बैठा है।



Q.27 Six people - K, M, N, P, Q and R are sitting around a circular table facing the centre.

Who sits to the immediate right of K?

- (I) K sits third to the left of M. Only one person sits between K and N. R sits to the immediate left of N.
- (II) K sits second to the right of Q. Only two people sit between K and M. P sits second to the left of R.

1. कथन I में दिया गया डेटा अकेले प्रश्न का उत्तर देने के लिए पर्याप्त है जबकि कथन II में डेटा नहीं है।
2. या तो कथन I या कथन II में डेटा प्रश्न का उत्तर देने के लिए पर्याप्त है।
3. कथन I और II में दिया गया डेटा एक साथ प्रश्न का उत्तर देने के लिए पर्याप्त है।
4. अकेले कथन II में डेटा प्रश्न का उत्तर देने के लिए पर्याप्त है जबकि कथन I में डेटा नहीं है।



# Most Expected 250 Questions (Super Series)



Q.28 कथन: राष्ट्रीय द्रुतगामी मार्ग -A, सबसे चौड़ा द्रुतगामी मार्ग है और कुछ लोग इसका इस्तेमाल करते हैं। जब लोग कोई खाली और चौड़ी सड़क देखते हैं, तब वे तेज गति से वाहन चलाते हैं, जिससे दुर्घटनाएं होती हैं।

अनुमान:

- I. सभी दुर्घटनाएं अत्यधिक गति के कारण होती हैं।
- II. तेज गति से दुर्घटना का खतरा बढ़ जाता है।



1. If only I follows
2. If both I and II follow
3. If only II follows
4. If neither I nor II follows

National Expressway-A is the widest expressway and is used by few people. When people find an empty and wide road, people drive at high speed, which leads to accidents.

Inference:

- I. All accidents happen due to over speeding.
- II. High speed increases the risk of accident.



# Most Expected 250 Questions (Super Series)



Q.29 Which of the following numbers will replace the question mark (?) in the given series?/ निम्नलिखित में से कौन-सी संख्या दी गई शृंखला में प्रश्न चिह्न (?) का स्थान लेगी?

17, 20, 60, 64, 256, 261, 1305, ?



a) 1346

b) 1361

c) 1284

d) 1311



**Q.30 Select the correct combination of mathematical signs to replace the \* signs and to balance the given equation.**

**\* चिह्नों को बदलने और दिए गए समीकरण को संतुलित करने के लिए गणितीय चिह्नों के सही संयोजन का चयन कीजिए।**

$$230 * 1 * 5 * 16 * 41 * 21$$



a)  $\times, \div, +, -, =$

b)  $+, \div, \times, -, =$

c)  $-, +, \div, \times, =$

d)  $\div, +, -, \times, =$



# Most Expected 250 Questions (Super Series)

