



MISSION SSC 2024



REASONING

MOST EXPECTED 250 QUESTIONS

SUPER SERIES (DAY-1)

 **LIVE** 07:00 PM





Most Expected 250 Questions (Super Series)



प्रश्न: छह व्यक्ति दो समानांतर पंक्तियों में बैठे हैं। पंक्ति 1 में J, K और L उत्तर की ओर मुख करके बैठे हैं, और - पंक्ति 2 में F, G और H दक्षिण की ओर मुख करके बैठे हैं। एक पंक्ति में बैठे व्यक्ति का मुख दूसरी पंक्ति में बैठे - व्यक्ति की ओर है। G के समक्ष कौन बैठा है?

कथन:

- (I) H का मुख K की ओर है; L का मुख H के निकटतम पड़ोसी की ओर है।
- (II) G पंक्ति के किसी एक अंतिम छोर पर बैठा है; J, L के ठीक बाएं बैठा है।



Q.1 Question: Six people sit in two parallel rows. Row 1 - J, K and L sit facing towards north, and in Row 2 - F, G and H sit facing towards south. Each person in a row faces a person in the other row. Who faces G?

Statements:

- (I) H faces K; L faces an immediate neighbour of H.
- (II) G sits at one of the extreme ends of the row; J sits to the immediate left of L.

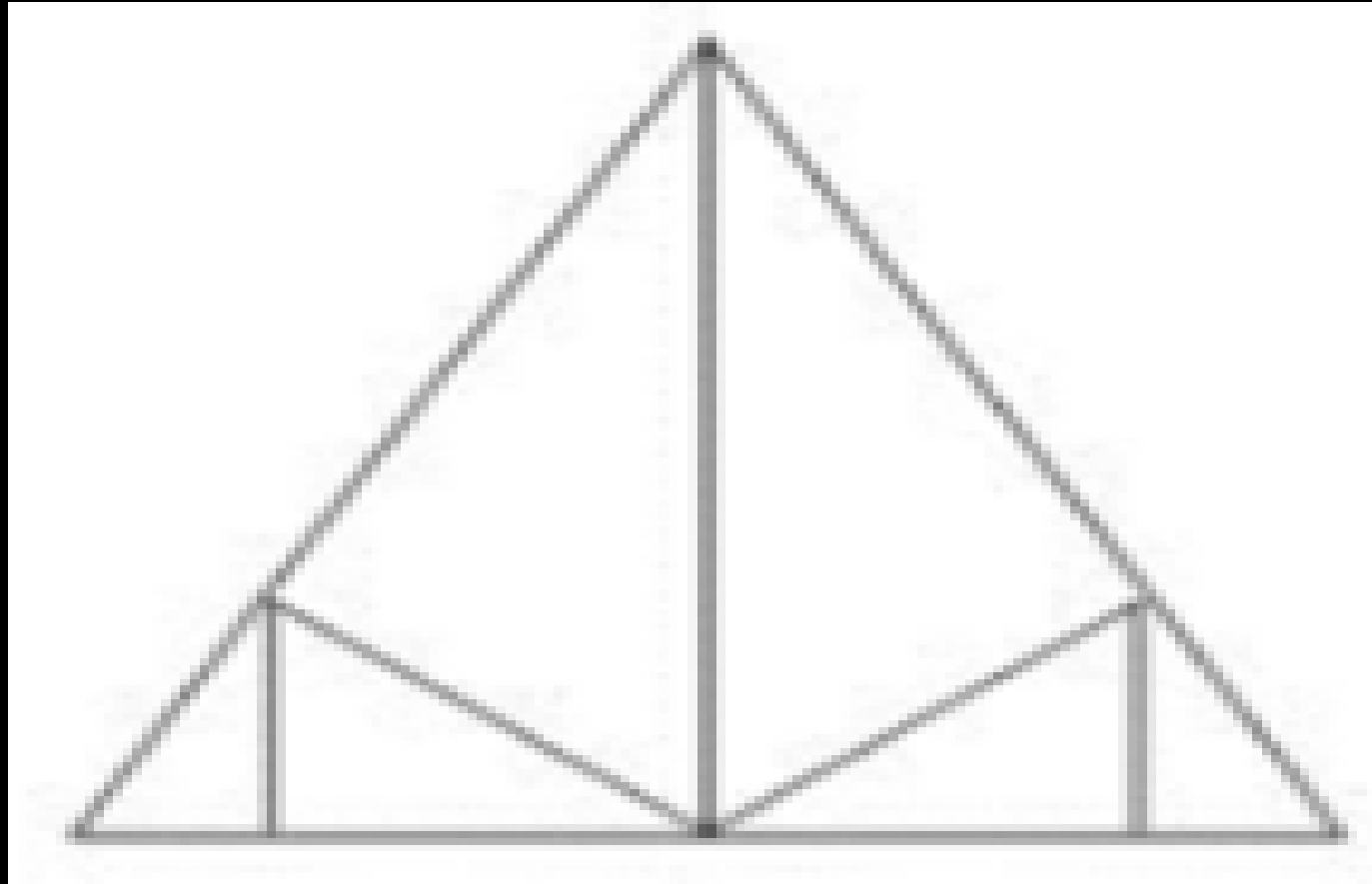
1. कथन I और II में दिया गया डेटा एक साथ प्रश्न का उत्तर देने के लिए पर्याप्त है
2. अकेले कथन II में डेटा प्रश्न का उत्तर देने के लिए पर्याप्त है जबकि कथन I में डेटा नहीं है
3. अकेले कथन I में डेटा प्रश्न का उत्तर देने के लिए पर्याप्त है जबकि कथन II में डेटा नहीं है
4. या तो कथन I अकेले या कथन II में डेटा अकेले प्रश्न का उत्तर देने के लिए पर्याप्त



Most Expected 250 Questions (Super Series)



Q.2 How many triangles are there in the given figure? / दी गई आकृति में कितने त्रिभुज हैं?



- (a) 10
- (b) 11
- (c) 12
- (d) 13



Q.3 In the following question, select the related letters from the given alternatives. / निम्नलिखित प्रश्न में दिए गए विकल्पों में से संबंधित अक्षरों को चुनिए।

KLMN : IJKL :: TUVW : ?



A) RSUT

B) VWXY

C) STUV

D) RSTU



Most Expected 250 Questions (Super Series)



Q.4 If "P" denotes "multiplied by", "R" denotes "subtracted from", "S" denotes "added to" and "Q" denotes "divided by", then which of the following equation is true? / यदि "P" का अर्थ "गुणा" है, "R" का अर्थ "घटाव" है, "S" का अर्थ "जोड़" है तथा "Q" का अर्थ "भाग" है, तो निम्नलिखित में से कौन सा समीकरण सही है?



- A) $18 R 60 Q 15 S 2 = 8$
- B) $15 S 16 Q 2 P 4 = 47$
- C) $3 P 5 R 18 Q 3 = 6$
- D) $15 S 28 Q 4 P 2 = 27$



Q.5 In a certain code language, "who are you" is written as "432", "they is you" is written as "485" and "they are dangerous" is written as "295". How is "dangerous" written in that code language? / एक विशिष्ट कोड भाषा में, "who are you" को "432" लिखा जाता है, "they is you" को "485" लिखा जाता है तथा "they are dangerous" को "295" लिखा जाता है। इस कोड भाषा में "dangerous" को किस प्रकार लिखा जाएगा?



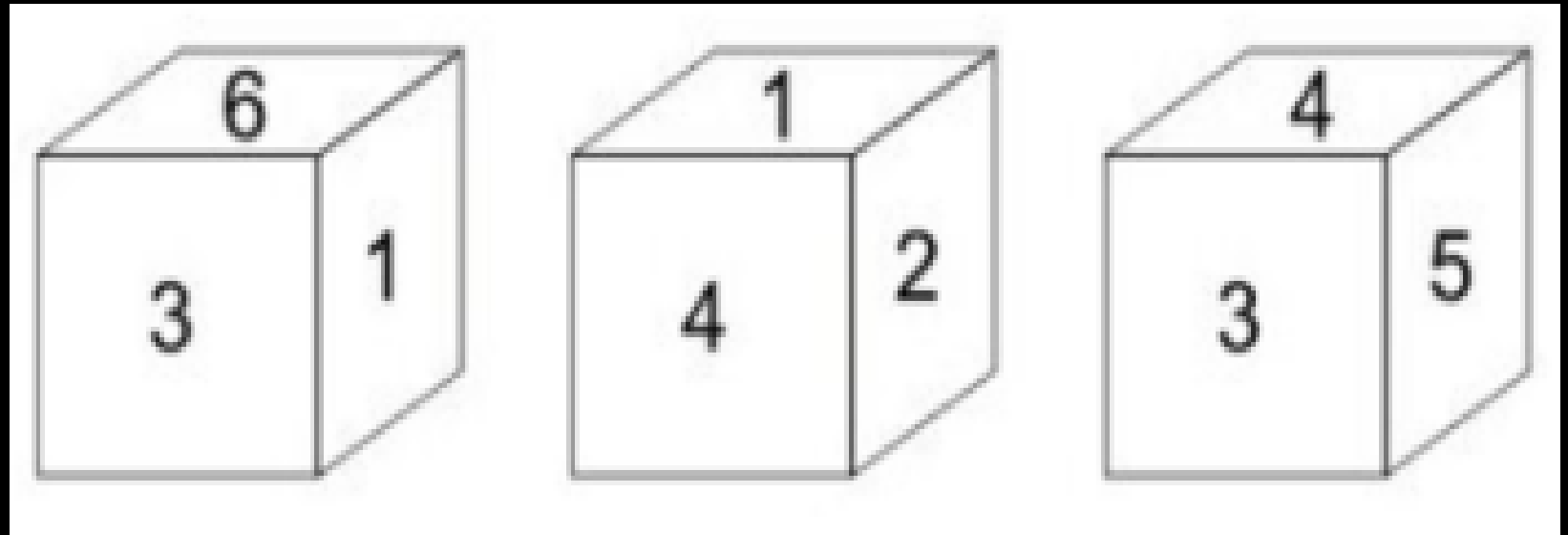
- A) 2 B) 4
C) 5 D) 9



Most Expected 250 Questions (Super Series)



Q.6 Three positions of a cube are shown below. What will come opposite to face containing '5'? / नीचे एक घन की तीन अवस्थाएँ दर्शायी गयी हैं। रोमन अंक '5' के विपरीत फलक पर कौन सा रोमन अंक आयेगा?



- (a) 6 (b) 1
- (c) 3 (d) 2



Most Expected 250 Questions (Super Series)



Q.7 In each of the following question, four words have been given out of which three are alike in some manner while the fourth one is different. Choose the odd one.

निम्नलिखित प्रत्येक प्रश्न में चार शब्द दिए गए हैं जिनमें से तीन किसी प्रकार से समान हैं जबकि चौथा भिन्न है। असंगत का चयन करें।

- (A) Sow (सुअरी) (B) Peacock (मोर)
(C) Peahen (मोरनी) (D) Mare(घोड़ी)





Most Expected 250 Questions (Super Series)



Q.9 In the following question, select the missing number from the given series. / निम्नलिखित प्रश्न में दिए गए विकल्पों में से लुप्त अंक ज्ञात कीजिए।

3, 8, 5, 27, 8, 64, 12, 125, 17, ?



- A) 216 B) 361
C) 625 D) 441



Most Expected 250 Questions (Super Series)



Q.10 Question: A, B, C and D are sitting around a circular table facing centre. Who sits to the immediate right of A?

प्रश्न: A, B, C और D एक वृत्ताकार मेज के चारों ओर केंद्र की ओर उन्मुख होकर बैठे हैं। A के निकटतम दायें कौन बैठा है?



Statements:/कथन:

- (I) C sits to the immediate left of A; only one person sits between C and D.
(I) C, A के निकटतम बायें बैठा है; C और D के बीच केवल एक व्यक्ति बैठा है।
(II) Only one person sits between A and B; C sits to the immediate right of B.
(II) A और B के बीच केवल एक व्यक्ति बैठा है; C, B के निकटतम दायें बैठा है।

- a) Data in statement I alone is sufficient to answer the question while data in statement II is not
b) Data in either statement I alone or statement II alone is sufficient to answer the question
c) Data in statements I and II together is sufficient to answer the question
कथन I और II में दी गई जानकारी एक साथ प्रश्न का उत्तर देने के लिए पर्याप्त है।
d) Data in statement II alone is sufficient to



Most Expected 250 Questions (Super Series)



Q.11 In the following question, select the number which can be placed at the sign of question mark (?) from the given alternatives. / निम्नलिखित प्रश्न में दिए गए विकल्पों में से प्रश्न चिन्ह (?) के स्थान पर आने वाली संख्या को चुनिए।

3	10	6	186
9	5	3	138
5	7	1	36
3	2	5	?



- A) 35 B) 42
C) 45 D) 95



Most Expected 250 Questions (Super Series)



Q.12 Which answer figure will complete the pattern in the question figure? / कौन सी उत्तर आकृति प्रश्न आकृति के प्रतिरूप को पूरा करेगी?

A 	B
C 	D





Q.13 Pointing towards a girl, Chetan said "She is the daughter of the only child of my grandmother". How is Chetan related to that girl? / एक लड़की की ओर संकेत करते हुए चेतन ने कहा, "वह मेरी दादी की एकमात्र सन्तान की पुत्री है।" चेतन उस लड़की से किस प्रकार संबंधित है?



- A) Father / पिता B) Son / पुत्र
C) Brother / भाई D) Husband / पति



Most Expected 250 Questions (Super Series)



Q.14 A piece of paper is folded and punched as shown below in the question figure. From the given answer figures. Indicate how it will appear when opened? / नीचे के प्रश्न आकृतियों में दिखाए अनुसार कागज को मोड़कर छेदने तथा खोलने के बाद वह किस उत्तर आकृति जैसा दिखाई देगा?



A 	B
C 	D



Q.15 Arrange the given words in the sequence in which they occur in the dictionary. / निम्नलिखित शब्दों को शब्दकोश में आने वाले क्रम के अनुसार लिखें।

1. Storm
2. Strap
3. Strangle
4. Stamped
5. Satire



A) 51432

B) 51342

C) 54132

D) 53412



Q.16 I. This year College X reduced the cut-off marks to 50 from 60 for the entrance exam.

II. In the last two years, the Students Union in College X has been actively negotiating with the college administration regarding the Quality of food and Health and Hygiene standards at the College Canteen.

1. इस वर्ष कॉलेज X ने प्रवेश परीक्षा के लिए कट ऑफ अंकों को 60 से घटाकर 50 कर दिया।

II. पिछले दो वर्षों में, कॉलेज X में छात्र संघ कॉलेज कैंटीन में भोजन की गुणवत्ता और स्वास्थ्य तथा स्वच्छता मानकों के संबंध में कॉलेज प्रशासन के साथ सक्रिय रूप से बातचीत कर रहा है।

1. II is the cause and I is its possible effect

2. I is the cause and II is its possible effect

3. Both I and II are effects of independent causes

4. Both I and II are independent causes





Most Expected 250 Questions (Super Series)



Q.17 A woman walks 3 km North, then turns West and walks 4 km, then turns South and walks 7 km, then turns to her left and walks 4 km. Where is she now with reference to her starting position? / एक महिला 3 कि.मी. उत्तर की ओर चलती है, फिर पश्चिम की ओर मुड़कर 4 कि.मी. चलती है, फिर दक्षिण की ओर मुड़कर 7 कि.मी. चलती है और फिर अपनी बाईं ओर मुड़कर 4 कि.मी. चलती है। वह अपनी प्रारंभिक स्थिति से अब कहां है?



- A) 10 km South / 10 कि.मी. दक्षिण
- B) 4 km North / 4 कि.मी. उत्तर
- C) 10 km North / 10 कि.मी. उत्तर
- D) 4 km South / 4 कि.मी. दक्षिण



Most Expected 250 Questions (Super Series)



Q.18 Priya's birthday is on Tuesday 11th April. On what day of the week will be Rani's Birthday in the same year if Rani was born on 31st August? / प्रिया का जन्मदिन 11 अप्रैल मंगलवार को है। उसी वर्ष रानी का जन्मदिन सप्ताह के किस दिन आएगा यदि रानी का जन्म 31 अगस्त को हुआ है?



- A) Monday / सोमवार B) Wednesday / बुधवार
C) Tuesday / मंगलवार D) Thursday / गुरुवार



Q.19 In each of the following question, four words have been given out of which three are alike in some manner while the fourth one is different. Choose the odd one.

निम्नलिखित प्रत्येक प्रश्न में चार शब्द दिए गए हैं जिनमें से तीन किसी प्रकार से समान हैं जबकि चौथा भिन्न है। असंगत का चयन करें।

- (A) Tulip(ट्यूलिप) (B) Lotus (कमल फूल)
(C) Marigold(गेंदे का फूल) (D) Rose (गुलाब)





Most Expected 250 Questions (Super Series)



Q.20 The weights of 4 boxes are 20, 40, 60 and 90 kilograms. Which of the following cannot be the total weight, in kilograms, of any combination of these boxes and in a combination a box can be used only once? / चार बक्सों का वजन 20, 40, 60 और 90 किलोग्राम है। निम्नलिखित में से बक्सों के किसी भी संयोजन से कुल वजन, किलोग्राम में कौन सा नहीं हो सकता है और एक संयोजन में एक बक्सा एक ही बार प्रयोग में लाया जा सकता है?



A) 150

B) 170

C) 120

D) 160



Most Expected 250 Questions (Super Series)



Q.21 If a mirror is placed on the line AB, then which of the answer figures is the image of the given figure? / यदि एक दर्पण को AB रेखा पर रखा जाए, तो दी गई उत्तर आकृतियों में से कौन सी आकृति प्रश्न आकृति की सही प्रतिबिम्ब होगी?



A

B

C

D



Most Expected 250 Questions (Super Series)



Q.22 In the following question, select the odd word from the given alternatives. / निम्नलिखित प्रश्न में दिए गए विकल्पों में से विषम शब्द को चुनिए।



- A) Ludo / लूडो B) Chess / शतरंज
C) Polo / पोलो D) Carrom / कैरम



Q.23 Statement : Should sale of alcohol near highways be banned? / कथन : राजमार्गों के पास शराब की बिक्री पर क्या प्रतिबंध लगाया जाना चाहिए?

Argument I : No, people should have freedom to decide as it is their fundamental right. / तर्क 1 : नहीं, लोगों को निर्णय लेने की स्वतंत्रता होनी चाहिए क्योंकि यह उनका मौलिक अधिकार है।

Argument II : Yes, 90 % of road accidents involve drivers who are under influence of alcohol. / तर्क 2 : हां, 90% सड़क दुर्घटनाओं में ड्राइवर जो कि शराब के प्रभाव में आते हैं वे शामिल हैं।

- A) if only argument I is strong./यदि केवल तर्क I मज़बूत है**
- B) if only argument II is strong. / यदि केवल तर्क II मज़बूत है**
- C) if both I and II are strong. / यदि दोनों तर्क I और II मज़बूत हैं**
- D) if neither I nor II is strong. / यदि ना तो तर्क I और ना ही तर्क II मजबूत हैं**





Most Expected 250 Questions (Super Series)



Q.24 A series is given, with one term missing. Choose the correct alternative from the given ones that will complete the series. / एक अनुक्रम दिया गया है, जिसमें एक पद लुप्त है। दिए गए विकल्पों में से वह सही विकल्प चुनिए जो अनुक्रम को पूरा करे।

DFE, HJI, LNM, PRQ, ?



- A) STU B) TVU
C) UVW D) RST



Q.25 Statement: Some serious mistakes were found in the technical section of a company.

कथन: एक कंपनी के तकनीकी अनुभाग में कुछ गंभीर त्रुटियाँ पाई गईं।

Course of Action:/ कार्रवाइयाँ:

I. An efficient technical team should be appointed to check the technical errors.

I. तकनीकी त्रुटियों की जाँच के लिए एक कुशल तकनीकी टीम नियुक्त की जानी चाहिए।

II. A reason explanation notice should be issued to all the employees involved in the irregularities.

II. अनियमितताओं में शामिल सभी कर्मचारियों को कारण स्पष्टीकरण नोटिस जारी किया जाएँ।

a) Neither I nor II follows / न तो I न ही II अनुसरण करता है।

b) Only I follows/ केवल I अनुसरण करता है।

c) Only II follows/ केवल II अनुसरण करता है।

d) Both I and II follow / I और II दोनों अनुसरण करते हैं।





Most Expected 250 Questions (Super Series)



Q.26 दी गई अक्षर-श्रृंखला के खाली स्थानों पर क्रम से रखने पर निम्नलिखित में से कौन सा अक्षर समूह उसे पूरा करेगा? /Which one set of letters when sequentially placed at the gaps in the given letter series shall complete it ?

K L M _ , K L _ N , K _ M N , _ L M N



A) NMLK

B) KLMN

C) LKNM

D) KLN M



Most Expected 250 Questions (Super Series)



Q.27 Select the odd letters from the given alternatives. / दिए गए विकल्पों में से विषम अक्षरों को चुनिए।



A) DFH

B) KMO

C) QTW

D) SUW



Most Expected 250 Questions (Super Series)



Q.28 A series is given, with one word missing. Choose the correct alternative from the given ones that will complete the series. / एक अनुक्रम दिया गया है, जिसमें एक शब्द लुप्त है। दिए गए विकल्पों में से वह सही विकल्प चुनिए जो अनुक्रम को पूरा करे।

Good, Odour, Urban, Anthem, ?



A) Anthill

B) Empathy

C) Europe

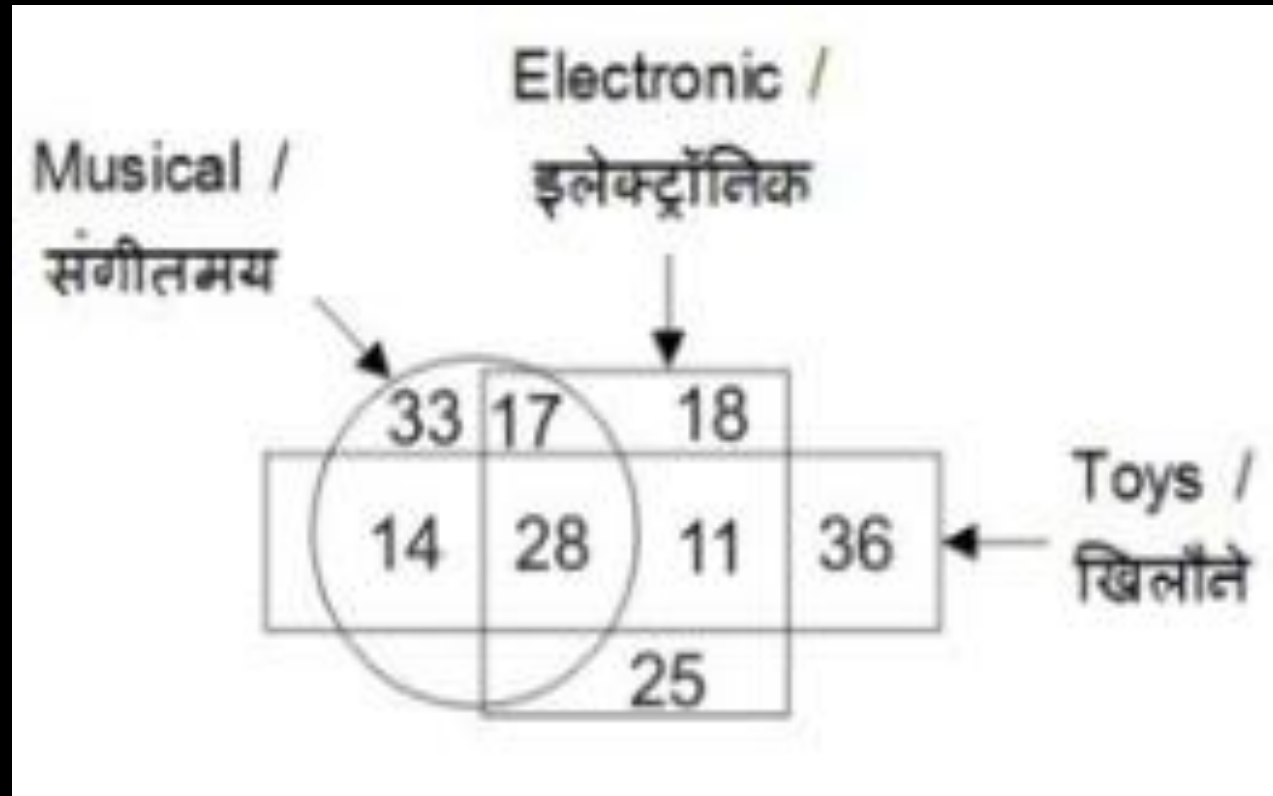
D) Goose



Most Expected 250 Questions (Super Series)



Q.29 In the given figure, how many are musical toys? / दी गई आकृति में, कितने संगीतमय खिलौने हैं?



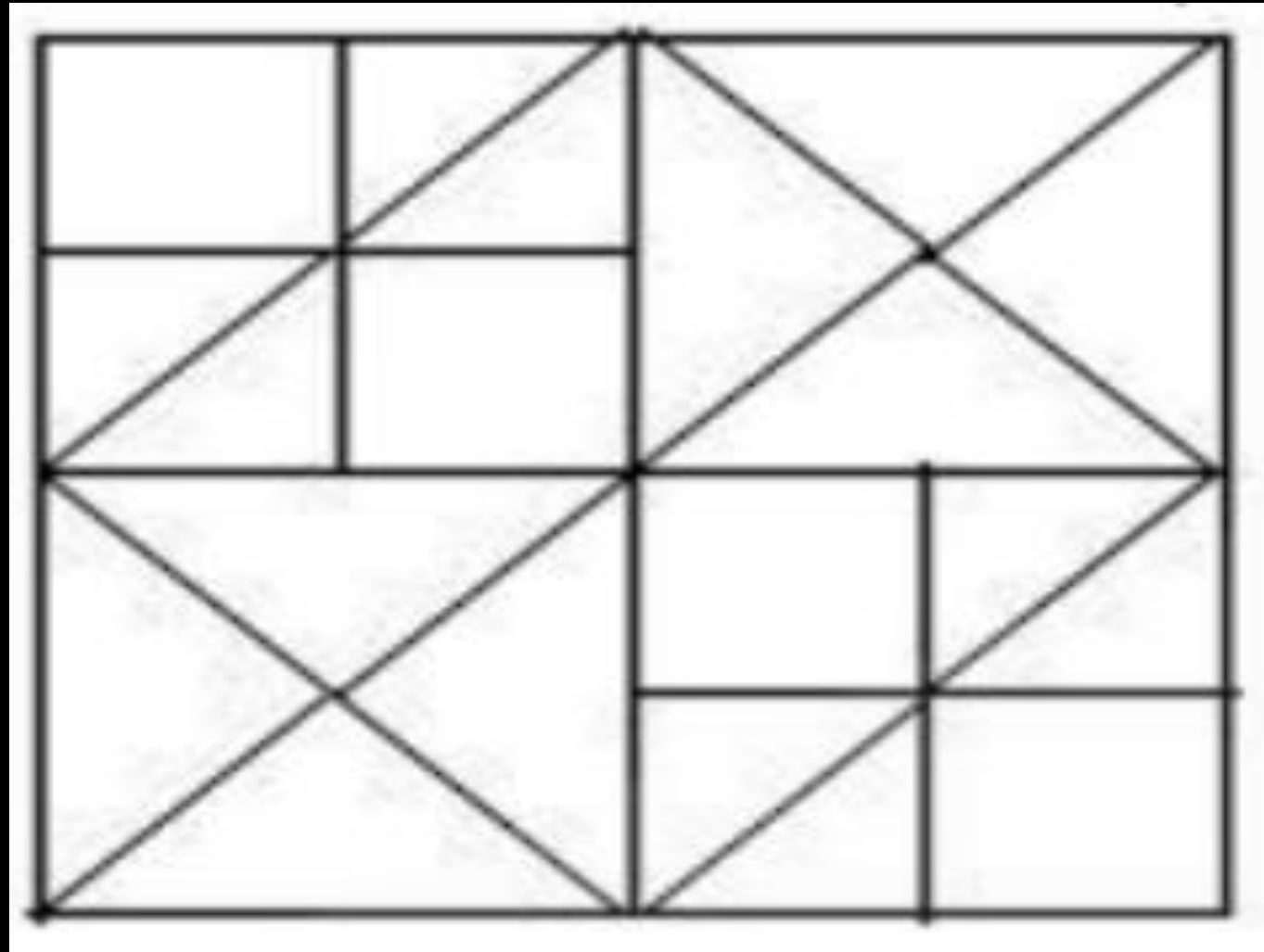
- A) 53
- B) 61
- C) 42
- D) 45



Most Expected 250 Questions (Super Series)



Q.30 How many squares are there in the following figure?
निम्नलिखित आकृति में कितने वर्ग हैं?



- a) 12
- b) 16
- c) 13
- d) 14



THANK YOU