



SSC CHSL 2023



EXAM DAY

मैराथन

4 घंटे लगातार

**ALL
SUBJECTS**



पूरे दिन का **संपूर्ण विश्लेषण** एवं आधारित प्रश्नों की चर्चा

2 अगस्त से 21 अगस्त रोज़ शाम 6 बजे से 10 बजे तक



SSC CHSL 2023 (EXAM DAY)

Q1. Select the word-pair in which the two words are related in the same way as are the two words in the following word pair.

उस शब्द-युग्म का चयन करें जिसमें दो शब्द उसी प्रकार Butterflies जैसे Lepidopterist शब्द युग्म से संबंधित हैं।

लेपिडोप्टेरिस्ट

(A) Chromosomes:

Botanist

(B) Postcards :

Deltiologist

(C) Jewels : Jeweler

(d) Maps :

Cartographer

(A) गुणसूत्र:

वनस्पतिशास्त्री

(B) पोस्टकार्ड:

डेल्टियोलॉजिस्ट

(C) आभूषण : जौहरी

(D) मानचित्र:



SSC CHSL 2023 (EXAM DAY)

Q2. Arrange the following words in a logical and meaningful order 1. Monkey 2. Elephant 3. Rat 4. Fly 5. Lion

निम्नलिखित शब्दों को तार्किक और सार्थक क्रम में व्यवस्थित करें

1. बंदर 2. हाथी 3. चूहा 4. मक्खी 5. शेर

- ~~(A) 3, 4, 1,
5, 2~~
- (B) 4, 3, 1,
5, 2
- (C) 4, 1, 3,
2, 5
- (D) 3, 4, 1



SSC CHSL 2023 (EXAM DAY)

Q.3 Select the option that is related to the third letter-cluster in the same way as the second letter cluster is related to the first letter-cluster.

उस विकल्प का चयन करें जो तीसरे अक्षर-समूह से उसी प्रकार संबंधित है जैसे दूसरा अक्षर समूह पहले अक्षर-समूह से संबंधित है।

GATE: HXYX :: SINK: _____

+1 -3 +5 -7

(A) TGS

E

(B) TET

D

(C) TES



SSC CHSL 2023 (EXAM DAY)

Q.4 Three of the following four words are alike in a certain way and one is different. Pick the odd one out.

निम्नलिखित चार शब्दों में से तीन एक निश्चित तरीके से समान हैं और एक भिन्न है

(A) Roar

~~(B) Hoot~~

~~(C) Bray~~

(D)

Amble



SSC CHSL 2023 (EXAM DAY)

Q.5 In a code language, BLEND is written as ENHPG. How will WINNER be written in the same language?

एक कूट भाषा में BLEND को ENHPG लिखा जाता है। उसी भाषा में WINNER कैसे लिखा जाएगा?

BLEND
+3+2+3+2+3
ENHPG

WINNER
+3+2+3+2+3+2

ZKQPHT

(A) ZKQPHT

(B) ZKQPHU

(C) YKQPHT

(D) ZKOPHT



SSC CHSL 2023 (EXAM DAY)

Q.6 If $V=44$ and $FAT=54$, then how will you code LATE?

यदि $V=44$ और $FAT=54$ है, तो आप LATE को कैसे कोड करेंगे?

$$V = 22 \times 2 = 44$$

$$FAT \rightarrow 6 + 1 + 20 = 27 \times 2 = 54$$

L A T E

$$12 + 1 + 20 + 5 = 38 \times 2 = 76$$

(A) 76

(B) 110

(C) 54

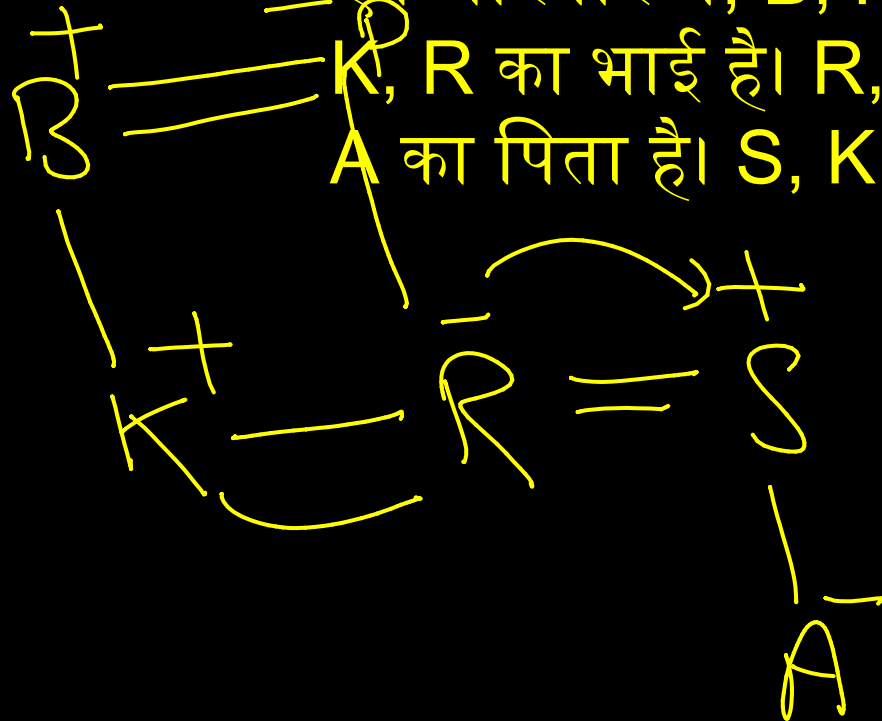
(D) 19



SSC CHSL 2023 (EXAM DAY)

Q.7 In a family, B is the father of K. B has only two children. K is the brother of R. R is the daughter of P. A is the grand-daughter of P. S is the father of A. how is S related to K?

एक परिवार में, B, K का पिता है। B के केवल दो बच्चे हैं। K, R का भाई है। R, P की बेटी है। A, P की पोती है। S, A का पिता है। S, K से कैसे संबंधित है?



(A) Son

(B) Brother-in-law

(C) Brother

(D) Son-in-law



SSC CHSL 2023 (EXAM DAY)

Q.8 A plastic toy costs Rs7. A plastic spoon costs Rs5. X spends Rs38 on these plastic items. Find the number of plastic toys he/she purchased?

एक प्लास्टिक के खिलौने की कीमत 7 रुपये है। एक प्लास्टिक चम्मच की कीमत 5 रुपये है। X इन प्लास्टिक वस्तुओं पर 38 रुपये खर्च करता है। उसने खरीदे गए प्लास्टिक के खिलौनों की संख्या ज्ञात कीजिए?

~~7x~~

$$\begin{array}{r} 7 \times 4 = 28 \\ 5 \times 2 = 10 \\ \hline 38 \end{array}$$

- (A) 3
- (B) 4
- (C) 5
- (D) 2



SSC CHSL 2023 (EXAM DAY)

Q.9 Three of the following four letter-clusters are alike in a certain way and one is different. Pick the odd one out

निम्नलिखित चार अक्षर-समूहों में से तीन एक निश्चित तरीके से समान हैं और एक भिन्न है।

- (A) HSKPM
- (B) PKSHV
- (C) DWGTJ
- (D) JQMNP



SSC CHSL 2023 (EXAM DAY)

$$11 \times 3 = 33 + 2 = 35$$
$$35 \times 3 = 105 + 2 = 107$$

Q10. Select the set in which the numbers are related in the same way as are the numbers of the following set.

उस सेट का चयन करें जिसमें संख्याएँ उसी प्रकार संबंधित हैं जैसे निम्नलिखित सेट की संख्याएँ हैं।

$$4 \times 3 = 12 + 2 = 14$$
$$14 \times 3 = 42 + 2 = 44$$

(A) (11, 35, 107)

(B) (5, 15, 30)

(C) (7, 23, 69)

(D) (9, 30, 57)



SSC CHSL 2023 (EXAM DAY)

Q.11 Which two signs should be interchanged in the following equation to make it correct?

निम्नलिखित समीकरण को सही बनाने के लिए इसमें किन दो चिन्हों को आपस में बदला जाना चाहिए?

$$132 \times 11 + 8 - 3 \div 12 = -16$$

Handwritten: $132 - 11 + 8 - 3 \times 12 = -16$

Handwritten: $12 + 8 - 36 = -16$

Handwritten: $20 - 36 = -16$

Handwritten: $16 = -16$

(A) + and -

(B) × and ÷

(C) + and ×

(D) - and

×



SSC CHSL 2023 (EXAM DAY)

Q.12 Three of the following four numbers are alike in a certain way and one is different. Pick the number that is different from the rest.

निम्नलिखित चार संख्याओं में से तीन एक निश्चित तरीके से समान हैं और एक भिन्न है।
 $5+8 = 5138$

$$9+8 = 9178$$

$$7+8 = 7158$$

(A) 5138

(B) 3128

(C) 9178

(D) 7158



SSC CHSL 2023 (EXAM DAY)

Q13. Select the set in which the numbers are related in the same way as are the numbers of the following set.
उस सेट का चयन करें जिसमें संख्याएँ उसी प्रकार संबंधित हैं जैसे निम्नलिखित सेट की संख्याएँ हैं।

$$6^3 - 4^3$$

$$(4, 152, 6)$$

$$216 - 64 = 152$$

$$6^3 - 2^3$$

$$216 - 8 = 208$$

- ~~(A) (5, 287, 8)~~
~~(B) (4, 179, 7)~~
(C) (3, 55, 4)



SSC CHSL 2023 (EXAM DAY)

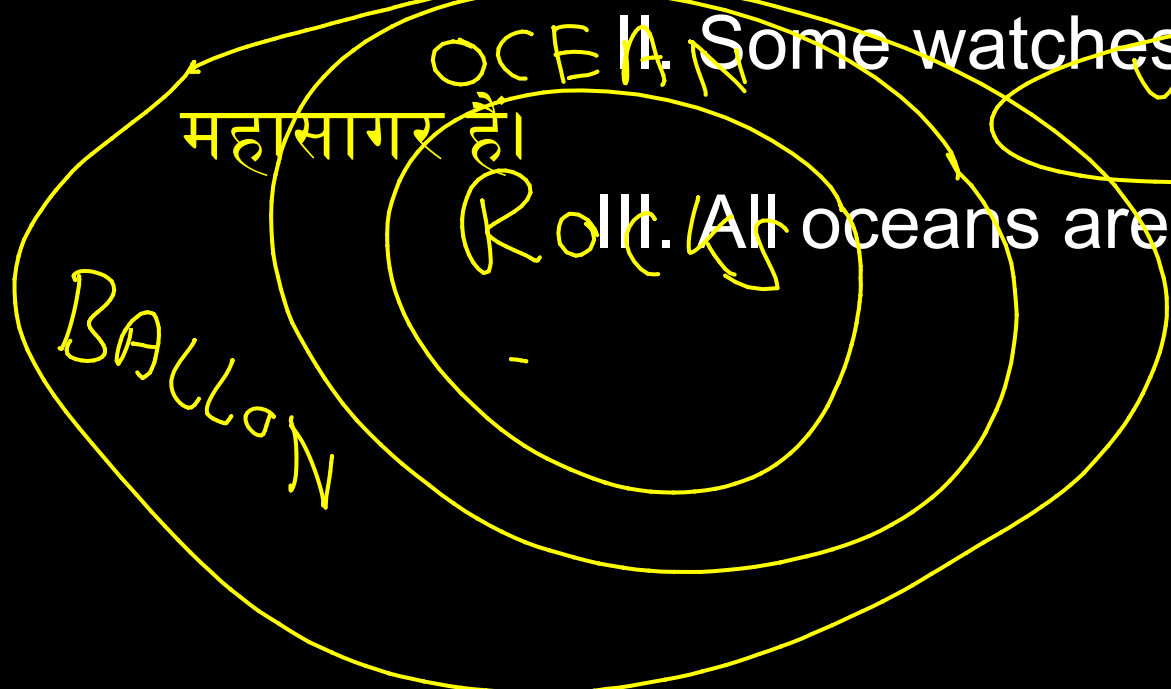
Q.14 Statements: All rocks are oceans. / सभी चट्टानें महासागर हैं।
All oceans are balloons. / सभी महासागर गुब्बारे हैं।

Some watches are balloons. / कुछ घड़ियाँ गुब्बारे हैं।

Conclusions: I. Some balloons are rocks. / कुछ गुब्बारे चट्टानें हैं।

II. Some watches are oceans. / कुछ घड़ियाँ महासागर हैं।

III. All oceans are rocks. / सभी महासागर चट्टानें हैं।



(A) Only conclusion I follows.

(B) Only conclusions I and III follows.

(C) Only conclusions I and II follows.



SSC CHSL 2023 (EXAM DAY)

Q.15 Which number will replace the question mark (?) in the following series?

निम्नलिखित श्रृंखला में कौन सी संख्या प्रश्न चिह्न (?) का स्थान लेगी?

$$5 \times 2 = 10 - 2 = 8 \quad 5, \quad 8, \quad 20, \quad 34, \quad 76, \quad 142,$$

$$8 \times 2 = 16 + 4 = 20$$

$$20 \times 2 = 40 - 6 = 34$$

$$34 \times 2 = 68 + 8 = 76$$

$$76 \times 2 = 152 - 10 = 142$$

$$142 \times 2 = 284 + 12 = 296$$

(A) 284

(B) 302

(C) 296

(D) 272



SSC CHSL 2023 (EXAM DAY)

$$\begin{array}{r} 25 \\ -16 \\ \hline 9 \end{array}$$

$$7^2 + 6$$

$$= 49 + 36 = 85$$

$$8^2 + 7^2$$

$$64 + 49 = 113$$

Q.16 Select the number-pair in which the two numbers are related in the same way as are the two numbers of the following number-pair.

उस संख्या-जोड़ी का चयन करें जिसमें दो संख्याएँ उसी प्रकार संबंधित हैं जैसे कि निम्नलिखित संख्या-जोड़ी की दो संख्याएँ हैं।

$$2^2 + 1^2 = 5$$

$$5^2 + 4^2 = 41$$

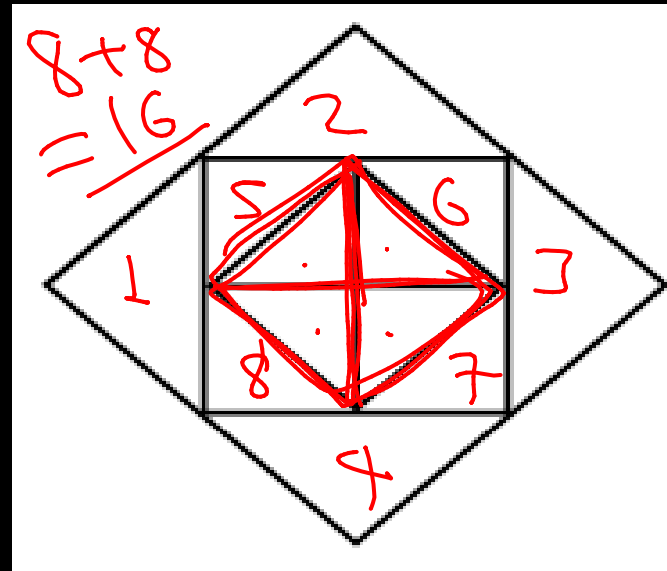
- ~~(A) 3:31~~
- ~~(B) 2:9~~
- ~~(C) 5:43~~
- (D) 8:113



SSC CHSL 2023 (EXAM DAY)

Q.17 How many triangles are present in the following figure.?

निम्नलिखित आकृति में कितने त्रिभुज मौजूद हैं?



- (A) 14
- (B) 15
- (C) 16
- (D) 13



SSC CHSL 2023 (EXAM DAY)

Q.18 'Chickenpox' is related to 'Virus' in the same way as 'Ringworm' is related to '___'
'चिकनपाँक्स' का संबंध 'वायरस' से उसी प्रकार है जैसे
'दाद' का संबंध '___' से है

(A)Protozoan (A)प्रोटोजो

(B) Bacterium (B)जीवाणु

(C)Nematodes (C)नेमाटोड

(D) Fungus (D)कुकुरमुत्ता



SSC CHSL 2023 (EXAM DAY)

Q.19 Select the combination of letters that when sequentially placed in the gaps of the given letter series will complete the series.

अक्षरों के उस संयोजन का चयन करें जिसे दी गई अक्षर श्रृंखला के अंतराल में क्रमिक रूप से रखने पर श्रृंखला पूरी हो जाएगी।

a b c d a b _ _ d _ b _ c d a
b _ c _

(A) cacacd

c

(B) acacdc

c

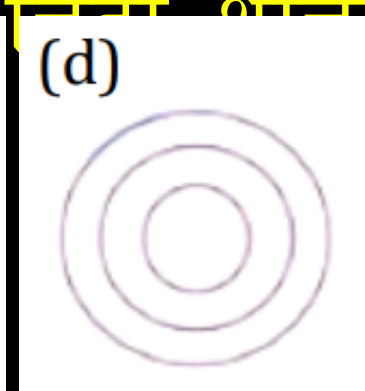
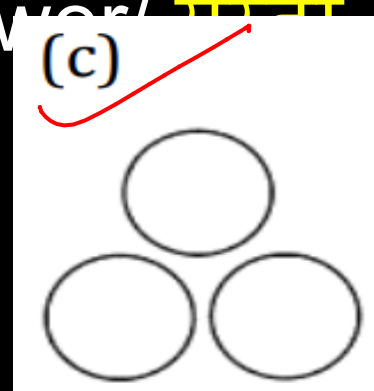
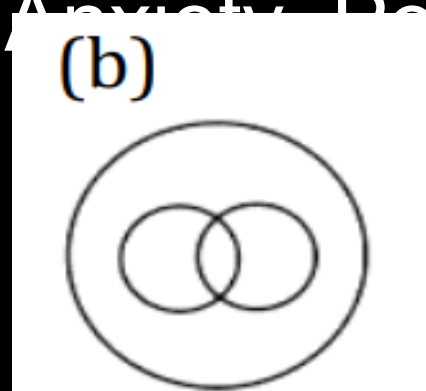
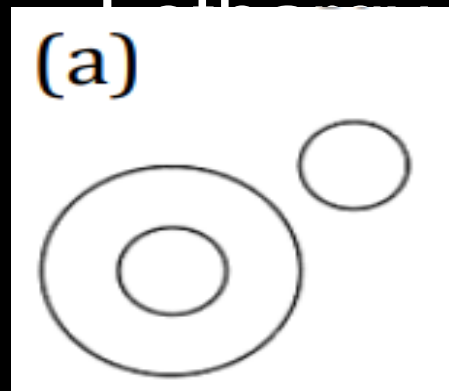
(C) ccaacd



SSC CHSL 2023 (EXAM DAY)

Q.20 Select the Venn diagram that best illustrates the relationship between the following classes.

उस वेन आरेख का चयन करें जो निम्नलिखित वर्गों के बीच संबंध को सर्वोत्तम रूप से दर्शाता है।



- (A)A
- (B)B
- (C)C
- (D)D



SSC CHSL 2023 (EXAM DAY)

Q.21 If all the letters in the word SCRIMMAGE are arranged as they appear in English alphabetical order, the position of how many letters will remain unchanged after rearrangement?

यदि **SCRIMMAGE** शब्द के सभी अक्षरों को अंग्रेजी वर्णमाला के क्रम में व्यवस्थित किया जाए, तो पुनर्व्यवस्थित करने के बाद कितने अक्षरों की स्थिति अपरिवर्तित रहेगी?

S
A C E G I M M R S

- (A) None
- (B) One
- (C) Two
- (D) Three



SSC CHSL 2023 (EXAM DAY)

Q.22 If 'eye' is called 'hand', 'hand' is called 'mouth', 'mouth' is called 'ear', 'ear' is called 'nose', and 'nose' is called 'tongue'. With which of the following would a person hear ?

यदि 'आंख' को 'हाथ' कहा जाता है, 'हाथ' को 'मुंह' कहा जाता है, 'मुंह' को 'कान' कहा जाता है, 'कान' को 'नाक' कहा जाता है, और 'नाक' को 'जीभ' कहा जाता है। एक व्यक्ति निम्नलिखित में से किसके द्वारा सुनेगा?

(A) eye

(B) mouth

(C) nose



SSC CHSL 2023 (EXAM DAY)

Q.23 In a row of 15 children, when Raju was shifted three places towards right, he becomes 8th from the right end. What was his earlier position from the left end in the row?

$$11 + 3 =$$

15 बच्चों की एक पंक्ति में, जब राजू को तीन स्थान दाईं ओर स्थानांतरित किया गया तो वह दाएं छोर से 8वें स्थान पर आ गया। पंक्ति में बायें छोर से उसका पिछला स्थान क्या था?

- (A) 14
- (B) 5
- (C) 6
- (D) 12

⑤ Raju



SSC CHSL 2023 (EXAM DAY)

Q.24 A is B's Sister. C is B's Mother. D is C's Father. E is D's Mother. Then how is A related to D?



A, B की बहन है। C, B की माँ है। D, C का पिता है। E, D की माँ है। तो फिर A, D से कैसे संबंधित है?

(A) Grandmother

(B)

~~Grandfather~~

(C) Daughter

(D)

Granddaughter



SSC CHSL 2023 (EXAM DAY)

M A C H I N E

N Z X S R M V
1+4 2+6 2+4 1+9 1+8 1+3 2+2

5 8 6 1 9 4 4

S T O
F S O
8 7 0

Q.25 In a certain code language, MACHINE is coded as 5861944. How will STORK be coded in that language?

एक निश्चित कोड भाषा में, MACHINE को 5861944 के रूप में कोडित किया जाता है। उस भाषा में STORK को कैसे कोडित किया जाएगा?

96479 176
9 7

(B) 12692

(A)



SSC CHSL 2023 (EXAM DAY)

THANK YOU