



SSC CHSL 2023



EXAM DAY

मैराथन

4 घंटे लगातार

**ALL
SUBJECTS**



पूरे दिन का **संपूर्ण विश्लेषण** एवं आधारित प्रश्नों की चर्चा

2 अगस्त से 21 अगस्त रोज़ शाम 6 बजे से 10 बजे तक



SSC CHSL 2023 (EXAM DAY)

Q1 . Chiropractor is related to joints in the same way as pediatricians is related to?

कायरोप्राैक्टर जोड़ों से उसी प्रकार संबंधित है जिस प्रकार बाल रोग विशेषज्ञ संबंधित है?

- (A)Foot
- (B)Gynec
- o
- (C)Childre



SSC CHSL 2023 (EXAM DAY)

Q.2 Ram is brother of Atul. Rekha is sister of Rohit. Atul is son of Rekha. How Ram is related to Rekha

राम, अतुल का भाई है। रेखा रोहित की बहन है। अतुल रेखा का पुत्र है। राम रेखा से किस प्रकार संबंधित है?

- (A) Son
- (B) Brother
- (C) Nephew



SSC CHSL 2023 (EXAM DAY)

Q.3 Statements: All Vodafones are idea / सभी वोडाफोन आइडिया हैं

Some Jio are Airtel / कुछ जियो

Conclusions: I. some Airtel are Vodafones./ कुछ एयरटेल हैं

Some Airtel are Idea / कुछ एयरटेल आइडिया हैं

II. All Idea are Airtel / सभी आइडिया

एयरटेल हैं

III. No Idea is Jio./ कोई आइडिया जियो नहीं है.

जियो नहीं है.

(A) only conclusions I and II

(B) All conclusions follows.

(C) only conclusions II and III

(D) No conclusion follow



SSC CHSL 2023 (EXAM DAY)

Q.4 Three of the following four words are alike in a certain way and one is different. Pick the odd word out.

निम्नलिखित चार शब्दों में से तीन एक निश्चित तरीके से समान हैं और एक भिन्न है। बेजोड़ शब्द चुनें.

(A)Thorium

(B)Uranium

(C)Radium

(D)Sodium



SSC CHSL 2023 (EXAM DAY)

Q.5 Select the word pair in which the two words are related in the same way as the two words in the following word-pair.

उस शब्द युग्म का चयन करें जिसमें दो शब्द उसी प्रकार संबंधित हैं जैसे निम्नलिखित शब्द-जोड़ी के दो शब्द संबंधित हैं।

Brass : Copper

(A) Chromium :
Silver

(B) Bronze : Gold

(C) Nickle : Iron

(D) Solder : Tin



SSC CHSL 2023 (EXAM DAY)

Q.6 Find the missing number from the below options.

निम्नलिखित विकल्पों में से लुप्त संख्या ज्ञात करें

17	22	37
23	28	43
16	?	36

- (A)12
- (B)32
- (C)21
- (D)34



SSC CHSL 2023 (EXAM DAY)

Q.7 Select the terms that will replace the ? in the following series.

उन शब्दों का चयन करें जो ? का स्थान लेंगे निम्नलिखित श्रृंखला में.

Z, X, V, ?, R, P, ?

(A)S, N

(B)S, O

(C)T, O

(D)T, N



SSC CHSL 2023 (EXAM DAY)

Q.8 Arrange the following words in a logical and meaningful order.

निम्नलिखित शब्दों को तार्किक और सार्थक क्रम में व्यवस्थित करें।

1. Write
2. Publish
3. Author
4. Reader
5. Sale

(A) 3, 1, 2, 5,
4

(B) 4, 3, 1, 2,
5

(C) 3, 2, 1, 5,
4



SSC CHSL 2023 (EXAM DAY)

Q.9 Select the term that will come next in the following series.

उस पद का चयन करें जो निम्नलिखित श्रृंखला में अगला आएगा।

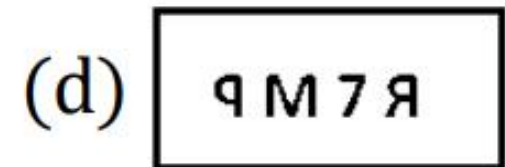

- OBE, PDH, QFK, RHN,
? (A)SKQ
(B)RJQ
(C)SJQ
(D)SJP



SSC CHSL 2023 (EXAM DAY)

Q.10 Select the correct mirror image of the given figure when the mirror is placed to the right of the figure.

दी गई आकृति की सही दर्पण छवि चुनिए जब दर्पण दाईं ओर रखा जाएगा।





SSC CHSL 2023 (EXAM DAY)

Q.11 Which two signs should be interchanged in the following equation to make it correct?

निम्नलिखित समीकरण को सही बनाने के लिए इसमें किन दो चिन्हों को आपस में बदला जाना चाहिए?

$$24 \div 8 - 5 \times 5 + 3 = 13 \quad \text{(A) } \times \text{ and}$$

-

(B) \times and

(D) $+$ and \div

(C) \div and

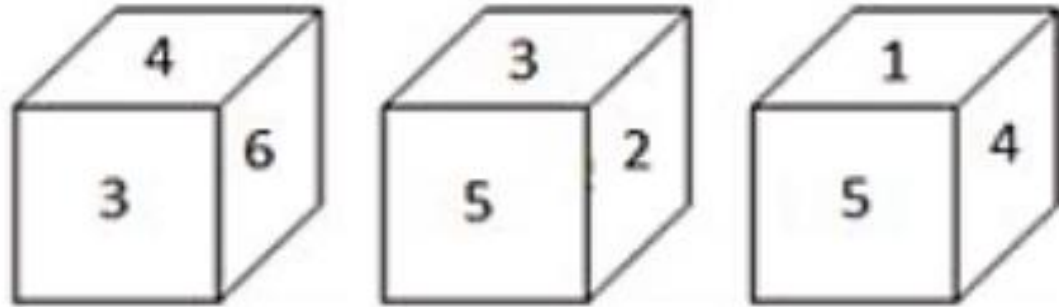
\times



SSC CHSL 2023 (EXAM DAY)

Q.12 Three different positions of a dice are shown below. Which number appears on the face opposite the number 6?

एक पासे की तीन अलग-अलग स्थितियाँ नीचे दिखाई गई हैं। संख्या 6 के विपरीत फलक पर कौन सी संख्या दिखाई



- (A) 1
- (B) 2
- (C) 4
- (D) 5



SSC CHSL 2023 (EXAM DAY)

Q.13 If AU = 21 and EGG = 245, then how will you code BAKE?

यदि AU = 21 और EGG = 245 है, तो आप BAKE को कैसे कोडित करेंगे?

(A)19

(B)75

(C)110

(D)155



SSC CHSL 2023 (EXAM DAY)

Q.14 'Cheerful' is related to 'Sad' in the same way as 'Generous' is related to _____.

हँसमुख' का संबंध 'दुखद' से उसी प्रकार है जिस प्रकार 'उदार' का संबंध _____ से है।

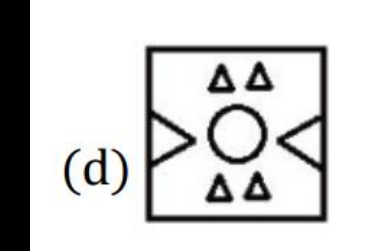
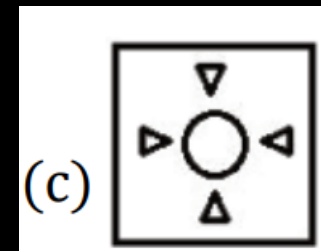
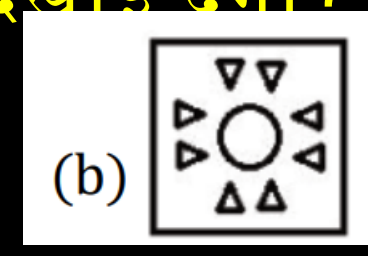
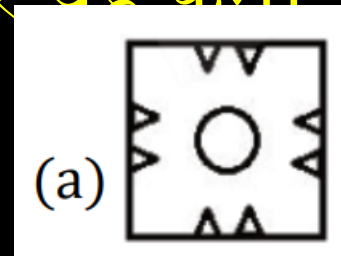
- (A)Gloom
y
- (B)Kind
- (C)Selfish
- (D)Intellig



SSC CHSL 2023 (EXAM DAY)

Q.15 A square paper is folded and cut as shown below. How will it appear when unfolded?

एक चौकोर कागज को नीचे दिखाए अनुसार मोड़ा और काटा गया है। उसको पर यह कैसा दिखाई देगा?



- (A) A
- (B) B
- (C) C
- (D) D

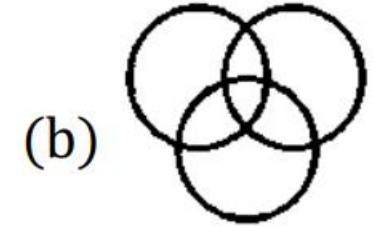
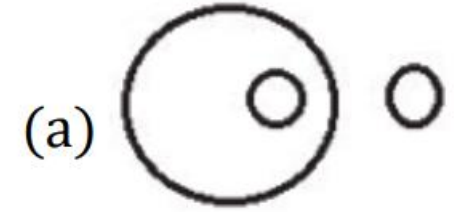


SSC CHSL 2023 (EXAM DAY)

Q.16 Choose the Venn diagram from the given options which best represents the relationship amongst the following classes:

दिए गए विकल्पों में से वह वेन आरेख चुनें जो निम्नलिखित वर्गों के बीच संबंध को सबसे अच्छा दर्शाता है:

Wheat, Mustard, Cabbage/गेहूँ, सरसों, पत्तागोभी





SSC CHSL 2023 (EXAM DAY)

Q.17 In a code language, NEEDLE is written as MFDEKF. How will HAMMER be written in the same language?

एक कूट भाषा में, NEEDLE को MFDEKF लिखा जाता है। HAMMER को उसी भाषा में कैसे लिखा जाएगा?

(A)GBLNFT

(B)IBLNDS

(C)GALND

S

(D)GBLND

S



SSC CHSL 2023 (EXAM DAY)

Q.18 Find the missing number from the below options.

4	3	19
6	4	40
9	9	?

संख्या ज्ञात

- (A)90
- (B)80
- (C)72
- (D)100



SSC CHSL 2023 (EXAM DAY)

Q.19 Three of the following four number-pairs are alike in a certain way and one is different. Pick the odd one out.

निम्नलिखित चार संख्या-जोड़ियों में से तीन एक निश्चित तरीके से समान हैं और एक भिन्न है। बेजोड़ को चुनें।

(A) 65-

~~(B) 126-~~

50

(C) 17-

37

(D) 49-



SSC CHSL 2023 (EXAM DAY)

Q.20 Statements: All teachers are painters./

सभी शिक्षक चित्रकार हैं।

Some painters are rich./ कुछ

चित्रकार अमीर हैं.

Conclusions: I. All painters are teachers. / सभी
चित्रकार शिक्षक हैं

II. Some rich painters are not teachers./ कुछ
अमीर चित्रकार नहीं हैं।

(A) Only conclusion I follows
(B) Neither conclusion I nor II follows

(C) Only conclusion I follows

(D) Either conclusion I or II

follows



SSC CHSL 2023 (EXAM DAY)

THANK YOU