

SSC CGL/CHSL TIER II 2023



CRASH COURSE **FREE**
REASONING

CALENDAR



DAY-4

LIVE

03:00 PM



Join my

TELEGRAM GROUP

 @reasoningbymohitsir

 Daily PDF of all YT sessions

 Discussion / Doubt Solving

 Direct Interaction with me

 Quiz

 Polls



Q.1 If January 1, 2008 is Tuesday then what day of the week lies on Jan 1, 2009?

यदि 1 जनवरी 2008 को मंगलवार है तो 1 जनवरी 2009 को सप्ताह का कौन सा दिन है?



- (A)Monday**
- (B)Wednesday**
- (C)Thursday**
- (D)Sunday**

Q.2 If January 1, 2007 was Monday then what day of the week lies on Jan. 1, 2008?


यदि 1 जनवरी 2007 को सोमवार था तो 1 जनवरी 2008 को सप्ताह का कौन सा दिन पड़ेगा?



- (A)Monday
- (B)Tuesday
- (C)Wednesday
- (D)Sunday

Q.3 If 6th March, 2005 is Monday then what was the day of the week on 6th March, 2004?

यदि 6 मार्च, 2005 को सोमवार है तो 6 मार्च, 2004 को सप्ताह का कौन सा दिन था?



- (A) Sunday**
- (B) Saturday**
- (C) Tuesday**
- (D) Wednesday**

Q.4 If it was Sunday on Jan 1, 2006 then What was the day of the week Jan 1, 2010?

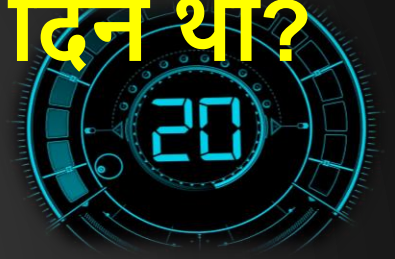
यदि 1 जनवरी 2006 को रविवार था तो 1 जनवरी 2010 को सप्ताह का कौन सा दिन था?



- (A) Sunday**
- (B) Saturday**
- (C) Friday**
- (D) Wednesday**

**Q.5 What was the day of the week on
28th May, 2006?**

28 मई 2006 को सप्ताह का कौन सा दिन था?



- (A)Thursday**
- (B)Friday**
- (C)Saturday**
- (D)Sunday**

**Q.6 On what dates of April, 2001 did
Wednesday fall?**

अप्रैल, 2001 की किस तारीख को बुधवार पड़ा?



- (A) 1st, 8th, 15th, 22nd, 29th**
- (B) 2nd, 9th, 16th, 23rd, 30th**
- (C) 3rd, 10th, 17th, 24th**
- (D) 4th, 11th, 18th, 25th**

Q.7 Which of the following is not a leap year?

निम्नलिखित में से कौन सा लीप वर्ष नहीं है?



(A)700th

(B)800th

(C)1200th

(D)2000th

Q.8 Today is Monday. After 61 days, it will be

आज सोमवार है। 61 दिनों के बाद यह होगा



- (A)Wednesday**
- (B)Saturday**
- (C)Tuesday**
- (D)Thursday**

Q.9 How many days are there in x weeks x days?

x सप्ताह x दिन में कितने दिन होते हैं?



(A) $7x^2$

(B) $8x$

(C) $14x$

(D) 7

Q.10 Anil reached a place on Friday. He came to know that he was three days earlier than the scheduled day. If he had reached there on the following Sunday, how many days late/early he would have been?

शुक्रवार को अनिल एक स्थान पर पहुंचा। उसे पता चला कि वह निर्धारित दिन से तीन दिन पहले आ गया था। यदि वह अगले रविवार को वहाँ पहुँचता, तो वह कितने दिन देर से/जल्दी पहुँचता?



- (A) One day earlier**
- (B) One day late**
- (C) Two days late**
- (D) Two days earlier**

Q.11 Hari remembers that his father's birthday is between 13th and 16th of June, whereas his sister remembers that her father's birthday is between 14th and 18th of June. On which day is their father's birthday?

हरि को याद है कि उसके पिता का जन्मदिन 13 से 16 जून के बीच है, जबकि उसकी बहन को याद है कि उसके पिता का जन्मदिन 14 से 18 जून के बीच है। उनके पिता का जन्मदिन किस दिन है?

- (A) 14th June**
- (B) 15th June**
- (C) 16th June**
- (D) 17th June**



Q.12 Suresh was born on 4th October 1999. Shashikanth was born 6 days before Suresh. The Independence Day of that year fell on Sunday. Which day was Shashikanth born?

**सुरेश का जन्म 4 अक्टूबर 1999 को हुआ था।
शशिकांत का जन्म सुरेश से 6 दिन पहले हुआ था।
उस वर्ष का स्वतंत्रता दिवस रविवार को था।
शशिकांत का जन्म किस दिन हुआ था?**



- (A)Tuesday**
- (B)Wednesday**
- (C)Monday**
- (D)Sunday**

Q.13 Day after tomorrow is Kiran's birthday. On the same day next week falls 'Shivratri'. Today is Monday. What will be the day after 'Shivratri'?

परसों किरण का जन्मदिन है। अगले सप्ताह इसी दिन 'शिवरात्रि' है। आज सोमवार है। 'शिवरात्रि' के बाद कौन सा दिन होगा?



- (A)Wednesday**
- (B)Thursday**
- (C)Friday**
- (D)Saturday**

Q.14 A year starting with monday and ending with tuesday . how many days are there From 16th januray to 15th march of that year.

एक वर्ष सोमवार से शुरू होकर मंगलवार को समाप्त होता है। उस वर्ष १६ जनवरी से १५ मार्च तक कितने दिन होते हैं



(A) 58

(B) 60

(C) 59

(D) 61

Q.15 Vilas remembers his marriage is after 4th July .While His sister remembers his marriage is before 6th July .on which date of July is his marriage ?

विलास को याद है कि उसकी शादी 4 जुलाई के बाद है। जबकि उसकी बहन को याद है कि उसकी शादी 6 जुलाई से पहले है। उसकी शादी जुलाई की किस तारीख को है?

- (A) 4
- (B) 5
- (C) 6
- (D) 7



Q.16 how many leap years in
500 years?

५०० साल में कितने लीप इयर्स होंगे
?



- (A)121
- (B)122
- (C)120
- (D)123

Q.17 the calendar for the year 2004 will be the same for the year?

वर्ष २००४ के लिए कैलेंडर किस वर्ष के समान होगा?



- (A) 2030
- (B) 2032
- (C) 2010
- (D) 2015

Q.18 How many times 29 dates will come in 100 years?

१०० वर्षों में २९ तारीखें कितनी बार आएंगी?



- (A) 24**
- (B) 1124**
- (C) 1100**
- (D) 1200**

Q.19 How many times 29 dates will come in 400 years?

400 वर्षों में २९ तारीखें कितनी बार आएंगी?



(A)4496

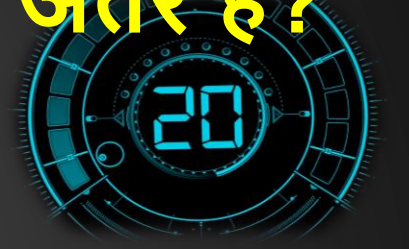
(B)4497

(C)96

(D)97

Q.20 the maximum gap between two successive leap year is?

दो क्रमिक लीप वर्ष के बीच अधिकतम अंतर है?



- (A)4
- (B)8
- (C)2
- (D)1

THANK YOU