



# SSC CGL/CHSL TIER II 2023



**FREE**

**REASONING**

**CRASH COURSE**

**Non Verbal**

**REASONING**

**DAY-10**

**LIVE 03:00 PM** 



Join my

# TELEGRAM GROUP

 @reasoningbymohitsir

 Daily PDF of all YT sessions

 Discussion / Doubt Solving

 Direct Interaction with me

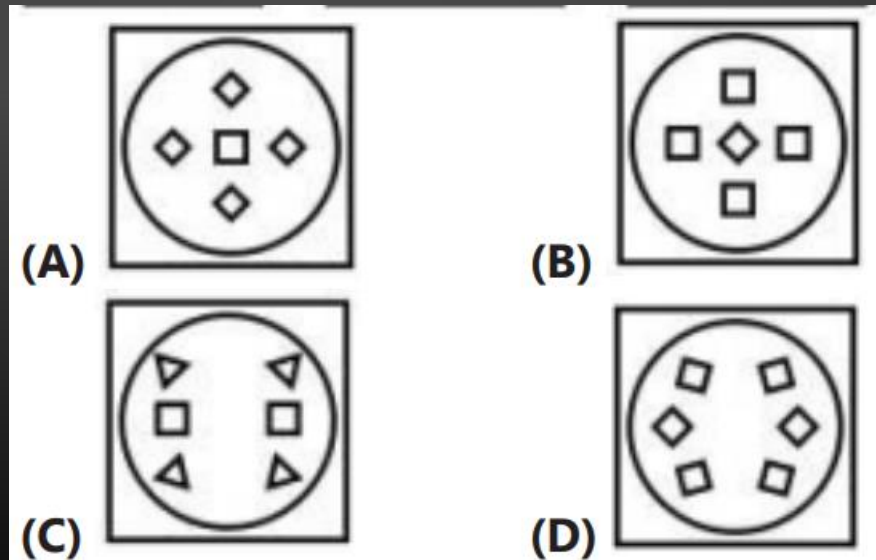
 Quiz

 Polls



Q.1 A piece of paper is folded and punched as shown below in the question figures. From the given answer figures, indicate how it will appear when opened?

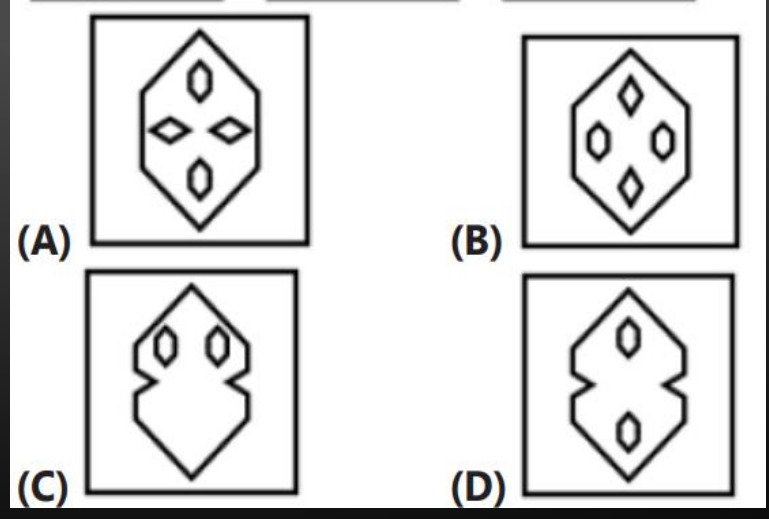
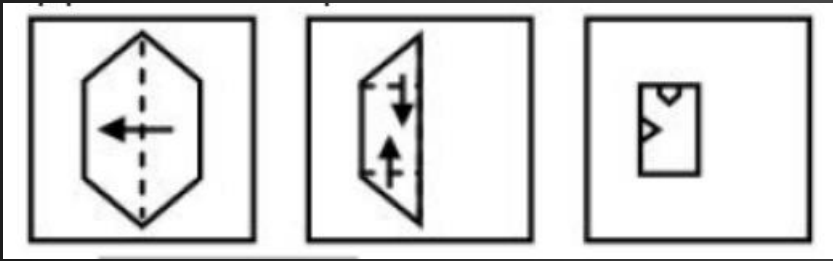
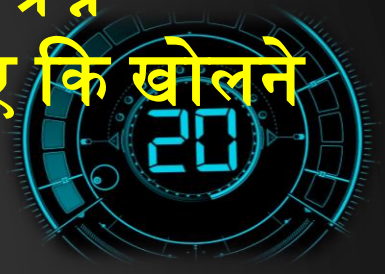
कागज के एक टुकड़े को मोड़कर छेद किया जाता है जैसा कि नीचे प्रश्न आकृतियों में दिखाया गया है। दिए गए उत्तर आकृतियों से बताइए कि खोलने पर यह कैसा दिखाई देगा?



- (A)A
- (B)B
- (C)C
- (D)D

Q.2 A piece of paper is folded and punched as shown below in the question figures. From the given answer figures, indicate how it will appear when opened?

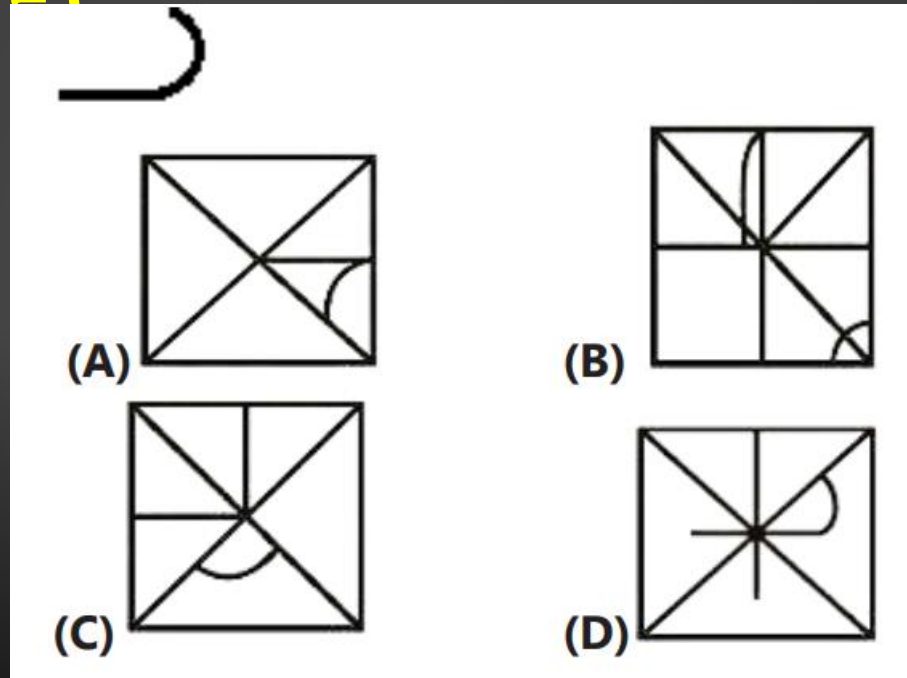
कागज के एक टुकड़े को मोड़कर छेद किया जाता है जैसा कि नीचे प्रश्न आकृतियों में दिखाया गया है। दिए गए उत्तर आकृतियों से बताइए कि खोलने पर यह कैसा दिखाई देगा?



- (A)A
- (B)B
- (C)C
- (D)D

Q.3 Select option in which the given figure is embedded.  
(Rotation is not allowed)

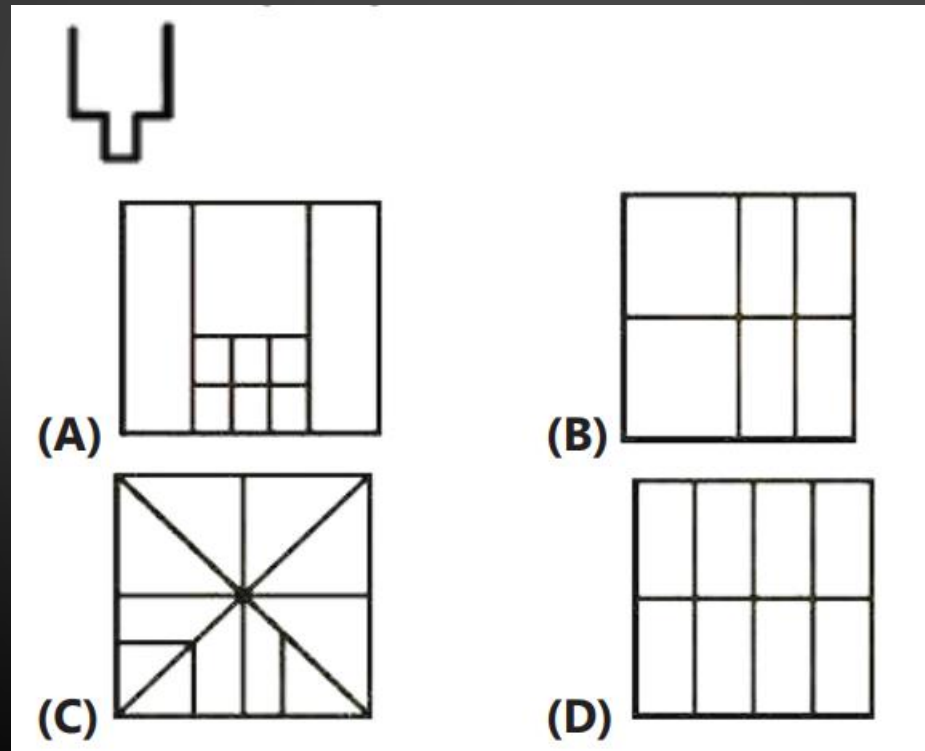
उस विकल्प का चयन करें जिसमें दी गई आकृति सन्निहित है। (रोटेशन की अनुमति नहीं है।)



- (A)A
- (B)B
- (C)C
- (D)D

Q.4 Select option in which the given figure is embedded.  
(Rotation is not allowed)

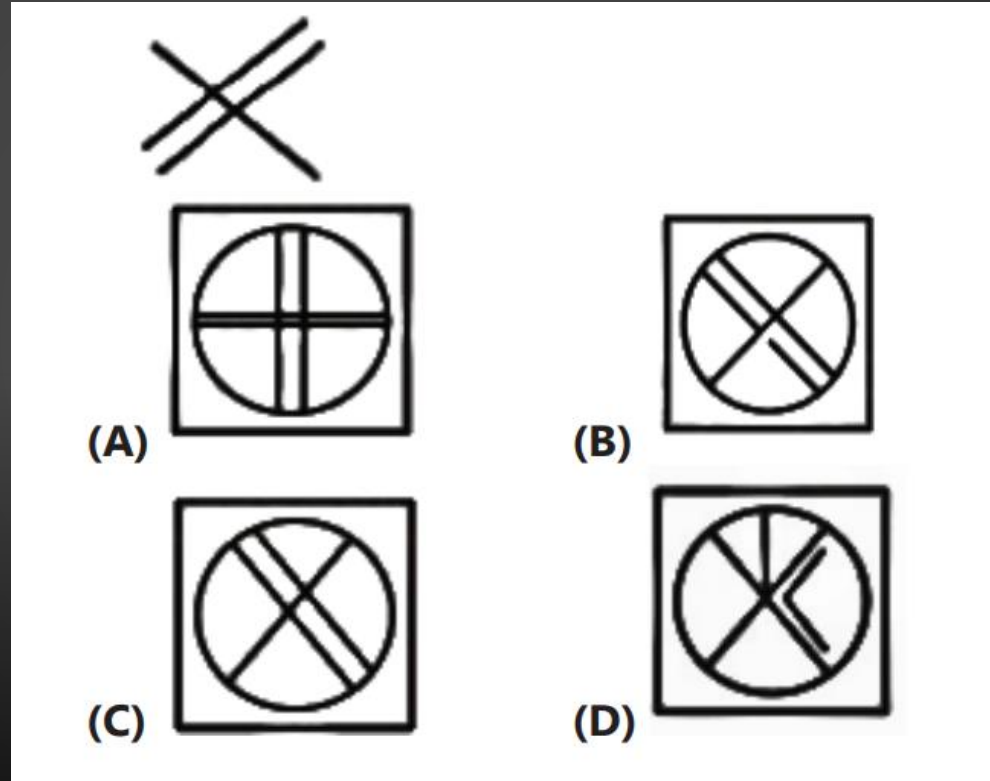
उस विकल्प का चयन करें जिसमें दी गई आकृति सन्निहित है। (रोटेशन की अनुमति नहीं है)



- (A)A
- (B)B
- (C)C
- (D)D

Q.5 Select option in which the given figure is embedded.  
(Rotation is not allowed)

उस विकल्प का चयन करें जिसमें दी गई आकृति सन्निहित है। (रोटेशन की अनुमति नहीं है)

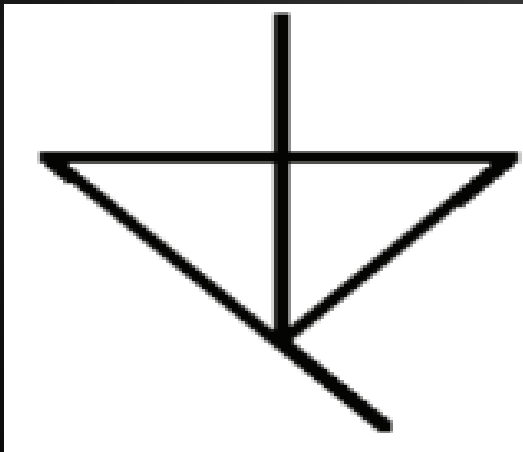


- (A)A
- (B)B
- (C)C
- (D)D

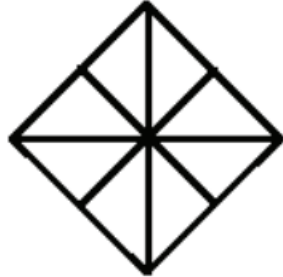
Q.6 Select the option in which the given figure is embedded.

उस विकल्प का चयन करें जिसमें दी गई आकृति सन्निहित है।

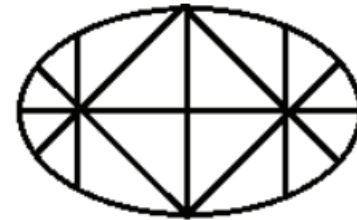
(Rotation is not allowed)/ (रोटेशन की अनुमति नहीं है)



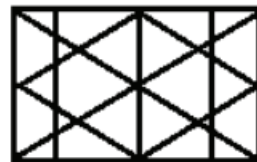
(A)



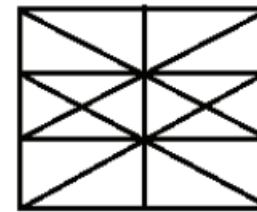
(B)



(C)



(D)



(A) A

(B) B

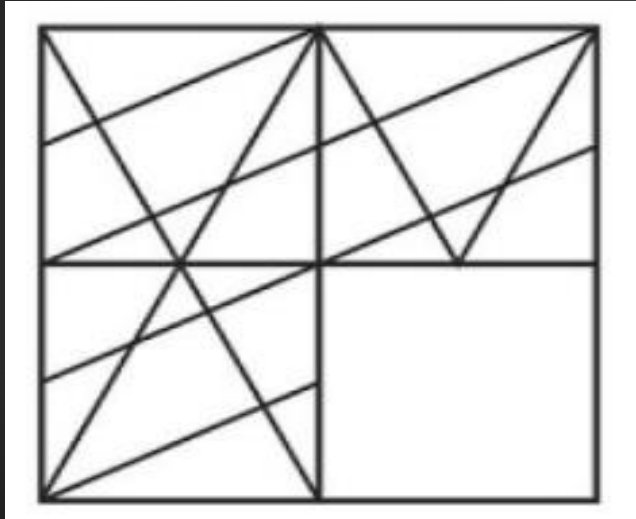
(C) C

(D) D



Q.7 Which answer figure will complete the pattern in the question figure?

कौन सी उत्तर आकृति प्रश्न आकृति के पैटर्न को पूरा करेगी?



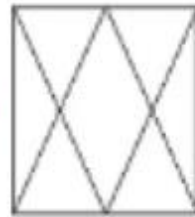
(A)



(B)



(C)



(D)



(A) A

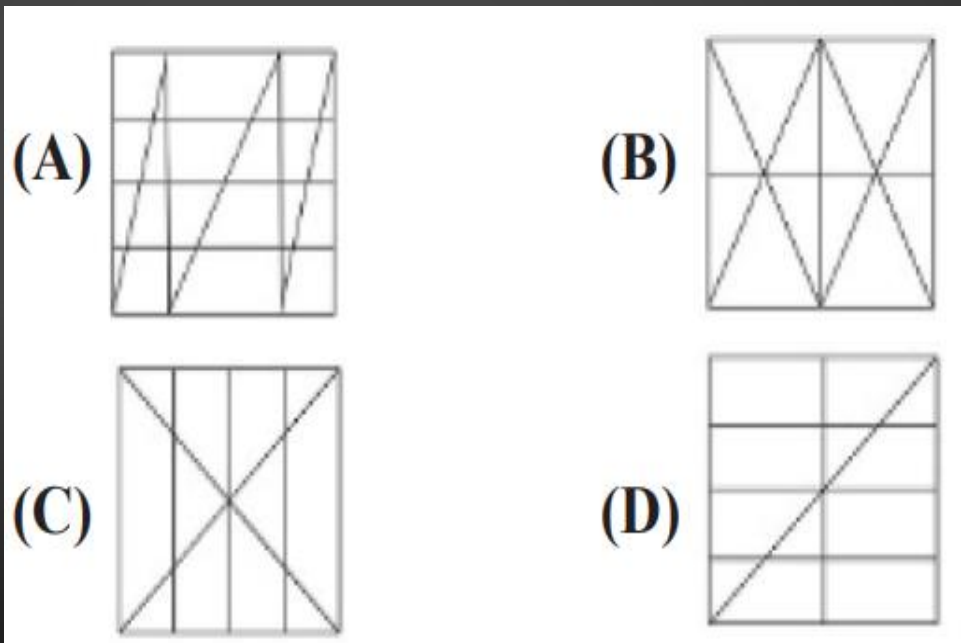
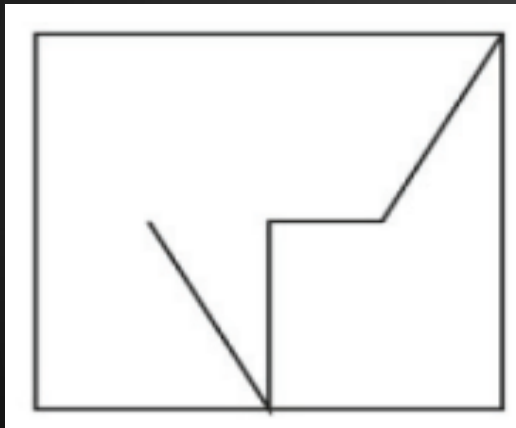
(B) B

(C) C

(D) D

Q.8 From the given options select the one in which the question figure is hidden / embedded.

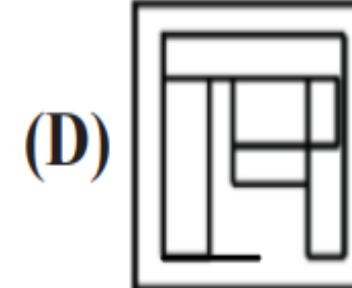
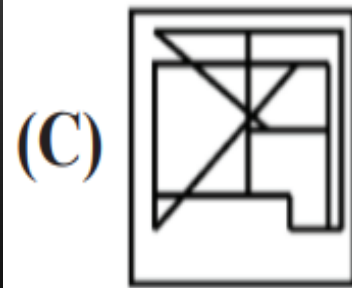
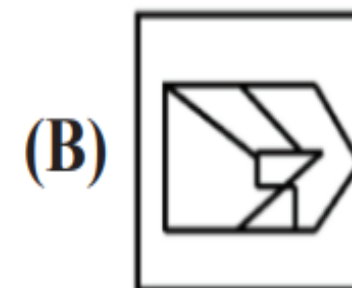
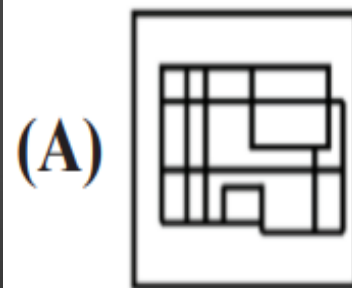
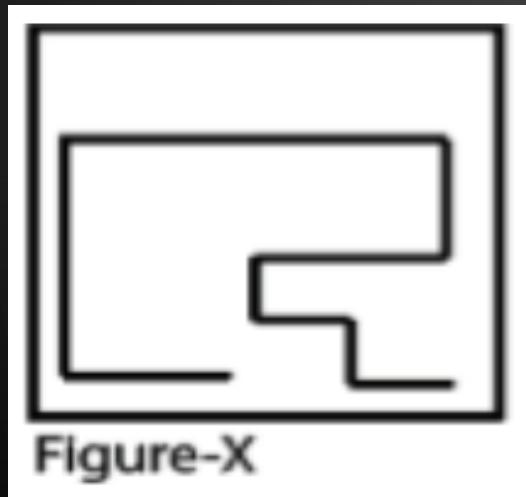
दिए गए विकल्पों में से उस विकल्प का चयन करें जिसमें प्रश्न आकृति छिपी/निहित है।



- (A) A
- (B) B
- (C) C
- (D) D

Q.9 Select the option in which Figure-X is embedded. (Rotation is not allowed)

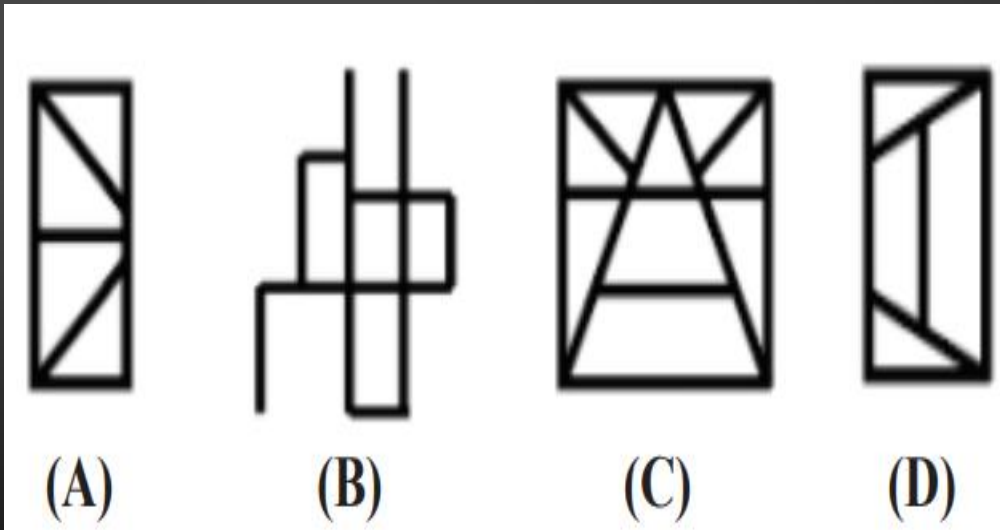
उस विकल्प का चयन करें जिसमें चित्र-X सन्निहित है। (रोटेशन की अनुमति नहीं है)



- (A) A
- (B) B
- (C) C
- (D) D

Q.10 Select the option figure that is embedded in the given figure (rotation is NOT allowed).

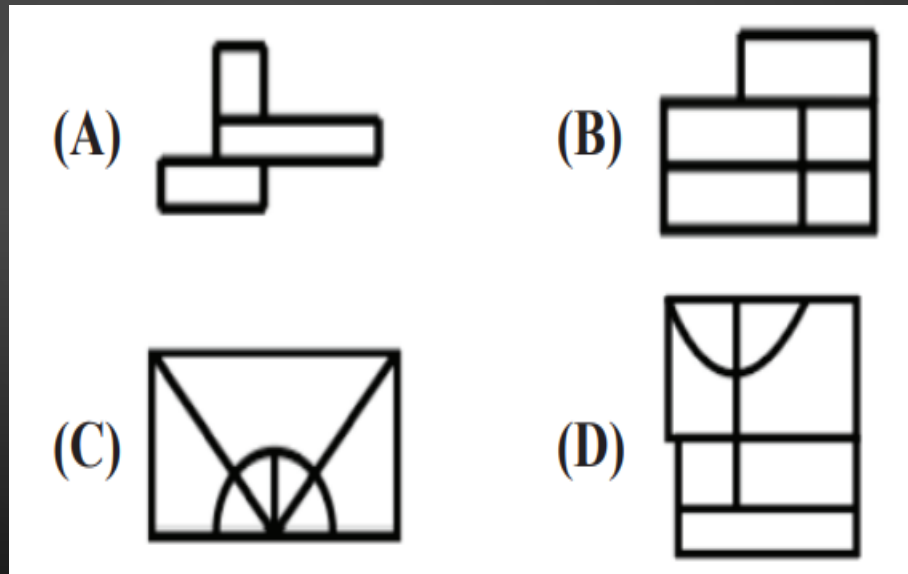
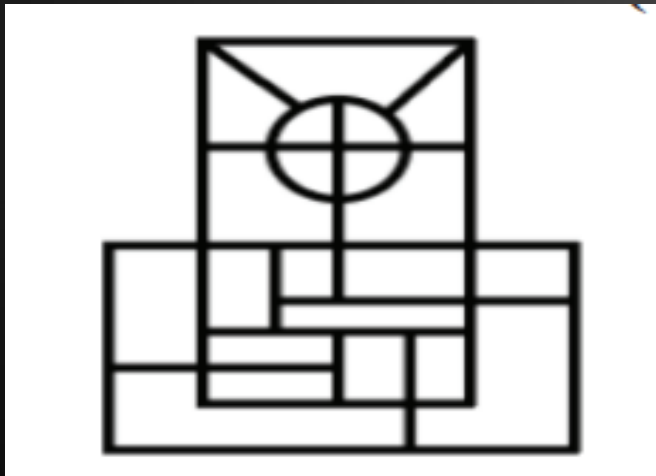
उस विकल्प आकृति का चयन करें जो दी गई आकृति में अंतर्निहित है (रोटेशन की अनुमति नहीं है)।



- (A) A
- (B) B
- (C) C
- (D) D

Q. 11 Select the option that is embedded in the given figure (rotation is NOT allowed).

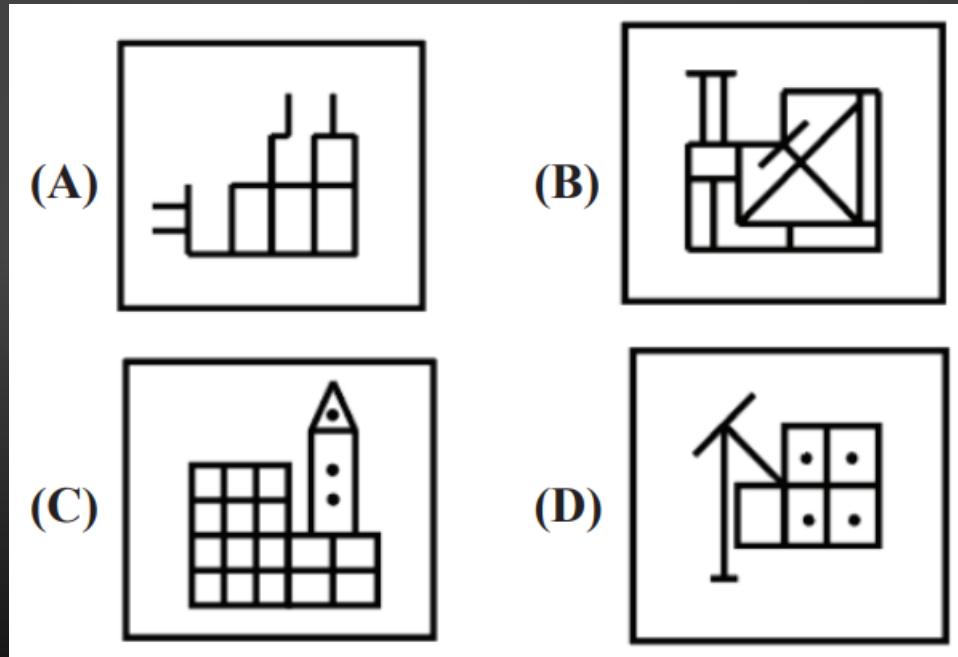
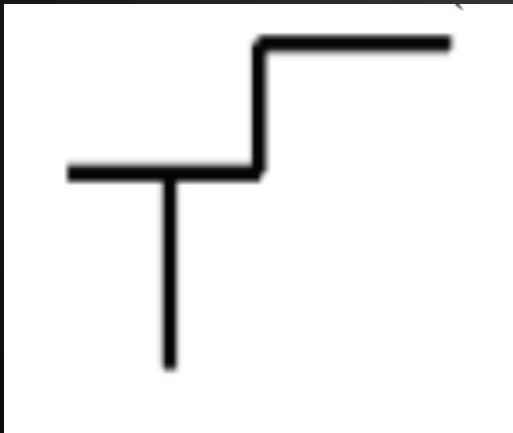
दिए गए चित्र में अंतर्निहित विकल्प का चयन करें (रोटेशन की अनुमति नहीं है)।



- (A) A
- (B) B
- (C) C
- (D) D

Q.12 Select the option in which the given figure is embedded (Rotation is NOT allowed).

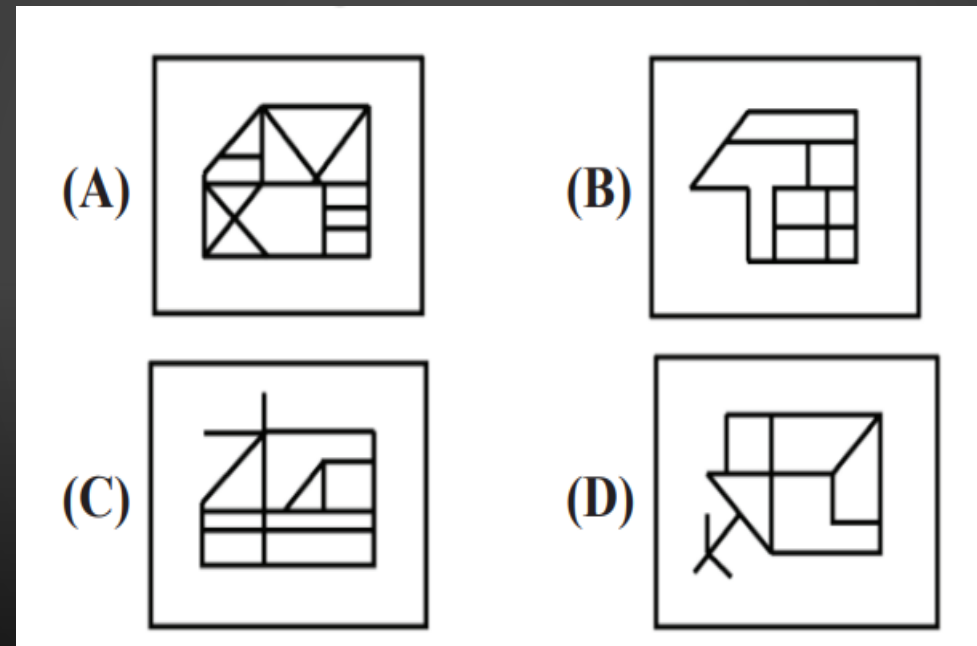
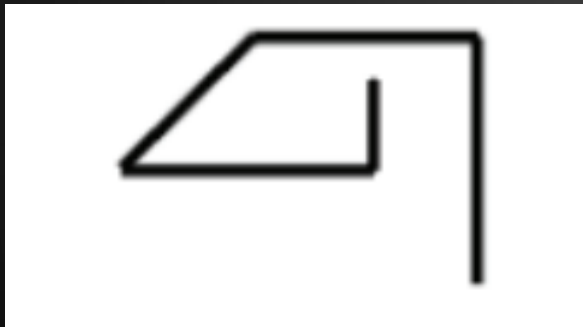
उस विकल्प का चयन करें जिसमें दी गई आकृति अंतर्निहित है (रोटेशन की अनुमति नहीं है)।



- (A) A
- (B) B
- (C) C
- (D) D

Q.13 Select the option in which the given figure is embedded (Rotation is NOT allowed).

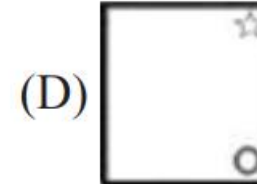
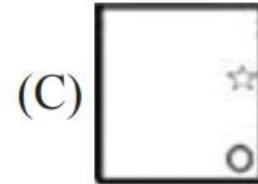
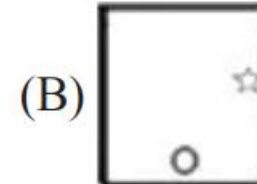
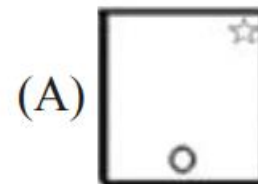
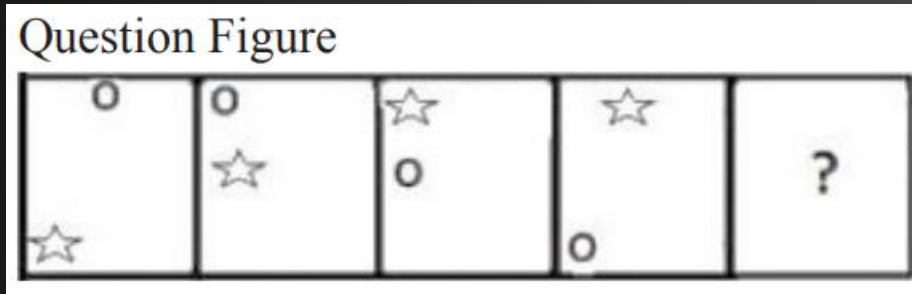
उस विकल्प का चयन करें जिसमें दी गई आकृति अंतर्निहित है (रोटेशन की अनुमति नहीं है)।



- (A) A
- (B) B
- (C) C
- (D) D

Q.14 Select the figure that can replace the question mark (?) in the following series.

उस आकृति का चयन करें जो निम्नलिखित श्रृंखला में प्रश्न चिह्न (?) को प्रतिस्थापित कर सकती है।



(A) A

(B) B

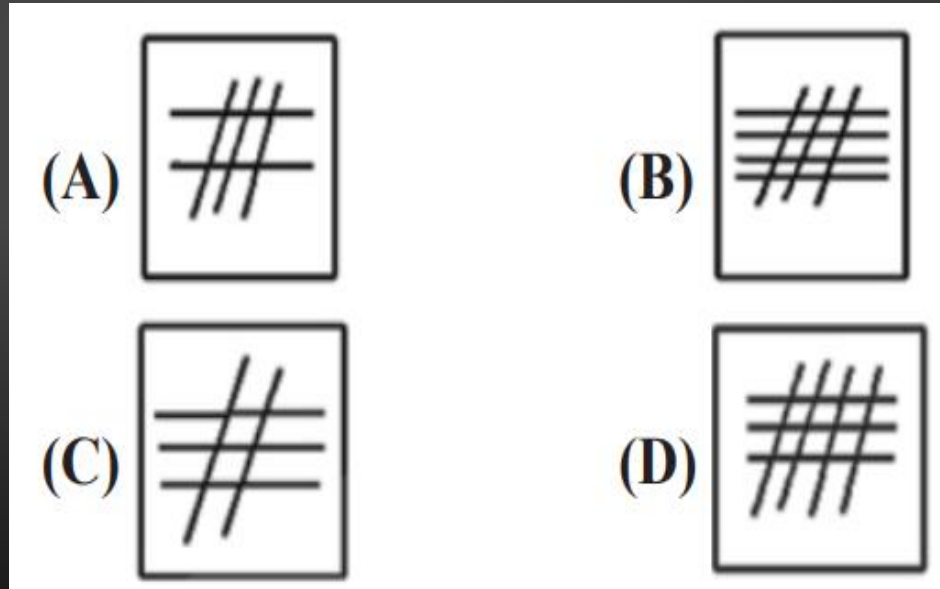
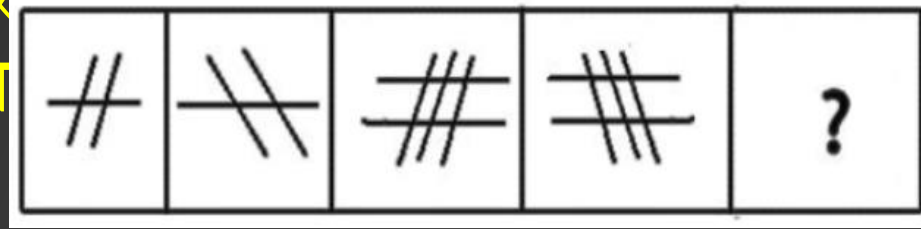
(C) C

(D) D



Q.15 Select the figure that will come next in the following figure series.

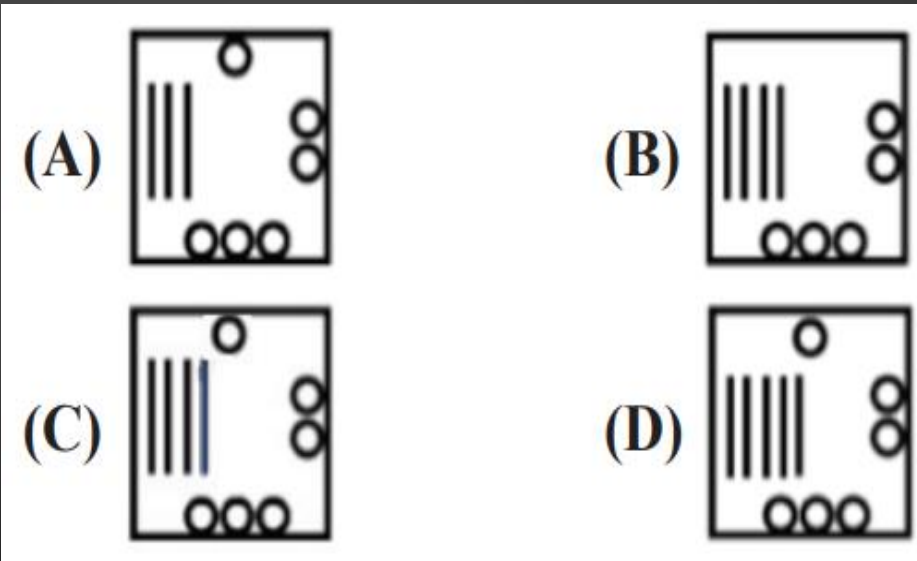
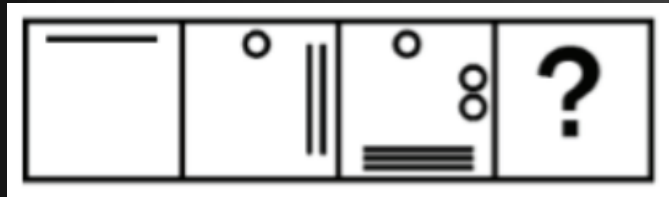
उस आकृति का चयन करें जो निम्नलिखित आकृति श्रृंखला में आगे आएगी



- (A) A
- (B) B
- (C) C
- (D) D

Q.16 Select the figure that will come next in the following figure series.

उस आकृति का चयन करें जो निम्नलिखित आकृति श्रृंखला में आगे आएगी।



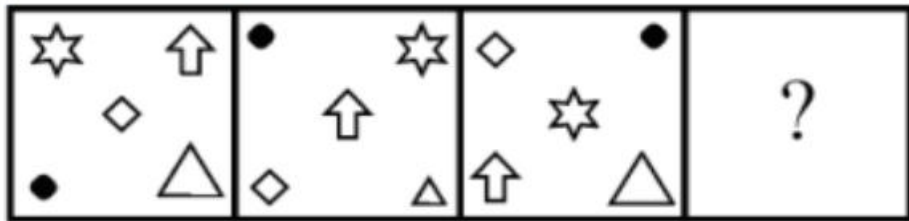
- (A) A
- (B) B
- (C) C
- (D) D

Q.17 Select the figure from among the given options that can replace the question mark (?) in the following series.

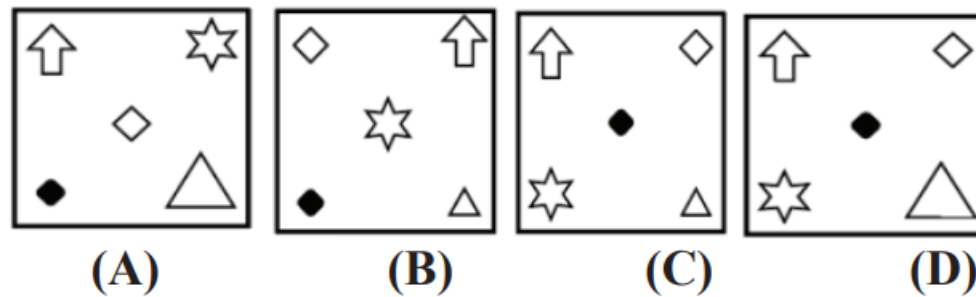
दिए गए विकल्पों में से उस आकृति का चयन करें जो निम्नलिखित श्रृंखला में प्रश्न चिह्न (?) को प्रतिस्थापित कर सके



Question Figure



Answer Figure

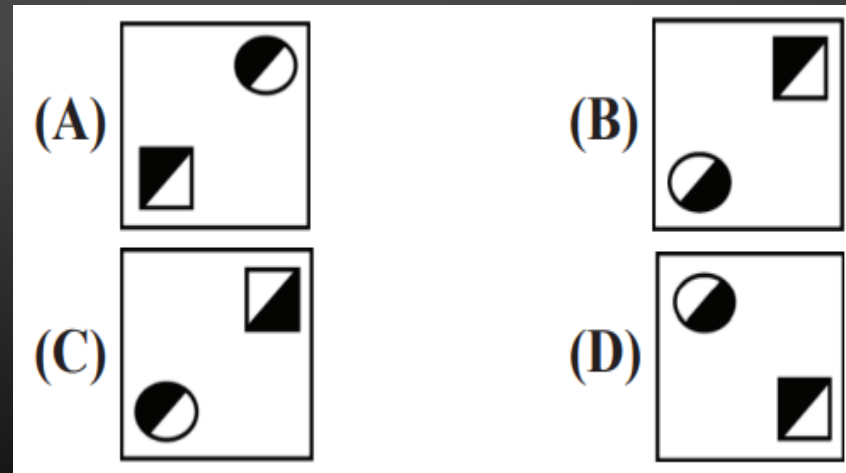
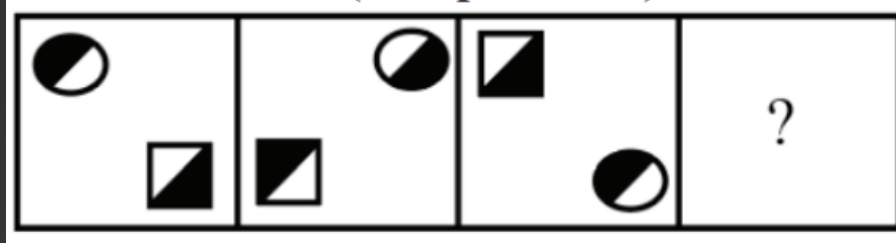


- (A) A
- (B) B
- (C) C
- (D) D



Q.19 Select the figure that will come next (in place of the question mark [?]) in the following figure series.

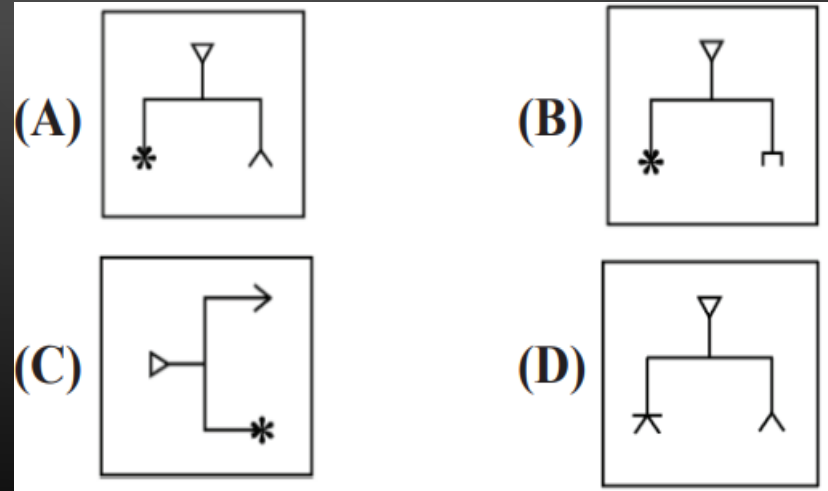
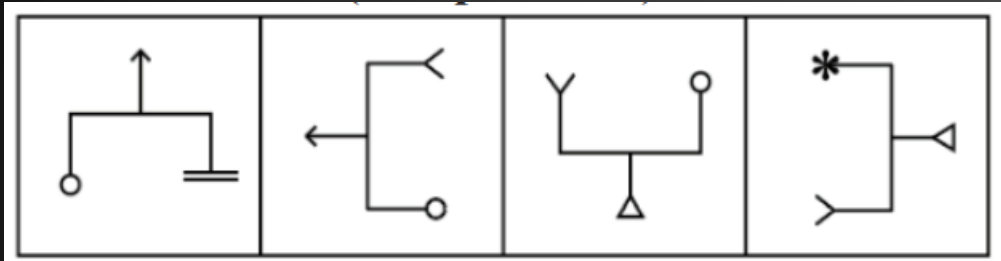
निम्नलिखित आकृति श्रृंखला में आगे आने वाली आकृति (प्रश्न चिह्न [?] के स्थान पर) का चयन करें।



- (A) A
- (B) B
- (C) C
- (D) D

Q.20 Select the figure that will come next in the following series.

उस आकृति का चयन करें जो निम्नलिखित श्रृंखला में आगे आएगी।



- (A) A
- (B) B
- (C) C
- (D) D

# THANK YOU

Join my

## TELEGRAM GROUP



@reasoningbymohitsir



Daily PDF of all YT sessions



Discussion / Doubt Solving



Direct Interaction with me



Quiz



Polls

