



**MISSION SSC CPO/CHSL & CGL TIER II 2023**



**Reasoning DAY-9**

**Revision Class**

**1000** प्रश्नों की  
धमाकेदार शृंखला

**इस बार, आखिरी प्रहार**



**LIVE 06:00 PM**



Q1. Priyank is Akshay's brother, Sonia is Saksham's Sister, Akshay is Sonia's son. How is Priyank related to Sonia?

प्रियांक अक्षय का भाई है, सोनिया सक्षम की बहन है, अक्षय सोनिया का बेटा है। प्रियांक का सोनिया से क्या संबंध है?



- (A) Nephew
- (B) Father
- (C) Son
- (D) Brother



Q.2 Hitesh is 27<sup>th</sup> from the left end of a row of 49 boys and Maneesh is 27<sup>th</sup> from the right end in the same row. How many boys are there between them in the row ?

49 लड़कों की एक पंक्ति के बायें छोर से हितेश 27वें स्थान पर है और उसी पंक्ति में मनीष दायें छोर से 27वें स्थान पर है। पंक्ति में उनके बीच कितने लड़के हैं?

A.6

B.3

C.5

D.2





Q3. Three of the following four words are alike in a certain way and one is different. Pick the odd word out

निम्नलिखित चार में से तीन शब्द एक निश्चित तरीके से समान हैं और एक अलग है।



- (A) Thorium
- (B) Uranium
- (C) Radium
- (D) Sodium





Q4. Select the word pair in which the two words are related in the same way as the two words in the following word-pair.

उस शब्द युग्म का चयन करें जिसमें दो शब्द उसी प्रकार संबंधित हैं जैसे निम्नलिखित शब्द-जोड़ी के दो शब्द संबंधित हैं।

Brass : Copper

(a) Chromium :  
Silver

(b) Bronze : Gold

(c) Nickle : Iron

(d) Solder : Tin



Q5. Find the missing number from the below options.

नीचे दिए गए विकल्पों में से लुप्त संख्या ज्ञात कीजिए



17	22	37
23	28	43
16	?	36

(A)12

(B)32

(C)21

(D)34



Q6. Select the terms that will replace the ? in the following series.

उन शब्दों का चयन करें जो ? का स्थान लेंगे? निम्नलिखित श्रृंखला में



Z, X, V, ?, R, P, ?

(A)S,  
N

(B)S,  
O

(C)T,  
Q

(D)T,  
R



Q7. Arrange the following words in a logical and meaningful order.

निम्नलिखित शब्दों को तार्किक और सार्थक क्रम में व्यवस्थित करें।



1. Write
2. Publish
3. Author
4. Reader
5. Sale

(A) 3, 1, 2, 5, 4

(B) 4, 3, 1, 2, 5

(C) 3, 2, 1, 5, 4

(D) 1, 3, 2, 5, 4





Q8. Select the term that will come next in the following series.

उस पद का चयन करें जो निम्नलिखित श्रृंखला में अगला आएगा।



OBE, PDH, QFK, RHN, ?

(A)SKQ

(B)RJQ

(C)SJQ

(D)SJP



Q9. Select the correct mirror image of the given figure when the mirror is placed to the right of the figure  
दी गई आकृति की सही दर्पण छवि का चयन करें जब दर्पण को आकृति के दाईं ओर रखा जाए



(a) P M 7 R

(b) P 7 M R

(c) R M 7 P

(d) P M 7 R





Q10. Which two signs should be interchanged in the following equation to make it correct?

निम्नलिखित समीकरण को सही बनाने के लिए इसमें किन दो चिन्हों को आपस में बदला जाना चाहिए?

$$24 \div 8 - 5 \times 5 + 3 = 13$$

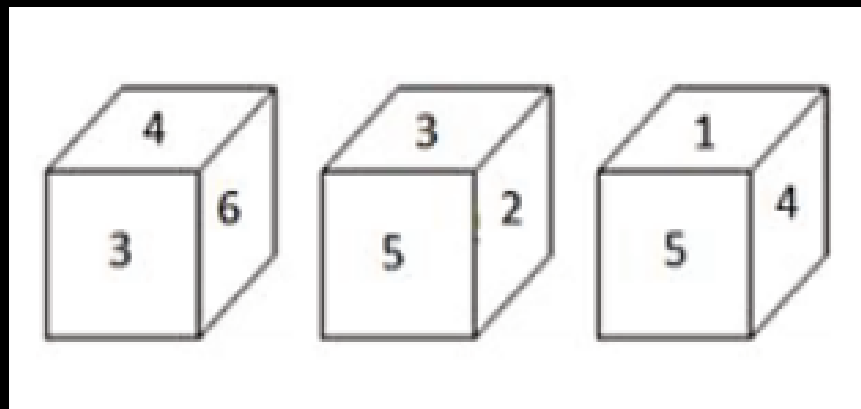


- (A)  $\times$  and  $-$
- (B)  $\times$  and  $+$
- (D)  $\div$  and  $\times$
- (E)  $\div$  and  $+$



Q11. Three different positions of a dice are shown below. Which number appears on the face opposite the number 6?

एक पासे की तीन अलग-अलग स्थितियाँ नीचे दिखाई गई हैं। संख्या 6 के विपरीत फलक पर कौन सी संख्या दिखाई देती है?



- (A) 1
- (B) 2
- (C) 4
- (D) 5



Q12. If AU = 21 and EGG = 245, then how will you code BAKE?

यदि AU = 21 और EGG = 245 है, तो आप BAKE को कैसे कोडित करेंगे?



- (A)19
- (B)75
- (C)110
- (D)155





Q13. 'Cheerful' is related to 'Sad' in the same way as 'Generous' is related to\_\_\_\_\_.

हँसमुख' का संबंध 'दुखद' से उसी प्रकार है जिस प्रकार 'उदार' का संबंध\_\_\_\_\_ से है।

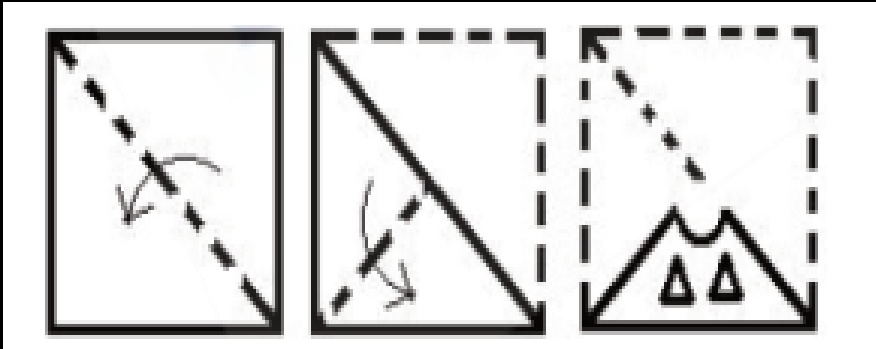


- (A) Gloomy
- (B) Kind
- (C) Selfish
- (D) Intelligent



Q14. A square paper is folded and cut as shown below. How will it appear when unfolded?

एक चौकोर कागज को नीचे दिखाए अनुसार मोड़ा और काटा जाता है। खुलने पर यह कैसा दिखाई देगा?



- (a)
- (b)
- (c)
- (d)

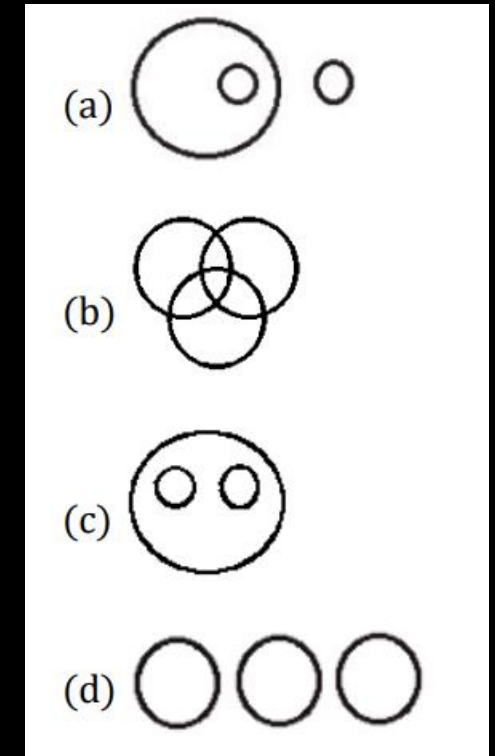




Q15. Choose the Venn diagram from the given options which best represents the relationship amongst the following classes:

दिए गए विकल्पों में से वह वेन आरेख चुनें जो निम्नलिखित वर्गों के बीच संबंध को सबसे अच्छा दर्शाता है:

Wheat, Mustard, Cabbage/ गेहूँ, सरसों, पत्तागोभी





Q16. In a code language, NEEDLE is written as MFDEKFK. How will HAMMER be written in the same language?

एक कूट भाषा में, NEEDLE को MFDEKFK लिखा जाता है। HAMMER को उसी भाषा में कैसे लिखा जाएगा?



- (A)GBLNFT
- (B)IBLNDS
- (C)GALNDS
- (D)GBLNDS



Q17. Find the missing number from the below options

नीचे दिए गए विकल्पों में से लुप्त संख्या ज्ञात कीजिए



4	3	19
6	4	40
9	9	?

- (A)90
- (B)80
- (C)72
- (D)100





Q18. Three of the following four number-pairs are alike in a certain way and one is different. Pick the odd one out.

निम्नलिखित चार संख्या-जोड़ियों में से तीन एक निश्चित तरीके से एक जैसे हैं और एक अलग है।



- (A) 65-101
- (B) 26-50
- (C) 17-37
- (D) 49-82



Q.19 Statements: All teachers are painters. सभी शिक्षक चित्रकार हैं।

Some painters are rich. कुछ चित्रकार अमीर हैं।

Conclusions: I. All painters are teachers. सभी चित्रकार शिक्षक हैं।

II. Some rich are not painters. कुछ अमीर चित्रकार नहीं हैं।



- (A) Only conclusion II follows
- (B) Neither conclusion I nor II follows
- (C) Only conclusion I follows
- (D) Either conclusion I or II follows



Q.20 In a row of boys Sumit is 8<sup>th</sup> from the left end and Anuj is 15<sup>th</sup> from the right end if they interchange their position, Sumit becomes 20<sup>th</sup> from the left .What is the total number of boys in the row?

लड़कों की एक पंक्ति में सुमित बायें छोर से 8वें और अनुज दायें छोर से 15वें स्थान पर हैं, यदि वे अपना स्थान बदल लेते हैं, तो सुमित बायें से 20 हो जाता है। पंक्ति में लड़कों की कुल संख्या कितनी है?

A .35

B .34

C .33

D .32





Q21. Select the option that is related to the third number in the same way as the second number is related to the first number.

उस विकल्प का चयन करें जो तीसरी संख्या से उसी प्रकार संबंधित है जैसे दूसरी संख्या पहली संख्या से संबंधित है।

2139 : 3246 :: 4262 : \_\_\_\_\_.



(A)1461

(B)2471

(C)2371

(D)2483



Q22. Select the term that will come next in the following series.

उस पद का चयन करें जो निम्नलिखित श्रृंखला में अगला आएगा।



57, 62, 31, 36, 18, ?

(A)34

(B)23

(C)19

(D)36





**Q23. Three of the following four letter-clusters are alike in a certain way and one is different. Pick the odd one out.**

**निम्नलिखित चार अक्षर-समूहों में से तीन एक निश्चित तरीके से एक जैसे हैं और एक अलग है।**




- (A) FGE**
- (B) NOR**
- (C) KLJ**
- (D) YZX**



Q24. Select the figure in which the given figure is embedded

उस आकृति का चयन करें जिसमें दी गई आकृति सन्निहित है

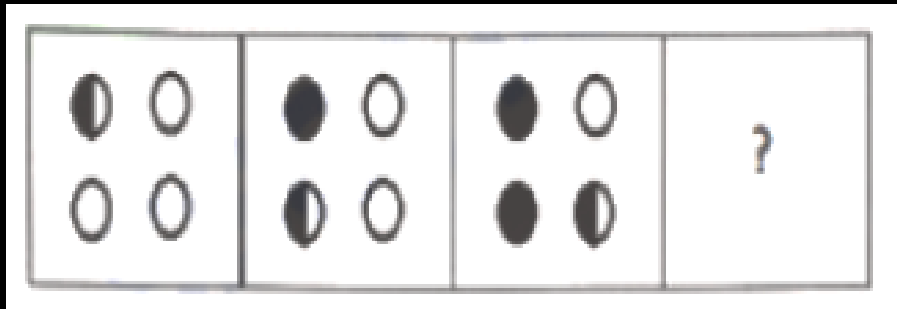


- (a)
- (b)
- (c)
- (d)



Q25. Select the figure that will come next in the following figure series.

उस आकृति का चयन करें जो निम्नलिखित आकृति श्रृंखला में आगे आएगी।



- (a)
- (b)
- (c)
- (d)





**THANK YOU**